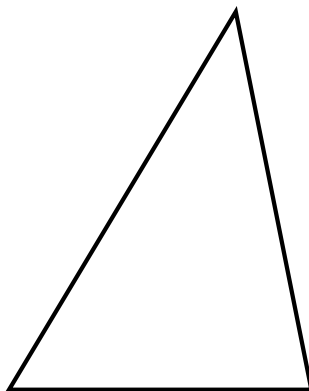
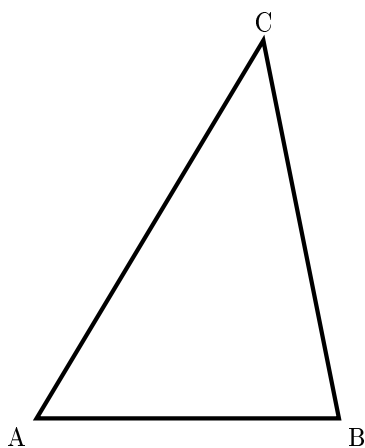


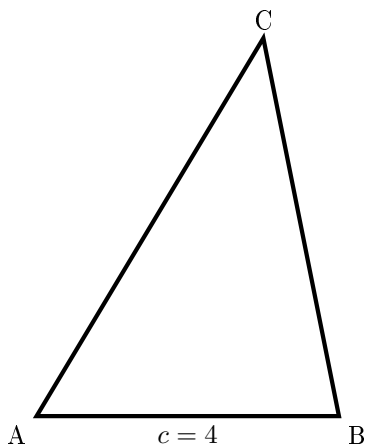
1. A háromszög csúcsai:  $(0, 0)$ ,  $(4, 0)$ ,  $(3, 5)$ , az oldalak ultra vastagok.



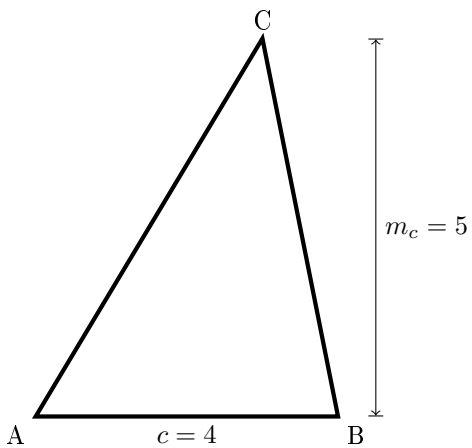
2. A csúcsokat elnevezzük



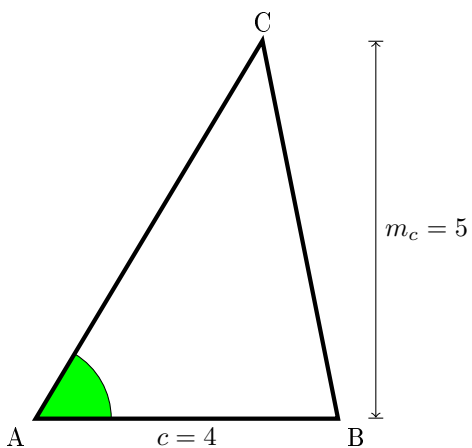
3. Az egyik oldal hossza (az oldal felénél van kiírva)



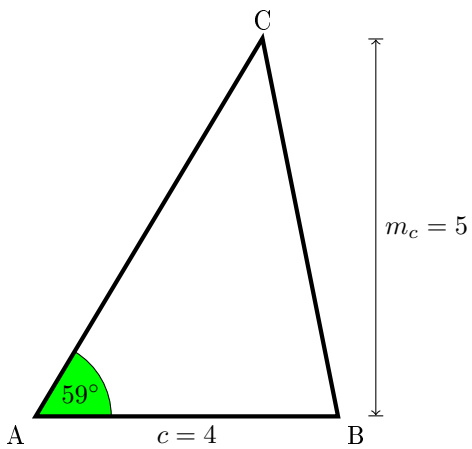
4. Magasság



5. Szög (használjatok  $\arcsin$ -ot és  $\arctan$ -t a számoláshoz), ha nem menne nyugodtan ugorjátok át



6. A szöget kiírva próbáljátok kb jól elhelyezni



7. Végül írjunk még egy kis okosságot

$$T = \frac{c \cdot m_c}{2}$$

