

# ANALÍZIS FELADATGYŰJTEMÉNY I

## **Jegyzetek és példatárak a matematika egyetemi oktatásához sorozat**

Algoritmuselmélet  
Algoritmusok bonyolultsága  
Analitikus módszerek a pénzügyben és a közgazdaságban  
Analízis feladatgyűjtemény I  
Analízis feladatgyűjtemény II  
Bevezetés az analízisbe  
Complexity of Algorithms  
Differential Geometry  
Diszkrét matematikai feladatok  
Diszkrét optimalizálás  
Geometria  
Igazságos elosztások  
Introductory Course in Analysis  
Mathematical Analysis – Exercises I  
Mathematical Analysis – Problems and Exercises II  
Mértékelmélet és dinamikus programozás  
Numerikus funkcionálanalízis  
Operációkutatás  
Operációkutatási példatár  
Parciális differenciálegyenletek  
Példatár az analízishez  
Pénzügyi matematika  
Szimmetrikus struktúrák  
Többváltozós adatelemzés  
Variációszámítás és optimális irányítás

GÉMES MARGIT, SZENTMIKLÓSSY ZOLTÁN

# ANALÍZIS FELADATGYŰJTEMÉNY I



Eötvös Loránd Tudományegyetem  
Természettudományi Kar

Typotex

2014

© 2014–2019, Gémes Margit, Szentmiklóssy Zoltán,  
Eötvös Loránd Tudományegyetem, Természettudományi Kar

Szerkesztők: Kós Géza és Szentmiklóssy Zoltán

Lektorálta: Pach Péter Pál

Creative Commons NonCommercial-NoDerivs 3.0 (CC BY-NC-ND 3.0)  
A szerző nevének feltüntetése mellett nem kereskedelmi céllal szabadon  
másolható, terjeszthető, megjelentethető és előadható, de nem módosítható.

ISBN 978 963 279 230 9

Készült a Typotex Kiadó (<http://www.typotex.hu>) gondozásában

Felelős vezető: Votisky Zsuzsa

Műszaki szerkesztő: Gerner József

Készült a TÁMOP-4.1.2-08/2/A/KMR-2009-0045 számú,  
„Jegyzetek és példatárak a matematika egyetemi oktatásához” című projekt  
keretében.

Nemzeti Fejlesztési Ügynökség  
[www.ujszachenyiterv.gov.hu](http://www.ujszachenyiterv.gov.hu)  
06 40 638 638



A projekt az Európai Unió támogatásával, az Európai  
Regionális Fejlesztési Alap társfinanszírozásával valósul meg.

**KULCSSZAVAK:** analízis, kalkulus, derivált, integrál, több-változó, komplex.

**ÖSSZEFOGLALÁS:** Ez a feladatgyűjtemény elsősorban azon egyetemi hallgatók számára készült, akik matematikát, ezen belül kalkulust és analízist tanulnak. A könyv fő feladata bevezetni az olvasót a differenciál és integrálszámításba és ezek alkalmazásaiba.

# Tartalomjegyzék

<b>Alapfogalmak, valós számok</b>	<b>7</b>
1.1. Elemi feladatok . . . . .	8
1.2. Logikai alapfogalmak . . . . .	9
1.3. Bizonyítási módszerek . . . . .	14
1.4. Halmazok . . . . .	21
1.5. A valós számok axiómarendszere . . . . .	22
1.6. A számegyenes . . . . .	27
<b>Számsorozatok konvergenciája</b>	<b>31</b>
2.1. Sorozatok határértéke . . . . .	32
2.2. A határérték tulajdonságai . . . . .	38
2.3. Monoton sorozatok . . . . .	42
2.4. A Bolzano-Weierstrass-tétel és a Cauchy-kritérium . . . . .	44
2.5. Sorozatok nagyságrendje . . . . .	45
2.6. Vegyes feladatok . . . . .	47
<b>Valós függvények határértéke, folytonossága</b>	<b>48</b>
3.1. Függvények globális tulajdonságai . . . . .	50
3.2. A határérték . . . . .	63
3.3. Folytonos függvények . . . . .	71
<b>A differenciálszámítás és alkalmazásai</b>	<b>76</b>
4.1. A derivált fogalma . . . . .	79
4.2. Deriválási szabályok . . . . .	81
4.3. Középértéktételek, L'Hospital szabály . . . . .	86
4.4. Szélsőértékkeresés . . . . .	88
4.5. Függvényvizsgálat . . . . .	90
4.6. Elemi függvények . . . . .	92
<b>Az egyváltozós Riemann-integrál</b>	<b>98</b>
5.1. Határozatlan integrál . . . . .	102
5.2. Határozott integrál . . . . .	109
5.3. A határozott integrál alkalmazásai . . . . .	115
5.4. Improprius integrál . . . . .	118
<b>Numerikus sorok</b>	<b>121</b>
6.1. Numerikus sorok konvergenciája . . . . .	122
6.2. Pozitív tagú sorok konvergenciakritériumai . . . . .	125
6.3. Feltételes és abszolút konvergencia . . . . .	130

---

<b>Függvénysorozatok és sorok</b>	<b>132</b>
7.1. Pontonkénti és egyenletes konvergencia . . . . .	135
7.2. Hatványsorok, Taylor-sor . . . . .	138
7.3. Trigonometrikus sorok, Fourier-sor . . . . .	143
<b>Többváltozós függvények differenciálása</b>	<b>147</b>
8.1. Topológiai alapfogalmak . . . . .	149
8.2. Többváltozós függvények grafikonja . . . . .	152
8.3. Többváltozós határérték, folytonosság . . . . .	156
8.4. Parciális és totális derivált . . . . .	158
8.5. Többváltozós szélsőérték . . . . .	164
<b>Többváltozós Riemann-integrál</b>	<b>169</b>
9.1. Jordan-mérték . . . . .	171
9.2. Többváltozós Riemann-integrál . . . . .	174
<b>Vonalintegrál és primitív függvény</b>	<b>182</b>
10.1. Sík és térgörbék . . . . .	184
10.2. Skalár-, és vektormezők, differenciáloperátorok . . . . .	187
10.3. Vonallintegrál . . . . .	188
<b>Komplex függvények</b>	<b>196</b>
<b>Megoldások</b>	<b>204</b>
<b>Ajánlott irodalom</b>	<b>338</b>

# 1. fejezet

## Alapfogalmak, valós számok

Biztatásul közlöm, hogy tévesnek bizonyult a cáfolata annak a híresztelésnek, mely szerint mégsem hazugság azt tagadni, hogy lesz olyan vizsgáló, akinek egy analízis tétel bizonyítását sem kell tudnia ahhoz, hogy ne bukjon meg.

(Baranyai Zsolt)

**1.1.** Az  $A \subset \mathbb{R}$  halmazt **korlátosnak** nevezzük, ha van olyan  $K \in \mathbb{R}$  valós szám, hogy minden  $a \in A$  esetén  $|a| \leq K$ .

Az  $A \subset \mathbb{R}$  halmaz **felülről korlátos**, ha van olyan  $M \in \mathbb{R}$  valós szám (**felső korlát**), amelyre minden  $a \in A$  esetén  $a \leq M$ .

Az  $A \subset \mathbb{R}$  halmaz **alulról korlátos**, ha van olyan  $m \in \mathbb{R}$  valós szám (**alsó korlát**), amelyre minden  $a \in A$  esetén  $a \geq m$ .

**1.2. Cantor-axióma:** Egymásba skatulyázott korlátos zárt intervallumsorozat metszete nem üres.

**1.3. Felső határ, szuprémum:** Ha az  $A$  halmaznak van legkisebb felső korlátja és ez a szám  $M$ , akkor ezt az  $M$  számot a halmaz **felső határának** vagy **szuprémumának** nevezzük és  $M = \sup A$ -val jelöljük.

**1.4. Teljességi tétel:** Ha  $A \subset \mathbb{R}$  felülről korlátos nem üres halmaz, akkor van legkisebb felső korlátja.

**1.5. Bernoulli-egyenlőtlenség:** Ha  $n \in \mathbb{N}$  és  $x > -1$ , akkor

$$(1 + x)^n \geq 1 + n \cdot x.$$

Egyenlőség akkor és csak akkor van, ha  $n = 0$  vagy  $n = 1$  vagy  $x = 0$ .

## 1.1. Elemi feladatok

Ábrázoljuk a számegyenesen a következő egyenlőtlenségek megoldáshalmazát!

**1.1.**  $|x - 5| < 3$

**1.2.**  $|5 - x| < 3$

**1.3.**  $|x - 5| < 1$

**1.4.**  $|5 - x| < 0.1$

Oldjuk meg az alábbi egyenlőtlenségeket!

**1.5.**  $\frac{1}{5x+6} \geq -1$

**1.6.**  $6x^2 + 7x - 20 > 0$

**1.7.**  $10x^2 + 17x + 3 \leq 0$

**1.8.**  $-6x^2 + 8x - 2 > 0$

**1.9.**  $8x^2 - 30x + 25 \geq 0$

**1.10.**  $-4x^2 + 4x - 2 \geq 0$

**1.11.**  $9x^2 - 24x + 17 \geq 0$

**1.12.**  $-16x^2 + 24x - 11 < 0$

**1.13.** Hol a hiba?

$$\log_2 \frac{1}{2} \leq \log_2 \frac{1}{2} \quad \text{és} \quad 2 < 4$$

Összeszorozva a két egyenlőtlenséget:

$$2 \log_2 \frac{1}{2} < 4 \log_2 \frac{1}{2}$$

A logaritmus azonosságait használva:

$$\log_2 \left( \frac{1}{2} \right)^2 < \log_2 \left( \frac{1}{2} \right)^4$$

A  $\log_2 x$  függvény szigorúan monoton nő, tehát:



$$\frac{1}{4} < \frac{1}{16}$$

Átszorozva az egyenlőtlenséget:

$$16 < 4.$$

**Oldjuk meg a következő egyenleteket és egyenlőtlenségeket!**

**1.14.**  $|x + 1| + |x - 2| \leq 12$

**1.15.**  $\sqrt{x + 3} + \sqrt{x - 5} = 0$

**1.16.**  $\left| \frac{x + 1}{2x + 1} \right| > \frac{1}{2}$

**1.17.**  $|2x - 1| < |x - 1|$

**1.18.**  $\sqrt{x + 3} + |x - 2| = 0$

**1.19.**  $\sqrt{x + 3} + |x - 2| \leq 0$

## 1.2. Logikai alapfogalmak

**1.20.** Minél egyszerűbben mondjuk ki az alábbi állítások tagadását:

- (a) Minden egér szereti a sajtot.
- (b) Aki másnak vermet ás, maga esik bele.
- (c) Minden asszony életében van egy pillanat  
Mikor olyat akar tenni, amit nem szabad.
- (d) Van olyan  $a$ , hogy minden  $b$ -hez egyetlen  $x$  tartozik, melyre  
 $a + x = b$
- (e) 3 nem nagyobb, mint 2, vagy 5 osztója 10-nek.
- (f) Nem zörög a haraszt, ha a szél nem fújja.
- (g) Ha a nagynénémnek kerekei volnának, ő lenne a miskolci gyorsvo-  
nat.

**1.21.** Egy udvarban van 5 kecske és 20 bolha. Tudjuk, hogy van olyan kecske, amit minden bolha megcsípett. Következik-e ebből, hogy van olyan bolha, amelyik minden kecskét megcsípett?

**1.22.** Fogadjuk el igaznak a következő állításokat:

- (a) Ha egy állat emlős, akkor vagy van farka, vagy van kopoltyúja.
- (b) Egyik állatnak sincs farka.
- (c) Minden állat vagy emlős, vagy van farka, vagy van kopoltyúja.

Következik-e ebből, hogy minden állatnak van kopoltyúja?

**1.23.** Balkezes Bendegúz, aki valóban balkezes, a bal kezével csak igaz állításokat tud leírni, a jobb kezével pedig csak csak hamis állításokat. Melyik kezével írhatja le a következő mondatokat?

- (a) Balkezes vagyok.
- (b) Jobbkezes vagyok.
- (c) Balkezes vagyok és Bendegúz a nevem.
- (d) Jobbkezes vagyok és Bendegúz a nevem.
- (e) Balkezes vagyok vagy Bendegúz a nevem.
- (f) Jobbkezes vagyok vagy Bendegúz a nevem.
- (g) A 0 se nem páros, se nem páratlan.

**1.24.** Azt mondják, a fekete macska szerencsétlenséget hoz. Melyik mondattal tagadhatjuk ezt?

- (a) A fekete macska szerencsét hoz.
- (b) Nem a fekete macska hoz szerencsétlenséget.
- (c) A fehér macska hoz szerencsétlenséget.
- (d) A fekete macska nem hoz szerencsétlenséget.

**1.25.** Legyen  $A$  a pozitív egészek halmaza. Jelentse  $a|b$  azt az állítást, hogy  $a$  osztója  $b$ -nek. Döntsük el, hogy mely állítások igazak az alábbiak közül:

- (a)  $\forall a \in A \exists b \in A a|b$
- (b)  $\forall a \in A \forall b \in A a|b$
- (c)  $\exists a \in A \forall b \in A a|b$
- (d)  $\exists a \in A \exists b \in A a|b$

**1.26.** Matematika országban a bíró csak a bizonyítékoknak hisz. Például, ha  $F$  azt állítja, hogy van fekete oroszlán, akkor állításának helyességéről meggyőzheti a bírót azzal, ha mutat neki egy fekete oroszlánt.

- (a)  $F$  azt állítja, hogy minden oroszlán fekete. Elég bizonyíték-e, ha mutat a bírónak egy fekete oroszlánt?

- (b) F azt állítja, hogy minden oroszlán fekete, G pedig azt állítja, hogy F téved. Hogyan bizonyíthatná G az állítását?
- (c) F azt állítja, hogy minden 2-re végződő négyzetszám osztható 3-mal. G szerint F téved. Hogyan bizonyíthatná G az állítását? F-nek vagy G-nek van igaza?
- (d) F azt állítja, hogy ha egy derékszögű háromszög befogói  $a$  és  $b$ , átfogója  $c$ , akkor  $a^2 + b^2 = c^2$ . Hogyan bizonyíthatná F az állítását?
- (e) F azt állítja, hogy egy másodfokú egyenletnek lehetnek negatív gyökei. Hogyan bizonyíthatná F az állítását?
- (f) F azt állítja, hogy egy másodfokú egyenletnek lehet 3 gyöke. G szerint F téved. Hogyan bizonyíthatná G az állítását?

**1.27.**

: -) „Minden mohikán hazudik”, mondta az utolsó mohikán. Igazat mondott?

**1.28.**

: -) 

1) A 3 prímszám. 2) 4 osztható 3-mal. 3) Ebben a keretben pontosan 1 igaz állítás van.
--

Hány igaz állítás van a keretben?

**1.29.**

Egy 13 jegyű kódszámban bármely 3 szomszédos számjegy összege 11. A kód második jegye 6, a tizenkettedik jegy pedig 4. Mi a 13-adik jegy?

**1.30.**

Fogadjuk el igaznak, hogy ki korán kel, aranyat lel. Melyik állítás igazsága következik ebből?

- (a) Aki későn kel, nem lel aranyat.
- (b) Aki aranyat lelt, az korán kelt.
- (c) Aki nem lelt aranyat, az későn kelt.

**1.31.**

Ha kedd van, akkor Belgiumban vagyunk. Melyik állítás következik ebből?

- (a) Ha szerda van, akkor nem Belgiumban vagyunk.
- (b) Ha Belgiumban vagyunk, akkor kedd van.
- (c) Ha nem Belgiumban vagyunk, akkor nincs kedd.

---

**Mi a logikai kapcsolat az állítások között? (Melyikből következik a másik?)**

- 1.32.** A:  $x > 5$  B:  $x^2 > 25$
- 1.33.** A:  $\sqrt{x^2 - 5} < 3$  B:  $x^2 - 5 < 9$
- 1.34.** A:  $\sqrt{x^2 - 5} > -4$  B:  $x^2 - 5 > 16$
- 1.35.** A:  $x^2 - x - 6 = 0$  B:  $x = 2$
- 1.36.** A:  $x^2 - x - 6 > 0$  B:  $x > 2$
- 1.37.** A:  $7 = 8$  B:  $3 = 3$
- 1.38.** A:  $7 = 8$  B:  $3 = 4$
- 1.39.** A:  $x < 7$  és  $y < 3$  B:  $x - y < 4$
- 1.40.** A:  $|x - 5| < 0,1$  és  $|y - 5| < 0,1$  B:  $|x - y| < 0,2$

**Tagadjuk a következő állításokat! Döntsük el, hogy igaz-e az állítás! Igaz-e a tagadása?**

- 1.41.**  $\forall n \in \mathbb{N}^+ 2|n$  **1.42.**  $\exists k \in \mathbb{N}^+ 2|k$
- 1.43.**  $\forall n \in \mathbb{N}^+ \exists k \in \mathbb{N}^+ n|k$  **1.44.**  $\exists k \in \mathbb{N}^+ \forall n \in \mathbb{N}^+ n|k$

- 1.45.** Pistike azt mondta reggel az anyukájának, hogy ha a hó miatt nem jár a busz, nem megy iskolába. A busz járt, Pistike mégsem ment iskolába. Hazudott-e reggel Pistike, amikor a már említett mondatot mondta?

**Hány olyan részhalmaza van a  $H = \{1, 2, 3, \dots, 100\}$  halmaznak, amelyre igaz, és hány olyan, amelyre nem igaz, hogy**

- 1.46.** az 1 benne van a részhalmazban;
- 1.47.** az 1 és a 2 benne van a részhalmazban;

**1.48.** az 1 vagy a 2 benne van a részhalmazban;

**1.49.** az 1 benne van a részhalmazban vagy a 2 nincs benne a részhalmazban;

**1.50.** ha az 1 benne van a részhalmazban, akkor a 2 benne van a részhalmazban?

**Hány olyan  $H$  részhalmaza van az  $A_n = \{1, 2, \dots, n\}$  halmaznak, amelyre teljesül, hogy**

**1.51.**  $\forall x < n (x \in H \implies x + 1 \in H)$       **1.52.**  $\forall x (x \in H \implies x + 1 \notin H)$

**1.53.**  $\forall x (x \in H \wedge x + 1 \in H \implies x + 2 \in H)$

**Írjuk le logikai jelekkel az alábbi állításokat!**

**1.54.** Nem igaz, hogy P vagy Q.

**1.55.** Sem Q, sem P.

**1.56.** Nem P, ha nem Q.

**1.57.** P pedig nem is Q.

**1.58.** Csak akkor P, ha Q.

**1.59.** Sem P, sem Q.

**1.60.** Q, feltéve, hogy P.

**1.61.** Nem P, mégis Q.

**1.62.** P vagy Q, de nem mindkettő.

**1.63.** Nem igaz, hogy ha P, akkor egyúttal Q is.

**1.64.** Írjuk fel logikai kvantorokkal a következő mondatot:

„Minden tengerész ismer olyan kikötőt, ahol van olyan kocsmá, ahol még nem járt.”

Írjuk fel a mondat tagadását szöveggel és logikai kvantorokkal is!

**1.65.** Van egy zacskó cukorka és a tanulócsoporthallgatói. Melyik állításból következik a másik?

- (a) A csoport minden hallgatója szopogatott cukorkát (a zacskóból).
- (b) Van olyan cukorka (a zacskóból), amit minden hallgató szopogatott.
- (c) Van olyan hallgató, aki minden cukorkát szopogatott (a zacskóból).
- (d) Minden cukorkát (a zacskóból) szopogatta valamelyik hallgató.

### 1.3. Bizonyítási módszerek

**Bizonyítsuk be, hogy**

**1.66.**  $\sqrt{3}$  irracionális;

**1.67.**  $\frac{\sqrt{2}}{\sqrt{3}}$  irracionális;

**1.68.**  $\frac{\sqrt{2}+1}{2} + 3$  irracionális!

**1.69.** Tudjuk, hogy  $x$  és  $y$  racionális számok. Bizonyítsuk be, hogy

- (a)  $x + y$
- (b)  $x - y$
- (c)  $xy$
- (d)  $y \neq 0$  esetén  $\frac{x}{y}$

is racionális!

**1.70.** Tudjuk, hogy  $x$  racionális szám,  $y$  pedig irracionális.

- (a) Lehet-e  $x + y$  racionális?
- (b) Lehet-e  $x - y$  racionális?
- (c) Lehet-e  $xy$  racionális?
- (d) Lehet-e  $\frac{x}{y}$  racionális?

**1.71.** Tudjuk, hogy  $x$  és  $y$  irracionális.

- (a) Lehet-e  $x + y$  racionális?      (b) Lehet-e  $xy$  racionális?

**1.72.** Igaz-e, hogy ha

- (a)  $a$  és  $b$  racionális számok, akkor  $a + b$  is racionális?  
 (b)  $a$  és  $b$  irracionális számok, akkor  $a + b$  is irracionális?  
 (c)  $a$  racionális szám,  $b$  pedig irracionális, akkor  $a + b$  racionális?  
 (d)  $a$  racionális szám,  $b$  pedig irracionális, akkor  $a + b$  irracionális?

**1.73.** Ádámnak 2 füle volt. Ha egy apának 2 füle van, akkor a fiának is 2 füle van.

- (a) Következik-e a fenti két állításból, hogy minden ma élő embernek 2 füle van?  
 (b) Kikről tudjuk biztosan állítani a fenti két állítás alapján, hogy 2 fülük van?  
 (c) Mire következtethetünk, ha a két állításból az elsőt elhagyjuk, és csak a másodikat használjuk fel?  
 (d) Mire következtethetünk, ha a két állításból a másodikat elhagyjuk, és csak az elsőt használjuk fel?

**1.74.** **Tétel:** Az 1 a legnagyobb szám.

**Bizonyítás:** indirekt módszerrel. Tegyük fel, hogy nem 1 a legnagyobb szám, hanem  $A$ . Ekkor  $A > 1$ . Mivel  $A > 1$ , ezért  $A > 0$  is teljesül, tehát ha az  $A > 1$  egyenlőtlenséget megszorozzuk  $A$ -val, az  $A^2 > A$  egyenlőtlenséget kapjuk. Ez az egyenlőtlenség viszont ellentmond annak, hogy  $A$  a legnagyobb szám. Tehát az 1 a legnagyobb szám.

Jó ez a bizonyítás? Ha nem, akkor hol a hiba?

**1.75.** Legyen  $A_1, A_2, \dots$  állítások egy sorozata. Mi következik az alábbiakból?

- (a)  $A_1$  igaz. Ha  $A_1, A_2, \dots, A_n$  mind igaz, akkor  $A_{n+1}$  is igaz.  
 (b)  $A_1$  igaz. Ha  $A_n$  és  $A_{n+1}$  igaz, akkor  $A_{n+2}$  is igaz.  
 (c) Ha  $A_n$  igaz, akkor  $A_{n+1}$  is igaz.  $A_{2^n}$  hamis minden  $n$ -re.  
 (d)  $A_{100}$  igaz. Ha  $A_n$  igaz, akkor  $A_{n+1}$  is igaz.  
 (e)  $A_{100}$  igaz. Ha  $A_n$  hamis, akkor  $A_{n+1}$  is hamis.  
 (f)  $A_1$  hamis. Ha  $A_n$  igaz, akkor  $A_{n+1}$  is igaz.  
 (g)  $A_1$  igaz. Ha  $A_n$  hamis, akkor  $A_{n-1}$  is hamis.

**1.76.** Bizonyítsuk be, hogy tetszőleges  $n \in \mathbb{N}$  esetén  $16 \mid 5^{n+1} - 4n - 5$ .

**1.77.** Bizonyítsuk be, hogy  $\lg 1^\circ$  irracionális.

**1.78.** Bizonyítsuk be, hogy ha  $n \in \mathbb{N}^+$ , akkor  $n! \leq \left(\frac{n+1}{2}\right)^n$ .

**1.79.** Legyen  $a_1 = 0,9$ ,  $a_{n+1} = a_n - a_n^2$ . Igaz-e, hogy van olyan  $n$ , amelyre  $a_n < 10^{-6}$ ?

**1.80.** Írjuk fel a következő kifejezéseket  $n = 1, 2, 3, 6, 7, k$  és  $k + 1$  esetén

(a)  $\sqrt{n}$

(b)  $\sqrt{1} + \sqrt{2} + \sqrt{3} + \dots + \sqrt{n}$

(c)  $1^2 + 2^2 + 3^2 + \dots + n^2$

(d)  $\frac{1}{1 \cdot 2} + \frac{1}{2 \cdot 3} + \frac{1}{3 \cdot 4} + \dots + \frac{1}{(n-1) \cdot n}$

(e)  $1 \cdot 4 + 2 \cdot 7 + 3 \cdot 10 + \dots + n(3n + 1)$

(f)  $1 \cdot 2 + 2 \cdot 3 + 3 \cdot 4 + \dots + n(n + 1)$

**1.81.** Az első néhány tag kiszámítása után sejtjük meg, milyen egyszerűbb kifejezéssel egyenlő az alábbi összeg, majd a sejtést bizonyítsuk be teljes indukcióval!

(a)  $\frac{1}{1 \cdot 2} + \frac{1}{2 \cdot 3} + \dots + \frac{1}{(n-1) \cdot n}$

(b)  $1 + 3 + \dots + (2n - 1)$

**Bizonyítsuk be, hogy minden  $n$  pozitív egész számra igazak a következő azonosságok:**

**1.82.**  $a^n - b^n = (a - b)(a^{n-1} + a^{n-2}b + \dots + ab^{n-2} + b^{n-1})$

**1.83.**  $1 + 2 + \dots + n = \frac{n(n+1)}{2}$

**1.84.**  $1^2 + 2^2 + \dots + n^2 = \frac{n(n+1)(2n+1)}{6}$



$$1.85. \quad 1^3 + 2^3 + \dots + n^3 = \left( \frac{n(n+1)}{2} \right)^2$$

$$1.86. \quad 1 - \frac{1}{2} + \frac{1}{3} - \dots - \frac{1}{2n} = \frac{1}{n+1} + \frac{1}{n+2} + \dots + \frac{1}{2n}$$

**Fejazzük ki egyszerűbb alakban a következő kifejezéseket:**

$$1.87. \quad \frac{1}{1 \cdot 2} + \frac{1}{2 \cdot 3} + \dots + \frac{1}{(n-1) \cdot n}$$

$$1.88. \quad \frac{1}{1 \cdot 2 \cdot 3} + \frac{1}{2 \cdot 3 \cdot 4} + \dots + \frac{1}{n \cdot (n+1) \cdot (n+2)}$$

$$1.89. \quad 1 \cdot 2 + 2 \cdot 3 + \dots + n \cdot (n+1)$$

$$1.90. \quad 1 \cdot 2 \cdot 3 + 2 \cdot 3 \cdot 4 + \dots + n \cdot (n+1) \cdot (n+2)$$

1.91. Egy gazdának van egy pár nyula. Minden nyúlpár 2 hónapos korától minden hónapban egy újabb párnak ad életet. Hány pár nyúl lesz a 2., 3., 4., 5. és 6. hónapban?

**Legyen  $(u_n)$  a Fibonacci-sorozat, azaz  $u_0 = 0$ ,  $u_1 = 1$  és  $n > 1$  esetén  $u_{n+1} = u_n + u_{n-1}$ .**

1.92. Bizonyítsuk be, hogy  $u_n$  és  $u_{n+1}$  relatív prím számok.

1.93. Bizonyítsuk be, hogy  $\frac{1,6^n}{3} < u_n < 1,7^n$  ( $n > 0$ ).

1.94. Bizonyítsuk be a következő azonosságokat:

$$(a) \quad u_1 + u_2 + \dots + u_n = u_{n+2} - 1 \quad (b) \quad u_n^2 - u_{n-1}u_{n+1} = (-1)^{n+1}$$

$$(c) \quad u_1^2 + u_2^2 + \dots + u_n^2 = u_n u_{n+1}$$

1.95. Hozzuk egyszerűbb alakra a következő kifejezéseket:

$$\begin{array}{ll}
 \text{(a)} \quad s_n = u_0 + u_2 + \cdots + u_{2n} & \text{(b)} \quad s_n = u_1 + u_3 + \cdots + u_{2n+1} \\
 \text{(c)} \quad s_n = u_0 + u_3 + \cdots + u_{3n} & \text{(d)} \quad s_n = u_1 u_2 + u_2 u_3 + \cdots + \\
 & u_{2n-1} u_{2n}
 \end{array}$$

**1.96.** **Tétel:** Minden ló egyszínű.

**Bizonyítás:** Teljes indukcióval belátjuk, hogy bármely  $n$  ló egyszínű.  $n = 1$ -re az állítás nyilvánvaló. Tegyük fel, hogy igaz  $n$ -re, és ebből fogjuk  $n + 1$ -re belátni: adott  $n + 1$  ló közül az indukciós feltevés miatt az  $1, 2, \dots, n$ . is egyszínű és a  $2, \dots, n, (n + 1)$ . is egyszínű, tehát mind az  $n + 1$  egyszínű.

Jó ez a bizonyítás? Ha nem, akkor hol a hiba?

**1.97.** **Tétel:** Nincs józan tengerész.

**Bizonyítás:** Teljes indukcióval. Tegyük fel, hogy az állítás igaz  $n$  tengerészre, és ebből fogjuk  $n + 1$  tengerészre belátni. Adott  $n + 1$  tengerész közül az indukciós feltevés miatt az  $1, 2, \dots, n$ . tengerész nem józan, és a  $2, \dots, n, (n + 1)$ . tengerész sem józan, tehát mind az  $n + 1$  részeg.

Jó ez a bizonyítás? Ha nem, akkor hol a hiba?

**1.98.** Bizonyítsuk be a számtani-mértani közép közötti egyenlőtlenséget az  $n = 2$  speciális esetben!

**1.99.** Bizonyítsuk be, hogy az  $a_1, a_2, \dots, a_n$  pozitív számok számtani, mértani és harmonikus közepe a számok legkisebbike és legnagyobbika közé esik!

**Tudjuk, hogy  $a, b, c > 0$  és  $a + b + c = 18$ . Határozzuk meg  $a, b$  és  $c$  értékét úgy, hogy a következő kifejezések értéke maximális legyen:**

**1.100.**  $abc$

**1.101.**  $a^2bc$

**1.102.**  $a^3b^2c$

**1.103.**  $\frac{abc}{ab + bc + ac}$

**Tudjuk, hogy  $a, b, c > 0$  és  $abc = 18$ . Határozzuk meg  $a, b$  és  $c$  értékét úgy, hogy a következő kifejezések értéke minimális legyen:**

**1.104.**  $a + b + c$

**1.105.**  $2a + b + c$

**1.106.**  $3a + 2b + c$

**1.107.**  $a^2 + b^2 + c^2$

---

**1.108.** Tudjuk, hogy három pozitív szám szorzata 1.

- (a) Legalább mennyi lehet az összegük?
- (b) Legfeljebb mennyi lehet az összegük?
- (c) Legalább mennyi lehet a reciprokösszegük?
- (d) Legfeljebb mennyi lehet a reciprokösszegük?

**1.109.** Bizonyítsuk be, hogy ha  $a > 0$ , akkor  $a + \frac{1}{a} \geq 2$ .**1.110.** Bizonyítsuk be, hogy ha  $a, b$  és  $c$  pozitív számok, akkor  $\frac{a}{b} + \frac{b}{c} + \frac{c}{a} \geq 3$ .**1.111.** Bizonyítsuk be, hogy minden pozitív egész  $n$ -re  $\left(1 + \frac{1}{n}\right)^{2n} \geq 4$ .**1.112.** Egy motorcsónak motorja a csónakot állóvízben  $v$  sebességgel hajtja. A csónak az  $u$  sebességű folyóban  $s$  utat tesz meg a folyás irányában, majd visszamegy a kiindulási helyéhez. Mennyi lesz az átlagsebessége a teljes úton  $v$ -hez képest:  $v$ -vel egyenlő,  $v$ -nél nagyobb vagy  $v$ -nél kisebb?**1.113.** Egy kereskedőnek nem pontos a kétkarú mérlege, mert a karok hossza nem egyenlő. Miután tudja ezt, minden vásárlónál az áru egyik felét a mérleg egyik serpenyőjében, a másik felét a mérleg másik serpenyőjében méri, gondolván, hogy ezzel kiküszöböli a mérleg pontatlanságát. Valóban ez a helyzet?**1.114.** Határozzuk meg az  $f(x) = x(1-x)$  függvény legnagyobb értékét a  $[0, 1]$  zárt intervallumon!

---

**Hol van és mennyi a minimuma az alábbi függvényeknek, ha  $x > 0$ ?**

**1.115.**  $f(x) = x + \frac{4}{x}$

**1.116.**  $g(x) = \frac{x^2 - 3x + 5}{x}$

**1.117.** Határozzuk meg az  $x^2(1-x)$  függvény legnagyobb értékét a  $[0, 1]$  zárt intervallumon.

**1.118.** Mennyi a maximuma a  $g(x) = x(1-x)^3$  függvénynek a  $[0, 1]$  intervallumon?

**1.119.** Mennyi a minimuma az  $f(x) = 2x^2 + \frac{3}{x^2 + 1} + 5$  függvénynek?

**1.120.** Az  $y = \frac{1}{4}x^2$  parabola melyik pontja van a legközelebb a  $(0, 5)$  ponthoz?

**1.121.** Melyik az egységkörbe írható maximális területű téglalap?

**1.122.** Melyik az egyenes körkúpba írható maximális térfogatú henger?

**1.123.** Melyik az egységgömbbe írható maximális térfogatú egyenes körhenger?

**1.124.** Legyen egy téglalap két éle  $a$  és  $b$ , átlója pedig  $c$ . Ekkor a téglalap területe  $T = ab$ , és a téglalap kerülete  $K = 2(a + b)$ .

Tehát: 
$$\frac{T}{\frac{K}{2}} = \frac{ab}{\frac{2(a+b)}{2}}$$

Így: 
$$\frac{2T}{K} - \frac{c}{\sqrt{2}} = \frac{ab}{a+b} - \frac{c}{\sqrt{2}}$$

Mivel  $0 < a < c$ , ezért: 
$$a \left( \frac{2T}{K} - \frac{c}{\sqrt{2}} \right) < c \left( \frac{ab}{a+b} - \frac{c}{\sqrt{2}} \right)$$

Beszorzás után: 
$$\frac{2Ta}{K} - \frac{ac}{\sqrt{2}} < \frac{abc}{a+b} - \frac{c^2}{\sqrt{2}}$$

$T$  és  $K$  helyébe írjunk  $ab$ -t és  $2(a+b)$ -t: 
$$\frac{2a^2b}{2(a+b)} - \frac{ac}{\sqrt{2}} < \frac{abc}{a+b} - \frac{c^2}{\sqrt{2}}$$

Rendezés után: 
$$\frac{2a^2b}{2(a+b)} - \frac{abc}{a+b} < \frac{ac}{\sqrt{2}} - \frac{c^2}{\sqrt{2}}$$

Kiemelés után:  $\frac{ab}{a+b}(a-c) < \frac{c}{\sqrt{2}}(a-c)$

Osztunk  $(a-c)$ -vel, de  $a-c < 0$ :  $\frac{ab}{a+b} > \frac{c}{\sqrt{2}}$

Négyzet esetén  $b = a$  és  $c = a\sqrt{2}$ :  $\frac{a^2}{2a} > \frac{a\sqrt{2}}{\sqrt{2}}$

Egyszerűsítés és rendezés után:  $1 > 2$

Hol a hiba?

## 1.4. Halmazok

**1.125.** Melyik állítás **nem** igaz?

(a)  $A \setminus B = \{x : x \in A \vee x \notin B\}$  (b)  $A \setminus B = A \cap \overline{B}$

(c)  $A \setminus B = (A \cup B) \setminus B$  (d)  $A \setminus B = A \setminus (A \cap B)$

**1.126.** Melyik halmazzal egyenlő  $\overline{A \cup B}$ ?

(a)  $\{x : x \notin A \vee x \notin B\}$  (b)  $\{x : x \notin A \wedge x \notin B\}$

(c)  $\{x : x \in A \vee x \in B\}$  (d)  $\{x : x \in A \wedge x \in B\}$

**1.127.** Melyik halmazzal egyenlő  $A \cap (B \cup C)$ ?

(a)  $A \cup (B \cap C)$  (b)  $(A \cap B) \cup C$

(c)  $(A \cup B) \cap C$  (d)  $(A \cap B) \cup (A \cap C)$

---

**Állapítsuk meg, hogy az alábbi állítások közül melyek igazak és melyek hamisak. Ha egy állítás igaz, bizonyítsuk be, ha hamis, adjunk ellenpéldát!**

**1.128.**  $A \setminus B = A \cap \overline{B}$

**1.129.**  $(A \cup B) \setminus B = A$

**1.130.**  $(A \setminus B) \cup (A \cap B) = A$

**1.131.**  $\overline{A} \setminus B = A \setminus \overline{B}$ ?

**1.132.**  $(A \cup B) \setminus A = B$

**1.133.**  $(A \cup B) \setminus C = A \cup (B \setminus C)$

**1.134.**  $(A \setminus B) \cap C = (A \cap C) \setminus B$

**1.135.**  $A \setminus B = A \setminus (A \cap B)$

**Legyenek  $A, B, C$  halmazok. Írjuk fel  $A, B, C$  és a halmazműveletek segítségével, azaz olyan jellegű formulával, mint például  $(A \setminus B) \cup C$ , az alábbi halmazokat!**

**1.136.** Azon elemek halmaza, amelyek  $A$ -ban benne vannak, de  $B$ -ben és  $C$ -ben nincsenek benne.

**1.137.** Azon elemek halmaza, amelyek  $A, B$  és  $C$  közül pontosan egyben vannak benne.

**1.138.** Azon elemek halmaza, amelyek  $A, B$  és  $C$  közül pontosan kettőben vannak benne.

**1.139.** Azon elemek halmaza, amelyek  $A, B$  és  $C$  közül pontosan háromban vannak benne.

**1.140.** Bizonyítsuk be, hogy tetszőleges  $A, B$  halmazokra  $\overline{A \cup B} = \overline{A} \cap \overline{B}$ .

**1.141.** Bizonyítsuk be a De Morgan azonosságokat:

$$\overline{\bigcup_{i=1}^n A_i} = \bigcap_{i=1}^n \overline{A_i} \quad \text{és} \quad \overline{\bigcap_{i=1}^n A_i} = \bigcup_{i=1}^n \overline{A_i}$$

## 1.5. A valós számok axiómarendszere

**1.142.** Bizonyítsuk be, hogy tetszőleges  $a, b$  valós számokra

$$(a) |a| + |b| \geq |a + b| \qquad (b) |a| - |b| \leq |a - b| \leq |a| + |b|$$

**1.143.** Bizonyítsuk be, hogy tetszőleges  $a_1, a_2, \dots, a_n$  valós számokra igaz, hogy

$$|a_1| + |a_2| + \dots + |a_n| \geq |a_1 + a_2 + \dots + a_n|.$$

**1.144.** Igaz-e, hogy ha

$$(a) x < A, \text{ akkor } |x| < |A| \qquad (b) |x| < A, \text{ akkor } |x^2| < A^2$$

**1.145.** Igaz-e minden  $a_1, a_2, \dots, a_n$  valós számra, hogy

$$\begin{aligned} (a) |a_1 + a_2 + \dots + a_n| &\leq |a_1| + |a_2| + \dots + |a_n| \\ (b) |a_1 + a_2 + \dots + a_n| &\geq |a_1| + |a_2| + \dots + |a_n| \\ (c) |a_1 + a_2 + \dots + a_n| &< |a_1| + |a_2| + \dots + |a_n| \\ (d) |a_1 + a_2 + \dots + a_n| &> |a_1| + |a_2| + \dots + |a_n| \end{aligned}$$

**1.146.** Igaz-e minden  $a, b$  valós számra, hogy

$$\begin{aligned} (a) |a + b| &\geq |a| - |b| & (b) |a + b| &\leq |a| - |b| \\ (c) |a - b| &< ||a| - |b|| & (d) |a - b| &\leq |a| - |b| \end{aligned}$$

**1.147.** Legyen  $H$  a valós számok egy nem üres részhalmaza. Mit jelentenek a következő állítások?

$$\begin{aligned} (a) \forall x \in H \exists y \in H (y < x) & \qquad (b) \forall y \in H \exists x \in H (y < x) \\ (c) \exists x \in H \forall y \in H (y \leq x) & \qquad (d) \exists y \in H \forall x \in H (y \leq x) \end{aligned}$$

**1.148.** Legyen  $H_1 = \{h \in \mathbb{R} : -3 < h \leq 1\}$  és  $H_2 = \{h \in \mathbb{R} : -3 \leq h < 1\}$ . Melyik állítás igaz, ha  $H = H_1$  vagy  $H = H_2$ ?

$$\begin{aligned} (a) \forall x \in H \exists y \in H (y < x) & \qquad (b) \forall y \in H \exists x \in H (y < x) \\ (c) \exists x \in H \forall y \in H (y \leq x) & \qquad (d) \exists y \in H \forall x \in H (y \leq x) \end{aligned}$$

**1.149.** Legyen  $A = \{a \in \mathbb{R} : -3 < a \leq 1\}$  és  $B = \{b \in \mathbb{R} : -3 < b < 1\}$ . Melyik állítás igaz?

- (a)  $\forall a \in A \exists b \in B b < a$       (b)  $\exists b \in B \forall a \in A b < a$   
 (c)  $\forall b \in B \exists a \in A b < a$       (d)  $\exists a \in A \forall b \in B b < a$

Legyen  $H \subset \mathbb{R}$ . Írjuk fel az alábbi állításokat logikai formulákkal, írjuk föl a tagadásukat, továbbá adjunk példát (ha van) olyan  $H$ -ra amelyikre teljesül, és olyanra is amelyikre nem!

**1.150.**  $H$ -nak van legkisebb eleme.

**1.151.**  $H$  bármely két (különböző) eleme között van (mindkettőtől különböző)  $H$ -beli elem.

Határozzuk meg a következő számhalmaz-sorozatok metszetét!

**1.152.**  $A_n = \{a \in \mathbb{Q} : -\frac{1}{n} < a < \frac{1}{n}\}$

**1.153.**  $B_n = \{b \in \mathbb{R} \setminus \mathbb{Q} : -\frac{1}{n} < b < \frac{1}{n}\}$

**1.154.**  $C_n = \{c \in \mathbb{Q} : \sqrt{2} - \frac{1}{n} < c < \sqrt{2} + \frac{1}{n}\}$

**1.155.**  $D_n = \{d \in \mathbb{N} : -n < d < n\}$

**1.156.**  $E_n = \{e \in \mathbb{R} : -n < e < n\}$

**1.157.** Legyen  $H \subset \mathbb{R}$ . Írjuk fel a következő állítás tagadását:

$$\forall x \in H \exists y \in H (x > 2 \implies y < x^2)$$

Határozzuk meg a következő intervallumsorozatok metszetét! (Például rajz segítségével sejtsük meg a metszetet! Ha a sejtés szerint a metszet  $M$ , akkor bizonyítsuk be, hogy  $\forall x \in M$  esetén teljesül, hogy  $\forall n x \in I_n$ , továbbá ha  $y \notin M$  akkor  $\exists k y \notin I_k$ . (Itt  $k$  és  $n$  pozitív egész számok.)



**1.158.**  $I_n = [-1/n, 1/n]$

**1.159.**  $I_n = (-1/n, 1/n)$

**1.160.**  $I_n = [2 - 1/n, 3 + 1/n]$

**1.161.**  $I_n = (2 - 1/n, 3 + 1/n)$

**1.162.**  $I_n = [0, 1/n]$

**1.163.**  $I_n = (0, 1/n)$

**1.164.**  $I_n = [0, 1/n)$

**1.165.**  $I_n = (0, 1/n]$

---

**1.166.** Melyik állítás igaz? (A választ mindig indokoljuk!)

- (a) Ha egy egymásba skatulyázott intervallumsorozat metszete nem üres, akkor az intervallumok zártak.
- (b) Ha egy egymásba skatulyázott intervallumsorozat metszete üres, akkor az intervallumok nyíltak.
- (c) Egy egymásba skatulyázott, zárt intervallumsorozat metszete egyetlen pont.
- (d) Ha egy egymásba skatulyázott intervallumsorozat metszete üres, akkor van az intervallumok között nyílt.
- (e) Ha egy egymásba skatulyázott intervallumsorozat metszete üres, akkor van az intervallumok között nem zárt.
- (f) Ha egy zárt intervallumsorozat metszete nem üres, akkor az intervallumok egymásba vannak skatulyázva.

---

**A következő feladatokban is indokoljuk meg a válaszokat!**

**1.167.** Lehet-e egy egymásba skatulyázott intervallumsorozat metszete üres?**1.168.** Lehet-e egy egymásba skatulyázott, zárt intervallumsorozat metszete üres?**1.169.** Lehet-e egy egymásba skatulyázott, zárt intervallumsorozat metszete egyetlen pont?**1.170.** Lehet-e egy egymásba skatulyázott, nyílt intervallumsorozat metszete nem üres?

- 1.171.** Lehet-e egy egymásba skatulyázott, nyílt intervallumsorozat metszete üres?
- 1.172.** Lehet-e egy egymásba skatulyázott, zárt intervallumsorozat metszete valódi intervallum (nem csak egy pont)?
- 1.173.** Lehet-e egy egymásba skatulyázott, nyílt intervallumsorozat metszete valódi intervallum?
- 1.174.** Lehet-e egy egymásba skatulyázott, zárt intervallumsorozat metszete valódi nyílt intervallum?
- 1.175.** Lehet-e egy egymásba skatulyázott, nyílt intervallumsorozat metszete valódi nyílt intervallum?
- 
- 1.176.** A valós számok axiómái közül melyek teljesülnek és melyek nem a racionális számok halmazára (a szokásos műveletekkel és rendezéssel)?
- 1.177.** Bizonyítsuk be az Archimédeszi axiómából, hogy  $(\forall b, c < 0) (\exists n \in \mathbb{N}) nb < c!$
- 1.178.** Bizonyítsuk be, hogy bármely két valós szám között van véges tizedes tört!
- 1.179.** Bizonyítsuk be, hogy bármely két valós szám között van racionális szám!
- 1.180.** Mi a kapcsolat a véges tizedestört alakban felírható számok halmaza és a racionális számok halmaza között?
- 1.181.** Bizonyítsuk be, hogy egy valós szám tizedestört-alakja akkor és csak akkor periodikus, ha a szám racionális.
- 1.182.** Fordítsuk le a végtelen tizedestörtokról tanultakat kettes számrendszerre, azaz definiáljuk a véges és végtelen bináris (kettedes) törtet és mondjuk ki a tételeink megfelelőit!
- 1.183.** Ellenőrizzük, hogy a Cantor-axióma állítása nem marad igaz, ha bármelyik feltételét elhagyjuk.
- 1.184.** Igazoljuk a testaxiómák segítségével a következő azonosságokat:

(a)  $-a = (-1) \cdot a$  (b)  $(a - b) - c = a - (b + c)$

(c)  $(-a) \cdot b = -(a \cdot b)$  (d)  $\frac{1}{a/b} = \frac{b}{a}$

(e)  $\frac{a}{b} \cdot \frac{c}{d} = \frac{a \cdot c}{b \cdot d}$

## 1.6. A számegyenes

Szemléltessük a következő számhalmazokat számegyenesen! Döntsük el, hogy melyik intervallum, és melyik nem az! Az intervallumok esetében döntsük el, hogy melyik zárt, melyik nyílt, és melyik se nem zárt, se nem nyílt!

1.185.  $A = \{1, 2, 3\}$

1.186.  $B = \{2.6\}$

1.187.  $C = \{x \in \mathbb{R} : 2 < x < 6\}$

1.188.  $D = \{x \in \mathbb{N} : 2 \leq x \leq 6\}$

1.189.  $E = \{x \in \mathbb{R} : 2 \leq x \leq 6\}$

1.190.  $F = \{x \in \mathbb{R} : 2 < x \leq 6\}$

1.191.  $G = \{x \in \mathbb{R} : 2 \leq x < 6\}$

1.192.  $H = \{x \in \mathbb{Q} : 2 \leq x \leq 6\}$

Döntsük el az alábbi halmazokról, hogy alulról korlátosak-e, felülről korlátosak-e, korlátosak-e, és hogy van-e legkisebb illetve legnagyobb elemük?

1.193. prímszámok halmaza

1.194. pozitív számok halmaza

1.195.  $[-5, -2)$

1.196.  $\left\{ \frac{1}{n} : n \in \mathbb{N}^+ \right\}$

1.197.  $\{x \in \mathbb{R} : x \leq 73\}$

1.198.  $\{x \in \mathbb{Q} : x \leq 73\}$

1.199.  $\{x \in \mathbb{R} : x \leq \sqrt{2}\}$

1.200.  $\{x \in \mathbb{Q} : x \leq \sqrt{2}\}$

1.201.  $\{n \in \mathbb{N} : n \text{ prímszám} \wedge n + 2 \text{ prímszám}\}$

**1.202.** Mi a kapcsolat az alábbi két állítás között, azaz melyikből következik a másik?

**P:** Az  $A$  halmaz véges (azaz véges sok eleme van).

**Q:** Az  $A$  halmaz korlátos.

**1.203.** Van-e olyan  $a_1, a_2, \dots$  számsorozat, amelyre az  $\{a_1, a_2, \dots\}$  halmaz korlátos, de nincs se maximuma, se minimuma?

---

**Írjuk fel logikai jelekkel az alábbi állításokat!**

**1.204.** Az  $A$  halmaz korlátos.      **1.205.** Az  $A$  halmaz alulról nem korlátos.

**1.206.** Az  $A$  halmaznak nincs legkisebb eleme.

**1.207.** Egy számhalmaznak hány **maximuma**, illetve **felső korlátja** lehet?

**1.208.** Mi a kapcsolat az alábbi két állítás között, azaz melyikből következik a másik?

**P:** Az  $A$  halmaznak van legkisebb eleme.

**Q:** Az  $A$  halmaz alulról korlátos.

**1.209.** Legyen  $A \cap B \neq \emptyset$ . Mit tudunk mondani  $\sup A, \sup B, \sup(A \cup B), \sup(A \cap B)$  és  $\sup(A \setminus B)$  kapcsolatáról?

**1.210.** Legyen  $A = (0, 1)$ ,  $B = [-\sqrt{2}, \sqrt{2}]$  és  $C = \left\{ \frac{1}{2^n} + \frac{1}{2^m} : n, m \in \mathbb{N}^+ \right\}$ . Határozzuk meg - amennyiben léteznek - a fenti halmazok szuprémumát, infimumát, maximumát és minimumát.

**1.211.** Legyen  $A$  egy tetszőleges számhalmaz, továbbá

$$B = \{-a : a \in A\}, C = \left\{ \frac{1}{a} : a \in A, a \neq 0 \right\}.$$

Milyen kapcsolat van a felső és alsó határok között?

---

**Határozzuk meg a következő halmazok minimumát, maximumát, infimumát és szuprémumát, ha vannak!**

**1.212.**  $[1, 2]$

**1.213.**  $(1, 2)$

**1.214.**  $\left\{ \frac{1}{2n-1} : n \in \mathbb{N}^+ \right\}$

**1.215.**  $\mathbb{Q}$

**1.216.**  $\left\{ \frac{1}{n} + \frac{1}{\sqrt{n}} : n \in \mathbb{N}^+ \right\}$

**1.217.**  $\{ \sqrt[n]{3} : n \in \mathbb{N}^+ \}$

**1.218.**  $\{x : x \in (0, 1) \cap \mathbb{Q}\}$

**1.219.**  $\left\{ \frac{1}{n} + \frac{1}{k} : n, k \in \mathbb{N}^+ \right\}$

**1.220.**  $\{ \sqrt{n+1} - \sqrt{n} : n, k \in \mathbb{N}^+ \}$

**1.221.**  $\left\{ n + \frac{1}{n} : n \in \mathbb{N}^+ \right\}$

**1.222.**  $\{ \sqrt[n]{2} : n \in \mathbb{N}^+ \}$

**1.223.**  $\{ \sqrt[n]{2^n - n} : n \in \mathbb{N} \}$

**1.224.** Legyen  $H$  a valós számok egy nem üres részhalmaza. Mi a következő állítások logikai kapcsolata?(a)  $H$  alulról nem korlátos.      (b)  $H$ -nak nincs legkisebb eleme.(c)  $\forall x \in H \exists y \in H (y < x)$ .      (d)  $\forall y \in H \exists x \in H (y < x)$ .**1.225.** Tudjuk, hogy  $c$  felső korlátja  $H$ -nak. Következik-e ebből, hogy  $\sup H = c$ ?**1.226.** Tudjuk, hogy  $H$ -nak nincs  $c$ -nél kisebb felső korlátja. Következik-e ebből, hogy  $\sup H = c$ ?**1.227.** Legyenek  $A$  és  $B$  a valós számok nem üres részhalmazai. Bizonyítsuk be, hogy ha

$$\forall a \in A \exists b \in B (a \leq b),$$

akkor  $\sup A \leq \sup B$ .**1.228.** Bizonyítsuk be, hogy alulról korlátos, nem üres halmaznak van alsó határa!

---

Legyenek  $x, y, A, B$  tetszőleges valós számok,  $\varepsilon$  pedig pozitív valós szám. Mi a **P** és **Q** állítások logikai kapcsolata, azaz melyikből következik a másik?

**1.229.** **P:**  $|x - A| < \varepsilon$

**Q:**  $A - \varepsilon < x < A + \varepsilon$

**1.230.** **P:**  $|x - y| < 2\varepsilon$

**Q:**  $|x - A| < \varepsilon$  és  $|y - A| < \varepsilon$

**1.231.** **P:**  $|x| < A$  és  $|y| < B$

**Q:**  $|x| - |y| < A - B$

**1.232.** **P:**  $|x| < A$  és  $|y| < B$

**Q:**  $|x| + |y| < A + B$

**1.233.** **P:**  $|x| < A$  és  $|y| < B$

**Q:**  $|x| - |y| < A + B$

---

**1.234.** Adjunk példát olyan nem üres valós számhalmazra, amelyik korlátos, de nincs legkisebb eleme!

**1.235.** Tegyük fel, hogy a  $H \subset \mathbb{R}$  halmaz nem üres. Mi a következő állítások logikai kapcsolata, azaz melyikből következik a másik?

**P:**  $H$ -nak nincs minimuma.

**Q:**  $\forall a \in \mathbb{R}^+ \exists b \in H \quad b < a$

## 2. fejezet

# Számsorozatok konvergenciája

**2.1.** Az  $(a_n)$  sorozat **konvergens** és tart a  $b \in \mathbb{R}$  számhoz, ha

$$\forall \varepsilon > 0 \exists n_0 \forall n \geq n_0 (|a_n - b| < \varepsilon).$$

Egy adott  $\varepsilon$ -hoz tartozó  $n_0$  természetes számot **küszöbindexnek** nevezzük. Ha az  $(a_n)$  sorozat tart a  $b$  számhoz, ezt a következőképpen jelölhetjük:

$$\lim_{n \rightarrow \infty} a_n = b \text{ vagy } \lim a_n = b \text{ vagy } a_n \rightarrow b, \text{ ha } n \rightarrow \infty \text{ vagy } a_n \rightarrow b.$$

Ha az  $(a_n)$  sorozat nem konvergens, akkor azt mondjuk, hogy az  $(a_n)$  sorozat **divergens**.

**2.2.** Azt mondjuk, hogy az  $(a_n)$  sorozat **határértéke  $\infty$** , vagy  $(a_n)$  tart végtelenhez, ha

$$\forall P \in \mathbb{R} \exists n_0 \forall n \geq n_0 (a_n > P).$$

Ennek jele

$$\lim_{n \rightarrow \infty} a_n = \infty \text{ vagy } \lim a_n = \infty \text{ vagy } a_n \rightarrow \infty, \text{ ha } n \rightarrow \infty \text{ vagy } a_n \rightarrow \infty.$$

**2.3.** Azt mondjuk, hogy az  $(a_n)$  sorozat **határértéke  $-\infty$** , vagy  $(a_n)$  tart mínusz végtelenhez, ha

$$\forall P \in \mathbb{R} \exists n_0 \forall n \geq n_0 (a_n < P).$$

Ennek jele

$$\lim_{n \rightarrow \infty} a_n = -\infty \text{ vagy } \lim a_n = -\infty \text{ vagy } a_n \rightarrow -\infty, \\ \text{ha } n \rightarrow \infty \text{ vagy } a_n \rightarrow -\infty.$$

**2.4.** Azt mondjuk, hogy az  $(a_n)$  sorozat **oszcillálva divergens**, ha nincs sem véges, sem végtelen határértéke.

**2.5. Rendőr-szabály.** Ha valahonnan kezdve  $a_n \leq b_n \leq c_n$ , létezik az  $(a_n)$  és a  $(c_n)$  sorozat határértéke és

$$\lim_{n \rightarrow \infty} a_n = \lim_{n \rightarrow \infty} c_n,$$

akkor a  $(b_n)$  sorozatnak is létezik a határértéke és

$$\lim_{n \rightarrow \infty} a_n = \lim_{n \rightarrow \infty} b_n = \lim_{n \rightarrow \infty} c_n,$$

## 2.1. Sorozatok határértéke

Legyen az  $(a_n)$  sorozat a következőképp megadva:  $a_n = 1 + \frac{1}{\sqrt{n}}$ . A feladatokban szereplő  $n$  és  $n_0$  jelek pozitív egész számokat jelölnek.

**2.1.** Adjunk meg olyan  $n_0$  számot, hogy  $\forall n > n_0$  esetén teljesüljön, hogy

(a)  $|a_n - 1| < 0,1$                       (b)  $|a_n - 1| < 0,01$

**2.2.** Van-e olyan  $n_0$  szám, hogy  $\forall n > n_0$  esetén teljesül, hogy  $|a_n - 2| < 0,001$ ?

**2.3.** Igaz-e, hogy

- (a)  $\forall \varepsilon > 0 \quad \exists n_0 \quad \forall n > n_0 \quad (|a_n - 1| < \varepsilon)$   
 (b)  $\exists n_0 \quad \forall \varepsilon > 0 \quad \forall n > n_0 \quad (|a_n - 1| < \varepsilon)$   
 (c)  $\exists \varepsilon > 0 \quad \exists n_0 \quad \forall n > n_0 \quad (|a_n - 1| < \varepsilon)$   
 (d)  $\exists \varepsilon > 0 \quad \exists n_0 \quad \forall n > n_0 \quad (|a_n - 1| > \varepsilon)$   
 (e)  $\forall \varepsilon > 0 \quad \exists n_0 \quad \forall n \leq n_0 \quad (|a_n - 1| < \varepsilon)$   
 (f)  $\forall \varepsilon > 0 \quad \exists n_0 \quad \forall n \leq n_0 \quad (|a_n - 1| > \varepsilon)$

Adjunk meg olyan  $N$  küszöbindexet, ahonnan kezdve az egyik sorozat nagyobb, mint a másik!

**2.4.**  $a_n = 10n^2 + 25$                        $b_n = n^3$

**2.5.**  $a_n = 4n^5 - 3n^2 - 7$                        $b_n = 10n + 30$



$$\mathbf{2.6.} \quad a_n = 3^n - n^2 \qquad b_n = 2^n + n$$

$$\mathbf{2.7.} \quad a_n = 2^n + 3^n \qquad b_n = 4^n$$

$$\mathbf{2.8.} \quad a_n = 2^n \qquad b_n = n!$$

$$\mathbf{2.9.} \quad a_n = n! \qquad b_n = n^n$$

$$\mathbf{2.10.} \quad a_n = \sqrt{n+1} - \sqrt{n} \qquad b_n = \frac{1}{n}$$

$$\mathbf{2.11.} \quad a_n = 2^n \qquad b_n = n^3$$

$$\mathbf{2.12.} \quad a_n = 0,999^n \qquad b_n = \frac{1}{n^2}$$

$$\mathbf{2.13.} \quad a_n = 10^n \qquad b_n = n!$$

Keressünk olyan  $N$  számot, hogy  $\forall n > N$  esetén teljesüljön, hogy

$$\mathbf{2.14.} \quad 1,01^n > 1000;$$

$$\mathbf{2.15.} \quad 0,9^n < \frac{1}{100};$$

$$\mathbf{2.16.} \quad \sqrt[3]{2} < 1,01.$$

$$\mathbf{2.17.} \quad \sqrt[3]{n} < 1,0001.$$

$$\mathbf{2.18.} \quad n^2 > 6n + 15$$

$$\mathbf{2.19.} \quad n^3 > 6n^2 + 15n + 37$$

$$\mathbf{2.20.} \quad n^3 - 4n + 2 > 6n^2 - 15n + 37$$

$$\mathbf{2.21.} \quad n^5 - 4n^2 + 2 > 6n^3 - 15n + 37$$

Mutassuk meg, hogy van olyan  $n_0$  szám, amire igaz, hogy minden  $n > n_0$  esetén

$$\mathbf{2.22.} \quad \sqrt{n+1} - \sqrt{n} < 0,01 \qquad \mathbf{2.23.} \quad \sqrt{n+3} - \sqrt{n} < 0,01$$

$$\mathbf{2.24.} \quad \sqrt{n+5} - \sqrt{n+1} < 0,01 \qquad \mathbf{2.25.} \quad \sqrt{n^2+5} - n < 0,01$$

Bizonyítsuk be az alábbi egyenlőtlenségeket!

**2.26.**  $\forall n > 10$  esetén  $2^n > n^3$ ; **2.27.**  $\sqrt{n} \leq 1 + \frac{1}{\sqrt{2}} + \dots + \frac{1}{\sqrt{n}} < 2\sqrt{n}$ .

**2.28.** Melyik állításból következik a másik?

**P:** Az  $(a_n)$  sorozatban van legnagyobb és legkisebb tag.

**Q:** Az  $(a_n)$  sorozat korlátos.

**2.29.** Igaz-e, hogy  $b$  pontosan akkor határértéke az  $(a_n)$  sorozatnak, ha

- (a) bármely  $\varepsilon > 0$ -ra az  $a_n$  sorozatnak végtelen sok tagja van  $\varepsilon$ -nál közelebb  $b$ -hez?
- (b) bármely  $\varepsilon > 0$ -ra az  $a_n$  sorozatnak csak véges sok tagja van  $b$ -től legalább  $\varepsilon$  távolságban?
- (c) van olyan  $\varepsilon > 0$ , amelyre az  $a_n$  sorozatnak végtelen sok tagja van  $\varepsilon$ -nál közelebb  $b$ -hez?
- (d) van olyan  $\varepsilon > 0$ , amelyre az  $a_n$  sorozatnak végtelen sok tagja van  $b$ -től legalább  $\varepsilon$  távolságban?

**Mit mondhatunk a  $(-a_n)$  sorozat határértékéről, ha**

**2.30.**  $\lim_{n \rightarrow \infty} a_n = a$  ( $a \in \mathbb{R}$ );

**2.31.**  $\lim_{n \rightarrow \infty} a_n = \infty$ ;

**2.32.**  $\lim_{n \rightarrow \infty} a_n = -\infty$ ?

**2.33.**  $a_n$  oszcillálva divergens?

**2.34.** Mi az alábbi két állítás logikai kapcsolata?

**P:**  $\lim_{n \rightarrow \infty} a_n = \infty$

**Q:**  $(a_n)$  alulról korlátos, de felülről nem korlátos.

**Határozzuk meg a következő sorozatok határértékét, és adjunk meg egy  $\varepsilon$ -tól függő küszöbindexet:**

2.35.  $\frac{(-1)^n}{n}$

2.36.  $\frac{1}{\sqrt{n}}$

2.37.  $\frac{1 + \sqrt{n}}{n}$

2.38.  $\frac{n}{n+1}$

2.39.  $\frac{5n-1}{7n+2}$

2.40.  $\frac{2n^6 + 3n^5}{7n^6 - 2}$

2.41.  $\frac{n + \frac{1}{n}}{n+1}$

2.42.  $\sqrt{n+1} - \sqrt{n}$

2.43.  $\sqrt{n^2+1} - n$

2.44.  $\frac{1}{n - \sqrt{n}}$

2.45.  $\frac{1 + \dots + n}{n^2}$

2.46.  $n \left( \sqrt{1 + \frac{1}{n}} - 1 \right)$

2.47.  $\sqrt{n^2+1} + \sqrt{n^2-1} - 2n$

2.48.  $\sqrt[3]{n+2} - \sqrt[3]{n-2}$

2.49. Konvergensek-e vagy divergensek-e a következő sorozatok? Határozzuk meg a határértékeket, ha vannak!

$$(a) a_n = \begin{cases} 3, & \text{ha } n \text{ páros} \\ 4, & \text{ha } n \text{ páratlan} \end{cases} \quad (b) a_n = \begin{cases} 3, & \text{ha } n \leq 100 \\ 4, & \text{ha } n > 100 \end{cases}$$

$$(c) a_n = \begin{cases} 3n, & \text{ha } n \text{ páros} \\ 4n^2, & \text{ha } n \text{ páratlan} \end{cases} \quad (d) a_n = \begin{cases} n, & \text{ha } n \text{ páros} \\ 0, & \text{ha } n \text{ páratlan} \end{cases}$$

2.50. Bizonyítsuk be, hogy az  $\frac{1}{n}$  sorozat nem tart 7-hez!

2.51. Bizonyítsuk be, hogy a  $(-1)^n \frac{1}{n}$  sorozat nem tart 7-hez!

2.52. Bizonyítsuk be, hogy a  $(-1)^n$  sorozat nem tart 7-hez!

2.53. Bizonyítsuk be, hogy a  $(-1)^n$  sorozat divergens!

2.54. Bizonyítsuk be, hogy konvergens sorozatnak mindig van legkisebb vagy legnagyobb tagja.

**2.55.** Adjunk példát arra, hogy  $a_n - b_n \rightarrow 0$  de  $\frac{a_n}{b_n} \not\rightarrow 1$

**2.56.** Bizonyítsuk be, hogy ha  $(a_n)$  konvergens, akkor  $(|a_n|)$  is. Igaz-e az állítás megfordítása?

**2.57.** Abból, hogy  $a_n^2 \rightarrow a^2$  következik-e, hogy  $a_n \rightarrow a$ ?  
És abból, hogy  $a_n^3 \rightarrow a^3$  következik-e, hogy  $a_n \rightarrow a$ ?

**2.58.** Bizonyítsuk be, hogy ha  $a_n \rightarrow a > 0$ , akkor  $\sqrt{a_n} \rightarrow \sqrt{a}$ .

---

**Melyik állításból következik, hogy  $a_n \rightarrow \infty$ ?**

**2.59.**  $\forall K$  esetén a  $(K, \infty)$  intervallumon kívül az  $a_n$  sorozatnak csak véges sok tagja van.

**2.60.**  $\forall K$  esetén a  $(K, \infty)$  intervallumban az  $a_n$  sorozatnak végtelen sok tagja van.

---

**2.61.** Tegyük fel, hogy  $\lim_{n \rightarrow \infty} a_n = \infty$ . Melyik állítás igaz erre a sorozatra?  
Melyik állításból következik, hogy  $\lim_{n \rightarrow \infty} a_n = \infty$ ?

- (a) Az  $a_n$  sorozatnak nincs legnagyobb tagja.
- (b) Az  $a_n$  sorozatnak van legkisebb tagja.
- (c) A  $(3, \infty)$  intervallumon kívül az  $a_n$  sorozatnak csak véges sok tagja van.
- (d)  $\forall K$  esetén a  $(K, \infty)$  intervallumon kívül az  $a_n$  sorozatnak csak véges sok tagja van.
- (e) A  $(3, \infty)$  intervallumban az  $a_n$  sorozatnak végtelen sok tagja van.
- (f)  $\forall K$  esetén a  $(K, \infty)$  intervallumban az  $a_n$  sorozatnak végtelen sok tagja van.

**2.62.** Igaz-e, hogy ha egy sorozatnak van (véges vagy végtelen) határértéke, akkor a sorozat alulról vagy felülről korlátos?

**2.63.** Mi az **A** és a **B** állítások logikai kapcsolata, azaz melyikből következik a másik?

**P:** Az  $(a_n)$  sorozat szigorúan monoton nő.

**Q:** Az  $(a_n)$  sorozat tart a végtelenhez.

Lehet-e az  $a_n$  sorozat határértéke  $-\infty$ ,  $\infty$  vagy egy valós szám, ha

**2.64.** a sorozatnak végtelen sok 3-nál nagyobb tagja van?

**2.65.** a sorozatnak végtelen sok 3-nál kisebb tagja van?

**2.66.** a sorozatnak van legnagyobb tagja?

**2.67.** a sorozatnak van legkisebb tagja?

**2.68.** a sorozatnak nincs legkisebb tagja?

**2.69.** a sorozatnak nincs legnagyobb tagja?

**2.70.** Van-e olyan oszcillálva divergens sorozat, amelyik

(a) korlátos

(b) nem korlátos?

**2.71.** Egy sorozatnak végtelen sok pozitív és végtelen sok negatív tagja van. Lehet-e a sorozat konvergens?

A következő, végtelenbe tartó sorozatokhoz keressünk küszöbindexet:

**2.72.**  $n - \sqrt{n}$

**2.73.**  $\frac{1 + 2 + \dots + n}{n}$

**2.74.**  $\frac{\sqrt{1} + \sqrt{2} + \dots + \sqrt{n}}{n}$

**2.75.**  $\frac{n^2 - 10n}{10n + 100}$

**2.76.**  $\frac{2^n}{n}$

**2.77.**  $\frac{n!}{2^n}$

**2.78.** Tetszőleges  $a$  valós szám esetén határozzuk meg  $\frac{n^2 + 1}{n + 1} - an$  határértékét.

**2.79.** Tetszőleges  $a$  valós szám esetén határozzuk meg  $\sqrt{n^2 - n + 1} - an$  határértékét.

- 2.80.** Tetszőleges  $a, b$  valós számok esetén határozzuk meg  $\sqrt{(n+a)(n+b)}$ - $n$  határértékét.
- 2.81.** Bizonyítsuk be, hogy ha  $a_{n+1} - a_n \rightarrow c > 0$ , akkor  $a_n \rightarrow \infty$ .
- 2.82.** Bizonyítsuk be, hogy ha  $a_n > 0$ ,  $\frac{a_{n+1}}{a_n} \rightarrow c > 1$ , akkor  $a_n \rightarrow \infty$ .
- 2.83.** Melyek azok az  $x$  valós számok, amelyekre a tizedestört jegyeiből álló sorozat oszcillálva divergens?

## 2.2. A határérték tulajdonságai

**Meg lehet-e mondani az adott egyenlőtlenségek alapján, hogy a  $b_n$  sorozatnak van-e határértéke, illetve meg lehet-e határozni a határértékét, ha van? Ha igen, határozzuk meg  $b_n$  határértékét!**

- 2.84.**  $\frac{1}{n} < b_n < \frac{2}{n}$
- 2.85.**  $-\frac{1}{n} \leq b_n \leq \frac{1}{\sqrt{n}}$
- 2.86.**  $\frac{1}{n} < b_n < \sqrt{n}$
- 2.87.**  $n \leq b_n$
- 2.88.**  $b_n < -1,01^n$
- 2.89.**  $b_n < n^2$

- 2.90.** Bizonyítsuk be, hogy ha az  $(a_n)$  sorozatnak nincs végtelenhez tartó részsorozata, akkor a sorozat felülről korlátos.
- 2.91.** Bizonyítsuk be, hogy ha  $(a_{2n}), (a_{2n+1}), (a_{3n})$  konvergensek, akkor  $(a_n)$  is az.
- 2.92.** Lehetséges-e, hogy az  $(a_n)$  sorozatnak nincs konvergens részsorozata, de  $(|a_n|)$  konvergens?

**Legyen  $a$  egy valós szám és  $a_n \rightarrow a$ . Bizonyítsuk be, hogy**

**2.93.** ha  $a > 1$ , akkor  $a_n^n \rightarrow \infty$ . **2.94.** ha  $|a| < 1$ , akkor  $a_n^n \rightarrow 0$ .

**2.95.** ha  $a > 0$ , akkor  $\sqrt[n]{a_n} \rightarrow 1$ . **2.96.** ha  $a < -1$ , akkor  $a_n^n$  divergens.

**2.97.** Bizonyítsuk be, hogy ha  $(a_n + b_n)$  konvergens és  $(b_n)$  divergens, akkor  $(a_n)$  divergens.

**2.98.** Igaz-e, hogy ha  $(a_n \cdot b_n)$  konvergens és  $(b_n)$  divergens, akkor  $(a_n)$  is divergens?

**2.99.** Igaz-e, hogy ha  $(a_n/b_n)$  konvergens és  $(b_n)$  divergens, akkor  $(a_n)$  is divergens?

**2.100.** Bizonyítsuk be, hogy ha  $\lim \frac{a_n - 1}{a_n + 1} = 0$ , akkor  $(a_n)$  konvergens és  $\lim a_n = 1$ .

**2.101.** Tegyük fel, hogy az  $(a_n)$  sorozatra teljesül, hogy  $\frac{a_n - 5}{a_n + 3} \rightarrow \frac{5}{13}$ . Bizonyítsuk be, hogy  $a_n \rightarrow 10$ .

**2.102.** Tegyük fel, hogy az  $(a_n)$  sorozatra  $\sqrt[n]{a_n} \rightarrow 0,3$ . Bizonyítandó, hogy  $a_n \rightarrow 0$ .

**2.103.** Legyen  $p(x)$  egy polinom. Bizonyítsuk be, hogy  $\frac{p(n+1)}{p(n)} \rightarrow 1$ .

**Tegyük fel, hogy az  $a_n$  sorozatnak van határértéke. Mi a következő állítások logikai kapcsolata?**

**2.104.** P: Minden elég nagy  $n$ -re  $\frac{1}{n} < a_n$  Q:  $\lim_{n \rightarrow \infty} a_n > 0$

**2.105.** P: Minden elég nagy  $n$ -re  $\frac{1}{n} \leq a_n$  Q:  $\lim_{n \rightarrow \infty} a_n \geq 0$

**2.106.** P: Minden elég nagy  $n$ -re  $\frac{1}{n} < a_n$  Q:  $\lim_{n \rightarrow \infty} a_n \geq 0$

**2.107.** P: Minden elég nagy  $n$ -re  $\frac{1}{n} \leq a_n$  Q:  $\lim_{n \rightarrow \infty} a_n > 0$

**Tegyük fel, hogy az  $a_n$  és  $b_n$  sorozatnak van határértéke. Mi a következő állítások logikai kapcsolata?**

**2.108.** P: Minden elég nagy  $n$ -re  $a_n < b_n$  Q:  $\lim_{n \rightarrow \infty} a_n < \lim_{n \rightarrow \infty} b_n$

**2.109.** P: Minden elég nagy  $n$ -re  $a_n \leq b_n$  Q:  $\lim_{n \rightarrow \infty} a_n \leq \lim_{n \rightarrow \infty} b_n$

**Melyik állításokból következik, hogy az  $a_n$  sorozatnak van határértéke? Melyik állításokból következik, hogy  $a_n$  konvergens? Melyik állításokból következik, hogy  $a_n$  divergens?**

**2.110.**  $b_n$  konvergens és  $a_n > b_n$  minden elég nagy  $n$ -re.

**2.111.**  $\lim_{n \rightarrow \infty} b_n = \infty$  és  $a_n > b_n$  minden elég nagy  $n$ -re.

**2.112.**  $\lim_{n \rightarrow \infty} b_n = -\infty$  és  $a_n > b_n$  minden elég nagy  $n$ -re.

**2.113.**  $b_n$  és  $c_n$  konvergens és  $b_n \leq a_n \leq c_n$  minden elég nagy  $n$ -re.

**2.114.**  $\lim_{n \rightarrow \infty} b_n = \infty$  és  $a_n < b_n$  minden elég nagy  $n$ -re.

**Korlátosak-e felülről a következő sorozatok? Határozzuk meg a határértékeket, ha vannak!**

**2.115.**  $\frac{1 + 2 + \dots + n}{n}$

**2.116.**  $\frac{1 + 2 + \dots + n}{n^2}$

**2.117.**  $\frac{\sqrt{1} + \sqrt{2} + \dots + \sqrt{n}}{n}$

**2.118.**  $\frac{\sqrt{1} + \sqrt{2} + \dots + \sqrt{n}}{n^2}$

**Konvergensek-e vagy divergensek-e a következő sorozatok? Határozzuk meg a határértékeket, ha vannak!**

**2.119.**  $\sqrt[n]{2^n + 3^n}$

**2.120.**  $\sqrt[n]{3^n - 2^n}$

**2.121.**  $\sqrt[n]{7 + (-1)^n}$

**2.122.**  $\sqrt[n]{2^n - n}$

**2.123.**  $\sqrt[n]{2^n + n^2}$

**2.124.**  $\sqrt[n]{2^n - n^2}$



- |               |   |               |  |
|---------------|---|---------------|--|
| <b>2.125.</b> | $\frac{1 - 2 + 3 - \dots - 2n}{\sqrt{n^2 + 1}}$         | <b>2.126.</b> | $\left(\frac{n-1}{3n}\right)^n$                        |
| <b>2.127.</b> | $\frac{n^3 - n^2 + 1}{\sqrt{n^6 + 1} + 100n^2 + n + 1}$ | <b>2.128.</b> | $\sqrt[n]{\frac{n^3 - n^2 + 1}{n^6 + 100n^2 + n + 1}}$ |
| <b>2.129.</b> | $\sqrt[n]{\frac{2^n + n^2 + 1}{3^n + n^3 + 1}}$         | <b>2.130.</b> | $\frac{n^2 + (-1)^n}{3n^2 + 1}$                        |
| <b>2.131.</b> | $\left(1 + \frac{1}{n}\right)^{n^2}$                    | <b>2.132.</b> | $\frac{n^2 - 1}{n^2 + 1}$                              |
| <b>2.133.</b> | $\frac{1}{n^3}$   | <b>2.134.</b> | $\frac{5n - 1}{7n + 2}$                                |
| <b>2.135.</b> | $\frac{n}{n + 1}$                                       | <b>2.136.</b> | $\frac{2n^6 + 3n^5}{7n^6 - 2}$                         |
| <b>2.137.</b> | $\frac{n + 1/n}{n + 1}$                                 | <b>2.138.</b> | $\frac{7n^5 + 2}{5n - 1}$                              |
| <b>2.139.</b> | $\frac{3n^7 + 4}{-5n^2 + 2}$                            | <b>2.140.</b> | $\frac{2^n + 3^n}{4^n + (-7)^n}$                       |
| <b>2.141.</b> | $\frac{3n^{5/3} + n\sqrt{n}}{n^{1/4} + \sqrt[5]{n}}$    | <b>2.142.</b> | $\frac{7n - 2n^3}{3n^3 + 18n^2 - 9}$                   |

---

### Mi a következő állítaspárok logikai kapcsolata?

- |               |  |  |
|---------------|--|--|
| <b>2.143.</b> | <b>P:</b> $a_n$ konvergens és $b_n$ konvergens | <b>Q:</b> $a_n + b_n$ konvergens                                 |
| <b>2.144.</b> | <b>P:</b> $a_n + b_n \rightarrow \infty$       | <b>Q:</b> $a_n \rightarrow \infty$ és $b_n \rightarrow \infty$   |
| <b>2.145.</b> | <b>P:</b> $a_n + b_n \rightarrow \infty$       | <b>Q:</b> $a_n \rightarrow \infty$ vagy $b_n \rightarrow \infty$ |
| <b>2.146.</b> | <b>P:</b> $a_n \cdot b_n \rightarrow 0$        | <b>Q:</b> $a_n \rightarrow 0$ vagy $b_n \rightarrow 0$           |
| <b>2.147.</b> | <b>P:</b> $a_n$ és $b_n$ korlátos              | <b>Q:</b> $a_n + b_n$ korlátos                                   |
| <b>2.148.</b> | <b>P:</b> $a_n$ és $b_n$ korlátos              | <b>Q:</b> $a_n \cdot b_n$ korlátos                               |
-

**2.149.** Mutassunk példákat az  $a_n + b_n$  sorozat lehetséges viselkedésére, ha

$$\lim_{n \rightarrow \infty} a_n = \infty \text{ és } \lim_{n \rightarrow \infty} b_n = -\infty.$$

**2.150.** Mutassunk példákat az  $a_n \cdot b_n$  sorozat lehetséges viselkedésére, ha

$$\lim_{n \rightarrow \infty} a_n = 0 \text{ és } \lim_{n \rightarrow \infty} b_n = \infty.$$

**2.151.** Mutassunk példákat az  $\frac{a_n}{b_n}$  sorozat lehetséges viselkedésére, ha

$$\lim_{n \rightarrow \infty} a_n = 0 \text{ és } \lim_{n \rightarrow \infty} b_n = 0.$$

**2.152.** Mutassunk példákat az  $\frac{a_n}{b_n}$  sorozat lehetséges viselkedésére, ha

$$\lim_{n \rightarrow \infty} a_n = \infty \text{ és } \lim_{n \rightarrow \infty} b_n = \infty.$$

**2.153.** Tegyük fel, hogy a  $b_n$  sorozat egyetlen tagja sem 0. Mi a **P** és a **Q** állítások logikai kapcsolata, azaz melyikből következik a másik?

$$\mathbf{P}: b_n \rightarrow \infty \qquad \mathbf{Q}: \frac{1}{b_n} \rightarrow 0$$

**2.154.** Mi a **P** és a **Q** állítások logikai kapcsolata, azaz melyikből következik a másik?

$$\mathbf{P}: \frac{a_n}{b_n} \rightarrow 1 \qquad \mathbf{Q}: a_n - b_n \rightarrow 0$$

**2.155.** Tegyük fel, hogy  $a_n \rightarrow \infty$  és  $b_n \rightarrow \infty$ . Mi a **P** és a **Q** állítások logikai kapcsolata, azaz melyikből következik a másik?

$$\mathbf{P}: \frac{a_n}{b_n} \rightarrow 1 \qquad \mathbf{Q}: a_n - b_n \rightarrow 0$$

**2.156.** Tegyük fel, hogy  $a_n \rightarrow 0$  és  $b_n \rightarrow 0$ . Mi a **P** és a **Q** állítások logikai kapcsolata, azaz melyikből következik a másik?

$$\mathbf{P}: \frac{a_n}{b_n} \rightarrow 1 \qquad \mathbf{Q}: a_n - b_n \rightarrow 0$$

### 2.3. Monoton sorozatok

Legyen  $(a_n)$  és  $(b_n)$  két monoton sorozat. Mit tudunk mondani a monotonitás szempontjából a következő sorozatokról? Milyen további feltételek mellett lesznek monotonok?

2.157.  $(a_n + b_n)$

2.158.  $(a_n - b_n)$

2.159.  $(a_n \cdot b_n)$

2.160.  $\left(\frac{a_n}{b_n}\right)$

2.161. Legyen  $a_1 = 1$ , és  $n \geq 1$  esetén  $a_{n+1} = \sqrt{2a_n}$ . Bizonyítsuk be, hogy az  $a_n$  sorozat monoton növő!

2.162. Legyen  $a_1 = \frac{1}{2}$ , és  $n \geq 1$  esetén  $a_{n+1} = 1 - \sqrt{1 - a_n}$ . Bizonyítsuk be, hogy a sorozat minden tagja pozitív, továbbá, hogy a sorozat monoton csökkenő!

2.163. Legyen  $a_1 = 0,9$ , és  $n \geq 1$  esetén  $a_{n+1} = a_n - a_n^2$ . Bizonyítsuk be, hogy a sorozat minden tagja pozitív, továbbá, hogy a sorozat monoton csökkenő! Mutassuk meg, hogy van olyan  $n \in \mathbb{N}^+$ , amelyre igaz, hogy  $a_n < 10^{-6}$ , és adjunk példát ilyen  $n$  számra!

2.164. Legyen  $a_1 > 0$ , és minden  $n \in \mathbb{N}^+$  esetén  $\frac{a_{n+1}}{a_n} > 1,1$ . Mutassuk meg, hogy van olyan  $n \in \mathbb{N}^+$ , amelyre igaz, hogy  $a_n > 10^6$ , és adjunk példát ilyen  $n$  számra!

**Mi a következő állítások logikai kapcsolata, azaz melyikből következik a másik?**

2.165. P: Az  $a_n$  sorozat monoton nő.  
Q: Az  $a_n$  sorozat végtelenhez tart.

2.166. P: Az  $a_n$  sorozat monoton csökken.  
Q: Az  $a_n$  sorozat mínusz végtelenhez tart.

2.167. Tegyük fel, hogy az  $(a_n)$  sorozat tagjai  $n > 1$  esetén kielégítik a  $a_n \leq \frac{a_{n-1} + a_{n+1}}{2}$  egyenlőtlenséget. Bizonyítsuk be, hogy az  $(a_n)$  sorozat nem lehet oszcillálva divergens.

2.168. Legyen  $a_1 = a > 0$  tetszőleges,  $a_{n+1} = \frac{1}{2} \left( a_n + \frac{a}{a_n} \right)$ . Mutassuk meg, hogy  $a_n \rightarrow \sqrt{a}$ .

**Határozzuk meg a következő rekurzív sorozatok határértékét, ha van! A rekurzív képletekben  $n \geq 1$ .**

**2.169.**  $a_1 = 2, a_{n+1} = \frac{2a_n}{1 + a_n^2}$       **2.170.**  $a_1 = 1, 5, a_{n+1} = -a_n + 1$

**2.171.**  $a_1 = 3, a_{n+1} = \frac{a_n + \frac{5}{a_n}}{2}$       **2.172.**  $a_1 = 6, a_{n+1} = \frac{a_n + \frac{5}{a_n}}{2}$

**2.173.**  $a_1 = 0, a_{n+1} = \sqrt{2 + a_n}$       **2.174.**  $a_1 = 0, a_{n+1} = \frac{1}{2 - a_n}$

**2.175.**  $a_1 = 0, a_{n+1} = \frac{1}{4 - a_n}$       **2.176.**  $a_1 = 0, a_{n+1} = \frac{1}{1 + a_n}$

**2.177.**  $a_1 = 1, a_{n+1} = a_n + \frac{1}{a_n}$       **2.178.**  $a_1 = 0, 9, a_{n+1} = a_n - a_n^2$

**2.179.**  $a_1 = 1, a_{n+1} = \sqrt{2a_n}$       **2.180.**  $a_1 = 1, a_{n+1} = a_n + \frac{1}{a_n^3 + 1}$

**Korlátosak-e, illetve monotonok-e a következő sorozatok? Határozzuk meg a határértékeket, ha vannak!**

**2.181.**  $\left(1 + \frac{1}{n}\right)^n$       **2.182.**  $\left(1 + \frac{1}{n}\right)^{n+1}$

**2.183.**  $\left(1 - \frac{1}{n}\right)^n$       **2.184.**  $\left(1 + \frac{1}{2n}\right)^n$

## 2.4. A Bolzano-Weierstrass-tétel és a Cauchy-kritérium

**2.185.** Írjuk fel a Cauchy-kritérium tagadását egy  $(a_n)$  sorozatra! Mi a felírt állítás logikai kapcsolata az „ $(a_n)$  divergens” állítással?

**Mi a következő állítaspárok logikai kapcsolata?**

**2.186.** **P:**  $a_{2n}$  és  $a_{2n+1}$  konvergens      **Q:**  $a_n$  konvergens

**2.187.** P:  $a_{2n}$ ,  $a_{2n+1}$  és  $a_{3n}$  konvergens Q:  $a_n$  konvergens

**2.188.** P:  $a_{2n} \rightarrow 5$  Q:  $a_n \rightarrow 5$

**Következik-e valamelyik állításból, hogy a sorozat konvergens?**

**2.189.**  $a_{n+1} - a_n \rightarrow 0$ , ha  $n \rightarrow \infty$

**2.190.**  $|a_n - a_m| < \frac{1}{n+m}$  minden  $n, m$ -re

**Döntsük el az alábbi sorozatokról, hogy van-e konvergens részsorozatuk!**

**2.191.**  $(-1)^n$

**2.192.**  $\frac{1}{n}$

**2.193.**  $\sqrt{n}$

**2.194.**  $(-1)^n \frac{1}{n}$

**2.195.** Bizonyítsuk be, hogy ha az  $(a_n)$  sorozatnak nincs konvergens részsorozata, akkor  $|a_n| \rightarrow \infty$ .

**2.196.** Bizonyítsuk be, hogy ha  $(a_n)$  korlátos és minden konvergens részsorozata  $a$ -hoz tart, akkor  $a_n \rightarrow a$ .

**2.197.** Bizonyítsuk be, hogy ha az  $(a_n)$  sorozatnak nincs két, különböző határértékhez tartó részsorozata, akkor a sorozatnak van határértéke.

**2.198.** Bizonyítsuk be, hogy ha  $|a_{n+1} - a_n| \leq 2^{-n}$  minden  $n$ -re, akkor az  $(a_n)$  sorozat konvergens.

**2.199.** Tegyük fel, hogy  $a_{n+1} - a_n \rightarrow 0$ . Következik-e ebből, hogy  $a_{2n} - a_n \rightarrow 0$ ?

## 2.5. Sorozatok nagyságrendje

**2.200.** Bizonyítsuk be, hogy  $n! \prec n^n$  igaz!

**2.201.** Tegyük az alábbi sorozatokat nagyságrend szerint sorba!

$$(n^7), \quad (n^2 + 2^n), \quad (100\sqrt{n}), \quad \left(\frac{n!}{10}\right)$$

**2.202.** Illesszük be az  $n \prec n^2 \prec n^3 \prec \dots \prec 2^n \prec 3^n \prec \dots \prec n! \prec n^n$  sorba a megfelelő helyre  $\sqrt{n}$ -et,  $\sqrt[3]{n}$ -et, ...,  $\sqrt[n]{n}$ -et!

**2.203.** Keressük meg az alábbi sorozatok között az összes aszimptotikusan egyenlő párt!

$$(n!), \quad (n^n), \quad (n! + n^n), \quad (\sqrt{n}), \quad (\sqrt[n]{n}), \quad (\sqrt{n+1}), \quad (\sqrt[n]{2})$$

**Konvergensek-e vagy divergensek-e a következő sorozatok? Határozzuk meg a határértékeket, ha vannak!**

**2.204.**  $\frac{2^n}{3^n}$

**2.205.**  $\frac{3^n}{2^n}$

**2.206.**  $(1, 1)^n$

**2.207.**  $\left(-\frac{4}{5}\right)^n$

**2.208.**  $\frac{1}{(1, 2)^n + 1}$

**2.209.**  $\frac{n+2}{\sqrt{n} - 3^{-n}}$

**2.210.**  $\frac{3 \cdot 01^n}{2^n + 3^n}$

**2.211.**  $\frac{3^n}{(-3)^n}$

**2.212.**  $\frac{3^n - \sqrt{n} + n^{10}}{2^n - \sqrt[n]{n} + n!}$

**2.213.**  $\frac{n^{100}}{100^n}$

**2.214.**  $\frac{10^n}{n!}$

**2.215.**  $0,99^n n^2$

**2.216.**  $\frac{n! - 3^n}{n^{10} - 2^n}$

**2.217.**  $\frac{1,01^n}{n^2}$

**2.218.**  $\frac{n^3}{1,2^n}$

**2.219.**  $\sqrt[n]{2^n + n - 1}$

**2.220.**  $\frac{3^{n+6} + n^2}{2^{n+3}}$

**2.221.**  $\frac{4^n + 5^n}{6^n + (-7)^n}$

## 2.6. Vegyes feladatok

**2.222.** Legyen  $a_n = \frac{1}{n} + \frac{1}{n} + \dots + \frac{1}{n}$  ( $n$  tagú az összeg). Mivel a tagokat alkotó sorozatok 0-hoz tartanak, ezért az  $a_n$  sorozat tart 0-hoz. Másrészt minden  $n$ -re  $a_n = n \cdot \frac{1}{n} = 1$ , ezért  $a_n \rightarrow 1$ . Melyik következtetés a hibás, és mi a hiba benne?

**2.223.** Tudjuk, hogy  $1 + \frac{1}{n} \rightarrow 1$ , továbbá  $1^n = 1$ , ezért  $\left(1 + \frac{1}{n}\right)^n \rightarrow 1$ .

Másrészt a Bernoulli-egyenlőtlenség felhasználásával bizonyíthatjuk, hogy  $\left(1 + \frac{1}{n}\right)^n \geq 2$ , tehát  $\left(1 + \frac{1}{n}\right)^n$  határértéke nem lehet kisebb 2-nél.

Melyik következtetés a hibás, és mi a hiba benne?

**2.224.** Tegyük fel, hogy  $\sqrt[n]{a_n} \rightarrow 2$ . Mit mondhatunk a  $\lim_{n \rightarrow \infty} a_n$  határértékről?

**2.225.** Tegyük fel, hogy  $\sqrt[n]{a_n} \rightarrow \frac{1}{2}$ . Mit mondhatunk a  $\lim_{n \rightarrow \infty} a_n$  határértékről?

**2.226.** Tegyük fel, hogy  $\sqrt[n]{a_n} \rightarrow 1$ . Mit mondhatunk a  $\lim_{n \rightarrow \infty} a_n$  határértékről?

**2.227.** Tegyük fel, hogy  $a_n \rightarrow 2$ . Mit mondhatunk a  $\lim_{n \rightarrow \infty} a_n^n$  határértékről?

**2.228.** Tegyük fel, hogy  $a_n \rightarrow \frac{1}{2}$ . Mit mondhatunk a  $\lim_{n \rightarrow \infty} a_n^n$  határértékről?

**2.229.** Tegyük fel, hogy  $a_n \rightarrow 1$ . Mit mondhatunk a  $\lim_{n \rightarrow \infty} a_n^n$  határértékről?

**Mutassunk példát olyan  $a_n$  sorozatra, amelyre igaz, hogy**

$$\lim_{n \rightarrow \infty} \frac{a_{n+1}}{a_n} = 1, \text{ és}$$

**2.230.**  $\lim_{n \rightarrow \infty} a_n = 1$

**2.231.**  $\lim_{n \rightarrow \infty} a_n = \infty$

**2.232.**  $\lim_{n \rightarrow \infty} a_n = 0$

**2.233.**  $\lim_{n \rightarrow \infty} a_n = 7$

## 3. fejezet

# Valós függvények határértéke, folytonossága

**3.1. Jensen-egyenlőtlenség.** Az  $f$  függvény akkor és csak akkor konvex az  $(a, b)$  intervallumon, ha bárhogyan megadva véges sok  $x_1, x_2, \dots, x_n \in (a, b)$  számot és  $t_1, t_2, \dots, t_n \geq 0$  súlyokat úgy, hogy  $\sum_{i=1}^n t_i = 1$

$$f\left(\sum_{i=1}^n t_i x_i\right) \leq \sum_{i=1}^n t_i f(x_i),$$

más szóval a súlyozott középben vett függvényérték kisebb vagy egyenlő a függvényértékek súlyozott közepénél.

**3.2. Határérték és egyenlőtlenségek kapcsolata.**

— Ha  $a$  egy környezetében  $f(x) \leq g(x)$ ,  $f$ -nek és  $g$ -nek létezik a határértéke  $a$ -ban, akkor

$$\lim_{x \rightarrow a} f(x) \leq \lim_{x \rightarrow a} g(x).$$

— Ha  $f$ -nek és  $g$ -nek létezik a határértéke  $a$ -ban és

$$\lim_{x \rightarrow a} f(x) < \lim_{x \rightarrow a} g(x),$$

akkor  $a$  egy környezetében  $f(x) < g(x)$ .

— **Rendőr-szabály.** Ha  $f(x) \leq g(x) \leq h(x)$   $a$  egy környezetében,  $f$ -nek és  $h$ -nak létezik a határértéke  $a$ -ban,

$$\lim_{x \rightarrow a} f(x) = \lim_{x \rightarrow a} h(x),$$

akkor a  $g$  függvénynek is létezik a határértéke  $a$ -ban és

$$\lim_{x \rightarrow a} f(x) = \lim_{x \rightarrow a} g(x) = \lim_{x \rightarrow a} h(x).$$



- **„0-szor korlátos az 0”.** Ha  $\lim_{x \rightarrow a} f(x) = 0$  és  $g(x)$  korlátos, akkor

$$\lim_{x \rightarrow a} f(x)g(x) = 0.$$

### 3.3. Folytonosság és határérték kapcsolata.

- Az  $f$  függvény akkor és csak akkor folytonos az  $a$  pontban, ha az  $a$  pontban létezik a függvény határértéke és az megegyezik az  $f(a)$  helyettesítési értékkel.
- Az  $f$  függvény akkor és csak akkor folytonos jobbról az  $a$  pontban, ha az  $a$  pontban létezik a függvény jobboldali határértéke és az megegyezik az  $f(a)$  helyettesítési értékkel.
- Az  $f$  függvény akkor és csak akkor folytonos balról az  $a$  pontban, ha az  $a$  pontban létezik a függvény baloldali határértéke és az megegyezik az  $f(a)$  helyettesítési értékkel.

### 3.4. Korlátos zárt intervallumon folytonos függvények.

- **Weierstrass tétele:** Korlátos zárt intervallumon folytonos függvénynek van legnagyobb értéke, azaz maximuma, és van legkisebb értéke, azaz minimuma.
- **Bolzano tétele:** Ha az  $f(x)$  függvény folytonos az  $[a, b]$  korlátos zárt intervallumon, akkor a függvény  $f(a)$  és  $f(b)$  között minden értéket felvesz.
- **Inverz függvény folytonossága:** Korlátos zárt intervallumon folytonos és invertálható függvény értékészlete egy korlátos zárt intervallum, és ezen a függvény inverze folytonos.

### 3.5. Egyenletes folytonosság.

- **Heine-Borel tétele:** Korlátos zárt intervallumon folytonos függvény egyenletesen folytonos.
- Az  $f(x)$  függvény akkor és csak akkor egyenletesen folytonos a **korlátos nyílt**  $(a, b)$  intervallumon, ha folytonos  $(a, b)$ -n és léteznek és végesek a  $\lim_{x \rightarrow a^+} f(x)$ ,  $\lim_{x \rightarrow b^-} f(x)$  határértékek.
- Ha  $f(x)$  folytonos az  $[a, \infty)$ -en, deriválható  $(a, \infty)$ -en és a derivált korlátos, akkor  $f(x)$  egyenletesen folytonos  $[a, \infty)$ -en.

### 3.1. Függvények globális tulajdonságai

**3.1.** Jelölje  $[x]$  az  $x$  szám egészrészét, azaz azt a legnagyobb egész számot, amelyik nem nagyobb, mint  $x$ . Ábrázoljuk a következő függvényeket!

(a)  $[x]$  (b)  $[-x]$

(c)  $[x + 0,5]$  (d)  $[2x]$

**3.2.** Jelölje  $\{x\}$  az  $x$  szám törtrészét:  $\{x\} = x - [x]$ . Ábrázoljuk a következő függvényeket!

(a)  $\{x\}$  (b)  $\{-x\}$

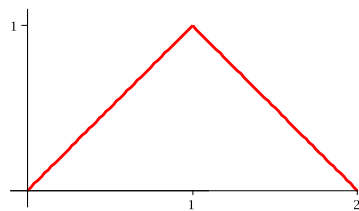
(c)  $\{x + 0,5\}$  (d)  $\{2x\}$

**3.3.** Függvényt ad-e meg a következő képlet?

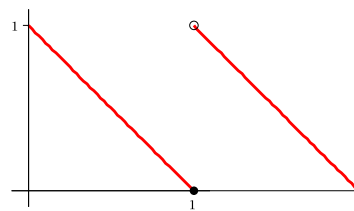
$$D(x) = \begin{cases} 1 & \text{ha } x \in \mathbb{Q} \\ 0 & \text{ha } x \notin \mathbb{Q} \end{cases}$$

**3.4.** Adjuk meg a következő függvények képleteit a grafikonjaik alapján!

(a)



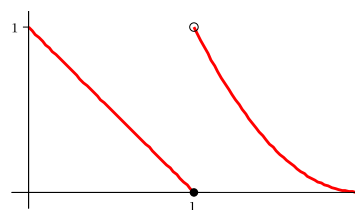
(b)



(c)



(d)



Határozzuk meg a valós számok legbővebb részhalmazát, ahol a következő függvények értelmezve lehetnek!

3.5.  $\log_2 x^2$

3.6.  $\sqrt{x^2 - 16}$

3.7.  $\sqrt{\sin x}$

3.8.  $\frac{\log_2(-x)}{\sqrt{-x}}$

3.9. Párosítsuk a függvényeket és a függvénygrafikonokat!

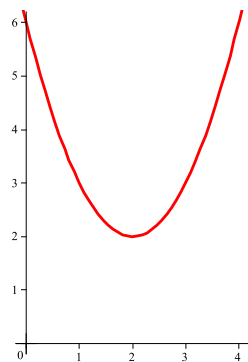
(a)  $(x - 1)^2 - 4$

(b)  $(x - 2)^2 + 2$

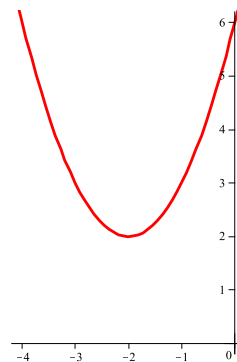
(c)  $(x + 2)^2 + 2$

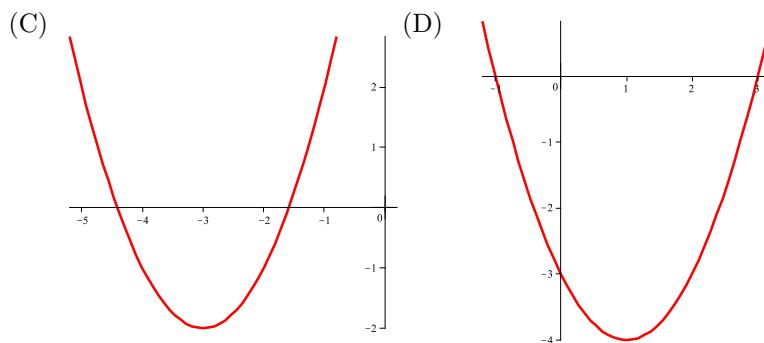
(d)  $(x + 3)^2 - 2$

(A)

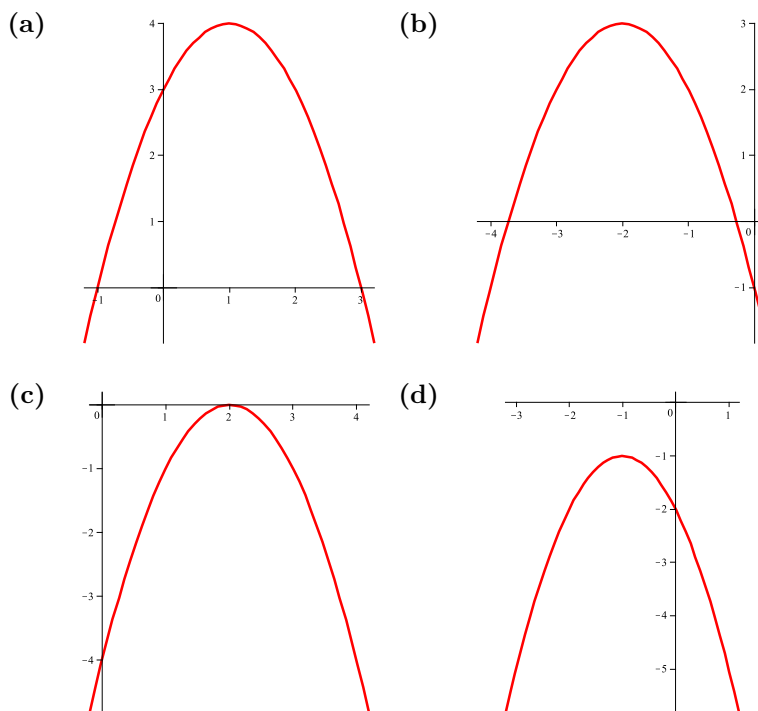


(B)



**3.10.**

Az alábbi ábrákon az  $y = -x^2$  függvény négy eltoltjának a grafikonját ábráztuk. Írjuk fel a grafikonoknak megfelelő képleteket!

**3.11.**

Vannak-e egyenlők a következő függvények között?

(a)  $f_1(x) = x$

(b)  $f_2(x) = \sqrt{x^2}$

(c)  $f_3(x) = (\sqrt{x})^2$

(d)  $f_4(x) = \ln e^x$

(e)  $f_5(x) = e^{\ln x}$

(f)  $f_6(x) = (\sqrt{-x})^2$

**3.12.** Határozzuk meg a függvényértékeket, ha  $f(x) = x + 5$  és  $g(x) = x^2 - 3$ .

(a)  $f(g(0))$

(b)  $g(f(0))$

(c)  $f(g(x))$

(d)  $g(f(x))$

(e)  $f(f(-5))$

(f)  $g(g(2))$

(g)  $f(f(x))$

(h)  $g(g(x))$

**3.13.** Határozzuk meg a függvényértékeket, ha  $f(x) = x - 1$  és  $g(x) = \frac{1}{x + 1}$ .

(a)  $f(g(1/2))$

(b)  $g(f(1/2))$

(c)  $f(g(x))$

(d)  $g(f(x))$

(e)  $f(f(2))$

(f)  $g(g(2))$

(g)  $f(f(x))$

(h)  $g(g(x))$

**Melyik függvény páros, melyik páratlan, melyik se nem páros, se nem páratlan, melyik páros is, és páratlan is?**

**3.14.**  $x^3$

**3.15.**  $x^4$

**3.16.**  $\sin x$

**3.17.**  $\cos x$

**3.18.**  $2 + \sin x$

**3.19.**  $2 + \cos x$

**3.20.**  $3$

**3.21.**  $(x + 1)^2$

**3.22.** 0

**3.23.**  $|x^3|$

**3.24.**  $[x]$

**3.25.**  $\{x\}$

**Tegyük fel, hogy  $f$  és  $g$  mindenütt értelmezett valós függvények. Döntsük el az alábbi következtetésekről, hogy igazak-e. A válaszokat indokoljuk!**

**3.26.** Ha  $f$  páratlan, akkor  $f(0) = 0$ .

**3.27.** Ha  $f(0) = 0$ , akkor  $f$  páratlan.

**3.28.** Ha  $f$  páros, akkor  $f(-5) = f(5)$ .

**3.29.** Ha  $f(-5) = f(5)$ , akkor  $f$  páros.

**3.30.** Ha  $f$  és  $g$  páros, akkor  $fg$  páros.

**3.31.** Ha  $f(-5) \neq -f(5)$ , akkor  $f$  nem páratlan.

**3.32.** Ha  $f$  és  $g$  páratlan, akkor  $fg$  páros.

**3.33.** Ha  $f$  és  $g$  páratlan, akkor  $fg$  páratlan.

**3.34.** Ábrázoljuk a következő függvények grafikonját! Színezzük be pirossal az  $x$ -tengelyen azokat az intervallumokat, ahol a függvény monoton csökken. Van-e olyan függvény ezek között, amelyik az egész értelmezési tartományán monoton csökken?

(a)  $\sin x$

(b)  $\cos x$

(c)  $x^2$

(d)  $\frac{1}{x}$

(e)  $|x|$

(f)  $|x^2 - 2|$

(g)  $\operatorname{tg} x$ (h)  $\operatorname{ctg} x$ 

- 3.35.** Van-e olyan függvény, amely  $\mathbb{R}$ -en monoton nő és monoton csökken? Ha van, akkor adjuk meg az összes ilyen függvényt!

**Válaszoljunk az alábbi kérdésekre. A válaszokat indokoljuk!**

- 3.36.** Lehet-e két szigorúan monoton növény függvény összege szigorúan monoton csökkenő?

- 3.37.** Lehet-e két szigorúan monoton növény függvény szorzata szigorúan monoton csökkenő?

- 3.38.** Igaz-e, hogy két szigorúan monoton csökkenő függvény összege szigorúan monoton csökkenő?

- 3.39.** Igaz-e, hogy két szigorúan monoton csökkenő függvény szorzata szigorúan monoton csökkenő?

**Jelölje  $D(f)$  az  $f$  függvény értelmezési tartományát,  $R(f)$  pedig az értékészletét. Van-e olyan monoton növény függvény, amelyekre igaz, hogy**

- 3.40.**  $D(f) = (0, 1)$  és  $R(f) = [0, 1]$

- 3.41.**  $D(f) = [0, 1]$  és  $R(f) = (0, 1)$

- 3.42.** Írjuk fel logikai jelekkel, hogy egy függvény korlátos!

**Adjunk meg alsó, illetve felső korlátokat a következő függvényekhez, ha vannak! Melyik függvény korlátos?**

- 3.43.**  $x^2$

- 3.44.**  $\sin x$

- 3.45.**  $\{x\}$

- 3.46.**  $\frac{[x]}{x}$

3.47.  $\sin^2 x$

3.48.  $2^{-x}$

3.49.  $\log_2 x$

3.50.  $\frac{1}{1+x^2}$

Tegyük fel, hogy az  $f$  függvény mindenütt értelmezett. Írjuk fel logikai jelekkel és adjunk példát arra, hogy az  $f$  függvénynek

3.51. 3-ban maximuma van!

3.52. a maximuma 3.

3.53. van maximuma!

3.54. nincs minimuma!

Mi a következő állítások logikai kapcsolata, azaz melyikből következik a másik?

3.55. P: Az  $f$  függvénynek van maximuma.  
Q: Az  $f$  függvény felülről korlátos.

3.56. P: Az  $f$  függvénynek nincs minimuma.  
Q: Az  $f$  függvény alulról nem korlátos.

Adjuk meg a következő függvények  $m$  minimumát és  $M$  maximumát a megadott intervallumokon, ha vannak!

3.57.  $x^2$   $(-\infty, \infty)$  3.58.  $|x|$   $[-1, 3]$

3.59.  $x^3$   $[-1, 1)$  3.60.  $\sin x$   $(-\pi, \pi)$

3.61.  $\cos x$   $(-\pi, \pi)$  3.62.  $[x]$   $[-1, 1]$

3.63.  $[x]$   $(-1, 1)$  3.64.  $\{x\}$   $[-1, 1]$

Mutassunk példát olyan mindenütt értelmezett függvényre, amelyik

3.65. sem alulról, sem felülről nem korlátos.



**3.66.** korlátos, de nincs sem minimuma, sem maximuma.

**Mutassunk példát olyan függvényre, amelyeknek az értelmezési tartománya a  $[-1, 1]$  intervallum, és a függvény**

**3.67.** sem alulról, sem felülről nem korlátos.

**3.68.** korlátos, de nincs sem minimuma, sem maximuma.

**Van-e olyan függvény, amelyik**

**3.69.** szigorúan monoton csökken  $(-\infty, 0)$ -ban, szigorúan monoton nő  $(0, \infty)$ -en, és 0-ban nincs minimuma?

**3.70.** monoton csökken  $(-\infty, 0]$ -ban, monoton nő  $[0, \infty)$ -en, és 0-ban nincs minimuma?

**3.71.** nem korlátos  $[0, 1]$ -en?

**3.72.** korlátos  $[0, 1]$ -en, de nincs sem maximuma, sem minimuma  $[0, 1]$ -en?

**3.73.** pozitív  $\mathbb{R}$ -en, de nincs minimuma?

**Adjuk meg a következő függvények legkisebb pozitív periódusát!**

**3.74.**  $\sin x$

**3.75.**  $\sin(2x)$

**3.76.**  $\sin \frac{x}{2}$

**3.77.**  $\operatorname{tg} x$

**3.78.**  $\sin x + \operatorname{tg} x$

**3.79.**  $\sin 2x + \operatorname{tg} \frac{x}{2}$

**3.80.** Bizonyítsuk be, hogy ha egy függvény  $p$  szerint periodikus, akkor  $p$  minden pozitív egész többszöröse szerint is periodikus!

**3.81.** Periodikus-e az  $f(x) = 3$  függvény? Ha igen, akkor adjuk meg az összes olyan számot, amely szerint periodikus!

**3.82.** Van-e minden nem konstans periodikus függvénynek legkisebb pozitív periódusa?

**3.83.** Periodikus-e a

$$D(x) = \begin{cases} 1 & \text{ha } x \in \mathbb{Q} \\ 0 & \text{ha } x \notin \mathbb{Q} \end{cases}$$

**Dirichlet-függvény?** Ha igen, akkor adjuk meg az összes olyan számot, amely szerint periodikus!

**Döntsük el, hogy konvex-e illetve konkáv-e az adott függvény  $(0, \infty)$ -ben!**

**3.84.**  $x$

**3.85.**  $x^2$

**3.86.**  $\sqrt{x}$

**3.87.**  $-x^3$

**3.88.**  $\sin x$

**3.89.**  $[x]$

**3.90.** Legyen  $f$  valós függvény a  $(0, 10)$  intervallumon. Mi a **P** és **Q** állítások logikai kapcsolata, azaz melyikből következik a másik?

**P:**  $f$  konvex az  $(3, 8)$  intervallumon.

**Q:**  $f$  konvex az  $(5, 7)$  intervallumon.

**3.91.** Adjuk meg az összes olyan függvényt, amelyik egyszerre konvex és konkáv az  $(1, 2)$  intervallumon! Van-e ezek közt szigorúan konvex vagy szigorúan konkáv?

**3.92.** Tegyük fel, hogy  $f$  értelmezve van a  $(-1, 3)$  intervallumban. Mi a következő állítások logikai kapcsolata, azaz melyikből következik a másik?

**P:**  $f(1) \leq \frac{f(0) + f(2)}{2}$

**Q:**  $f$  konvex a  $(-1, 3)$  intervallumban.

**3.93.** Döntsük el, hogy konvex-e illetve konkáv-e a  $\sqrt{x}$  függvény a  $[0, \infty)$  intervallumban! Írjuk fel a megfelelő Jensen-egyenlőtlenséget.  $t_1 = \dots = t_n = \frac{1}{n}$  súlyokkal!

**3.94.** Vázoljuk az  $x^{10}$  függvény grafikonját, és az  $[1, 2]$  intervallum feletti húrját! Írjuk fel az  $x^{10}$  függvény  $[1, 2]$  intervallum feletti húrjának az egyenletét! Bizonyítsuk be, hogy  $x^{10} \leq 1023x - 1022$  minden  $x \in [1, 2]$ -re!

**3.95.** Írjuk fel az  $\sin x$  függvény  $\left[\frac{\pi}{6}, \frac{\pi}{2}\right]$  feletti húrjának egyenletét!  
Melyik nagyobb:  $\frac{\sin(\pi/6) + \sin(\pi/2)}{2}$  vagy  $\sin \frac{\pi/6 + \pi/2}{2}$ ?

**3.96.** Írjuk fel az  $\log_7 x$  függvény  $[2, 4]$  feletti húrjának egyenletét!  
Melyik nagyobb:  $\log_7 3$  vagy  $\frac{\log_7 2 + \log_7 4}{2}$ ?

### Rajzoljunk függvénygrafikont úgy, hogy a függvény legyen

**3.97.** monoton növekvő  $[1, 2]$ -ben és monoton csökkenő  $[3, 4]$ -ben

**3.98.** monoton növekvő  $[1, 4]$ -ben és monoton csökkenő  $[3, 5]$ -ben

**3.99.** konvex  $[1, 4]$ -ben és konkáv  $[4, 5]$ -ben

**3.100.** konvex  $[1, 4]$ -ben és konkáv  $[2, 5]$ -ben

**3.101.** szigorúan monoton növekvő  $[1, 2]$ -ben, szigorúan monoton csökkenő  $[2, 4]$ -ben, és legyen maximuma 2-ben

**3.102.** szigorúan monoton növekvő  $[1, 2]$ -ben, szigorúan monoton csökkenő  $[2, 4]$ -ben, és legyen minimuma 2-ben

### Rajzoljunk függvénygrafikont úgy, hogy a függvényre teljesüljön, hogy

**3.103.**  $\forall x_1 \in [1, 2] \wedge \forall x_2 \in [1, 2] \quad f(x_1) = f(x_2)$

**3.104.**  $\forall x_1 \in [1, 2] \wedge \forall x_2 \in [1, 2] \quad (x_1 > x_2 \implies f(x_1) > f(x_2))$

**3.105.**  $\forall x_1 \in [1, 2] \wedge \forall x_2 \in [1, 2] \quad (x_1 > x_2 \implies f(x_1) \leq f(x_2))$

**3.106.**  $\forall x_1 \in [1, 2] \wedge \forall x_2 \in [1, 2] \quad \exists c \in [x_1, x_2] \quad f(c) = \frac{f(x_1) + f(x_2)}{2}$

**3.107.**  $\exists x_1 \in [1, 2] \wedge \exists x_2 \in [1, 2] \quad \forall x \in [1, 2] \quad f(x) \neq \frac{f(x_1) + f(x_2)}{2}$

**3.108.**  $\forall x_1 \in [1, 2] \wedge \forall x_2 \in [1, 2] \quad f\left(\frac{x_1 + x_2}{2}\right) > \frac{f(x_1) + f(x_2)}{2}$

**3.109.**  $\forall x_1 \in [1, 2] \wedge \forall x_2 \in [1, 2] \quad f\left(\frac{1}{4}x_1 + \frac{3}{4}x_2\right) < \frac{1}{4}f(x_1) + \frac{3}{4}f(x_2)$

**3.110.**  $\exists x_0 \in [1, 2] \quad \forall x \in [1, 2] \quad f(x) \leq f(x_0)$

**3.111.**  $(\forall x_1 \in [1, 2] \exists x_2 \in [1, 2] f(x_1) < f(x_2)) \wedge (\forall x_1 \in [1, 2] \exists x_2 \in [1, 2] f(x_1) > f(x_2))$

**3.112.** Melyik függvény egy-egy értelmű ráképezés (bijekció) az egész szám-egyenesen?

(a)  $x$

(b)  $x^2$

(c)  $x^3$

(d)  $\sqrt{x}$

(e)  $\sqrt[3]{x}$

(f)  $\sqrt{|x|}$

(g)  $\frac{1}{x}$

(h)  $f(x) = \begin{cases} 1/x & \text{ha } x \neq 0 \\ 0 & \text{ha } x = 0 \end{cases}$

**3.113.** Adjuk meg a következő függvények inverzeit! Rajzoljuk fel egy koordinátarendszerbe az inverz párokat!

(a)  $x^3$

(b)  $x^3 + 1$

(c)  $2^x$

(d)  $2^x - 1$

Adjunk meg olyan intervallumokat, ahol a függvény egy-egy értelmű (injekció)! Határozzuk meg a függvények inverzét ezeken az intervallumokon!

**3.114.**  $x^2$

**3.115.**  $\sqrt{x}$

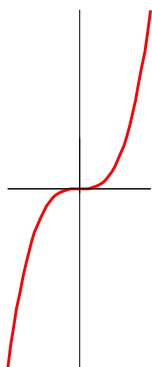
**3.116.**  $\sin x$ **3.117.**  $2^x$ **3.118.** Keressünk olyan függvényeket, amelyek egyenlők az inverzükkel!**3.119.** Mi a következő két állítás logikai kapcsolata, azaz melyikből következik a másik?**P:** Az  $f$  függvény szigorúan monoton.**Q:** Az  $f$  függvénynek van inverze.**3.120.** Mutassuk meg, hogy az

$$f(x) = \begin{cases} x, & \text{ha } x \in \mathbb{Q} \\ -x & \text{ha } x \notin \mathbb{Q} \end{cases}$$

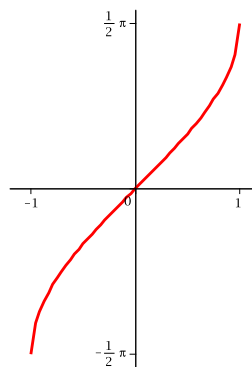
függvény semmilyen intervallumon sem monoton, de a függvénynek van inverze!

**3.121.** Keressünk inverz párokat a grafikonok között!

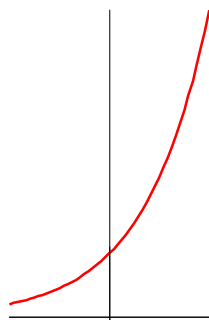
(a)



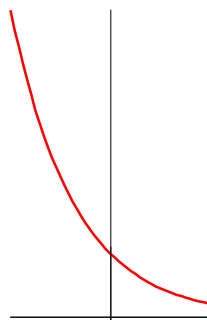
(b)



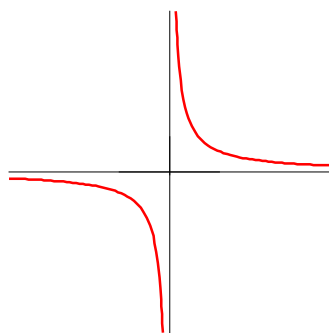
(c)



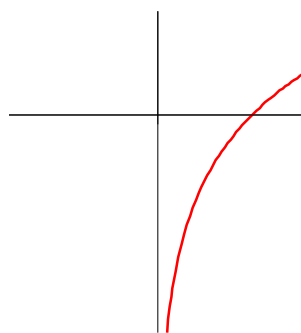
(d)



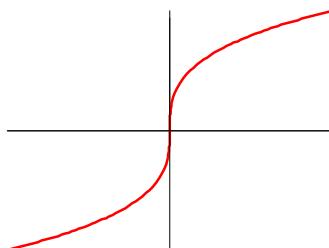
(e)



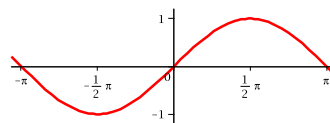
(f)



(g)



(h)

**3.122.**

Van-e olyan mindenütt értelmezett függvény, amelynek a grafikonja szimmetrikus az

(a)  $x$  tengelyre?(b)  $y$  tengelyre?**3.123.**

Mi a következő állítások logikai kapcsolata, azaz melyikből következik a másik?



**P:** Az  $f$  függvény monoton nő  $\mathbb{R}$ -en.

**Q:** Minden  $x \in \mathbb{R}$  esetén  $f(x+1) \geq f(x)$

**3.124.** Bizonyítsuk be, hogy az  $f(x) = \frac{1}{x} + \frac{1}{x-1}$  függvény a  $(0, 1)$  intervallumban minden értéket pontosan egyszer vesz fel!

**3.125.** Bizonyítsuk be, hogy ha minden  $x \in \mathbb{R}$  esetén  $f(x+1) = \frac{1+f(x)}{1-f(x)}$ , akkor az  $f$  függvény periodikus!

**3.126.** Tegyük fel, hogy az  $f$  függvény páros. Lehet-e  $f$ -nek inverze?

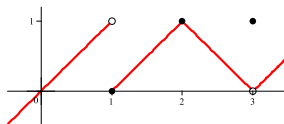
**3.127.** Tegyük fel, hogy az  $f$  függvény páratlan. Következik-e ebből, hogy  $f$ -nek van inverze?

**3.128.** Ábrázoljuk a következő  $f$  és  $g$  függvényeket! Határozzuk meg a  $g \circ f$  függvényt! Igaz-e, hogy a  $g$  függvény az  $f$  függvény inverze?

$$f(x) = \begin{cases} x, & \text{ha } x < 0 \\ 1/2 & \text{ha } x = 0 \\ x+1 & \text{ha } x > 0 \end{cases} \quad \text{és} \quad g(x) = \begin{cases} x, & \text{ha } x < 0 \\ 0 & \text{ha } 0 \leq x < 1 \\ x-1 & \text{ha } x \geq 1 \end{cases}$$

## 3.2. A határérték

**3.129.** Az ábrán látható  $f(x)$  függvény grafikonja alapján döntsük el, hogy léteznek-e az alábbi határértékek, és ha igen, adjuk meg ezt az értéket!

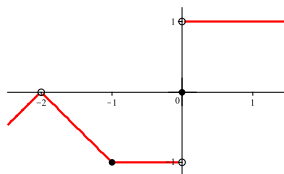


(a)  $\lim_{x \rightarrow 1} f(x)$

(b)  $\lim_{x \rightarrow 2} f(x)$

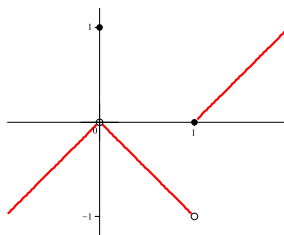
(c)  $\lim_{x \rightarrow 3} f(x)$

**3.130.** Az ábrán látható  $f(x)$  függvény grafikonja alapján döntjük el, hogy léteznek-e az alábbi határértékek, és ha igen, adjuk meg ezt az értéket!



- (a)  $\lim_{x \rightarrow -2} f(x)$       (b)  $\lim_{x \rightarrow -1} f(x)$       (c)  $\lim_{x \rightarrow 0} f(x)$

**3.131.** Mely állítások igazak az ábrán látható  $f(x)$  függvény grafikonja alapján?

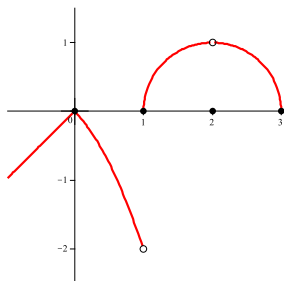


- (a)  $\lim_{x \rightarrow 0} f(x)$  létezik.    (b)  $\lim_{x \rightarrow 0} f(x) = 0$       (c)  $\lim_{x \rightarrow 0} f(x) = 1$   
 (d)  $\lim_{x \rightarrow 1} f(x) = 1$       (e)  $\lim_{x \rightarrow 1} f(x) = 0$

(f) Az  $f(x)$  függvénynek a  $(-1, 1)$  nyílt intervallum minden pontjában van határértéke.

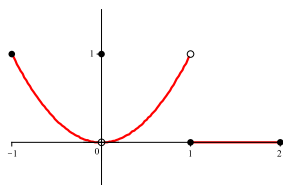
**3.132.** Mely állítások igazak az ábrán látható  $f(x)$  függvény grafikonja alapján?





- (a)  $\lim_{x \rightarrow 2} f(x)$  nem létezik.
- (b)  $\lim_{x \rightarrow 2} f(x) = 2$
- (c)  $\lim_{x \rightarrow 1} f(x)$  nem létezik.
- (d) Az  $f(x)$  függvénynek a  $(-1, 1)$  nyílt intervallum minden pontjában van határértéke.
- (e) Az  $f(x)$  függvénynek az  $(1, 3)$  nyílt intervallum minden pontjában van határértéke.

**3.133.** Mely állítások igazak az ábrán látható  $f(x)$  függvény grafikonja alapján?



- (a)  $\lim_{x \rightarrow 1^+} f(x) = 1$
- (b)  $\lim_{x \rightarrow 0^-} f(x) = 0$
- (c)  $\lim_{x \rightarrow 0^-} f(x) = 1$
- (d)  $\lim_{x \rightarrow 0^-} f(x) = \lim_{x \rightarrow 0^+} f(x)$
- (e)  $\lim_{x \rightarrow 0} f(x)$  létezik.
- (f)  $\lim_{x \rightarrow 0} f(x) = 0$
- (g)  $\lim_{x \rightarrow 0} f(x) = 1$
- (h)  $\lim_{x \rightarrow 1} f(x) = 1$

- (i)  $\lim_{x \rightarrow 1} f(x) = 0$                       (j)  $\lim_{x \rightarrow 2^-} f(x) = 2$   
 (k)  $\lim_{x \rightarrow 1^-} f(x)$  nem létezik.            (l)  $\lim_{x \rightarrow 2^+} f(x) = 0$

**3.134.** Írjuk fel logikai jelekkel az alábbi állításokat! Adjunk példát olyan függvényekre, amelyekre igazak az állítások!

- (a)  $\lim_{x \rightarrow 3} f(x) = 4$     (b)  $\lim_{x \rightarrow 4} f(x) = \infty$     (c)  $\lim_{x \rightarrow 5} f(x) = -\infty$   
 (d)  $\lim_{x \rightarrow 3^+} f(x) = 4$     (e)  $\lim_{x \rightarrow 3^+} f(x) = \infty$     (f)  $\lim_{x \rightarrow 3^+} f(x) = -\infty$   
 (g)  $\lim_{x \rightarrow 3^-} f(x) = 4$     (h)  $\lim_{x \rightarrow 3^-} f(x) = \infty$     (i)  $\lim_{x \rightarrow 3^-} f(x) = -\infty$   
 (j)  $\lim_{x \rightarrow \infty} f(x) = 4$     (k)  $\lim_{x \rightarrow \infty} f(x) = \infty$     (l)  $\lim_{x \rightarrow \infty} f(x) = -\infty$   
 (m)  $\lim_{x \rightarrow -\infty} f(x) = 4$     (n)  $\lim_{x \rightarrow -\infty} f(x) = \infty$     (o)  $\lim_{x \rightarrow -\infty} f(x) = -\infty$

**3.135.** Keressük meg azokat a függvényeket, amelyeknek létezik és ugyanaz a határértéke 3-ban!

- (a) 5    (b) 6  
 (c)  $\begin{cases} 5, & \text{ha } x \neq 3 \\ 6, & \text{ha } x = 3 \end{cases}$                       (d)  $\begin{cases} 5, & \text{ha } x \in \mathbb{Q} \\ 6, & \text{ha } x \notin \mathbb{Q} \end{cases}$   
 (e)  $\frac{1}{(x-3)^2}$                                       (f)  $\frac{1}{\cos(x-3)}$   
 (g)  $\frac{1}{\sin(x-3)}$                                       (h)  $\frac{1}{x-3}$

**Határozzuk meg az alábbi határértékeket behelyettesítéssel!**

**3.136.**  $\lim_{x \rightarrow 3} 5x$

**3.137.**  $\lim_{x \rightarrow 0} 5x$

**3.138.**  $\lim_{x \rightarrow 1/7} (7x - 3)$

**3.139.**  $\lim_{x \rightarrow 1} \frac{-2}{7x - 3}$

3.140.  $\lim_{x \rightarrow -1} 3x^2(7x - 3)$

3.141.  $\lim_{x \rightarrow 1} \frac{3x^2}{7x - 3}$

3.142.  $\lim_{x \rightarrow \pi/2} x \sin x$

3.143.  $\lim_{x \rightarrow \pi} \frac{\cos x}{1 - \pi}$

Határozzuk meg az alábbi határértékeket a törtek egyszerűsítése után!

3.144.  $\lim_{x \rightarrow 5} \frac{x - 5}{x^2 - 25}$

3.145.  $\lim_{x \rightarrow -3} \frac{x + 3}{x^2 + 4x + 3}$

3.146.  $\lim_{x \rightarrow -5} \frac{x^2 + 3x - 10}{x + 5}$

3.147.  $\lim_{x \rightarrow 2} \frac{x^2 - 7x + 10}{x - 2}$

3.148.  $\lim_{t \rightarrow 1} \frac{t^2 + t - 2}{t^2 - 1}$

3.149.  $\lim_{t \rightarrow -1} \frac{t^2 + 3t + 2}{t^2 - t - 2}$

3.150.  $\lim_{x \rightarrow 9} \frac{\sqrt{x} - 3}{x - 9}$

3.151.  $\lim_{x \rightarrow 4} \frac{4x - x^2}{2 - \sqrt{x}}$

3.152.  $\lim_{x \rightarrow 1} \frac{x - 1}{\sqrt{x + 3} - 2}$

3.153.  $\lim_{x \rightarrow -1} \frac{\sqrt{x^2 + 8} - 3}{x + 1}$

3.154.  $\lim_{x \rightarrow 1} \frac{\sqrt{x} - 1}{x - 1}$

3.155.  $\lim_{x \rightarrow 0} \frac{\sqrt{1 + x^2} - 1}{x^2}$

Határozzuk meg a következő trigonometrikus határértékeket!

3.156.  $\lim_{x \rightarrow 0} \frac{\sin x}{x}$

3.157.  $\lim_{x \rightarrow 0} \frac{1 - \cos x}{x^2}$

3.158.  $\lim_{\vartheta \rightarrow 0} \frac{\sin(\vartheta\sqrt{2})}{\vartheta\sqrt{2}}$

3.159.  $\lim_{t \rightarrow 0} \frac{\sin kt}{t}$

3.160.  $\lim_{y \rightarrow 0} \frac{\sin 3y}{4y}$

3.161.  $\lim_{h \rightarrow 0} \frac{h}{\sin 3h}$

3.162.  $\lim_{x \rightarrow 0} \frac{\operatorname{tg} 2x}{x}$

3.163.  $\lim_{t \rightarrow 0} \frac{2t}{\operatorname{tg} t}$

Határozzuk meg a következő határértékeket, ha léteznek!

$$\text{3.164.} \quad \lim_{x \rightarrow 0} x \sin x$$

$$\text{3.165.} \quad \lim_{x \rightarrow 0} \sin \frac{1}{x}$$

Határozzuk meg a következő függvények határértékeit a  $\infty$ -ben és a  $-\infty$ -ben!

$$\text{3.166.} \quad \frac{2x + 3}{5x + 7}$$

$$\text{3.167.} \quad \frac{2x^2 - 7x + 1}{\sqrt{x^2 + 1} + 1}$$

$$\text{3.168.} \quad \frac{2x^3 - 7x}{x^3 + 1}$$

$$\text{3.169.} \quad \frac{2x + 3}{5x^2 + 7}$$

$$\text{3.170.} \quad \frac{2x^2 - 7x}{x^3 + 1}$$

$$\text{3.171.} \quad \frac{x^{-1} + x^{-5}}{x^{-2} - x^{-3}}$$

Határozzuk meg az alábbi függvények (véges illetve végtelen) határértékét a  $\infty$ -ben!

$$\text{3.172.} \quad \frac{2\sqrt{x} + x^{-1}}{3x - 7}$$

$$\text{3.173.} \quad \frac{2 + \sqrt{x}}{2 - \sqrt{x}}$$

$$\text{3.174.} \quad \frac{2x^3 - 7x}{x^2 + 1}$$

$$\text{3.175.} \quad \frac{2x^2 - 7x + 1}{\sqrt{x^3 + 3} + 7}$$

$$\text{3.176.} \quad \frac{2x^2 - 7x + 1}{\sqrt{x^4 + 1} + 1}$$

$$\text{3.177.} \quad \frac{\sqrt[3]{2x^2 + 1} + 1}{\sqrt{x^2 + 1} + 1}$$

Számítsuk ki a következő féloldali határértékeket! Mindegyik feladtnál számoljuk ki a másik oldali határértéket is!

$$\text{3.178.} \quad \lim_{x \rightarrow 0^+} \frac{1}{3x}$$

$$\text{3.179.} \quad \lim_{x \rightarrow 0^-} \frac{5}{2x}$$

$$\text{3.180.} \quad \lim_{x \rightarrow 2^-} \frac{3}{x - 2}$$

$$\text{3.181.} \quad \lim_{x \rightarrow 3^+} \frac{1}{x - 3}$$

$$\text{3.182.} \quad \lim_{x \rightarrow -8^+} \frac{2x}{x + 8}$$

$$\text{3.183.} \quad \lim_{x \rightarrow -5^-} \frac{3x}{2x + 10}$$

$$\text{3.184.} \quad \lim_{x \rightarrow 7^+} \frac{4}{(x - 7)^2}$$

$$\text{3.185.} \quad \lim_{x \rightarrow 0^-} \frac{-1}{x^2(x + 1)}$$

Számítsuk ki a következő határértékeket!

$$\mathbf{3.186.} \quad \lim_{x \rightarrow \infty} \frac{\sin x}{x}$$

$$\mathbf{3.187.} \quad \lim_{x \rightarrow \infty} \frac{e^x}{x}$$

$$\mathbf{3.188.} \quad \lim_{x \rightarrow \infty} \frac{\ln x}{x}$$

$$\mathbf{3.189.} \quad \lim_{x \rightarrow \infty} \frac{x^2}{e^x}$$

Legyen  $k$  egy rögzített pozitív egész szám. Számítsuk ki a következő határértékeket:

$$\mathbf{3.190.} \quad \lim_{x \rightarrow \infty} \frac{x^k}{e^x}$$

$$\mathbf{3.191.} \quad \lim_{x \rightarrow \infty} \frac{\ln x}{\sqrt[k]{x}}$$

Van-e határértéke 0-ban a következő függvényeknek? Van-e félol-dali határértékük ugyanitt?

$$\mathbf{3.192.} \quad [x]$$

$$\mathbf{3.193.} \quad \{x\}$$

$$\mathbf{3.194.} \quad \begin{cases} 1, & \text{ha } x \in \mathbb{Q} \\ 0, & \text{ha } x \notin \mathbb{Q} \end{cases}$$

$$\mathbf{3.195.} \quad \begin{cases} x, & \text{ha } x \in \mathbb{Q} \\ -x, & \text{ha } x \notin \mathbb{Q} \end{cases}$$

**3.196.** Mutassunk példát olyan mindenütt értelmezett függvényre, amelyiknek pontosan 2 pontban van határértéke!

**3.197.** Van-e olyan mindenütt értelmezett függvény, amelyiknek végtelen sok pontban végtelen a határértéke?

**3.198.** Bizonyítsuk be, hogy ha  $f$  nem konstans, periodikus függvény, akkor  $f$ -nek nincs határértéke végtelenben!

Van-e határértéke végtelenben a következő függvényeknek?

$$\mathbf{3.199.} \quad [x]$$

$$\mathbf{3.200.} \quad \{x\}$$

$$\mathbf{3.201.} \quad \sin x$$

$$\mathbf{3.202.} \quad \operatorname{tg} x$$

Mi a logikai kapcsolata a következő állításoknak, azaz melyikből következik a másik?

**3.203.** P:  $\lim_{x \rightarrow \infty} f(x) = 5$  Q:  $\lim_{x \rightarrow \infty} f^2(x) = 25$

**3.204.** P:  $\lim_{x \rightarrow \infty} f(x) = -5$  Q:  $\lim_{x \rightarrow \infty} |f(x)| = 5$

**3.205.** P:  $\lim_{x \rightarrow \infty} f(x) = \infty$  Q:  $\lim_{x \rightarrow \infty} \frac{1}{f(x)} = 0$

**3.206.** Van-e határértéke az

(a)  $a_n = \sin(n\pi)$  sorozatnak? (b)  $f(x) = \sin x$  függvénynek végtelenben?

(c)  $a_n = \left[ \frac{1}{n} \right]$  sorozatnak? (d)  $f(x) = [x]$  függvénynek 0-ban?

**Mi a logikai kapcsolata a következő állításoknak, azaz melyikből következik a másik?**

**3.207.** P: Az  $f(n)$  sorozat határértéke 5. Q:  $\lim_{x \rightarrow \infty} f(x) = 5$ .

**3.208.** P: Az  $f\left(\frac{1}{n}\right)$  sorozat határértéke 5. Q:  $\lim_{x \rightarrow 0} f(x) = 5$ .

**3.209.** P:  $\lim_{x \rightarrow \infty} (f(x) + g(x)) = \infty$   
Q:  $\lim_{x \rightarrow \infty} f(x)g(x) = \infty$

**3.210.** P:  $\lim_{x \rightarrow \infty} (f(x) + g(x)) = \infty$   
Q:  $\lim_{x \rightarrow \infty} f(x) = \infty$  vagy  $\lim_{x \rightarrow \infty} g(x) = \infty$

**3.211.** P:  $\lim_{x \rightarrow \infty} f(x)g(x) = \infty$   
Q:  $\lim_{x \rightarrow \infty} f(x) = \infty$  vagy  $\lim_{x \rightarrow \infty} g(x) = \infty$

**3.212.** Legyen  $f$  mindenütt értelmezett függvény! Mi a

P:  $\lim_{x \rightarrow \infty} f(x) = 0$  Q: Az  $f(n)$  sorozat határértéke 0

állítások logikai kapcsolata, azaz melyikből következik a másik, ha

- (a)  $f$  tetszőleges?                      (b)  $f$  folytonos?  
 (c)  $f$  monoton?                              (d)  $f$  korlátos?

### 3.3. Folytonos függvények

**3.213.** Írjuk fel logikai jelekkel, hogy az  $f$  függvény folytonos  $\mathbb{3}$ -ban!

**Mi a következő állítások logikai kapcsolata, azaz melyikből következik a másik?**

**3.214.** **P:** Az  $f$  függvénynek van határértéke  $\mathbb{3}$ -ban.  
**Q:** Az  $f$  függvény folytonos  $\mathbb{3}$ -ban.

**3.215.** **P:** Az  $f$  függvénynek nincs határértéke  $\mathbb{3}$ -ban.  
**Q:** Az  $f$  függvény nem folytonos  $\mathbb{3}$ -ban.

**3.216.** Folytonosak-e  $\mathbb{0}$ -ban a következő függvények?

$$(a) D(x) = \begin{cases} 1, & \text{ha } x \in \mathbb{Q} \\ 0, & \text{ha } x \notin \mathbb{Q} \end{cases} \quad (b) f(x) = \begin{cases} x, & \text{ha } x \in \mathbb{Q} \\ -x, & \text{ha } x \notin \mathbb{Q} \end{cases}$$

**3.217.** Mutassunk példát olyan függvényre, amelyik pontosan 2 pontban folytonos!

**3.218.** Az  $f, g : \mathbb{R} \rightarrow \mathbb{R}$  függvények egy pontban eltérnek, mindenhol máshol megegyeznek. Lehet-e mindkét függvény mindenhol folytonos?

**3.219.** Tegyük fel, hogy az  $f, g : \mathbb{R} \rightarrow \mathbb{R}$  függvényeknek minden pontban van véges határértékük és a határértékek meg is egyeznek. Következik-e ebből, hogy  $f = g$  mindenhol? Mi a helyzet akkor, ha  $f$  is,  $g$  is folytonos?

**3.220.** Mi a következő állítások logikai kapcsolata, azaz melyikből következik a másik?

**P:** Az  $f$  és  $g$  függvények folytonosak  $\mathbb{3}$ -ban.  
**Q:** Az  $f + g$  függvény folytonos  $\mathbb{3}$ -ban.

**3.221.** Tegyük fel, hogy  $f$  folytonos,  $g$  pedig nem folytonos  $\mathbb{3}$ -ban. Lehet-e

$$(a) f + g \qquad (b) fg$$

folytonos 3-ban?

**3.222.** Tegyük fel, hogy sem  $f$ , sem  $g$  nem folytonos 3-ban. Következik-e ebből, hogy

$$(a) f + g \qquad (b) fg$$

sem folytonos 3-ban?

**3.223.** Tegyük fel, hogy  $f$  is,  $g$  is folytonos 3-ban. Következik-e ebből, hogy az  $\frac{f}{g}$  függvény is folytonos 3-ban?

### Hol folytonosak a következő függvények?

**3.224.**  $\frac{x^2 - 4}{x + 2}$

**3.225.**  $\frac{x^3 - 1}{x - 1}$

**3.226.**  $\sqrt{x}$

**3.227.**  $\sqrt[3]{x}$

**3.228.** Adjunk példát olyan  $f : \mathbb{R} \rightarrow \mathbb{R}$  függvényre, amelyik sehol nem folytonos, de  $|f|$  mindenütt folytonos!

### Milyen $c$ szám megadása esetén lesznek a következő függvények folytonosak a 0-ban?

**3.229.**  $f(x) = \begin{cases} x^2 + 2 & \text{ha } x \geq 0 \\ mx + c & \text{ha } x < 0 \end{cases}$

**3.230.**  $f(x) = \begin{cases} \frac{\sin x}{x} & \text{ha } x \neq 0 \\ c & \text{ha } x = 0 \end{cases}$

**3.231.**  $f(x) = \begin{cases} x^3 + x + 1 & \text{ha } x > 0 \\ ax^2 + bx + c & \text{ha } x \leq 0 \end{cases}$

**3.232.**  $f(x) = \begin{cases} \sqrt{x+2} & \text{ha } x \geq 0 \\ (x+c)^2 & \text{ha } x < 0 \end{cases}$



**3.233.** Bizonyítsuk be, hogy minden 3-adfokú polinomnak van valós gyöke!

**3.234.** Tegyük fel, hogy az  $f$  pozitív függvény folytonos  $[a, b]$ -ben. Bizonyítsuk be, hogy van olyan  $c \in [a, b]$ , amelyre igaz, hogy

$$(a) f(c) = \frac{f(a) + f(b)}{2} \qquad (b) f(c) = \sqrt{f(a)f(b)}$$

**3.235.** Tegyük fel, hogy  $f$  folytonos  $[a, b]$ -ben, továbbá  $f(a) \geq a$  és  $f(b) \leq b$ . Bizonyítsuk be, hogy van olyan  $c \in [a, b]$ , amire  $f(c) = c$ .

**3.236.** Tegyük fel, hogy  $f$  és  $g$  folytonosak  $[a, b]$ -ben, továbbá  $f(a) \geq g(a)$  és  $f(b) \leq g(b)$ . Bizonyítsuk be, hogy van olyan  $c \in [a, b]$ , amire  $f(c) = g(c)$ .

**3.237.** Tegyük fel, hogy  $f$  és  $g$  folytonosak  $[a, b]$ -n, és minden  $x \in [a, b]$  esetén  $f(x) < g(x)$ . Bizonyítsuk be, hogy van olyan  $m > 0$  szám, hogy minden  $x \in [a, b]$  esetén  $g(x) - f(x) \geq m$ .

**3.238.** Adjunk példát olyan  $f : [0, 1] \rightarrow \mathbb{R}$  függvényre, amely egy pont kivételével folytonos és

- (a) nem korlátos.                      (b) korlátos, de nincs legnagyobb értéke.

---

**Mi a következő állítaspárok logikai kapcsolata, azaz melyikből következik a másik?**

**3.239.** P:  $f$  folytonos  $[1, 2]$ -n    Q:  $f$ -nek van maximuma és minimuma  $[1, 2]$ -n

**3.240.** P:  $f$  folytonos  $(1, 2)$ -n    Q:  $f$ -nek van maximuma és minimuma  $(1, 2)$ -n

**3.241.** P:  $f$  korlátos  $(1, 2)$ -n    Q:  $f$ -nek van maximuma és minimuma  $(1, 2)$ -n

**3.242.** P:  $f$  korlátos  $[1, 2]$ -n    Q:  $f$ -nek van maximuma és minimuma  $[1, 2]$ -n

---

**Van-e olyan függvény, amelyik**

**3.243.** nem folytonos  $[0, 1]$ -en, de  $[0, 1]$ -en van maximuma is és minimuma is?

**3.244.** folytonos  $(0, 1)$ -en, és  $(0, 1)$ -en van maximuma is és minimuma is?

**3.245.** folytonos  $(0, 1)$ -en, de  $(0, 1)$ -en nincs sem maximuma, sem minimuma?

**3.246.** folytonos  $[0, 1]$ -en, de  $[0, 1]$ -en nincs sem maximuma, sem minimuma?

**Van-e maximuma a következő függvényeknek a  $[77, 888]$  intervallumon?**

**3.247.**  $3^{x+5} \sin x + \sqrt{x}$

**3.248.**  $\sin(2x) + \cos(3x)$

**3.249.**  $\{x\}$

**3.250.**  $\{x\}$

**Jelölje  $D(f)$  az  $f$  függvény értelmezési tartományát,  $R(f)$  pedig az értékkészletét! Van-e olyan függvény, amelyikre igaz, hogy**

**3.251.**  $D(f) = (0, 1)$  és  $R(f) = [0, 1]$

**3.252.**  $D(f) = [0, 1]$  és  $R(f) = (0, 1)$

**3.253.**  $D(f) = [0, 1]$  és  $R(f) = [3, 4] \cup [5, 6]$

**Van-e olyan monoton növekvő függvény, amelyikre igaz, hogy**

**3.254.**  $D(f) = (0, 1)$  és  $R(f) = [0, 1]$

**3.255.**  $D(f) = [0, 1]$  és  $R(f) = (0, 1)$

**3.256.**  $D(f) = [0, 1]$  és  $R(f) = [3, 4] \cup [5, 6]$

**Van-e olyan folytonos függvény, amelyikre igaz, hogy**

**3.257.**  $D(f) = (0, 1)$  és  $R(f) = [0, 1]$

**3.258.**  $D(f) = [0, 1]$  és  $R(f) = (0, 1)$

**3.259.**  $D(f) = [0, 1]$  és  $R(f) = [3, 4] \cup [5, 6]$

**3.260.** Bizonyítsuk be, hogy (korlátos) zárt intervallumon folytonos függvény értékkészlete (korlátos) zárt intervallum.

**3.261.** Bizonyítsuk be, hogy ha az  $f$  függvény folytonos  $\mathbb{R}$ -en, továbbá a határértéke végtelenben is, és mínusz végtelenben is nulla, akkor  $f$  korlátos!

**3.262.** Bizonyítsuk be, hogy ha az  $f$  függvény folytonos  $\mathbb{R}$ -en, továbbá a határértéke végtelenben is, és mínusz végtelenben is végtelen, akkor  $f$ -nek van minimuma!

**3.263.** Bizonyítsuk be, hogy az  $x \sin x = 100$  egyenletnek végtelen sok gyöke van!

**Hol folytonosak jobbról, hol folytonosak balról, illetve hol folytonosak a következő függvények?**

**3.264.**  $[x]$

**3.265.**  $[-x]$

**3.266.**  $[x] + [-x]$

**3.267.**  $[x] - [-x]$

**Hol folytonosak a következő függvények?**

**3.268.** 
$$f(x) = \begin{cases} \cos \frac{1}{x}, & \text{ha } x \neq 0 \\ 0 & \text{ha } x = 0 \end{cases}$$

**3.269.** 
$$f(x) = \begin{cases} x \sin \frac{1}{x}, & \text{ha } x \neq 0 \\ 0 & \text{ha } x = 0 \end{cases}$$

**Egyenletesen folytonosak-e a következő függvények az adott intervallumokban?**

**3.270.**  $f(x) = x^2$   $(-\infty, \infty)$ ,  $[-2, 2]$ ,  $(-2, 2)$

**3.271.**  $f(x) = \frac{1}{x}$   $(0, \infty)$ ,  $[1, 2]$ ,  $(1, 2)$ ,  $[1, \infty)$

## 4. fejezet

# A differenciálszámítás és alkalmazásai

**4.1.** Az  $f$  függvénynek pontosan akkor van érintője az  $a$  pontban, ha itt deriválható. Ekkor az érintő egyenlete

$$y = f'(a)(x - a) + f(a)$$

**4.2.** Ha az  $f(x)$  függvény deriválható az  $a$  pontban, akkor a függvény folytonos az  $a$  pontban.

Ez a tétel nem fordítható meg: például az  $f(x) = |x|$  függvény folytonos 0-ban, de itt nem deriválható!

**4.3. Deriválási szabályok.** Ha  $f$  és  $g$  deriválható  $a$ -ban, akkor

— tetszőleges  $c \in \mathbb{R}$  esetén  $c \cdot f$  deriválható  $a$ -ban és

$$(c \cdot f)'(a) = c \cdot f'(a);$$

—  $f + g$  deriválható  $a$ -ban és

$$(f + g)'(a) = f'(a) + g'(a);$$

—  $f \cdot g$  deriválható  $a$ -ban és

$$(f \cdot g)'(a) = f'(a) \cdot g(a) + f(a) \cdot g'(a);$$

—  $g(a) \neq 0$  esetén  $\frac{f}{g}$  deriválható  $a$ -ban, és

$$\left(\frac{f}{g}\right)'(a) = \frac{f'(a) \cdot g(a) - f(a) \cdot g'(a)}{g^2(a)}.$$

**4.4. Láncszabály.** Ha  $g$  deriválható  $a$ -ban,  $f$  deriválható  $g(a)$ -ban, akkor  $f \circ g$  deriválható  $a$ -ban és

$$(f \circ g)'(a) = f'(g(a)) \cdot g'(a).$$

**4.5. Inverz függvény deriváltja.** Ha  $f$  folytonos és invertálható  $a$  körül,  $a$ -ban deriválható, és  $f'(a) \neq 0$ , akkor  $f^{-1}$  deriválható  $f(a)$ -ban és

$$(f^{-1})'(f(a)) = \frac{1}{f'(a)}.$$

#### 4.6. Közéértéktételek.

— **Rolle tétele.** Ha  $f$  folytonos az  $[a, b]$  zárt intervallumon, deriválható az  $(a, b)$  nyílt intervallumon és  $f(a) = f(b)$ , akkor van olyan  $c \in (a, b)$ , amelyre  $f'(c) = 0$ .

— **Lagrange-közéértéktétel.** Ha  $f$  folytonos az  $[a, b]$  zárt intervallumon, deriválható az  $(a, b)$  nyílt intervallumon, akkor van olyan  $c \in (a, b)$ , amelyre

$$f'(c) = \frac{f(b) - f(a)}{b - a}.$$

A tétel geometriai jelentése az, hogy minden húrhoz található vele párhuzamos érintő.

— **Cauchy-közéértéktétel.** Ha  $f$  és  $g$  folytonos az  $[a, b]$  zárt intervallumon, deriválható az  $(a, b)$  nyílt intervallumon, és  $x \in (a, b)$  esetén  $g'(x) \neq 0$ , akkor van olyan  $c \in (a, b)$ , amelyre

$$\frac{f'(c)}{g'(c)} = \frac{f(b) - f(a)}{g(b) - g(a)}.$$

— **Az integrálszámítás alaptétele.** Ha  $f$  és  $g$  folytonos az  $[a, b]$  zárt intervallumon, deriválható az  $(a, b)$  nyílt intervallumon és  $x \in (a, b)$  esetén  $f'(x) = g'(x)$ , akkor  $f - g$  konstans függvény.

**4.7. Darboux-tétel.** Ha  $f$  deriválható  $(a, b)$ -ben,  $a$ -ban jobbról,  $b$ -ben balról deriválható, akkor az  $f'(x)$  deriváltfüggvény minden  $f'_+(a)$  és  $f'_-(b)$  közötti értéket felvesz.

**4.8. Monotonitás és derivált** kapcsolata. Legyen  $f(x)$  folytonos  $[a, b]$ -n és deriválható  $(a, b)$ -n.

- Az  $f(x)$  függvény monoton nő  $[a, b]$ -n, akkor és csak akkor, ha minden  $x \in (a, b)$  esetén  $f'(x) \geq 0$ .
- Ha minden  $x \in (a, b)$  esetén  $f'(x) > 0$ , akkor  $f(x)$  szigorúan monoton nő  $[a, b]$ -n.  
Ez az állítás nem fordítható meg, például  $f(x) = x^3$  szigorúan monoton nő de  $f'(0) = 0$ .
- Az  $f(x)$  függvény szigorúan monoton nő  $[a, b]$ -n akkor és csak akkor, ha minden  $x \in (a, b)$  esetén  $f'(x) \geq 0$  és minden  $a < c < d < b$  esetén  $f'(x)$ -nek csak véges sok gyöke van  $(c, d)$ -ben.

**4.9. Lokális szélsőérték és a derivált** kapcsolata. Tegyük fel, hogy  $f(x)$  deriválható  $a$ -ban.

- Ha  $f(x)$ -nek lokális szélsőértéke (maximum vagy minimum) van  $a$ -ban, akkor  $f'(a) = 0$ .
- Ha  $f(x)$  deriválható  $a$  egy környezetében,  $f'(a) = 0$  és  $f'(x)$  előjelet vált  $a$ -ban, akkor  $f(x)$ -nek lokális szélsőértéke van  $a$ -ban, mégpedig
  - lokális (szigorú) maximuma, ha  $a$ -tól balra  $(f'(x) > 0)$   $f'(x) \geq 0$ , és  $a$ -tól jobbra  $(f'(x) < 0)$   $f'(x) \leq 0$ ,
  - lokális (szigorú) minimuma, ha  $a$ -tól balra  $(f'(x) < 0)$   $f'(x) \leq 0$ , és  $a$ -tól jobbra  $(f'(x) > 0)$   $f'(x) \geq 0$ .
- Ha  $f(x)$  kétszer deriválható  $a$ -ban,  $f'(a) = 0$  és  $f''(a) \neq 0$ , akkor  $f(x)$ -nek lokális szélsőértéke van  $a$ -ban, mégpedig
  - lokális szigorú maximuma, ha  $f''(a) < 0$ ,
  - lokális szigorú minimuma, ha  $f''(a) > 0$ .

**4.10. Konvexitás és a derivált** kapcsolata. Tegyük fel, hogy  $f(x)$  deriválható  $(a, b)$ -ben.

- $f(x)$  akkor és csak akkor (szigorúan) konvex  $(a, b)$ -n, ha  $f'(x)$  (szigorúan) monoton növekvő  $(a, b)$ -n.
- $f(x)$  akkor és csak akkor (szigorúan) konkáv  $(a, b)$ -n, ha  $f'(x)$  (szigorúan) monoton csökken  $(a, b)$ -n.
- $f(x)$ -nek a  $c \in (a, b)$  **inflexiós pontja** akkor és csak akkor, ha  $f'(x)$ -nek  $c$ -ben lokális szélsőértéke van.

**4.11. L'Hospital szabály.** Tegyük fel, hogy  $f$  és  $g$  deriválható  $a$  egy pontozott környezetében,  $f$ -nek és  $g$ -nek van határértéke  $a$ -ban és vagy mindkét

határérték 0 vagy mindkét határérték  $\infty$ , azaz a két függvény hányadosának határértéke kritikus. Ekkor **ha létezik** a  $\lim_{x \rightarrow a} \frac{f'(x)}{g'(x)}$  határérték, **akkor**

**létezik** a  $\lim_{x \rightarrow a} \frac{f(x)}{g(x)}$  határérték is, és

$$\lim_{x \rightarrow a} \frac{f(x)}{g(x)} = \lim_{x \rightarrow a} \frac{f'(x)}{g'(x)}.$$

A fenti tétel a (pontozott) környezet értelemszerű módosításával érvényes marad akkor is, ha a határértéket valamelyik végtelenben, illetve valamelyik oldalról vizsgáljuk.

## 4.1. A derivált fogalma

**4.1.** Számítsuk ki a definíció szerint  $\sqrt{x}$  és  $\sqrt[3]{x}$  differenciálhányadosát az  $x = a$  pontban! Hol van értelmezve, hol folytonos és hol differenciálható a  $\sqrt{x}$  és a  $\sqrt[3]{x}$  függvény? Adjuk meg a deriváltfüggvényeket!

**4.2.** Tegyük fel, hogy

$$\lim_{x \rightarrow 3} \frac{f(x) - f(3)}{x - 3} = 4.$$

Következik-e ebből, hogy az  $f$  függvény folytonos 3-ban?

**4.3.** Tegyük fel, hogy az  $f$  függvény folytonos 3-ban. Következik-e ebből, hogy a

$$\lim_{x \rightarrow 3} \frac{f(x) - f(3)}{x - 3}$$

határérték létezik és véges?

---

**Számítsuk ki a következő határértékeket!**

**4.4.**  $\lim_{h \rightarrow 0} \frac{(x+h)^2 - x^2}{h}$

**4.5.**  $\lim_{h \rightarrow 0} \frac{\sqrt{x+h} - \sqrt{x}}{h}$

**4.6.**  $\lim_{h \rightarrow 0} \frac{1/(x+h) - 1/x}{h}$

**4.7.**  $\lim_{h \rightarrow 0} \frac{(x+h)^3 - x^3}{h}$

$$4.8. \quad \lim_{x \rightarrow x_0} \frac{x^2 - x_0^2}{x - x_0}$$

$$4.9. \quad \lim_{x \rightarrow x_0} \frac{\sqrt{x} - \sqrt{x_0}}{x - x_0}$$

$$4.10. \quad \lim_{x \rightarrow x_0} \frac{1/x - 1/x_0}{x - x_0}$$

$$4.11. \quad \lim_{x \rightarrow x_0} \frac{x^3 - x_0^3}{x - x_0}$$

Hol folytonosak, és hol differenciálhatók a következő függvények?

$$4.12. \quad |x|$$

$$4.13. \quad |x^3|$$

$$4.14. \quad |x^2 - 1|$$

$$4.15. \quad |\sqrt[3]{x}|$$

Milyen  $b$  és  $c$  esetén lesznek a következő függvények differenciálhatók 3-ban? Adjuk meg a deriváltakat!

$$4.16. \quad f(x) = \begin{cases} x & \text{ha } x \geq 3 \\ bx^2 - c & \text{ha } x < 3 \end{cases}$$

$$4.17. \quad g(x) = \begin{cases} x^2 & \text{ha } x \leq 3 \\ b - cx & \text{ha } x > 3 \end{cases}$$

$$4.18. \quad h(x) = \begin{cases} (1-x)(2-x) & \text{ha } x \geq -3 \\ bx + c & \text{ha } x < -3 \end{cases}$$

Hol differenciálhatók a következő függvények? Hol folytonosak a deriváltfüggvények?

$$4.19. \quad f(x) = \begin{cases} x \sin \frac{1}{x} & \text{ha } x \neq 0 \\ 0 & \text{ha } x = 0 \end{cases}$$

$$4.20. \quad f(x) = \begin{cases} x^2 \sin \frac{1}{x} & \text{ha } x \neq 0 \\ 0 & \text{ha } x = 0 \end{cases}$$

$$4.21. \quad f(x) = |x^3|$$

$$4.22. \quad f(x) = \{x\} \sin \pi x$$

$$4.23. \quad f(x) = [x] \sin^2 \pi x$$



4.24.  $f(x) = \begin{cases} -x^2 & \text{ha } x \leq 0 \\ x^2 & \text{ha } x > 0 \end{cases}$

4.25.  $f(x) = \begin{cases} 1-x & \text{ha } x < 1 \\ (1-x)(2-x) & \text{ha } 1 \leq x \leq 2 \\ -(2-x) & \text{ha } 2 < x \end{cases}$

4.26.  $f(x) = \left(\{x\} - \frac{1}{2}\right)^2$ , ahol  $\{x\}$  az  $x$  törtrészét jelöli.

4.27.  $f(x) = [x] \sin \pi x$ , ahol  $[x]$  az  $x$  egészrészét jelöli.

4.28. Melyik grafikon az  $f(x) = \sin^2 x$  függvényé és melyik a  $g(x) = |\sin x|$  függvényé?

(a)

(b)



Határozzuk meg a következő függvények első, második, ...,  $n$ -edik deriváltját!

4.29.  $x^6$

4.30.  $\frac{1}{x}$

4.31.  $\sin x$

4.32.  $\cos x$

## 4.2. Deriválási szabályok

Mi a következő állítások logikai kapcsolata, azaz melyikből következik a másik?

4.33. P: Az  $f$  függvény páros. Q:  $f'$  páratlan.

4.34. P: Az  $f$  függvény páratlan. Q:  $f'$  páros.

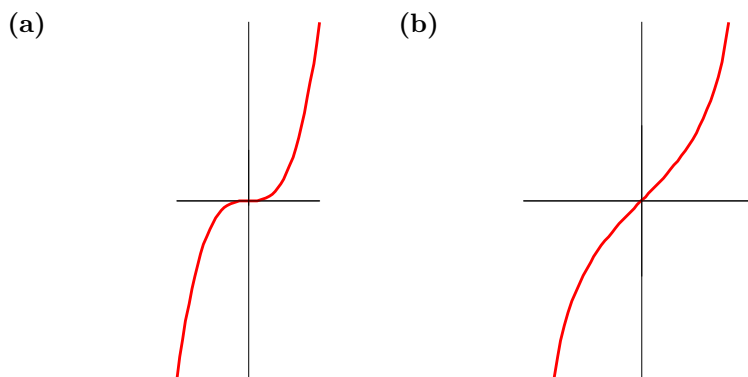
**Tegyük fel, hogy az  $f$  függvény differenciálható. Mi a következő állítások logikai kapcsolata, azaz melyikből következik a másik?**

- 4.35.** P: Az  $f$  függvény periodikus.      Q: Az  $f'$  függvény periodikus.
- 4.36.** P:  $\lim_{x \rightarrow \infty} f(x) = 0$       Q:  $\lim_{x \rightarrow \infty} f'(x) = 0$
- 4.37.** P:  $\lim_{x \rightarrow \infty} f(x) = \infty$       Q:  $\lim_{x \rightarrow \infty} f'(x) = \infty$
- 4.38.** P:  $f$  differenciálható  $a$ -ban      Q:  $\lim_{h \rightarrow 0} \frac{f(a+h) - f(a-h)}{2h}$  létezik.

**Keressük meg azokat a helyeket, ahol a  $\sin x$  függvény érintője párhuzamos az**

- 4.39.**  $x$  tengellyel;      **4.40.** az  $y = x$  egyenessel.

- 4.41.** Adjuk meg  $\cos x$  grafikonjának  $x = \frac{\pi}{3}$  pontbeli érintőjét!
- 4.42.** Írjuk fel az  $f(x) = x^3 - 2x^2 + 3x + 4$  függvény érintőjének az egyenletét az  $(1; 6)$  pontban!
- 4.43.** Hol vízszintes a  $2x^3 - 6x^2 + 8$  függvény grafikonjának az érintője?
- 4.44.** Adjuk meg  $2x^3 - 6x^2 + 8$  grafikonjának azokat az érintőit, amelyek az  $x$ -tengellyel 45 fokos, illetve 30 fokos szöget zárnak be!
- 4.45.** Milyen szögben metszi az  $x^2$  függvény grafikonja az  $y = 2x$  egyenest, azaz mekkora a közös pontokban az érintő és az egyenes szöge?
- 4.46.** Bizonyítsuk be, hogy az  $x^2 - y^2 = a$  és  $xy = b$  görbék merőlegesen metszik egymást, azaz a metszéspontokban az érintők merőlegesek.
- 4.47.** Hol függőleges az érintője a  $\sqrt[3]{\sin x}$  függvény grafikonjának?
- 4.48.** A következő két ábra egyikén a  $\operatorname{tg} x$ , a másikon az  $x^3$  függvény szerepel. Melyik rajzhoz melyik függvény tartozik?



- 4.49.** Egy autó út – idő függvényét az  $s(t) = 3t^2 + 5t + 8$  függvény adja meg. Határozzuk meg az autó pillanatnyi sebességét a  $t = 3$  pillanatban! Adjuk meg az autó sebesség – idő függvényét!
- 4.50.** Egy autó sebesség – idő függvényét a  $v(t) = 5t + 3$  függvény adja meg. Határozzuk meg az autó pillanatnyi gyorsulását a  $t = 7$  pillanatban! Adjuk meg az autó gyorsulás – idő függvényét!
- 4.51.** Egy rezgő test kitérés – idő függvénye:  $y(t) = 5 \sin t$ . Adjuk meg a test sebesség – idő függvényét! Adjuk meg a test gyorsulás – idő függvényét!

**Határozzuk meg a következő függvények értelmezési tartományát! Deriváljuk a következő függvényeket, és határozzuk meg a deriváltak értelmezési tartományát!**

**4.52.**  $3x^8 - \frac{3}{4}x^6 + 2$

**4.53.**  $\frac{5x + 3}{2x - 1}$

**4.54.**  $x + \frac{1}{x} + \sqrt{x}$

**4.55.**  $3x^2 - \frac{\sqrt[3]{x}}{5} + 7$

**4.56.**  $\sqrt{x\sqrt{x\sqrt{x}}}$

**4.57.**  $\sqrt{x + \sqrt{x + \sqrt{x}}}$

**4.58.**  $4 \sin x$

**4.59.**  $\frac{\sin x + \cos x}{3}$

**4.60.**  $\sin(x^{22})$

**4.61.**  $(\sin x)^{22}$

$$4.62. \quad \frac{\sin x - x \cos x}{\cos x + x \sin x}$$

$$4.63. \quad 4x^3 \operatorname{tg}(x^2 + 1)$$

$$4.64. \quad \frac{\sin x}{\cos x}$$

$$4.65. \quad \sin \frac{1}{x}$$

$$4.66. \quad x \sin x$$

$$4.67. \quad (3x^5 + 1) \cos x$$

$$4.68. \quad x^x$$

$$4.69. \quad \sqrt[x]{x}$$

$$4.70. \quad x^{-x}$$

$$4.71. \quad e^{\sqrt{x}}$$

$$4.72. \quad \sqrt{x^2 + 1}$$

$$4.73. \quad e^{-3x^2}$$

$$4.74. \quad \log_4 x$$

$$4.75. \quad \log_x 4$$

$$4.76. \quad \ln(\ln x)$$

$$4.77. \quad \frac{1}{2} \ln \frac{x+1}{x-1}$$

$$4.78. \quad \ln(x + \sqrt{x^2 + 1}), \quad (x > 1)$$

$$4.79. \quad \ln(e^x + \sqrt{1 + e^{2x^2}})$$

$$4.80. \quad 4 \operatorname{sh} x$$

$$4.81. \quad \frac{\operatorname{sh} x + \operatorname{ch} x}{3}$$

$$4.82. \quad \operatorname{sh}(x^{22})$$

$$4.83. \quad (\operatorname{sh} x)^{22}$$

$$4.84. \quad \frac{\operatorname{sh} x - x \operatorname{ch} x}{\operatorname{ch} x + x \operatorname{sh} x}$$

$$4.85. \quad 4x^3 \operatorname{th}(x^2 + 1)$$

$$4.86. \quad \frac{\operatorname{sh} x}{\operatorname{ch} x}$$

$$4.87. \quad \operatorname{sh} \frac{1}{x}$$

$$4.88. \quad x \operatorname{sh} x$$

$$4.89. \quad (3x^5 + 1) \operatorname{ch} x$$

$$4.90. \quad \log_3 x \cdot \cos x$$

$$4.91. \quad \frac{\sin x + 2 \ln x}{\sqrt{x} + 1}$$

$$4.92. \quad \frac{x^2 e^x - 3^x \ln x + \cos \pi}{x^2 + 1}$$

$$4.93. \quad \ln(\sin x + \cos^2 x)$$

4.94.  $\frac{\cos(3^x) + 5}{\ln(\sin x) + x^2}$

4.95.  $(\sin x)^{\cos x}$

4.96.  $\ln(\sin x)$

4.97.  $x^{\operatorname{tg} x}$

Mutassuk meg, hogy a következő függvények invertálhatóak egy alkalmas intervallumon, és számítsuk ki az inverz deriváltját a megadott helyen!

4.98.  $x + \sin x, \quad a = 1 + \pi/2$

4.99.  $3x^3 + x, \quad a = 4$

4.100.  $f(x) = x^5 + x^2 \quad (x > 0), \quad a = 2$

4.101.  $-2x^3 + \sqrt{x}, \quad a = -1$

Határozzuk meg a következő trigonometrikus függvények inverzeinek a deriváltját!

4.102.  $\arcsin x$

4.103.  $\arccos x$

4.104.  $\operatorname{arctg} x$

4.105.  $\operatorname{arcctg} x$

Hol deriválható és mi a deriváltja a következő függvényeknek?

4.106.  $\arcsin(\cos x)$

4.107.  $\sin(\arccos x)$

4.108.  $\operatorname{arctg}(\sin x)$

4.109.  $\operatorname{tg}(\arcsin x)$

4.110.  $\operatorname{arsh}(\operatorname{ch} x)$

4.111.  $\operatorname{sh}(\operatorname{arch} x)$

4.112.  $\operatorname{arth}(\operatorname{sh} x)$

4.113.  $\operatorname{th}(\operatorname{arsh} x)$

Számítsuk ki a következő határértékeket, ha léteznek!

$$4.114. \quad \lim_{x \rightarrow \pi/6} \frac{2 \sin x - 1}{6x - \pi}$$

$$4.115. \quad \lim_{x \rightarrow \pi/2} \frac{\sin x - 2/(\pi x)}{\cos x}$$

$$4.116. \quad \lim_{x \rightarrow \pi/2} \frac{\cos x}{x - \pi/2}$$

$$4.117. \quad \lim_{x \rightarrow 0} \frac{e^x - 1}{x}$$

**Számítsuk ki a következő sorozatok határértékét, ha léteznek!**

$$4.118. \quad \lim_{n \rightarrow \infty} n \left( \sqrt{\frac{n+1}{n}} - 1 \right)$$

$$4.119. \quad \lim_{n \rightarrow \infty} n \left( \cos \frac{1}{n} - 1 \right)$$

$$4.120. \quad \lim_{n \rightarrow \infty} n e^{1/n} - 1$$

$$4.121. \quad \lim_{n \rightarrow \infty} n^2 \sin \frac{1}{n} (\sqrt[n]{e} - 1)$$

**Számoljuk ki a következő függvények második deriváltját:**

$$4.122. \quad x^3 + 2x^2 + x + 1$$

$$4.123. \quad e^{\sin x}$$

$$4.124. \quad \ln \cos x$$

$$4.125. \quad \operatorname{arctg} \frac{1}{x}$$

### 4.3. Közéértéktételek, L'Hospital szabály

4.126. Van-e olyan függvény, amelyeknek a deriváltja a  $[-3, 5]$  intervallumon  $[x]$ , azaz  $x$  egész része?

4.127. Van-e olyan függvény, amelyeknek a deriváltja nem folytonos?

4.128. Legyen  $f(x) = \operatorname{arctg} x$ ,  $g(x) = \operatorname{arctg} \frac{1+x}{1-x}$  és  $h(x) = f(x) - g(x)$ . Bizonyítsuk be, hogy  $h'(x) = 0$ . Következik-e ebből, hogy  $h(x)$  konstans függvény? Számítsuk ki  $h(0)$ -t, és a  $\lim_{x \rightarrow \infty} h(x)$  határértéket! Magyarázzuk meg az eredményt!

4.129. Tegyük fel, hogy  $f$  és  $g$  differenciálható függvények, továbbá  $f(0) \geq g(0)$ , és hogy minden  $x \in \mathbb{R}$  esetén  $f'(x) > g'(x)$ . Bizonyítsuk be, hogy ekkor  $f(x) > g(x)$ , ha  $x > 0$ .

**Hány gyöke van a következő egyenleteknek?**

4.130.  $x^3 + 2x + 4 = 0$

4.131.  $x^5 - 5x + 2 = 0$

4.132.  $e^x = 2x + 2$

4.133.  $\sin x = \frac{x}{2}$

**Számítsuk ki a következő határértékeket!**

4.134.  $\lim_{x \rightarrow \infty} x \left( \frac{\pi}{2} - \operatorname{arctg} x \right)$

4.135.  $\lim_{x \rightarrow 0} \frac{x}{\ln(1+x)}$

4.136.  $\lim_{x \rightarrow \pi/2} \frac{1 - \sin x}{1 + \cos 2x}$

4.137.  $\lim_{x \rightarrow 0^+} \frac{x}{\sin \sqrt{x}}$

4.138.  $\lim_{x \rightarrow 0^+} \frac{\ln x}{\operatorname{ctg} x}$

4.139.  $\lim_{x \rightarrow \infty} \frac{x + \ln x}{x + 1}$

4.140.  $\lim_{x \rightarrow -\infty} \frac{x + 1}{e^{-x}}$

4.141.  $\lim_{x \rightarrow 0} \frac{\sin x - x}{\operatorname{tg} x - x}$

4.142.  $\lim_{x \rightarrow 0} \frac{x \operatorname{ctg} x - 1}{x^2}$

4.143.  $\lim_{x \rightarrow 0} \left( \operatorname{ctg} x - \frac{1}{x} \right)$

4.144.  $\lim_{x \rightarrow 0} (1+x)^{1/x}$

4.145.  $\lim_{x \rightarrow 0} \left( \frac{\sin x}{x} \right)^{1/x^2}$

4.146.  $\lim_{x \rightarrow 0} \left( \frac{1+e^x}{2} \right)^{\operatorname{ctg} x}$

4.147.  $\lim_{x \rightarrow \infty} \frac{x^3 + x^2 + 1}{e^x}$

4.148.  $\lim_{x \rightarrow \infty} \frac{\ln x}{\sqrt{x}}$

4.149.  $\lim_{x \rightarrow \infty} x \sin \frac{1}{x+1}$

4.150.  $\lim_{x \rightarrow 0} \frac{\operatorname{ch} x - \cos x}{x^2}$

4.151.  $\lim_{x \rightarrow \infty} \frac{1 + \operatorname{arctg} x}{\operatorname{sh} x + \operatorname{ch} x}$

4.152. Számoljuk ki a  $\lim_{x \rightarrow 0} \frac{\sin x}{x+1}$  határértéket!

**Megoldás:** A L'Hospital-szabály alkalmazásával:

$$\lim_{x \rightarrow 0} \frac{\sin x}{x+1} = \lim_{x \rightarrow 0} \frac{\cos x}{1} = 1$$

Mi a hiba?

**4.153.** Számoljuk ki a  $\lim_{x \rightarrow 0} \frac{x+1}{2x+2}$  határértéket!

**Megoldás:** A L'Hospital-szabály alkalmazásával:

$$\lim_{x \rightarrow 0} \frac{x+1}{2x+2} = \lim_{x \rightarrow 0} \frac{1}{2} = \frac{1}{2}$$

Mi a hiba?

**4.154.** Számoljuk ki a  $\lim_{x \rightarrow \infty} \frac{\sin x}{x}$  határértéket!

**Megoldás:** A L'Hospital-szabály alkalmazásával:

$$\lim_{x \rightarrow \infty} \frac{\sin x}{x} = \lim_{x \rightarrow \infty} \frac{\cos x}{1} = \lim_{x \rightarrow \infty} \cos x.$$

Ez a határérték nem létezik.

Mi a hiba?

## 4.4. Szélsőértékkeresés

**Határozzuk meg következő függvények abszolút szélsőértékeit a megadott intervallumokon!**

**4.155.**  $x^3 - 12x$   $[-10; 3]$ ,  $[0; 3]$

**4.156.**  $x^3 + 2x^5$   $[-1, 4]$ ,  $[2, 5]$ ,  $[-7, 3]$

**4.157.** A vékony lencsék leképezési törvénye szerint

$$\frac{1}{f} = \frac{1}{t} + \frac{1}{k},$$

ahol  $f$  a lencse fókusztávolsága,  $t$  a tárgy távolsága a lencsétől és  $k$  a képtávolság. Adott  $f$  fókusztávolság esetén mennyi legyen a tárgytávolság, hogy  $t + k$  maximális, illetve minimális legyen?

**4.158.** A ferde hajításnál a földről  $\alpha$  szögben  $v_0$  kezdősebességgel kilőtt test a kilövés helyétől

$$\frac{2v_0^2}{g} \sin \alpha \cos \alpha$$

távolságra ér földet, ha a közegellenállástól eltekintünk. Milyen szögben lőjük ki a testet, hogy a lehető legmesszebb repüljön?



**4.159.** Az egyenlő szárú derékszögű háromszögbe írható téglalapok közül melyiknek a területe a legnagyobb? Na és melyiknek a kerülete a legnagyobb?

Itt **beírt téglalapon** olyan téglalapot értünk, amelynek két szomszédos csúcsa az átfogón, a többi csúcsa a befogókon van.

**4.160.** Határozzuk meg egy adott  $a$  alkotójú egyenes körkúp alapkörének  $R$  sugarát és  $m$  magasságát úgy, hogy a kúp térfogata maximális legyen!

**4.161.** A  $16\text{cm}^2$  területű téglalapok közül melyiknek a kerülete minimális? Mekkora az oldalai?

**4.162.** A 8 egység kerületű téglalapok közül miért a négyzetnek legnagyobb a területe?

**4.163.** Legfeljebb mekkora lehet a derékszögű háromszög területe, ha az egyik befogójának és az átfogójának az összege  $10\text{ cm}$ ?

**4.164.** Egy téglalap egyik oldala az  $x$  tengelyen fekszik, két felső csúcsa pedig az  $y = 12 - x^2$  parabolán. Mikor maximális a területe egy ilyen téglalagnak?

**4.165.**  $8 \times 15\text{ dm}$ -es kartonlapból téglalap alakú, nyitott dobozt készítünk úgy, hogy a kartonlap sarkaiból egybevágó négyzeteket vágunk ki, majd felhajtjuk az oldalakat. Milyenek legyenek a doboz méretei, ha azt szeretnénk elérni, hogy a lehető legnagyobb legyen a térfogata? Mekkora lesz a maximális térfogat?

**4.166.** Hozzunk létre egy háromszöget a koordináta-rendszer első síknegyedében úgy, hogy az  $x$ -, illetve  $y$ -tengely  $(a, 0)$ ,  $(0, b)$  koordinátájú pontjait egy  $20$  egység hosszú egyenes szakasszal összekötjük. Mutassuk meg, hogy a közbezárt háromszög területe akkor lesz a legnagyobb, ha  $a = b$ .

**4.167.** Egy farmon az állatok számára el kell keríteni egy téglalap alakú karámot. A területet egyik oldalról folyó határolja, a másik három oldalon egyszálas vezetékkel kell kifeszíteni, amelybe aztán áramot vezetnek. A rendelkezésre álló  $800$  méternyi vezetékkel mekkora területet lehet elkeríteni, és milyen méretű lesz a maximális területű karám?

**4.168.** Határozzuk meg egy adott  $V$  térfogatú egyenes körhenger alapkörének  $R$  sugarát és  $m$  magasságát úgy, hogy a henger felszíne minimális legyen!

**4.169.** Egy borsóültetvény  $216 \text{ m}^2$ -es téglalap alakú részét be kell keríteni, majd a kerítés egyik oldalával párhuzamosan két egyenlő részre kell osztani. Mekkora legyenek a külső téglalap oldalai, hogy a lehető legkevesebb kerítésfontot kelljen felhasználni? Milyen hosszú kerítésre van szükség?

**4.170.** Egy függőlegesen mozgó test magasságát az

$$s = -4,9t^2 + 30t + 34$$

függvény adja meg, ahol  $s$ -t méterben,  $t$ -t másodpercben mérjük. Mekkora lesz

- (a) a test sebessége a  $t = 0$  időpontban;
- (b) a legnagyobb magassága, és mikor éri azt el;
- (c) a sebessége, amikor  $s = 0$ ?

**4.171.** Janka a parttól 3 kilométerre egy csónakban ül, és szeretne eljutni a tőle légvonalban 5 kilométerre lévő part menti faluba.  $2 \text{ km/h}$  sebességgel tud evezni és  $5 \text{ km/h}$  sebességgel gyalogolni. Hol szálljon ki a csónakból, hogy a lehető legrövidebb idő alatt érjen a faluba?

**4.172.** Két részecske helyzetét az  $s$ -tengelyen az  $s_1 = \cos t$  és  $s_2 = \cos(t + \pi/4)$  függvények írják le.

- (a) Mekkora a részecskék legnagyobb távolsága?
- (b) Mikor ütköznek össze?

## 4.5. Függvényvizsgálat

**Tegyük fel, hogy  $f$  differenciálható  $\mathbb{R}$ -en. Mi a következő állítások logikai kapcsolata, azaz melyikből következik a másik?**

**4.173.** P:  $f'(a) = 0$       Q:  $f$ -nek lokális szélsőértéke van  $a$ -ban

**4.174.** P:  $f'(a) \neq 0$       Q:  $f$ -nek nincs lokális szélsőértéke  $a$ -ban

**4.175.** P:  $f'(x) \geq 0$   $(3, 5)$ -ben      Q:  $f$  monoton nő  $(3, 5)$ -ben

**4.176.** P:  $f'(x) > 0$   $(3, 5)$ -ben Q:  $f$  szigorúan monoton nő  $(3, 5)$ -ben

**Tegyük fel, hogy  $f$  kétszer differenciálható  $\mathbb{R}$ -en. Mi a következő állítások logikai kapcsolata, azaz melyikből következik a másik?**

**4.177.** P:  $f''(a) > 0$  Q:  $f$ -nek lokális minimuma van  $a$ -ban

**4.178.** P:  $f'(a) = 0$  és  $f''(a) > 0$  Q:  $f$ -nek lokális minimuma van  $a$ -ban

**4.179.** P:  $f''(a) = 0$  Q:  $f$ -nek inflexiós pontja van  $a$ -ban

**4.180.** P:  $f''(a) = 0$  Q:  $f$ -nek inflexiós pontja vagy lokális szélsőértéke van  $a$ -ban

**4.181.** P:  $f''(x) \geq 0$   $(3, 5)$ -ben Q:  $f$  konvex  $(3, 5)$ -ben

**4.182.** P:  $f''(x) > 0$   $(3, 5)$ -ben Q:  $f$  szigorúan konvex  $(3, 5)$ -ben

**Milyen intervallumokon növekszik, illetve csökken, hol van lokális szélsőértéke a következő függvényeknek?**

**4.183.**  $f(x) = -x^2 - 3x + 23$

**4.184.**  $f(x) = 2x^3 - 18x + 23$

**4.185.**  $f(x) = x^4 - 4x^3 + 4x^2 + 23$

**4.186.**  $f(x) = x\sqrt{9 - x^2}$

**4.187.**  $f(x) = x^2\sqrt{5 - x}$

**4.188.**  $f(x) = \frac{x^2 - 9}{x - 2}$

**Keressük meg a következő függvények lokális szélsőértékeit, és határozzuk meg a típusaikat!**

4.189.  $y = xe^{-x}$

4.190.  $y = 2 + x - x^2$

4.191.  $y = x^3 - 6x^2 + 9x - 4$

4.192.  $y = x + \sin x$

**Végezzük el a következő függvények teljes függvényvizsgálatát!**

4.193.  $f(x) = x + \frac{1}{x}$

4.194.  $f(x) = x - \frac{1}{x^2}$

4.195.  $f(x) = \frac{1}{1+x^2}$

4.196.  $f(x) = \frac{x}{1+x^2}$

4.197.  $f(x) = \frac{x+1}{1+x^2}$

4.198.  $f(x) = \frac{x^3}{x^2+1}$

4.199.  $f(x) = \frac{x^3}{x^2-1}$

4.200.  $f(x) = x + \frac{2x}{x^2-1}$

4.201.  $f(x) = \frac{1}{x^2} - \frac{1}{(x-1)^2}$

4.202.  $f(x) = \frac{x\sqrt{1-x}}{1+x}$

**Ábrázoljuk a következő függvényeket!**

4.203.  $f(x) = 6 - 2x - x^2$

4.204.  $f(x) = x^3 - 3x + 3$

4.205.  $f(x) = x(6 - 2x)^2$

4.206.  $f(x) = 1 - 9x - 6x^2 - x^3$

4.207.  $f(x) = (x-2)^3 + 1$

4.208.  $f(x) = 1 - (x+1)^3$

## 4.6. Elemi függvények

**Végezzük el a következő függvények teljes függvényvizsgálatát!**

4.209.  $x^{2n}, \quad n \in \mathbb{N}^+$

4.210.  $x^{2n+1}, \quad n \in \mathbb{N}^+$

4.211.  $x^{-2n}, \quad n \in \mathbb{N}^+$

4.212.  $x^{-(2n+1)}, \quad n \in \mathbb{N}^+$

4.213.  $\sqrt[n]{x}, \quad n \in \mathbb{N}^+$

4.214.  $\sqrt[n+1]{x}, \quad n \in \mathbb{N}^+$

4.215.  $a^x, \quad (a > 1)$

4.216.  $a^x, \quad (0 < a < 1)$

4.217.  $\log_a x, \quad (a > 1)$

4.218.  $\log_a x, \quad (0 < a < 1)$

4.219.  $\sin x$

4.220.  $\operatorname{tg} x$

4.221.  $\arcsin x$

4.222.  $\operatorname{arctg} x$

4.223.  $\operatorname{sh} x = \frac{e^x - e^{-x}}{2}$

4.224.  $\operatorname{ch} x = \frac{e^x + e^{-x}}{2}$

4.225.  $\operatorname{arsh} x$

4.226.  $\operatorname{arch} x$

---

**Számítsuk ki a következő értékeket!**

4.227.  $2^{\frac{\ln 100}{\ln 2}}$

4.228.  $\left(\frac{1}{9}\right)^{-\log_3 7}$

4.229.  $\arcsin \frac{\sqrt{3}}{2}$

4.230.  $\operatorname{arctg}(-1)$

4.231.  $\arccos(\cos(9\pi))$

4.232.  $\sin\left(\arcsin \frac{1}{3}\right)$

4.233.  $\operatorname{tg}(\operatorname{arctg} 100)$

4.234.  $\arcsin(\sin 3)$

---

**Periodikusak-e a következő függvények? Ha igen, adjunk meg egy periódust!**

4.235.  $\operatorname{tg}(10x)$

4.236.  $\operatorname{ctg}(\pi x)$

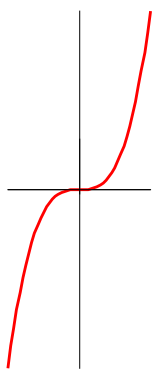
4.237.  $\sin \frac{x}{5}$

4.238.  $\cos \frac{x}{2} + \operatorname{tg} \frac{x}{3}$

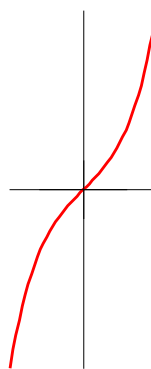
**4.239.** A következő függvények közül ábrázoltunk néhányat, keressük meg a grafikonokhoz tartozó képleteket!

$$\operatorname{sh} x, \operatorname{ch} x, e^x, e^{-x}, \log_3 x, \log_{0,5} x, \ln(-x), x^3, x^{-3}$$

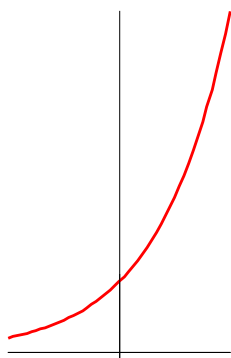
(a)



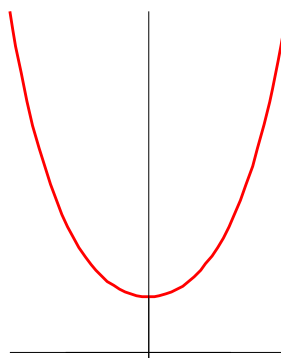
(b)



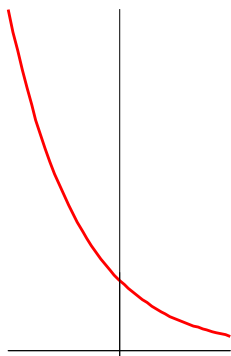
(c)



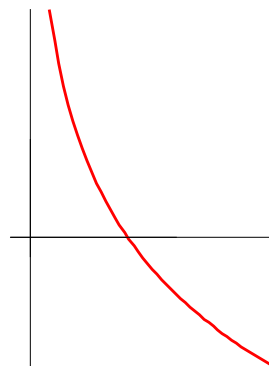
(d)



(e)



(f)



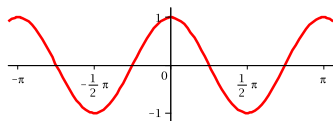


**4.240.** A következő függvények közül ábrázoltunk néhányat, keressük meg a grafikonokhoz tartozó képleteket!

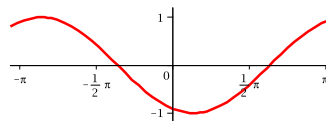
$$\sin x, \quad \cos 2x, \quad 2 \sin x, \quad \sin(x - 2), \quad -\cos x,$$

$$\operatorname{tg} x, \quad \operatorname{ctg} x, \quad \sin^2 x, \quad |\cos x|$$

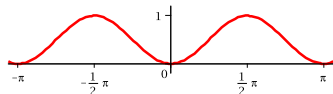
(a)



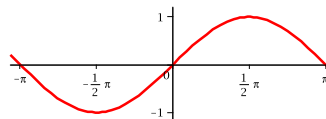
(b)



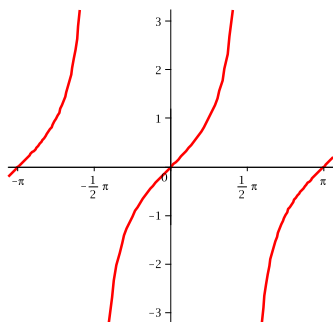
(c)



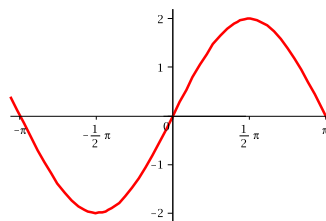
(d)



(e)



(f)

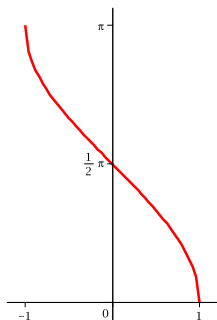


**4.241.** A következő függvényeket ábrázoltuk, keressük meg a grafikonokhoz tartozó képleteket!

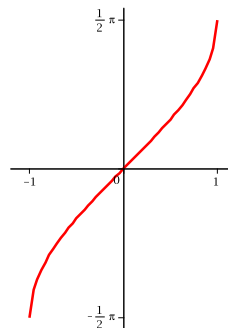
$$\arcsin x, \quad \arccos x, \quad \operatorname{arctg} x, \quad \operatorname{arctg} x$$

$$\sin(\arcsin x), \quad \arcsin(\sin x), \quad \operatorname{tg}(\operatorname{arctg} x), \quad \operatorname{arctg}(\operatorname{tg} x)$$

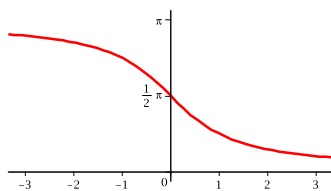
(a)



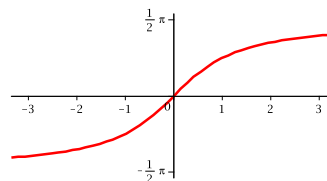
(b)



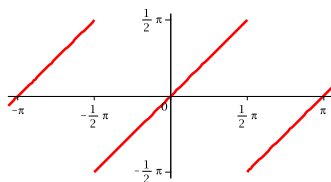
(c)



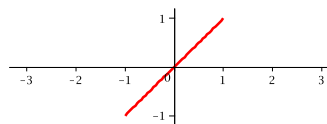
(d)



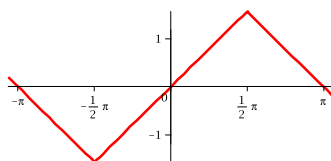
(e)



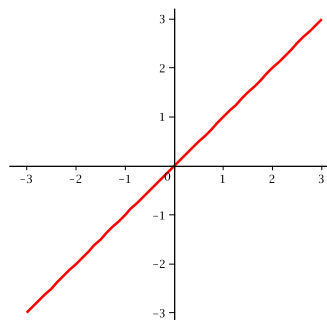
(f)



(g)



(h)

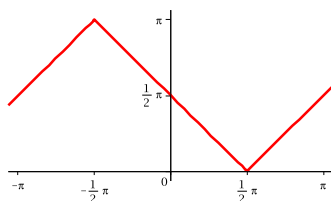
**4.242.**

A következő függvényeket ábráztuk, keressük meg a grafikonokhoz tartozó képleteket!

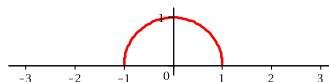


$\sin(\arccos x)$ ,  $\arccos(\sin x)$ ,  $\cos(\arcsin x)$ ,  $\arcsin(\cos x)$   
 $\operatorname{tg}(\operatorname{arctg} x)$ ,  $\operatorname{arctg}(\operatorname{tg} x)$ ,  $\operatorname{ctg}(\operatorname{arctg} x)$ ,  $\operatorname{arctg}(\operatorname{ctg} x)$

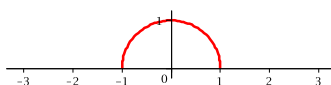
(a)



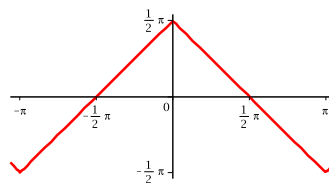
(b)



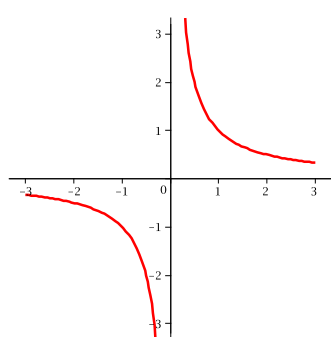
(c)



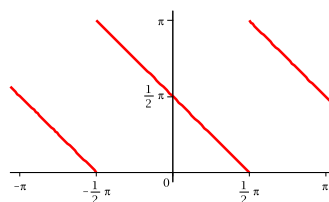
(d)



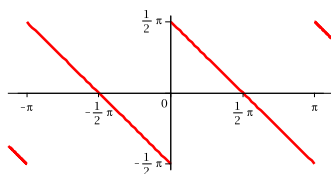
(e)



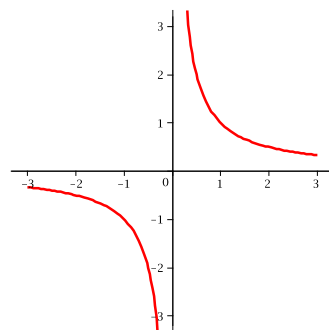
(f)



(g)



(h)



## 5. fejezet

# Az egyváltozós Riemann-integrál

### 5.1. Alapintegrálok

$$\int x^\alpha dx = \frac{1}{\alpha+1} x^{\alpha+1} + C \quad (\alpha \neq -1) \quad \int \frac{1}{x} dx = \ln|x| + C$$

$$\int a^x dx = \frac{1}{\ln a} a^x + C \quad (a \neq 1) \quad \int e^x dx = e^x + C$$

$$\int \cos x dx = \sin x + C \quad \int \sin x dx = -\cos x + C$$

$$\int \frac{1}{\cos^2 x} dx = \operatorname{tg} x + C \quad \int \frac{1}{\sin^2 x} dx = -\operatorname{ctg} x + C$$

$$\int \frac{1}{\sqrt{1-x^2}} dx = \arcsin x + C \quad \int \frac{1}{1+x^2} dx = \operatorname{arctg} x + C$$

$$\int \operatorname{ch} x dx = \operatorname{sh} x + C \quad \int \operatorname{sh} x dx = \operatorname{ch} x + C$$

$$\int \frac{1}{\sqrt{1+x^2}} dx = \operatorname{arsh} x + C \quad \int \frac{1}{\sqrt{x^2-1}} dx = \operatorname{arch} x + C$$

### 5.2. Integrálási szabályok

— Ha  $f$ -nek és  $g$ -nek van primitív függvénye, akkor  $f+g$ -nek és  $c \cdot f$ -nek is van, nevezetesen

$$\int (f+g) = \int f + \int g, \quad \int c \cdot f = c \int f$$

— Ha  $F$  primitív függvénye  $f$ -nek, akkor minden  $a, b \in \mathbb{R}$ ,  $a \neq 0$  esetén

$$\int f(ax+b) dx = \frac{1}{a} F(ax+b) + C$$

— Ha  $f$  deriválható és mindenütt pozitív, akkor

$$\int f^\alpha(x) f'(x) dx = \frac{f^{\alpha+1}(x)}{\alpha+1} + C \quad (\alpha \neq -1)$$

— Ha  $f$  deriválható, és sehol sem nulla, akkor

$$\int \frac{f'(x)}{f(x)} dx = \ln |f(x)| + C$$

— **Parciális integrálás:**

Ha  $f$  és  $g$  deriválható, és  $fg'$ -nek van primitív függvénye, akkor  $f'g$ -nek is, és

$$\int f'g = fg - \int fg'$$

— **Integrálás helyettesítéssel:**

Ha  $g(x)$  deriválható,  $f(y)$  értelmezett  $g(x)$  értékkészletén, és itt van primitív függvénye, akkor az  $f(g(x)) \cdot g'(x)$  összetett függvénynek is van primitív függvénye és

$$\int f(g(x)) \cdot g'(x) dx = F(g(x)) + C,$$

ahol  $F(y)$  az  $f(y)$  függvény egyik primitív függvénye.

**5.3. Newton-Leibniz formula.** Ha  $f$  integrálható az  $[a, b]$  zárt intervallumon, létezik az  $F$  primitív függvénye az  $(a, b)$  nyílt intervallumon, és  $F$  folytonos az  $[a, b]$  zárt intervallumon, akkor

$$\int_a^b f(x) dx = F(b) - F(a),$$

azaz az integrál megegyezik a primitív függvény megváltozásával.

**5.4. Integráltranszformáció.** Ha  $f$  folytonos az  $[a, b]$  intervallumon,  $g : [c, d] \rightarrow [a, b]$  folytonosan deriválható függvény és  $g(c) = a$ ,  $g(d) = b$ , akkor

$$\int_a^b f(x) dx = \int_c^d f(g(t))g'(t) dt.$$

A fenti képlet előnye, hogy nem kell ismernünk a  $g$  helyettesítő függvény inverzét, elég ha a  $c$  és  $d$  pontokat meghatározzuk.

### 5.5. A határozott integrál alkalmazásai.

- **Függvénygörbe alatti terület.** Ha  $f : [a, b] \rightarrow \mathbb{R}$  integrálható, és sehol sem negatív, akkor az

$$A = \{(x; y) : x \in [a, b], 0 \leq y \leq f(x)\}$$

síkidomnak van területe, és

$$t(A) = \int_a^b f(x) dx.$$

- **Normáltartomány területe.** Ha  $f$  és  $g$  két integrálható függvény  $[a, b]$ -n,  $x \in [a, b]$  esetén  $g(x) \geq f(x)$ , akkor a

$$N = \{(x; y) : x \in [a, b], f(x) \leq y \leq g(x)\}$$

normáltartománynak van területe és

$$t(N) = \int_a^b (g(x) - f(x)) dx$$

- **Szektorszerű tartomány területe.** Ha az  $S$  tartományt a polárkoordinátákkal megadott  $r = r(\varphi)$ ,  $\varphi \in [\alpha, \beta]$  síkgörbe és az origóból a görbe két végpontjába húzott szakaszok határolják, és  $r(\varphi)$  integrálható, akkor az  $S$  síkidomnak van területe, és

$$t(S) = \frac{1}{2} \int_{\alpha}^{\beta} r^2(\varphi) d\varphi.$$

- **Függvénygrafikon ívhossza.** Ha az  $f$  függvény az  $[a, b]$  intervallumon folytonosan deriválható, akkor a függvény grafikonjának van ívhossza, és

$$L = \int_a^b \sqrt{1 + (f'(x))^2} dx.$$

- **Forgástest térfogata.** Ha  $f : [a, b] \rightarrow \mathbb{R}$  integrálható és sehol sem negatív, akkor az

$$A = \{(x; y; z) : a \leq x \leq b, y^2 + z^2 \leq f^2(x)\}$$

forgástestnek van térfogata és

$$V = \pi \int_a^b f^2(x) dx.$$

**5.6. Majorizációs-elv** vagy **összehasonlító kritérium.** Ha  $f$  és  $g$  integrálható  $[a, \infty)$  minden korlátos zárt részintervallumán, és  $x \in [a, \infty)$  esetén  $|f(x)| \leq g(x)$  és  $\int_a^\infty g(x) dx$  konvergens, akkor  $\int_a^\infty f(x) dx$  is (abszolút) konvergens.

**5.7. Nagyságrendi kritérium** vagy **határérték összehasonlító kritérium.** Ha  $f$  és  $g$  pozitív és integrálható  $[a, \infty)$  minden korlátos zárt részintervallumán,

$$\lim_{x \rightarrow \infty} \frac{f(x)}{g(x)} = L$$

létezik, és  $0 < L < \infty$ , akkor az

$$\int_a^\infty f(x) dx \quad \text{és} \quad \int_a^\infty g(x) dx$$

improprius integrálok egyszerre konvergensek vagy divergensek.

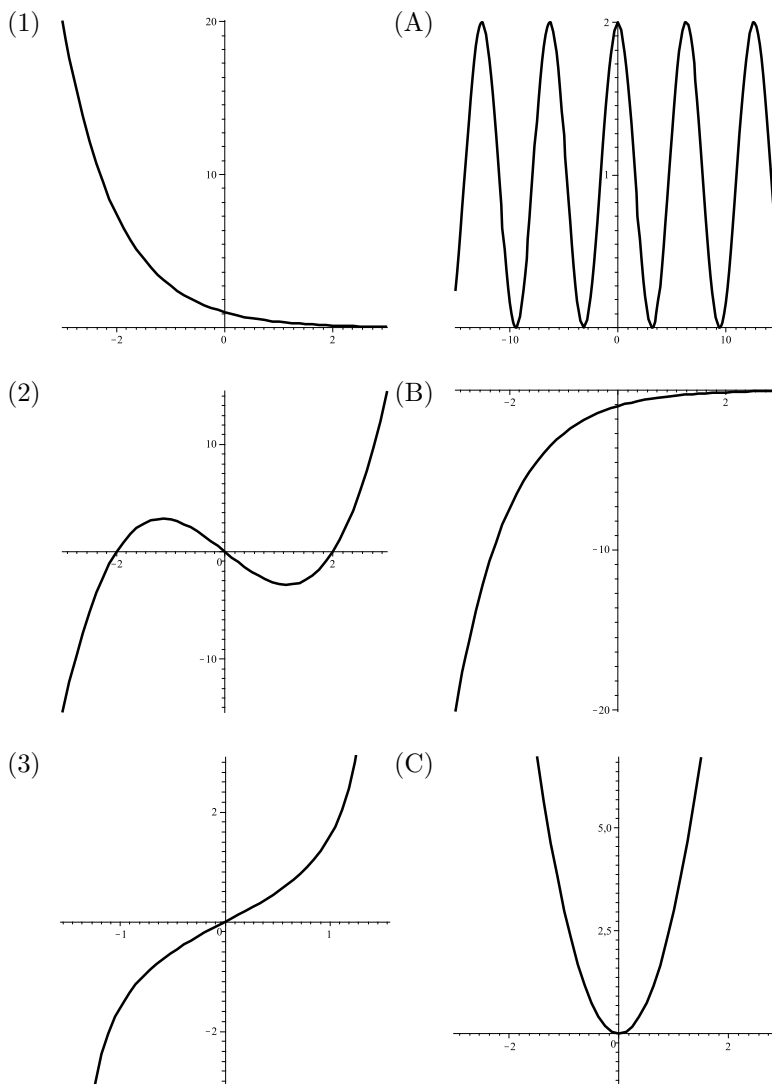
A két fenti konvergencia-kritérium értelemszerűen megfogalmazható korlátos intervallumokon vett improprius integrálok esetén is.

## 5.1. Határozatlan integrál

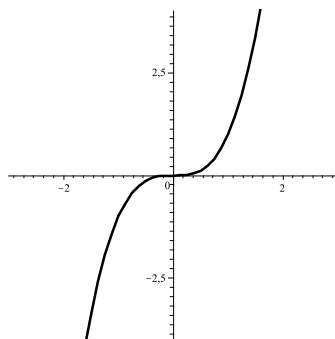
**5.1.**

A következő függvényeket a baloldali oszlopban, deriváltjaikat a jobb-  
oldali oszlopban ábráztuk. Keressük meg őket!

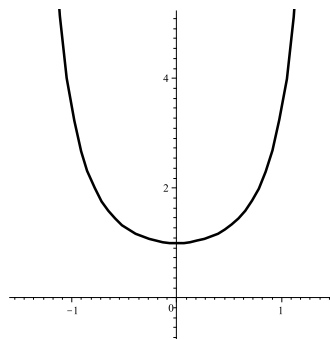
$$x^3 - 4x, \quad x^3, \quad x + \sin x, \quad \operatorname{tg} x, \quad e^{-x}$$



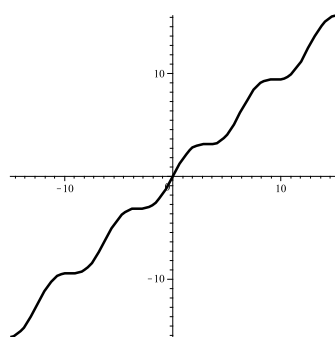
(4)



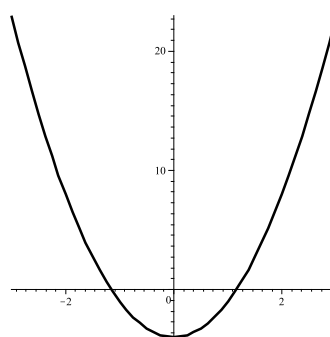
(D)



(5)



(E)




---

**Számítsuk ki a következő határozatlan integrálokat!**

**5.2.**  $\int \sin(x+3) dx$

**5.3.**  $\int (1+x+5x^2) dx$

**5.4.**  $\int \sqrt{x+2} dx$

**5.5.**  $\int (\sin x + \cos x)^2 dx$

**5.6.**  $\int \frac{1}{(x+2)^3} dx$

**5.7.**  $\int e^{2x+3} dx$

---

**Alapintegrálokra való visszavezetéssel, illetve lineáris helyettesítés alkalmazásával számítsuk ki a következő határozatlan integrálokat! Az eredményt minden esetben ellenőrizzük deriválással!**

5.8.  $\int x^{3/2} dx$

5.9.  $\int \left( \sqrt{x} + \frac{1}{x} \right) dx$

5.10.  $\int \frac{-5}{x-7} dx$

5.11.  $\int \frac{x^5 - 3x^3 + x - 2}{x^2} dx$

5.12.  $\int \sin 2x + 3 \cos x dx$

5.13.  $\int 2^x dx$

5.14.  $\int e^{2x-3} dx$

5.15.  $\int e^{-x} + 3 \cos \frac{x}{2} dx$

Határozzuk meg a következő  $\int \frac{f'}{f}$  vagy  $\int f^a f'$  alakúra visszavezethető határozatlan integrálokat! Az eredményt minden esetben ellenőrizzük deriválással!

5.16.  $\int \frac{x^2}{x^3+1} dx$

5.17.  $\int \ln^2 x \cdot \frac{1}{x} dx$

5.18.  $\int \frac{2x+1}{\sqrt{x^2+x+1}} dx$

5.19.  $\int x\sqrt{x^2+1} dx$

5.20.  $\int \frac{x}{\sqrt{x^2+1}} dx$

5.21.  $\int \frac{1}{x \ln x} dx$

5.22.  $\int \frac{1}{(1+x^2) \arctg x} dx$

5.23.  $\int \frac{\sin x}{\cos^{2013} x} dx$

A következő határozatlan integrálok nevezőjében másodfokú kifejezések vannak. A megoldásban segíthet a parciális törtekre bontás, az  $\frac{f'}{f}$  alakok felismerése, illetve visszavezetés az  $\int \frac{1}{1+x^2} dx$  alapintegrálra. Az eredményt minden esetben ellenőrizzük deriválással!

5.24.  $\int \frac{1}{2+x^2} dx$

5.25.  $\int \frac{4}{5+6x^2} dx$

5.26.  $\int \frac{1}{4-x^2} dx$

5.27.  $\int \frac{1}{4-9x^2} dx$



$$\mathbf{5.28.} \quad \int \frac{3}{(x+3)(x+2)} dx$$

$$\mathbf{5.29.} \quad \int \frac{3}{(x+3)(2-x)} dx$$

$$\mathbf{5.30.} \quad \int \frac{1}{10-x^2} dx$$

$$\mathbf{5.31.} \quad \int \frac{1}{10+x^2} dx$$

$$\mathbf{5.32.} \quad \int \frac{x-2}{x^2-2x+6} dx$$

$$\mathbf{5.33.} \quad \int \frac{x}{x^2-2x+6} dx$$

$$\mathbf{5.34.} \quad \int \frac{x^2+1}{x^2-1} dx$$

$$\mathbf{5.35.} \quad \int \frac{x^2-1}{x^2+1} dx$$

$$\mathbf{5.36.} \quad \int \frac{3x^3+2x-1}{x^2-x-6} dx$$

$$\mathbf{5.37.} \quad \int \frac{3x^2+2x-1}{x^2-2x+6} dx$$

$$\mathbf{5.38.} \quad \int \frac{x^4+2}{x^2+1} dx$$

$$\mathbf{5.39.} \quad \int \frac{x^4-2}{x^2-1} dx$$

---

**Integráljuk a következő racionális törtfüggvényeket!**

$$\mathbf{5.40.} \quad \int \frac{1}{x^3+x^2} dx$$

$$\mathbf{5.41.} \quad \int \frac{1}{x^3+x} dx$$

$$\mathbf{5.42.} \quad \int \frac{x}{x^2-2x+5} dx$$

$$\mathbf{5.43.} \quad \int \frac{x}{x^2-2x-3} dx$$

$$\mathbf{5.44.} \quad \int \frac{x+2}{x-1} dx$$

$$\mathbf{5.45.} \quad \int \frac{x^2+2}{x-1} dx$$

$$\mathbf{5.46.} \quad \int \frac{x^2-2}{x+1} dx$$

$$\mathbf{5.47.} \quad \int \frac{3x^2+2}{x^3+2x} dx$$

$$\mathbf{5.48.} \quad \int \frac{x+2}{x^2+2x+2} dx$$

$$\mathbf{5.49.} \quad \int \frac{2}{(x-1)^2} dx$$

---

**Alapintegrálokra való visszavezetéssel,  $\int \frac{f'}{f}$  vagy  $\int f' f^a$  alakok felismerésével, illetve trigonometrikus azonosságok felhasználásával számítsuk ki a következő határozatlan integrálokat! Az eredményt minden esetben ellenőrizzük deriválással!**

5.50.  $\int \sin^2 x \, dx$

5.51.  $\int \cos^2 2x \, dx$

5.52.  $\int \frac{3}{\cos^2 x} \, dx$

5.53.  $\int \frac{4}{\sin^2(3x-5)} \, dx$

5.54.  $\int \frac{5}{\cos^2(1-x)} \, dx$

5.55.  $\int \operatorname{tg} x \, dx$

5.56.  $\int \frac{(\sin x + \cos x)^2}{\sin^2 x} \, dx$

5.57.  $\int \frac{(\sin x - \cos x)^2}{\cos^2 x} \, dx$

5.58.  $\int \frac{\sin^2 2x + 1}{\cos^2 x} \, dx$

5.59.  $\int \sqrt{1 + \sin x} \, dx$

**Határozzuk meg parciális integrálással a következő határozatlan integrálokat!**

5.60.  $\int x \cos x \, dx$

5.61.  $\int x^2 \sin x \, dx$

5.62.  $\int e^x \sin x \, dx$

5.63.  $\int x^2 e^{-x} \, dx$

5.64.  $\int \operatorname{arctg} x \, dx$

5.65.  $\int x \operatorname{arctg} x \, dx$

5.66.  $\int x \operatorname{sh} x \, dx$

5.67.  $\int x \ln^2 x \, dx$

5.68.  $\int x \ln \frac{1+x}{1-x} \, dx$

5.69.  $\int \sin 3x \cdot \cos 4x \, dx$

5.70. Helyes-e a következő parciális integrálás? Ha igen, akkor  $0 = 1$ ?

$$\int \frac{1}{x} \cdot \frac{1}{\ln x} \, dx = \ln x \cdot \frac{1}{\ln x} - \int \ln x \cdot \frac{-\frac{1}{x}}{\ln^2 x} \, dx = 1 + \int \frac{1}{x} \cdot \frac{1}{\ln x} \, dx$$

**Határozzuk meg a következő határozatlan integrálokat a javasolt helyettesítésekkel!**

$$\text{5.71.} \quad \int x e^{x^2} dx, \quad t = x^2$$

$$\text{5.72.} \quad \int x^2 \sqrt{x^3 + 1} dx, \quad t = \sqrt{x^3 + 1}$$

$$\text{5.73.} \quad \int \frac{x^2}{\sqrt{1-x^2}} dx, \quad x = \sin t$$

$$\text{5.74.} \quad \int \frac{1}{\sqrt{x(1-x)}} dx, \quad x = \sin^2 t$$

$$\text{5.75.} \quad \int \frac{1}{\sin x} dx, \quad t = \cos x$$

$$\text{5.76.} \quad \int \frac{1}{1 + \cos^2 x} dx, \quad t = \operatorname{tg} x$$

$$\text{5.77.} \quad \int \frac{1}{2^x + 4^x} dx, \quad t = 2^x$$

$$\text{5.78.} \quad \int \frac{1}{1 + \sin^2 x} dx, \quad t = \operatorname{tg} x$$

$$\text{5.79.} \quad \int \frac{1}{(1-x^2)\sqrt{1-x^2}} dx, \quad x = \sin t$$

$$\text{5.80.} \quad \int \frac{1}{(1+x^2)\sqrt{1+x^2}} dx, \quad x = \operatorname{tg} t$$

$$\text{5.81.} \quad \int \frac{1}{(1+x^2)\sqrt{1+x^2}} dx, \quad x = \operatorname{sh} t$$

$$\text{5.82.} \quad \int \frac{1}{(x+1)^2(x-2)^3} dx, \quad t = \frac{x+1}{x-2}$$

**Számoljuk ki a következő határozatlan integrálokat helyettesítésekkel!**

$$\text{5.83.} \quad \int (2x+1)e^{x^2+x+1} dx \quad \text{5.84.} \quad \int \cos x e^{\sin x} dx$$

$$\text{5.85.} \quad \int \frac{dx}{\sqrt{x(1-x)}} \quad \text{5.86.} \quad \int \frac{x}{(x^2+1)^2} dx$$

$$\mathbf{5.87.} \quad \int \frac{e^x + 2}{e^x + e^{2x}} dx$$

$$\mathbf{5.88.} \quad \int \frac{1}{e^x + e^{-x}} dx$$

$$\mathbf{5.89.} \quad \int \frac{2^x + 3}{2^x + 2^{2x}} dx$$

$$\mathbf{5.90.} \quad \int \frac{1}{\cos x} dx$$

**Számoljuk ki a következő határozatlan integrálokat!**

$$\mathbf{5.91.} \quad \int \frac{1}{(x+2)(x-1)} dx$$

$$\mathbf{5.92.} \quad \int \frac{x+1}{x^2+x+1} dx$$

$$\mathbf{5.93.} \quad \int \cos^3 x \sin^2 x dx$$

$$\mathbf{5.94.} \quad \int \frac{e^x - e^{-x}}{e^x + e^{-x}} dx$$

$$\mathbf{5.95.} \quad \int \frac{1}{e^x + e^{-x}} dx$$

$$\mathbf{5.96.} \quad \int x \sin(x^2 + 1) dx$$

$$\mathbf{5.97.} \quad \int \frac{1}{1 + \sqrt{x}} dx$$

$$\mathbf{5.98.} \quad \int \ln x dx$$

$$\mathbf{5.99.} \quad \int \ln(x^2 + 1) dx$$

$$\mathbf{5.100.} \quad \int \frac{1}{(1+x^2) \operatorname{arctg} x} dx$$

$$\mathbf{5.101.} \quad \int \frac{1}{1 + \cos x} dx$$

$$\mathbf{5.102.} \quad \int \frac{\operatorname{arctg} x}{1+x^2} dx$$

$$\mathbf{5.103.} \quad \int 2x \sin(x^2 + 1) dx$$

$$\mathbf{5.104.} \quad \int e^{-3x} - 2 \sin(3x - 2) dx$$

$$\mathbf{5.105.} \quad \int (2x+2)(x^2+2x)^{222} dx$$

$$\mathbf{5.106.} \quad \int \operatorname{ctg} x dx$$

$$\mathbf{5.107.} \quad \int \frac{e^{2x}}{1+e^x} dx$$

$$\mathbf{5.108.} \quad \int \sqrt{2-x} dx$$

$$\mathbf{5.109.} \quad \int \frac{1}{1+\sqrt{x}} dx$$

$$\mathbf{5.110.} \quad \int x^2 \ln x dx$$

$$\mathbf{5.111.} \quad \int (x^2 + x) \ln x dx$$

$$\mathbf{5.112.} \quad \int (3\sqrt[4]{x} + 2) dx$$

$$\mathbf{5.113.} \quad \int \sin x \cdot \cos^{3000} x dx$$

$$\mathbf{5.114.} \quad \int \frac{1}{x \ln x} dx$$

$$\mathbf{5.115.} \quad \int 3^{-2x} dx$$

$$\mathbf{5.116.} \quad \int \sqrt{2-x^2} dx$$

$$\mathbf{5.117.} \quad \int \cos x \cdot e^{\sin x} dx$$

$$\mathbf{5.118.} \quad \int \frac{\cos^3 x}{\sin^4 x} dx$$

$$\mathbf{5.119.} \quad \int \frac{1}{\sin^2 x \cos^4 x} dx$$

$$\mathbf{5.120.} \quad \int \frac{\cos^5 x}{\sin^3 x} dx$$

$$\mathbf{5.121.} \quad \int \frac{1}{\cos^4 x} dx$$

$$\mathbf{5.122.} \quad \int \cos x \sin^2 x dx$$

## 5.2. Határozott integrál

**5.123.** Ellenőrizzük, hogy a  $[-2, 4]$  intervallumban megadott pontok megfelelnek-e a Riemann-integrál definíciójában szereplő felosztásnak? Ha igen, határozzuk meg a felosztás finomságát!

(a)  $x_0 = -2, x_1 = -1, x_2 = 0, x_3 = \frac{1}{2}, x_4 = 4$

(b)  $x_0 = -1, x_1 = 2, x_2 = 4$

(c)  $x_0 = -2, x_1 = 4$

(d)  $x_0 = -2, x_1 = x_0 + 1, x_2 = x_1 + \frac{1}{2}, \dots, x_n = x_{n-1} + \frac{1}{n}$

(e)  $x_0 = -2, x_1 = -1, 5, x_2 = 3, x_3 = 4$

**5.124.** Finomításai-e egymásnak a következő felosztások a  $[-2, 4]$  intervallumban?

(a)  $F = \{-2; -1; 0; 4\}$                        $\Phi = \{-2; -1; 0; \frac{1}{2}; 3; 4\}$

(b)  $F = \{-2; -1,5; 3; 4\}$                        $\Phi = \{-2; -1; 0; 3; 4\}$

**Határozzuk meg a következő függvények alsó és felső összegét az adott felosztás esetén a  $[-2, 4]$  intervallumban!**

**5.125.**  $f(x) = \begin{cases} 1, & \text{ha } x \in \mathbb{Q} \\ 0, & \text{ha } x \notin \mathbb{Q} \end{cases}, \quad \Phi = \{-2, 1, 5, 4\}$

$$\mathbf{5.126.} \quad x^2, \quad \Phi = \{-2, -1, 0, 4\} \quad \mathbf{5.127.} \quad x^2, \quad \Phi = \{-2, 4\}$$

$$\mathbf{5.128.} \quad [x], \quad \Phi = \{-2, -1, 0, 4\} \quad \mathbf{5.129.} \quad [x], \quad \Phi = \{-2, 1, 5, 4\}$$

**5.130.** Határozzuk meg az

$$f(x) = \begin{cases} 0, & \text{ha } 0 \leq x < \frac{1}{2} \\ 1, & \text{ha } \frac{1}{2} \leq x \leq 1 \end{cases}$$

függvény alsó és felső összegeinek halmazát a  $[0, 1]$  intervallum esetén!  
Adjuk meg az alsó összegek szuprimumát és a felső összegek infimumát!

**Riemann-integrálhatók-e a következő függvények a megadott  $I$  intervallumokban?**

$$\mathbf{5.131.} \quad f(x) = 5 \quad I = [0, 1] \quad \mathbf{5.132.} \quad f(x) = -4 \quad I = (-1, 2)$$

$$\mathbf{5.133.} \quad f(x) = [x] \quad I = [2, 4] \quad \mathbf{5.134.} \quad f(x) = |x| \quad I = [-2, 1]$$

$$\mathbf{5.135.} \quad f(x) = \begin{cases} \frac{1}{x}, & \text{ha } x \neq 0 \\ 0, & \text{ha } x = 0 \end{cases} \quad I = [0, 1]$$

$$\mathbf{5.136.} \quad D(x) = \begin{cases} 1, & \text{ha } x \in \mathbb{Q} \\ 0, & \text{ha } x \notin \mathbb{Q} \end{cases} \quad I = [3, 5]$$

$$\mathbf{5.137.} \quad g(x) = \begin{cases} x, & \text{ha } x \in \mathbb{Q} \\ -x, & \text{ha } x \notin \mathbb{Q} \end{cases} \quad I = [3, 5]$$

**5.138.** Bizonyítsuk be, hogy ha minden  $x \in [a, b]$  esetén teljesül, hogy  $m \leq f(x) \leq M$ , továbbá  $f$  integrálható  $[a, b]$ -n, akkor

$$m(b-a) \leq \int_a^b f(x) dx \leq M(b-a).$$

**5.139.** Bizonyítsuk be, hogy ha minden  $x \in [a, b]$  esetén teljesül, hogy  $f(x) \leq g(x)$ , továbbá  $f$  és  $g$  integrálható  $[a, b]$ -n, akkor

$$\int_a^b f(x) dx \leq \int_a^b g(x) dx.$$

**Bizonyítsuk be a következő egyenlőtlenségeket!**

**5.140.**  $0 \leq \int_1^2 \frac{1}{x^2 + e^x} dx \leq 1$       **5.141.**  $1 \leq \int_4^5 \sqrt{\ln x + 0,2} dx \leq 2$

**5.142.** Legyen

$$f(t) = \operatorname{sgn} t \text{ és } G(x) = \int_{-6}^x f(t) dt \quad (x > -6).$$

Határozzuk meg  $G(-4)$ ,  $G(0)$ ,  $G(1)$ ,  $G(6)$  értékét! Határozzuk meg  $G(x)$  deriváltját!

**5.143.** Legyen

$$f(t) = \begin{cases} 1, & \text{ha } t = \frac{1}{n} \quad (n \in \mathbb{N}^+) \\ 0 & \text{egyébként} \end{cases} \quad \text{és } G(x) = \int_0^x f(t) dt \quad (x > 0).$$

Határozzuk meg a  $G(x)$  és  $G'(x)$  függvényeket!

**5.144.** Lehet-e  $\operatorname{sgn} x$  valamilyen függvénynek az integrálfüggvénye  $[-1, 1]$ -en? Van-e  $\operatorname{sgn} x$ -nek primitív függvénye  $(-1, 1)$ -en?

**5.145.** Legyen

$$F(x) = \begin{cases} x^2, & \text{ha } x \neq 0 \\ 0, & \text{ha } x = 0 \end{cases} \quad \text{és } g(x) = \begin{cases} F'(x), & \text{ha } x \neq 0 \\ 1, & \text{ha } x = 0 \end{cases}.$$

Van-e  $g$ -nek primitív függvénye? Integrálható-e a  $g$  függvény? Deriválható-e a  $g$  függvény?

**Számítsuk ki a következő sorozatok határértékét!**

$$\mathbf{5.146.} \quad \lim_{n \rightarrow \infty} \frac{\sin \frac{1}{n} + \sin \frac{2}{n} + \cdots + \sin \frac{n}{n}}{n}$$

$$\mathbf{5.147.} \quad \lim_{n \rightarrow \infty} \frac{\sqrt{1} + \sqrt{1} + \cdots + \sqrt{n}}{n\sqrt{n}}$$

$$\mathbf{5.148.} \quad \lim_{n \rightarrow \infty} \frac{\sqrt[3]{1} + \sqrt[3]{2} + \cdots + \sqrt[3]{n}}{n\sqrt[3]{n}}$$

$$\mathbf{5.149.} \quad \lim_{n \rightarrow \infty} n \sum_{i=1}^n \left(\frac{i}{n}\right)^2 \quad \mathbf{5.150.} \quad \lim_{n \rightarrow \infty} n \sum_{i=1}^n \frac{i}{n^2 + i^2}$$

$$\mathbf{5.151.} \quad \lim_{n \rightarrow \infty} \sum_{i=1}^n \left( \ln \sqrt[n]{n+i} - \ln \sqrt[n]{n} \right)$$

**5.152.** Legyen  $f$  korlátos függvény  $[0, 1]$ -ben, és tegyük fel, hogy

$$\lim_{n \rightarrow \infty} \frac{f\left(\frac{1}{n}\right) + f\left(\frac{2}{n}\right) + \cdots + f\left(\frac{n}{n}\right)}{n} = 5.$$

Következik-e ebből, hogy  $f$  integrálható  $[0, 1]$ -ben, és hogy  $\int_0^1 f(x) dx = 5$ ?

**5.153.** Mi a következő két állítás logikai kapcsolata, azaz melyikből következik a másik?

**P:** Az  $f$  függvény integrálható  $[a, b]$ -n.

**Q:** Az  $|f|$  függvény integrálható  $[a, b]$ -n.

**5.154.** Számítsuk ki a

$$G(x) = \begin{cases} x^2 \sin \frac{1}{x}, & \text{ha } x \neq 0 \\ 0, & \text{ha } x = 0 \end{cases}$$

függvény deriváltját! Bizonyítsuk be ennek segítségével, hogy az

$$f(x) = \begin{cases} \cos \frac{1}{x}, & \text{ha } x \neq 0 \\ 0, & \text{ha } x = 0 \end{cases}$$



függvénynek van primitív függvénye!

**5.155.** Tudjuk, hogy az

$$f(x) = \begin{cases} \cos \frac{1}{x}, & \text{ha } x \neq 0 \\ 0, & \text{ha } x = 0 \end{cases}$$

függvénynek van primitív függvénye. Lehet-e primitív függvénye a

$$g(x) = \begin{cases} \cos \frac{1}{x}, & \text{ha } x \neq 0 \\ 1, & \text{ha } x = 0 \end{cases}$$

függvénynek?

**Határozzuk meg a következő függvények deriváltját!**

**5.156.**  $H(x) = \int_2^x \frac{1}{\ln t} dt.$

**5.157.**  $L(x) = \int_2^{\operatorname{ch} x} \frac{1}{\ln t} dt.$

**Határozzuk meg a következő határértékeket!**

**5.158.**  $\lim_{x \rightarrow \infty} \frac{\ln x}{x} \int_2^x \frac{1}{\ln t} dt$

**5.159.**  $\lim_{x \rightarrow \infty} \frac{\ln x}{x} \int_2^{\operatorname{ch} x} \frac{1}{\ln t} dt$

**Legyen  $f$  integrálható  $[-a, a]$ -n. Bizonyítsuk be, hogy ha  $f$**

**5.160.** páros függvény, akkor  $\int_{-a}^a f(x) dx = 2 \int_0^a f(x) dx,$

**5.161.** páratlan függvény, akkor  $\int_{-a}^a f(x) dx = 0.$

**Számítsuk ki a következő határozott integrálokat!**

$$\text{5.162.} \quad \int_2^3 x^2 dx$$

$$\text{5.163.} \quad \int_4^6 4^{5x+6} dx$$

$$\text{5.164.} \quad \int_0^\pi \sin x dx$$

$$\text{5.165.} \quad \int_3^4 x^2 \ln x dx$$

$$\text{5.166.} \quad \int_{-2\pi}^0 \sin^2 x dx$$

$$\text{5.167.} \quad \int_{-2}^3 \frac{3x^4 + 4x^3 - 2x + 1}{x^2 + 1} dx$$

Határozzuk meg a következő határozott integrálokat a javasolt helyettesítésekkel!

$$\text{5.168.} \quad \int_{1/2}^{\sqrt{3}/2} \frac{x^2}{\sqrt{1-x^2}} dx, \quad x = \sin t$$

$$\text{5.169.} \quad \int_2^5 x^2 \sqrt{x^3 + 1} dx, \quad t = \sqrt{x^3 + 1}$$

Határozzuk meg a következő határozott integrálokat helyettesítésekkel!

$$\text{5.170.} \quad \int_1^2 \frac{3^x + 2}{3^x + 3^{2x}} dx$$

$$\text{5.171.} \quad \int_0^1 \operatorname{arctg} x \cdot \sqrt{x} dx$$

$$\text{5.172.} \quad \int_{\pi/6}^{\pi/2} \frac{1}{1 + \operatorname{tg} x} dx$$

$$\text{5.173.} \quad \int_1^2 \frac{5^{2x}}{1 + 5^x} dx$$

$$\text{5.174.} \quad \text{Számítsuk ki az } \int_{-2}^2 \sin^9 x \cdot e^{x^4} dx \text{ integrált!}$$

### 5.3. A határozott integrál alkalmazásai

**5.175.** Határozzuk meg a  $-x^2 + 3$  függvény grafikonja alatti területet!

**5.176.** Határozzuk meg a  $\sin^2 x$  függvény egy „huplija” alatti területet!

---

**Határozzuk meg az  $f$  és  $g$  függvények grafikonja által bezárt tartományok területét!**

**5.177.**  $f(x) = x^2$ ,  $g(x) = -x + 2$

**5.178.**  $f(x) = -x^2 + 2x$ ,  $g(x) = -x$

**5.179.**  $f(x) = \sqrt{1 - x^2}$ ,  $g(x) = 0$

**5.180.**  $f(x) = \sqrt{1 - x^2}$ ,  $g(x) = -x$

---

**Határozzuk meg az adott görbék által bezárt területet!**

**5.181.**  $x$  tengely,  $\ln x$  grafikonja,  $x = e$  egyenes

**5.182.**  $x$  tengely,  $\operatorname{tg} x$  grafikonja,  $x = \pi/4$  egyenes

**5.183.**  $y$  tengely,  $x^2$  grafikonja,  $y = 3$  egyenes

**5.184.**  $y$  tengely,  $e^x$  grafikonja,  $y = 5$  egyenes

**5.185.**  $\frac{1}{1+x^2}$  grafikonja,  $\frac{x^2}{2}$  grafikonja

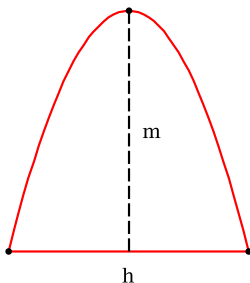
**5.186.**  $x^2$  grafikonja,  $y = x$  egyenes,  $y = -x + 1$  egyenes

**5.187.**  $x^2$  grafikonja,  $2x^2$  grafikonja,  $y = x$  egyenes

**5.188.**  $\frac{1}{x}$  grafikonja,  $y = x$  egyenes,  $y = -2x + 4$ ,  $5$  egyenes

---

- 5.189.** Bizonyítsuk be, hogy az ábrán látható parabolaszületnek a területe, amelyiknek a magassága  $m$ , és amelyet  $h$  hosszúságú húr határol,  $T = \frac{2}{3}mh$ .



**Határozzuk meg a következő, polárkoordinátákkal megadott görbék által határolt síkidomok területét!**

**5.190.**  $r = \cos \varphi$

**5.191.**  $r = \cos 2\varphi$

**5.192.**  $r = \cos 3\varphi$

**5.193.**  $r = \frac{1}{1 + \frac{1}{2} \cos \varphi}, \quad 0 \leq \varphi \leq \frac{\pi}{2}$

**Forgassuk meg a következő függvények grafikonjait az  $x$  tengely körül a megadott  $I$  intervallumok felett! Számítsuk ki a keletkezett forgástestek térfogatát!**

**5.194.**  $e^{-x} \quad I = [0, 1]$

**5.195.**  $\sqrt{x} \quad I = [0, 1]$

**5.196.**  $\sin x \quad I = [0, \pi]$

**5.197.**  $\frac{1}{x} \quad I = [1, 4]$

**Forgassuk meg a következő függvények grafikonjait az  $y$  tengely körül a megadott intervallumokban! Számítsuk ki a keletkezett forgástestek térfogatát!**

**5.198.**  $e^{-x} \quad x \in [0, 1]$

**5.199.**  $\sqrt{x} \quad x \in [0, 1]$

**5.200.**  $\sin x \quad x \in [0, \pi/2]$

**5.201.**  $\frac{1}{x} \quad x \in [1, 4]$

Forgassuk meg  $f$  és  $g$  grafikonját az  $x$  tengely körül az  $[x_1, x_2]$  intervallumban, majd számoljuk ki azoknak a forgástesteknek a térfogatát, amelyeket a megforgatott grafikonok, illetve az  $x = x_1$  és  $x = x_2$  síkok határolnak!

**5.202.**  $f(x) = -x^2 + 4$        $g(x) = -2x^2 + 8$        $x_1 = -2$     $x_2 = 2$

**5.203.**  $f(x) = \sin x$        $g(x) = -4x^4 + 4$        $x_1 = 0$     $x_2 = 1$

**5.204.**  $f(x) = e^x$        $g(x) = \frac{1}{x}$        $x_1 = 1$     $x_2 = 2$

**5.205.**  $f(x) = \ln x$        $g(x) = \operatorname{ch} x$        $x_1 = 1$     $x_2 = 2$

Számítsuk ki a következő függvénygrafikonok ívhosszát a megadott  $I$  intervallumokon!

**5.206.**  $\sqrt{x}$ ,  $I = [0, 1]$

**5.207.**  $\ln x$ ,  $I = [\sqrt{3}, \sqrt{8}]$

**5.208.**  $\operatorname{ch} x$ ,  $I = [-1, 1]$

**5.209.**  $x^{3/2}$ ,  $I = [0, 4]$

Határozzuk meg az egyenesvonalú pályán mozgó pont által megtett utat az adott időintervallumokban, ha a mozgó pont sebessége az idő függvényében

**5.210.**  $v(t) = 5t^2$        $t \in [0, 2]$

**5.211.**  $v(t) = 3 \sin 2t$        $t \in [0, 2\pi]$

Egy testet az  $x$  tengelyen az  $x$  tengely irányában ható  $F(x)$  erő mozgat az  $x_1$  pontból az  $x_2$  pontba. Mekkora munkát végez az erő?

**5.212.**  $F(x) = 2x$ ,       $[x_1, x_2] = [0, 2]$

**5.213.**  $F(x) = 3 \sin x, \quad [x_1, x_2] = [0, \pi/4]$

**Egy 1 méter hosszúságú rudat az  $x$  tengelyre helyezünk úgy, hogy a rúd bal végpontja az origó. Mekkora a rúd tömege, ha a sűrűsége az origótól  $x$  távolságra  $\varrho(x)$ ?**

**5.214.**  $\varrho(x) = 2 + x$

**5.215.**  $\varrho(x) = 2 + \frac{x^2}{1000}$

**5.216.** Határozzuk meg az előző feladatban a rudak tömegközéppontját!

**5.217.** Határozzuk meg az előző feladatban a rudak  $y$  tengelyre vonatkozó tehetetlenségi nyomatékát!

**5.218.** Mekkora munkát kell végeznünk ahhoz, hogy az  $x$  tengely  $x_0$  pontjában lévő  $q$  töltést az  $x$  tengely mentén a  $2x_0$  pontba vigyük, ha az origóban egy  $Q$  töltést rögzítettünk?

**5.219.** Egy homogén rúd  $l$  hosszúságú,  $m$  tömegű. A rudat az  $x$  tengelyre helyezük úgy, hogy a rúd bal végpontja az origó. Mekkora erővel vonzza ez a rúd a  $(0, y_0)$  pontban lévő  $M$  tömegű anyagi pontot?

## 5.4. Impropius integrál

**5.220.** Milyen  $c$  esetén konvergens az  $\int_1^{\infty} \frac{1}{x^c} dx$  impropius integrál?

**5.221.** Milyen  $c$  esetén konvergens az  $\int_0^1 \frac{1}{x^c} dx$  impropius integrál?

**5.222.** Melyik állításból következik, hogy az  $\int_1^{\infty} f(x) dx$  impropius integrál konvergens vagy az, hogy divergens?

$$\begin{array}{ll} \text{(a)} \quad \forall x \in [1, \infty) & |f(x)| < \frac{1}{x^2} & \text{(b)} \quad f(x) > \frac{1}{x^3} \\ \text{(c)} \quad \forall x \in [1, \infty) & |f(x)| > \frac{1}{x} & \text{(d)} \quad \forall x \in [1, \infty) \quad |f(x)| < \frac{1}{x} \end{array}$$

**Konvergensek-e, és ha igen, mennyi az értékük az alábbi improprius integráloknak!**

$$\text{5.223.} \quad \int_3^{\infty} 2^{-x} dx$$

$$\text{5.224.} \quad \int_0^1 \frac{dx}{x-1}$$

$$\text{5.225.} \quad \int_2^{\infty} \frac{dx}{x^3}$$

$$\text{5.226.} \quad \int_0^7 \frac{dx}{x^3}$$

$$\text{5.227.} \quad \int_1^{\infty} \frac{dx}{\sqrt{x}}$$

$$\text{5.228.} \quad \int_0^1 \frac{dx}{\sqrt{x}}$$

$$\text{5.229.} \quad \int_1^2 \frac{dx}{x \ln x}$$

$$\text{5.230.} \quad \int_2^{\infty} \frac{dx}{x \ln x}$$

$$\text{5.231.} \quad \int_{\frac{1}{2}}^1 \frac{dx}{x \ln x}$$

$$\text{5.232.} \quad \int_0^{\frac{1}{2}} \frac{dx}{x \ln x}$$

$$\text{5.233.} \quad \int_1^{\infty} \frac{dx}{x + \sqrt{x}}$$

$$\text{5.234.} \quad \int_0^1 \frac{dx}{x + \sqrt{x}}$$

$$\text{5.235.} \quad \int_0^1 \frac{dx}{\sqrt{1-x^2}}$$

$$\text{5.236.} \quad \int_0^1 \ln x dx$$

$$\text{5.237.} \quad \int_0^{\pi/2} \operatorname{tg} x dx$$

$$\text{5.238.} \quad \int_{-\infty}^{+\infty} \frac{dx}{1+x^2}$$

**Döntsük el az alábbi improprius integrálokról, hogy konvergensek, abszolút konvergensek vagy divergensek!**

**5.239.** 
$$\int_1^{\infty} \frac{dx}{\sqrt{x} + x^2}$$

**5.240.** 
$$\int_0^1 \frac{dx}{\sqrt{x} + x^2}$$

**5.241.** 
$$\int_2^{\infty} \frac{dx}{x \ln^2 x}$$

**5.242.** 
$$\int_1^{\infty} \frac{dx}{\sqrt{x} + x^3}$$

**5.243.** 
$$\int_0^{+\infty} \frac{x^2}{x^4 - x^2 + 1} dx$$

**5.244.** 
$$\int_1^{+\infty} \frac{x+1}{\sqrt{x^4+1}} dx$$

**5.245.** 
$$\int_1^{\infty} \frac{x+1}{x^3+x} dx$$

**5.246.** 
$$\int_0^1 \frac{dx}{\sqrt{x+x^3}}$$

**5.247.** 
$$\int_0^{\pi/2} \frac{dx}{\sin x}$$

**5.248.** 
$$\int_0^{\infty} e^{-x^2} dx$$

**5.249.** 
$$\int_1^{\infty} \frac{\cos x}{x^2} dx$$

**5.250.** 
$$\int_1^{\infty} \frac{\ln x}{x^2} dx$$

**5.251.** 
$$\int_0^{\infty} x e^{-x^2} dx$$

**5.252.** 
$$\int_0^{\infty} x^2 e^{-x^2} dx$$

**5.253.** 
$$\int_0^{+\infty} \frac{dx}{x^2}$$

**5.254.** 
$$\int_1^{+\infty} \frac{\cos x}{x^2} dx$$



## 6. fejezet

# Numerikus sorok

### 6.1. Konvergenciakritériumok.

— Ha  $\sum_{n=1}^{\infty} a_n$  konvergens, akkor  $a_n \rightarrow 0$ .

— **Sorok Cauchy-kritériuma.** A  $\sum_{n=1}^{\infty} a_n$  numerikus sor akkor és csak akkor konvergens, ha

$$\forall \varepsilon > 0 \exists n_0 \forall n, m (n_0 \leq n \leq m \implies \left| \sum_{k=n}^m a_k \right| < \varepsilon).$$

— **Majoráns kritérium.** Ha véges sok kivétellel minden  $n \in \mathbb{N}^+$  esetén  $|a_n| \leq b_n$  és  $\sum_{n=1}^{\infty} b_n$  konvergens, akkor a  $\sum_{n=1}^{\infty} a_n$  sor abszolút konvergens.

— **Nagyságrendi kritérium** vagy **határérték összehasonlító kritérium.** Ha  $\sum_{n=1}^{\infty} a_n$  és  $\sum_{n=1}^{\infty} b_n$  két pozitív tagú sor, valamint létezik a  $\lim_{n \rightarrow \infty} \frac{a_n}{b_n} = c$  határérték és  $0 < c < \infty$ , akkor a két sor egyszerre konvergens vagy divergens.

— **Hányadoskritérium.** Ha  $\lim_{n \rightarrow \infty} \frac{|a_{n+1}|}{|a_n|}$  létezik és értéke  $q$ , akkor  $q < 1$  esetén a  $\sum_{n=1}^{\infty} a_n$  sor abszolút konvergens,  $q > 1$  esetén pedig divergens.  $q = 1$  esetén a hányadoskritériummal nem tudjuk eldönteni, hogy a sor konvergens vagy divergens.

- **Gyökkritérium.** Ha  $\lim_{n \rightarrow \infty} \sqrt[n]{|a_n|}$  létezik és értéke  $q$ , akkor  $q < 1$  esetén a  $\sum_{n=1}^{\infty} a_n$  sor abszolút konvergens,  $q > 1$  esetén pedig divergens.  $q = 1$  esetén a gyökkritériummal nem tudjuk eldönteni, hogy a sor konvergens vagy divergens.
- **Integrálkritérium.** Ha  $f$  egy monoton csökkenő pozitív függvény az  $[1, \infty)$  félegyenesen, akkor a  $\sum_{n=1}^{\infty} f(n)$  végtelen sor és a  $\int_1^{\infty} f(x) dx$  improprius integrál egyszerre konvergens vagy divergens.
- **Leibniz-kritérium.** A  $\sum_{n=1}^{\infty} (-1)^n a_n$  numerikus sort *Leibniz-típusú* sor-nak vagy röviden *Leibniz-sornak* nevezzük, ha az  $(a_n)$  sorozat **monoton csökkenően** nullához tart. A Leibniz-típusú sorok konvergenssek.

## 6.1. Numerikus sorok konvergenciája

Írjuk fel a következő sorok  $n$ -edik részletösszegét! Határozzuk meg a részletösszegek határértékét! Adjuk meg a sorok összegét!

**6.1.**  $1 + \frac{1}{2} + \frac{1}{4} + \cdots + \frac{1}{2^k} + \cdots$

**6.2.**  $1 + \frac{1}{10} + \frac{1}{100} + \cdots + \frac{1}{10^k} + \cdots$

**6.3.**  $\frac{1}{1 \cdot 2} + \frac{1}{2 \cdot 3} + \cdots + \frac{1}{k \cdot (k+1)} + \cdots$

**6.4.**  $\frac{1}{1 \cdot 4} + \frac{1}{4 \cdot 7} + \cdots + \frac{1}{(3k-2) \cdot (3k+1)} + \cdots$

**6.5.**  $\frac{1}{1 \cdot 4} + \frac{1}{2 \cdot 5} + \cdots + \frac{1}{k \cdot (k+3)} + \cdots$

Határozzuk meg a következő sorok összegét, ha konvergenssek!

$$\text{6.6.} \quad \sum_{n=1}^{\infty} \frac{4^n}{9^n}$$

$$\text{6.7.} \quad \sum_{n=1}^{\infty} \frac{5^n}{9^n}$$

$$\text{6.8.} \quad \sum_{n=1}^{\infty} \frac{4^n + 5^n}{9^n}$$

$$\text{6.9.} \quad \sum_{n=1}^{\infty} \frac{2 \cdot 4^n}{(-9)^n}$$

$$\text{6.10.} \quad \sum_{n=1}^{\infty} \frac{9^n}{4^n + 5^n}$$

$$\text{6.11.} \quad \sum_{n=1}^{\infty} \frac{(-2)^n}{5^n}$$

$$\text{6.12.} \quad \sum_{n=1}^{\infty} \frac{3^n}{10^n}$$

$$\text{6.13.} \quad \sum_{n=1}^{\infty} \frac{4^n}{(-3)^n}$$

**6.14.** Konvergens-e a  $\sum_{n=1}^{\infty} (-1)^n$  sor?

**6.15.** Bizonyítsuk be, hogy ha  $\sum_{n=1}^{\infty} a_n$  konvergens, akkor  $\lim_{n \rightarrow \infty} a_n = 0$  (lásd a tagok 0-hoz tartásáról szóló konvergencia kritériumot).

**6.16.** Bizonyítsuk be, hogy a  $\sum_{n=1}^{\infty} \frac{1}{n}$  **harmonikus sor** divergens.

**Változhat-e egy végtelen sor konvergenciája, illetve összege, ha**

**6.17.** a sorba új zárójeleket teszünk?

**6.18.** a sorba véges sok új tagot illesztünk?

**6.19.** a sorból zárójeleket veszünk ki?

**6.20.** a sorból véges sok tagot elhagyunk?

**Igaz-e, hogy ha**

**6.21.**  $a_n \rightarrow 0$ , akkor  $\sum_{n=1}^{\infty} a_n$  konvergens?

**6.22.**  $\sum_{n=1}^{\infty} a_n$  konvergens, akkor  $a_n \rightarrow 0$ ?

**6.23.**  $a_n \rightarrow 1$ , akkor  $\sum_{n=1}^{\infty} a_n$  divergens?

**6.24.**  $\sum_{n=1}^{\infty} a_n$  divergens, akkor  $a_n \rightarrow 1$ ?

**Hova tartanak a következő sorok tagjaiból álló sorozatok? Konvergensek-e a sorok?**

**6.25.**  $\sum_{n=1}^{\infty} \frac{1}{n+1}$

**6.26.**  $\sum_{n=1}^{\infty} \frac{1}{n^2}$

**6.27.**  $\sum_{n=1}^{\infty} \frac{1}{n+n^2}$

**6.28.**  $\sum_{n=1}^{\infty} \frac{2}{n^2}$

**6.29.**  $\sum_{n=1}^{\infty} \frac{1}{3n}$

**6.30.**  $\sum_{n=1}^{\infty} \frac{1}{\sqrt{n}}$

**6.31.**  $\sum_{n=1}^{\infty} \frac{1}{\sqrt[3]{n}}$

**6.32.**  $\sum_{n=1}^{\infty} \frac{1}{\sqrt[3]{3}}$

**6.33.**  $\sum_{n=1}^{\infty} \frac{1}{\sqrt[3]{0,01}}$

**6.34.**  $\sum_{n=1}^{\infty} \frac{1}{\sqrt[3]{n}}$

**6.35.**  $\sum_{n=1}^{\infty} \sin(n\pi)$

**6.36.**  $\sum_{n=1}^{\infty} \cos(n\pi)$

**6.37.** Bizonyítsuk be, hogy ha minden  $n$  pozitív egész esetén  $a_n > 0$ ,  $a_n \leq b_n \leq c_n$ , továbbá  $\sum_{n=1}^{\infty} a_n = 7$  és  $\sum_{n=1}^{\infty} c_n = 10$ , akkor  $\sum_{n=1}^{\infty} b_n$  konvergens!

**6.38.** Bizonyítsuk be, hogy ha minden  $n$  pozitív egész esetén  $a_n > 0$ , akkor  $\sum_{n=1}^{\infty} a_n$  konvergens vagy végtelen.

**6.39.** Tegyük fel, hogy  $\sum_{n=1}^{\infty} a_n$  konvergens, és hogy minden pozitív egész  $n$  szám esetén  $b_n < a_n$ . Következik-e ebből, hogy  $\sum_{n=1}^{\infty} b_n$  konvergens?

**6.40.** Tegyük fel, hogy  $\sum_{n=1}^{\infty} a_n$  divergens, és hogy minden pozitív egész  $n$  szám esetén  $b_n > a_n$ . Következik-e ebből, hogy  $\sum_{n=1}^{\infty} b_n$  divergens?

## 6.2. Pozitív tagú sorok konvergenciakritériumai

**Döntsük el a majoráns kritérium segítségével, hogy konvergensek-e a következő sorok!**

**6.41.**  $\sum_{n=1}^{\infty} \frac{1}{n+4}$

**6.42.**  $\sum_{n=1}^{\infty} \frac{1}{2n+1}$

**6.43.**  $\sum_{n=1}^{\infty} \frac{1}{n^2+4}$

**6.44.**  $\sum_{n=1}^{\infty} \frac{1}{2^n}$

**6.45.** Tegyük fel, hogy minden pozitív egész  $n$ -re  $a_n > 0$ . Mit állíthatunk a  $\sum_{n=1}^{\infty} a_n$  sor konvergenciáját illetően biztosan, ha

(a)  $\lim \frac{a_{n+1}}{a_n} > 1$ ;    (b)  $\lim \frac{a_{n+1}}{a_n} < 1$ ;    (c)  $\lim \frac{a_{n+1}}{a_n} = 1$ ?

**Döntsük el a hányadoskritérium segítségével, hogy konvergensek-e a következő sorok!**

**6.46.**  $\sum_{n=1}^{\infty} \frac{1}{n!}$

**6.47.**  $\sum_{n=1}^{\infty} \frac{n^2}{n!}$

$$\mathbf{6.48.} \quad \sum_{n=1}^{\infty} \frac{3^n n!}{n^n}$$

$$\mathbf{6.49.} \quad \sum_{n=1}^{\infty} \frac{2^n n!}{n^n}$$

**6.50.** Tegyük fel, hogy minden pozitív egész  $n$ -re  $a_n > 0$ . Mit állíthatunk a  $\sum_{n=1}^{\infty} a_n$  sor konvergenciáját illetően biztosan, ha

(a)  $\lim \sqrt[n]{a_n} > 1$       (b)  $\lim \sqrt[n]{a_n} < 1$       (c)  $\lim \sqrt[n]{a_n} = 1$

**Döntsük el a gyökkritérium segítségével, hogy konvergensek-e a következő sorok!**

$$\mathbf{6.51.} \quad \sum_{n=1}^{\infty} \frac{n}{2^n}$$

$$\mathbf{6.52.} \quad \sum_{n=1}^{\infty} \frac{2^n + 1}{3^n}$$

$$\mathbf{6.53.} \quad \sum_{n=1}^{\infty} \left( \frac{1}{2} + \frac{1}{n} \right)^n$$

$$\mathbf{6.54.} \quad \sum_{n=1}^{\infty} \left( \frac{3}{2} - \frac{1}{n} \right)^n$$

**6.55.** Tegyük fel, hogy  $b_n \neq 0$  ( $n = 1, 2, 3, \dots$ ), továbbá  $\lim_{n \rightarrow \infty} \frac{a_n}{b_n} = c > 0$ . Mit állíthatunk a  $\sum_{n=1}^{\infty} a_n$  sor konvergenciáját illetően biztosan, ha

(a)  $\sum_{n=1}^{\infty} b_n$  konvergens.      (b)  $\sum_{n=1}^{\infty} b_n$  divergens.

**6.56.** Tegyük fel, hogy  $b_n \neq 0$  ( $n = 1, 2, 3, \dots$ ), továbbá  $\lim_{n \rightarrow \infty} \frac{a_n}{b_n} = 0$ . Mit állíthatunk a  $\sum_{n=1}^{\infty} a_n$  sor konvergenciáját illetően biztosan, ha

$$(a) \sum_{n=1}^{\infty} b_n \text{ konvergens.} \quad (b) \sum_{n=1}^{\infty} b_n \text{ divergens.}$$

**6.57.** Tegyük fel, hogy  $b_n \neq 0$  ( $n = 1, 2, 3, \dots$ ), továbbá  $\lim_{n \rightarrow \infty} \frac{a_n}{b_n} = \infty$ . Mit állíthatunk a  $\sum_{n=1}^{\infty} a_n$  sor konvergenciáját illetően biztosan, ha

$$(a) \sum_{n=1}^{\infty} b_n \text{ konvergens.} \quad (b) \sum_{n=1}^{\infty} b_n \text{ divergens.}$$

**Döntsük el ismert sorok nagyságrendjével való összehasonlítással (ld. nagyságrendi kritérium), hogy konvergensek-e a következő sorok!**

**6.58.**  $\sum_{n=1}^{\infty} \frac{n^2 + 4}{n^4 + 3n}$

**6.59.**  $\sum_{n=1}^{\infty} \frac{2n^3}{n^2 + 3}$

**6.60.**  $\sum_{n=1}^{\infty} \frac{\sqrt{2n^6}}{n^2 + 3}$

**6.61.**  $\sum_{n=1}^{\infty} \frac{\sqrt[3]{3n^9}}{\sqrt{n^4 + 3}}$

**6.62.** Tegyük fel, hogy  $\int_1^{\infty} f(x) dx = 5$ . Következik-e ebből, hogy  $\sum_{n=1}^{\infty} f(n) = 5$ ?

**6.63.** Tegyük fel, hogy az  $\int_1^{\infty} f(x) dx$  improprius integrál konvergens. Következik-e ebből, hogy  $\sum_{n=2}^{\infty} f(n)$  konvergens?

**6.64.** Tegyük fel, hogy  $f(x) > 0$ , és  $f(x)$  monoton csökken az  $(1, \infty)$  intervallumban, továbbá  $\int_1^{\infty} f(x) dx = 5$ . Következik-e ebből, hogy  $\sum_{n=2}^{\infty} f(n) = 5$ ?

**6.65.** Tegyük fel, hogy  $f(x) > 0$  és  $f(x)$  monoton csökken az  $(1, \infty)$  intervallumban, továbbá az  $\int_1^{\infty} f(x) dx$  improprius integrál konvergens. Következik-e ebből, hogy  $\sum_{n=2}^{\infty} f(n)$  konvergens?

**Döntsük el az integrálkritérium segítségével, hogy konvergensek-e a következő sorok!**

**6.66.**  $\sum_{n=2}^{\infty} \frac{1}{n \ln n}$

**6.67.**  $\sum_{n=2}^{\infty} \frac{1}{n^{4/5}}$

**Döntsük el, hogy konvergensek-e a következő sorok!**

**6.68.**  $\sum_{n=1}^{\infty} \frac{1}{n + \sqrt{n}}$

**6.69.**  $\sum_{n=1}^{\infty} \frac{4}{n^2 + \sqrt{n}}$

**6.70.**  $\sum_{n=1}^{\infty} (-1)^n \frac{1}{\sqrt{n}}$

**6.71.**  $\sum_{n=1}^{\infty} (-1)^n \frac{1}{\sqrt[n]{n}}$

**6.72.**  $\sum_{n=1}^{\infty} \frac{n^2}{3^n}$

**6.73.**  $\sum_{n=1}^{\infty} (-1)^n \sqrt[n]{\frac{1}{2}}$

**6.74.**  $\sum_{n=1}^{\infty} \frac{n^2}{2^n}$

**6.75.**  $\sum_{n=1}^{\infty} \left(\frac{1}{2} - \frac{1}{n}\right)^n$

**6.76.**  $\sum_{n=1}^{\infty} \left(-\frac{2}{3}\right)^n$

**6.77.**  $\sum_{n=1}^{\infty} \frac{n!}{n^n}$

**6.78.**  $\sum_{n=1}^{\infty} \frac{1000^n}{n!}$

**6.79.**  $\sum_{n=2}^{\infty} \frac{1}{n \ln^2 n}$

**6.80.**  $\sum_{n=1}^{\infty} \frac{n^{10}}{3^n - 2^n}$

**6.81.**  $\sum_{n=1}^{\infty} n \left(\frac{1}{2}\right)^n$



$$\text{6.82.} \quad \sum_{n=1}^{\infty} (-1)^n \left(-\frac{1}{n}\right)^n$$

$$\text{6.83.} \quad \sum_{n=1}^{\infty} \left(-\frac{3}{2}\right)^n$$

$$\text{6.84.} \quad \sum_{n=1}^{\infty} \left(\frac{n+200}{2n+7}\right)^n$$

$$\text{6.85.} \quad \sum_{n=1}^{\infty} \frac{n^5+3}{n^3-n+2}$$

$$\text{6.86.} \quad \sum_{n=1}^{\infty} \frac{2^n+3^n}{5^n}$$

$$\text{6.87.} \quad \sum_{n=1}^{\infty} (-1)^n \sqrt[n]{\frac{1}{2}}$$

$$\text{6.88.} \quad \sum_{n=1}^{\infty} \left(\frac{5}{2}\right)^n$$

$$\text{6.89.} \quad \sum_{n=1}^{\infty} \left(\frac{2}{5}\right)^n$$

$$\text{6.90.} \quad \sum_{n=1}^{\infty} \left(1 - \frac{1}{n}\right)$$

$$\text{6.91.} \quad \sum_{n=1}^{\infty} \left(1 - \frac{1}{n}\right)^n$$

$$\text{6.92.} \quad \sum_{n=1}^{\infty} \left(1 + \frac{1}{n}\right)$$

$$\text{6.93.} \quad \sum_{n=1}^{\infty} \left(1 + \frac{1}{n}\right)^n$$

$$\text{6.94.} \quad \sum_{n=1}^{\infty} \frac{(n+1)^3}{3^n}$$

$$\text{6.95.} \quad \sum_{n=1}^{\infty} (-1)^n \frac{1}{\sqrt[n]{n^2+1}}$$

$$\text{6.96.} \quad \sum_{n=1}^{\infty} n(n+5)$$

$$\text{6.97.} \quad \sum_{n=1}^{\infty} (\sqrt{n+1} - \sqrt{n})$$

---

**6.98.** Tegyük fel, hogy  $\sum_{n=1}^{\infty} a_n = A \in \mathbb{R}$  és  $\sum_{n=1}^{\infty} b_n = B \in \mathbb{R}$ , valamint  $c$  egy valós szám. Következnek-e ebből az alábbi állítások?

$$\text{(a)} \quad \sum_{n=1}^{\infty} c \cdot a_n = c \cdot A$$

$$\text{(b)} \quad \sum_{n=1}^{\infty} (a_n + b_n) = A + B$$

$$\text{(c)} \quad \sum_{n=1}^{\infty} (a_n - b_n) = A - B$$

$$\text{(d)} \quad \sum_{n=1}^{\infty} (a_n b_n) = AB$$

$$\text{(e)} \quad \sum_{n=1}^{\infty} \frac{a_n}{b_n} = \frac{A}{B} \quad (b_n \neq 0)$$

$$\text{(f)} \quad \sum_{n=1}^{\infty} |a_n| = |A|$$

### 6.3. Feltételes és abszolút konvergencia

- 6.99.** Igaz-e, hogy ha egy végtelen sorban a tagok előjele váltakozik, akkor a sor konvergens?
- 6.100.** Igaz-e, hogy ha egy végtelen sorban a tagokból álló sorozat monoton csökken, akkor a sor konvergens?
- 6.101.** Igaz-e, hogy ha egy végtelen sorban a tagok előjele váltakozik, és a tagok abszolút értékeiből álló sorozat monoton csökken, akkor a sor konvergens?
- 6.102.** Igaz-e, hogy ha egy végtelen sorban a tagokból álló sorozat monoton csökkenve 0-hoz tart, akkor a sor konvergens?
- 6.103.** Igaz-e, hogy ha egy végtelen sorban a tagok előjele váltakozik, és a tagok abszolút értékeiből álló sorozat 0-hoz tart, akkor a sor konvergens?

---

#### Melyik sor Leibniz-sor? Melyik sor konvergens?

- 6.104.**  $1 - \frac{1}{2} + \frac{1}{3} - \frac{1}{4} + \dots$
- 6.105.**  $1 - \frac{1}{3} + \frac{1}{5} - \frac{1}{7} + \dots$
- 6.106.**  $1 - \frac{1}{1 \cdot 3} + \frac{1}{3 \cdot 5} - \frac{1}{5 \cdot 7} + \dots$
- 6.107.**  $1 - \frac{1}{2} + \frac{1}{4} - \frac{1}{8} + \dots$
- 6.108.**  $1 - \frac{1}{\sqrt{2}} + \frac{1}{\sqrt[3]{3}} - \frac{1}{\sqrt[4]{4}} + \dots$
- 6.109.**  $1 - \frac{1}{2 \cdot 3} + \frac{1}{4 \cdot 9} - \frac{1}{8 \cdot 27} + \dots$

---

**Döntsük el, hogy konvergensek-e, illetve abszolút konvergensek-e a következő sorok!**

**6.110.** 
$$\sum_{n=1}^{\infty} (-1)^n$$

**6.111.** 
$$\sum_{n=1}^{\infty} (-2)^n$$

**6.112.** 
$$\sum_{n=1}^{\infty} \left(-\frac{1}{2}\right)^n$$

**6.113.** 
$$\sum_{n=1}^{\infty} (-1)^n \frac{1}{n}$$

**6.114.** 
$$\sum_{n=1}^{\infty} (-1)^n \frac{1}{2n+1}$$

**6.115.** 
$$\sum_{n=1}^{\infty} (-1)^n \frac{1}{n \cdot (n+1)}$$

**6.116.** 
$$\sum_{n=1}^{\infty} (-1)^n \frac{1}{n^3}$$

**6.117.** 
$$\sum_{n=1}^{\infty} (-1)^n \frac{1}{\sqrt[5]{n}}$$

**6.118.** 
$$\sum_{n=1}^{\infty} (-1)^n \frac{1}{n^{1,3}}$$

**6.119.** 
$$\sum_{n=1}^{\infty} (-1)^n \frac{1}{n^{0,3}}$$

**6.120.** 
$$\sum_{n=1}^{\infty} \frac{\sin n}{n^2}$$

**6.121.** 
$$\sum_{n=1}^{\infty} \frac{(\sin n)^2}{n^2}$$

---

**6.122.** Változhat-e egy pozitív tagú végtelen sor konvergenciája, illetve összege, ha

- (a) a sorba új zárójeleket teszünk?
- (b) a sorból zárójeleket veszünk ki?
- (c) a sor tagjainak a sorrendjét átrendezzük?

## 7. fejezet

# Függvénysorozatok és sorok

### 7.1. Az egyenletes konvergencia tulajdonságai.

- **Folytonosság.** Folytonos függvények egyenletesen konvergens sorozatának határértéke folytonos.
- **Deriválhatóság.** Ha a deriválható függvényekből álló  $f_n$  sorozat pontonként tart az  $f$  függvényhez,  $f'_n$  pedig egyenletesen tart egy  $g$  függvényhez az  $(a, b)$  intervallumon, akkor ezen az intervallumon  $f$  deriválható és  $f' = g$ , azaz

$$\lim_{n \rightarrow \infty} f'_n = \left( \lim_{n \rightarrow \infty} f_n \right)' = f'$$

- **Integrálhatóság.** Ha a Riemann-integrálható függvényekből álló  $f_n$  sorozat egyenletesen tart az  $f$  függvényhez az  $[a, b]$  intervallumon, akkor az  $f$  függvény is integrálható, és integrálja megegyezik a sorozat integráljainak határértékével, azaz

$$\lim_{n \rightarrow \infty} \int_a^b f_n(x) dx = \int_a^b \left( \lim_{n \rightarrow \infty} f_n(x) \right) dx = \int_a^b f(x) dx$$

**7.2. Egyenletes konvergencia Weierstrass-kritériuma.** Ha a  $\sum_{n=1}^{\infty} f_n(x)$  függvénysornak van a  $H$  halmazon **konvergens numerikus majoránsa**, azaz van olyan  $(M_n)$  sorozat, hogy minden  $n \in \mathbb{N}$  és  $x \in H$  esetén

$$|f_n(x)| \leq M_n \quad \text{és} \quad \sum_{n=1}^{\infty} M_n < \infty,$$

akkor a  $\sum_{n=1}^{\infty} f_n(x)$  függvénysor abszolút és egyenletesen konvergens  $H$ -n.

**7.3. Hatványsorok konvergenctartománya.**

- A  $\sum_{n=0}^{\infty} a_n(x-c)^n$  hatványsor konvergenciatartománya egy olyan intervallum, amelyik az esetleges végpontokat kivéve szimmetrikus a hatványsor középpontjára,  $c$ -re.

A fenti tételbe beleértendő az az eset, amikor ez a tartomány az egész számegegyenes, illetve az egyedül a  $c$  pontból álló halmaz.

- **Konvergenciasugár.** Ha  $\limsup \sqrt[n]{|a_n|} = L$ , illetve ha  $\limsup \frac{|a_{n+1}|}{|a_n|} = L$ , akkor a konvergenciasugár

$$R = \begin{cases} \frac{1}{L} & \text{ha } 0 < L < \infty \\ \infty & \text{ha } L = 0 \\ 0 & \text{ha } L = \infty \end{cases}$$

- A konvergenciatartomány belsejében minden zárt intervallumon egyenletes a konvergencia és így lehet tagonként deriválni és integrálni.

**7.4.** Ha  $f$  akárhányszor deriválható a  $c$  pontban, akkor a

$$\sum_{n=0}^{\infty} \frac{f^{(n)}(c)}{n!} (x-c)^n$$

hatványsort az  $f$  függvény  $c$  pontbeli **Taylor-sorának** nevezzük, a fenti sorban szereplő

$$a_n = \frac{f^{(n)}(c)}{n!}$$

együtthatókat pedig **Taylor-együtthatóknak**.

**7.5. Lagrange-maradék.** Legyen az  $f$  függvény  $n+1$ -szer deriválható a  $[c, x]$  intervallumon. Ekkor van olyan  $d \in (c, x)$  szám, amelyre

$$f(x) = \sum_{k=0}^n \frac{f^{(k)}(c)}{k!} (x-c)^k + \frac{f^{(n+1)}(d)}{(n+1)!} (x-c)^{n+1}.$$

Ha az  $f$  függvény  $n+1$ -szer deriválható az  $[x, c]$  intervallumon, akkor van olyan  $d \in (x, c)$  szám, amelyre a fenti egyenlőség teljesül.

**7.6.** Egyenletesen korlátos deriváltú függvényt előállít a Taylor-sora, azaz ha az  $(a, b)$  intervallumon az  $f$  függvény akárhányszor deriválható, és megadható

egy  $M$  szám úgy, hogy tetszőleges  $n \in \mathbb{N}$  és  $x \in (a, b)$  esetén  $|f^{(n)}(x)| \leq M$ , akkor minden  $c \in (a, b)$ -re a  $c$ -hez tartozó Taylor-sor előállítja a függvényt az egész  $(a, b)$  intervallumon.

### 7.7. Nevezetes Taylor-sorok.

$$e^x = \sum_{n=0}^{\infty} \frac{x^n}{n!} \quad \text{ha } x \in \mathbb{R};$$

$$\sin x = \sum_{n=0}^{\infty} (-1)^n \frac{x^{2n+1}}{(2n+1)!} \quad \text{ha } x \in \mathbb{R};$$

$$\cos x = \sum_{n=0}^{\infty} (-1)^n \frac{x^{2n}}{(2n)!} \quad \text{ha } x \in \mathbb{R};$$

$$\operatorname{sh} x = \sum_{n=0}^{\infty} \frac{x^{2n+1}}{(2n+1)!} \quad \text{ha } x \in \mathbb{R};$$

$$\operatorname{ch} x = \sum_{n=0}^{\infty} \frac{x^{2n}}{(2n)!} \quad \text{ha } x \in \mathbb{R};$$

$$\frac{1}{1-x} = \sum_{n=0}^{\infty} x^n \quad \text{ha } |x| < 1 \quad \text{(Geometriai sor)};$$

$$\ln(1+x) = \sum_{n=0}^{\infty} (-1)^n \frac{x^{n+1}}{n+1} \quad \text{ha } |x| < 1;$$

$$\operatorname{arctg} x = \sum_{n=0}^{\infty} (-1)^n \frac{x^{2n+1}}{2n+1} \quad \text{ha } |x| < 1.$$

### 7.8. Fourier-sor.

— Ha  $f : \mathbb{R} \rightarrow \mathbb{R}$  periodikus  $2\pi$  szerint és Riemann-integrálható a  $[0, 2\pi]$ -n, akkor az

$$a_0 + \sum_{n=1}^{\infty} (a_n \cos nx + b_n \sin nx)$$

trigonometrikus sort az  $f$  függvény **Fourier-sorának** nevezzük, ahol

$$a_0 = \frac{1}{2\pi} \int_0^{2\pi} f(x) dx, \quad a_n = \frac{1}{\pi} \int_0^{2\pi} f(x) \cos nx dx, \quad b_n = \frac{1}{\pi} \int_0^{2\pi} f(x) \sin nx dx$$

az  $f$  függvény **Fourier-együtthatói**.

- **Cantor tétele.** Ha  $f(x) = a_0 + \sum_{n=1}^{\infty} (a_n \cos nx + b_n \sin nx)$   $[0, 2\pi]$ -n, akkor az  $a_0$ ,  $a_n$  és  $b_n$  együtthatók egyértelműen meghatározottak, azaz egy függvényt csak egyféleképpen lehet trigonometrikus sorral előállítani. Ha a konvergencia egyenletes, akkor  $f(x)$  folytonos, és ez a trigonometrikus sor az  $f$  Fourier-sora.
- **Pontenkénti konvergencia.** Ha az  $f(x)$  függvény  $2\pi$  szerint periodikus és szakaszonként folytonosan deriválható, akkor az  $f(x)$  függvény Fourier-sora mindenütt konvergens, az  $f(x)$  függvény folytonossági helyein a Fourier-sor előállítja a függvényt, a szakadási helyeken pedig a függvény bal-, és jobboldali határértékének a számtani közepe, azaz minden  $x \in \mathbb{R}$  esetén

$$a_0 + \sum_{n=1}^{\infty} (a_n \cos nx + b_n \sin nx) = \frac{f(x^+) + f(x^-)}{2}$$

## 7.1. Pontenkénti és egyenletes konvergencia

**Hol konvergensek és mi a pontenkénti határértékük az alábbi függvénytársorozatoknak? Milyen intervallumokban egyenletes a konvergencia?**

- |  |  |
|--|--|
| <b>7.1.</b> $f_n(x) = x^n$   | <b>7.2.</b> $f_n(x) = x^n - x^{n+1}$   |
| <b>7.3.</b> $f_n(x) = \frac{x}{n}$   | <b>7.4.</b> $f_n(x) = \frac{x^n}{n!}$  |
| <b>7.5.</b> $f_n(x) = \sqrt[n]{1 + x^{2n}}$  | <b>7.6.</b> $f_n(x) = \sqrt[n]{ x }$   |
| <b>7.7.</b> $f_n(x) = \sqrt{x + \frac{1}{n}}$  | <b>7.8.</b> $f_n(x) = \sqrt{x^2 + \frac{1}{n^2}}$  |
| <b>7.9.</b> $f_n(x) = \frac{\sin x}{n}$  | <b>7.10.</b> $f_n(x) = \sin \frac{x}{n}$   |
| <b>7.11.</b> $f_n(x) = \begin{cases} 1, & \text{ha } x = \frac{1}{n} \\ 0, & \text{egyébként} \end{cases}$ | <b>7.12.</b> $f_n(x) = \begin{cases} 1, & \text{ha } 0 < x < \frac{1}{n} \\ 0, & \text{egyébként} \end{cases}$ |

**Mi a következő állítaspárok logikai kapcsolata, azaz melyikből következik a másik?**

**7.13.** **P:**  $\forall x \in [a, b] \quad \lim_{n \rightarrow \infty} f_n(x) = 5$   
**Q:**  $\forall n \in \mathbb{N} \quad \lim_{x \rightarrow \infty} f_n(x) = 5$

**7.14.** **P:**  $\forall x \in [a, b] \quad \lim_{n \rightarrow \infty} f_n(x) = f(x)$   
**Q:**  $\forall x \in [a, b] \quad \lim_{n \rightarrow \infty} (f_n(x) - f(x)) = 0$

**7.15.** **P:**  $f_n$  pontonként konvergál  $I$ -n. **Q:**  $f_n$  egyenletesen konvergál  $I$ -n.

**7.16.** Bizonyítsuk be, hogy az  $f_n(x) = \cos nx$  függvénysorozat konvergens az  $x = 2k\pi$  ( $x \in \mathbb{Z}$ ) pontokban. Konvergens-e a függvénysorozat az  $x = k\pi$  ( $x \in \mathbb{Z}$ ) pontokban?

**7.17.** Adjunk meg 3 különböző függvénysorozatot úgy, hogy mindhárom függvénysorozat konvergáljon az azonosan 5 függvényhez  $[0, 1]$ -en!

**7.18.** Megadható-e olyan függvénysorozat, amelyik  $[0, 1]$ -en az azonosan 5 függvényhez konvergál, és a függvénysorozat egyetlen tagja sem folytonos  $[0, 1]$ -en?

**7.19.** Adjunk példát olyan függvénysorozatra, amelynek minden tagja minden pontban szakad a  $[0, 1]$  intervallumban, de a függvénysorozat egyenletesen tart egy  $[0, 1]$ -ben folytonos függvényhez!

**7.20.** Adjunk példát olyan függvénysorozatra, amelynek minden tagja minden pontban folytonos, és a függvénysorozat az

$$f(x) = \begin{cases} 1, & \text{ha } x = 5 \\ 0, & \text{egyébként} \end{cases}$$

függvényhez tart! Lehet-e a konvergencia egyenletes?

**7.21.** Adjunk meg 3 különböző függvénysorozatot úgy, hogy mindhárom függvénysorozat egyenletesen konvergáljon a

$$D(x) = \begin{cases} 1, & \text{ha } x \in \mathbb{Q} \\ 0, & \text{egyébként} \end{cases}$$



Dirichlet-függvényhez  $[0, 1]$ -en! Állhatnak-e az előbbi függvénysorozatok csak folytonos függvényekből?

**7.22.** Legyen  $f_n(x) = n^2(x^{n-1} - x^n)$ . Bizonyítsuk be, hogy

(a)  $\forall x \in [0, 1] \quad \lim_{n \rightarrow \infty} f_n(x) = 0$

(b)  $\lim_{n \rightarrow \infty} \int_0^1 f_n(x) dx \neq 0$

(c)  $[0, 1]$ -en az  $f_n$  függvénysorozat nem tart egyenletesen az azonosan 0 függvényhez.

**7.23.** Legyen  $f_n(x) = \sqrt{x^2 + \frac{1}{n}}$ . Bizonyítsuk be, hogy

(a)  $\forall n \quad f_n(x)$  differenciálható 0-ban.

(b)  $\lim_{n \rightarrow \infty} f_n(x) = |x|$

(c)  $f_n$  egyenletesen konvergál  $|x|$ -hez.

(d)  $|x|$  nem differenciálható 0-ban.

**7.24.** Melyik függvényhez konvergál az  $f_n(x) = x^n - x^{n+1}$  függvénysorozat a  $[0, 1]$  intervallumon? Egyenletes-e a konvergencia?

**Alkalmazzuk a Weierstrass-kritériumot, azaz keressünk olyan konvergens numerikus sorokat, amelyek tagonként nagyobbak a függvénysor tagjainak abszolút értékénél, és ezzel bizonyítsuk, hogy a függvénysorok egyenletesen konvergensek!**

**7.25.**  $\sum_{n=1}^{\infty} \frac{1}{n^2 + n^4 x^{2n}}$

**7.26.**  $\sum_{n=1}^{\infty} \frac{1}{n^2} \sin^n x$

**Konvergensek-e, illetve egyenletesen konvergensek-e  $\mathbb{R}$ -en a következő függvénysorok?**

**7.27.**  $\sum_{n=1}^{\infty} \frac{1}{x^2 + n^2}$

**7.28.**  $\sum_{n=1}^{\infty} (x^n - x^{n-1})$

$$\text{7.29.} \quad \sum_{n=1}^{\infty} \frac{(-1)^n}{x^4 + 2^n}$$

$$\text{7.30.} \quad \sum_{n=1}^{\infty} (\operatorname{arctg}(n+1)x - \operatorname{arctg}(nx))$$

$$\text{7.31.} \quad \sum_{n=1}^{\infty} \frac{\sin nx}{n!}$$

$$\text{7.32.} \quad \sum_{n=1}^{\infty} 2^n x^n$$

$$\text{7.33.} \quad \sum_{n=1}^{\infty} \frac{1}{n^2[1+(nx)^2]}$$

$$\text{7.34.} \quad \sum_{n=1}^{\infty} \frac{\sin nx}{n^2}$$

$$\text{7.35.} \quad \sum_{n=1}^{\infty} \frac{\cos nx}{n! + 2^n}$$

$$\text{7.36.} \quad \sum_{n=1}^{\infty} \frac{1}{x^n}$$

$$\text{7.37.} \quad \sum_{n=1}^{\infty} \frac{x^4}{x^4 + 2^n}$$

$$\text{7.38.} \quad \sum_{n=1}^{\infty} \frac{(-1)^n}{x^6 + 3^n}$$

**7.39.** Hol konvergens a  $\sum_{n=1}^{\infty} x^n$  függvénysor? Egyenletes-e a konvergencia a konvergenciatartományban?

**7.40.** Egyenletesen konvergens-e a  $\sum_{n=1}^{\infty} \frac{\sin(2n-1)x}{2n-1}$  függvénysor?

## 7.2. Hatványsorok, Taylor-sor

**7.41.** Konvergens-e  $\sum_{n=0}^{\infty} (2^n + 3^n)x^n$  hatványsor  $x = \frac{1}{6}$ ,  $x = 0,3$ ,  $x = \frac{1}{2}$ ,  $x = 1$  esetén?

**Milyen  $x$  esetén konvergens a következő hatványsorok?**

$$\text{7.42.} \quad \sum_{n=0}^{\infty} \frac{n!}{n^n} x^n$$

$$\text{7.43.} \quad \sum_{n=1}^{\infty} (-1)^{n+1} \frac{x^n}{n^2}$$

$$\text{7.44.} \quad \sum_{n=1}^{\infty} \left(1 + \frac{1}{n}\right)^{n^2} x^n$$

$$\text{7.45.} \quad \sum_{n=1}^{\infty} nx^n$$

$$7.46. \quad \sum_{n=1}^{\infty} \frac{x^n}{n}$$

$$7.47. \quad \sum_{n=1}^{\infty} \frac{x^n}{n^7}$$

Határozzuk meg a következő hatványsorok konvergenciasugarát!

$$7.48. \quad \sum_{n=0}^{\infty} n^2 x^n$$

$$7.49. \quad \sum_{n=1}^{\infty} \frac{x^n}{n^2}$$

$$7.50. \quad \sum_{n=1}^{\infty} \frac{1000^n}{n!} (x-2)^n$$

$$7.51. \quad \sum_{n=1}^{\infty} \frac{(n-1)!}{n^n} (x-3)^n$$

$$7.52. \quad \sum_{n=1}^{\infty} \frac{n}{2^n} x^n$$

$$7.53. \quad \sum_{n=1}^{\infty} (x+4)^n$$

$$7.54. \quad \sum_{n=1}^{\infty} \frac{(x+5)^n}{n \cdot 2^n}$$

$$7.55. \quad \sum_{n=1}^{\infty} \frac{(x-6)^n}{n!}$$

$$7.56. \quad \sum_{n=1}^{\infty} n! (x+7)^n$$

$$7.57. \quad \sum_{n=1}^{\infty} \frac{(x+1)^n}{\sqrt{n}}$$

$$7.58. \quad \sum_{n=1}^{\infty} \frac{1000^n}{n^2+1} x^n$$

$$7.59. \quad \sum_{n=1}^{\infty} \frac{2^n + 3^n}{n^n} x^n$$

$$7.60. \quad \sum_{n=1}^{\infty} \frac{x^n}{n \cdot 3^n}$$

$$7.61. \quad \sum_{n=1}^{\infty} \frac{x^n}{n^n}$$

$$7.62. \quad \sum_{n=1}^{\infty} 2^n x^n$$

$$7.63. \quad \sum_{n=1}^{\infty} (-1)^{n+1} \frac{x^n}{\sqrt{n}}$$

$$7.64. \quad \sum_{n=0}^{\infty} \frac{(n!)^2}{(2n)!} x^n$$

$$7.65. \quad \sum_{n=0}^{\infty} n! x^n$$

Igazak-e a következő állítások?

$$7.66. \quad \int_{-0,2}^{0,3} \left( \sum_{n=0}^{\infty} x^n \right) dx = \sum_{n=1}^{\infty} \left( \int_{-0,2}^{0,3} x^n dx \right)$$

$$\text{7.67.} \quad \int_{-2}^3 \left( \sum_{n=0}^{\infty} x^n \right) dx = \sum_{n=1}^{\infty} \left( \int_{-2}^3 x^n dx \right)$$

$$\text{7.68.} \quad \forall x \in \mathbb{R} - \text{re} \quad \left( \sum_{n=0}^{\infty} \frac{1}{n+1} x^{n+1} \right)' = \frac{1}{1-x}$$

$$\text{7.69.} \quad \forall |x| < 1 - \text{re} \quad \left( \sum_{n=0}^{\infty} \frac{1}{n+1} x^{n+1} \right)' = \frac{1}{1-x}$$

**Határozzuk meg a következő hatványsorok konvergenciasugarát! A konvergenciatartomány belsejében adjuk meg az összegfüggvényeket!**

$$\text{7.70.} \quad 1 + x + x^2 + x^3 + \dots$$

$$\text{7.71.} \quad 1 - x + x^2 - x^3 + \dots$$

$$\text{7.72.} \quad x + \frac{x^2}{2} + \frac{x^3}{3} + \dots$$

$$\text{7.73.} \quad 1 - x^2 + x^4 - x^6 + x^8 - \dots$$

$$\text{7.74.} \quad x + \frac{x^3}{3} + \frac{x^5}{5} + \dots$$

$$\text{7.75.} \quad x + 2x^2 + 3x^3 + \dots$$

**Hol konvergensek a következő függvénysorok? Adjuk meg az összegfüggvényeket!**

$$\text{7.76.} \quad \sum_{n=0}^{\infty} (\sin x)^n$$

$$\text{7.77.} \quad \sum_{n=1}^{\infty} (1+x^2)^n$$

$$\text{7.78.} \quad \sum_{n=1}^{\infty} \left( \frac{1}{0, 1 + 0, 2 \cos^2 x} \right)^n$$

$$\text{7.79.} \quad \sum_{n=1}^{\infty} \frac{1}{2^n x^n}$$

**Számítsuk ki a következő hatványsorok konvergenciasugarát és összegét:**

$$\text{7.80.} \quad f(x) = \sum_{n=1}^{\infty} \frac{x^n}{n(n+1)}$$

$$\text{7.81.} \quad \sum_{n=0}^{\infty} \frac{x^n}{n+1}$$

$$\text{7.82. } f(x) = \sum_{n=1}^{\infty} nx^n$$

$$\text{7.83. } \sum_{n=1}^{\infty} n^2 x^n$$

$$\text{7.84. } f(x) = \sum_{n=1}^{\infty} n(n+1)x^n$$

$$\text{7.85. } \sum_{n=0}^{\infty} \frac{x^{2n+1}}{2n+1}$$

**Adjuk meg a következő függvények  $a = 0$  körüli Taylor-sorát! Határozzuk meg a konvergenciatartományokat! Előállítja-e sor a függvényt a konvergenciatartományban?**

$$\text{7.86. } e^x$$

$$\text{7.87. } e^{2x}$$

$$\text{7.88. } e^{-x}$$

$$\text{7.89. } e^{-x^2}$$

$$\text{7.90. } \operatorname{sh} x$$

$$\text{7.91. } \operatorname{ch} x$$

$$\text{7.92. } \frac{1}{1-x}$$

$$\text{7.93. } \frac{1}{1+x}$$

$$\text{7.94. } \frac{1}{1+x^2}$$

$$\text{7.95. } \frac{x^3}{1-x^2}$$

$$\text{7.96. } \ln(1+x)$$

$$\text{7.97. } \operatorname{arctg} x$$

$$\text{7.98. } \frac{1}{2+x}$$

$$\text{7.99. } f(x) = \frac{1}{1+x+x^2}$$

$$\text{7.100. } \sin x$$

$$\text{7.101. } \cos x$$

$$\text{7.102. } \sin(2x)$$

$$\text{7.103. } \cos x^2$$

$$\text{7.104. } \sin^2 x$$

$$\text{7.105. } \cos^2 x$$

**Legyen  $f : \mathbb{R} \rightarrow \mathbb{R}$ ,  $0$ -ban akárhányszor differenciálható függvény. Igazak-e a következő állítások? A választ minden esetben indokoljuk meg!**

- 7.106.**  $f$  Taylor-sora mindig felírható.
- 7.107.**  $f$  Taylor-sora minden valós  $x$  helyen konvergens.
- 7.108.** Ha  $f$  Taylor-sora konvergens egy  $x_0$  pontban, akkor abban a pontban a Taylor-sor összege  $f(x_0)$ .
- 7.109.** Ha egy  $\sum_{n=0}^{\infty} a_n x^n$  sor előállítja az  $f$  függvényt, akkor ez a hatványsor megegyezik  $f$  Taylor-sorával.
- 7.110.** Ha  $f(x)$  Taylor-sora  $\sum_{n=0}^{\infty} a_n x^n$ , akkor minden valós  $x$  esetén  $\sum_{n=0}^{\infty} a_n x^n = f(x)$ .

- 7.111.** Számítsuk ki  $10^{-2}$  pontossággal  $\sin 1$  illetve  $e$  értékét!
- 7.112.** Számítsuk ki az  $1 - \frac{\pi^2}{2} + \frac{\pi^4}{4!} - \frac{\pi^6}{6!} + \dots + (-1)^n \frac{\pi^{2n}}{(2n)!} + \dots$  összeget!
- 7.113.** Bizonyítsuk be, hogy az  $f(x) = \sum_{k=0}^{\infty} \frac{x^{3k}}{(3k)!}$  függvény kielégíti az  $f'''(x) = f(x)$  egyenletet!
- 7.114.** Írjuk fel az  $f(x) = \int_0^x e^{-t^2} dt$  Taylor-sorát! Számítsuk ki  $\int_0^1 e^{-x^2} dx$  értékét két tizedesjegy pontossággal!
- 7.115.** Bizonyítsuk be, hogy az  $e$  szám irracionális!

**Számítsuk ki a keresett deriváltakat az  $x = 0$  helyen!**

- 7.116.**  $\left(\frac{1}{1-x}\right)^{(135)}$       **7.117.**  $(e^{x^2})^{(136)}$
- 7.118.**  $(\arctg x)^{(356)}$       **7.119.**  $(\arctg x)^{(357)}$

- 7.120.** Írjuk fel az  $f(x) = \operatorname{tg} x$  függvény harmadik Taylor-polinomját a 0-ban.
- 7.121.** A fonálinga mozgását leíró törvényben a  $\sin x$  függvényt az  $x$  függvénnyel közelítik. Mekkora lesz legfeljebb az elkövetett hiba, ha a kitérés szöge legfeljebb  $5^\circ < 0,1$  radián?
- 7.122.** Hány tagot vegyünk figyelembe  $\sin x$  Taylor-sorából, ha azt akarjuk, hogy  $|x| < 0,1$  esetén a hiba legfeljebb  $10^{-6}$  legyen?
- 7.123.** Hány tagot vegyünk figyelembe  $\sin x$  Taylor-sorából, ha azt akarjuk, hogy  $|x| < 1 < \frac{\pi}{3}$  ( $= 60^\circ$ ) esetén a hiba legfeljebb  $10^{-3}$  legyen?
- 7.124.** Fejtsük hatványsorba az  $f(x) = x^2 + x + 1$  függvényt
- (a) 0-körül; (b) 1-körül.
- 7.125.** Fejtsük hatványsorba az  $f(x) = \frac{1}{2+x}$  függvényt
- (a) 0-körül; (b) 1-körül.

### 7.3. Trigonometrikus sorok, Fourier-sor

---

**Állítsuk elő az alábbi függvények Fourier-sorát!**

**7.126.**  $\sin^2 x$

**7.127.**  $\cos^2 x$

---

**Fejtsük Fourier-sorba a  $(-\pi, \pi)$  intervallumon az alábbi függvényeket:**

**7.128.**  $f(x) = \operatorname{sgn} x \quad -\pi < x < \pi$

**7.129.**  $f(x) = \begin{cases} 1 & \text{ha } 0 < x < \pi \\ 0 & \text{ha } -\pi < x < 0 \end{cases}$

$$\mathbf{7.130.} \quad f(x) = |\operatorname{sgn} x| \quad -\pi < x < \pi$$

A fenti három függvény megegyezik a  $(0, \pi)$  intervallumon!

$$\mathbf{7.131.} \quad f(x) = x \quad -\pi < x < \pi$$

$$\mathbf{7.132.} \quad f(x) = |x| \quad -\pi < x < \pi$$

Az előző két függvény megegyezik a  $(0, \pi)$  intervallumon!

$$\mathbf{7.133.} \quad f(x) = \begin{cases} x^2 & \text{ha } 0 < x < \pi \\ -x^2 & \text{ha } -\pi < x < 0 \end{cases}$$

**7.134.** Legyen most  $f(x)$  az a  $2\pi$  szerint periodikus függvény, amelyikre  $f(x) = \frac{\pi - x}{2}$ , ha  $x \in (0, 2\pi)$  és  $f(0) = 0$ . Ezt a függvényt *fűrészfog-függvénynek* is nevezik.

(a) Fejtsük Fourier-sorba az  $f(x)$  függvényt a  $(0, 2\pi)$  nyílt intervallumon.

(b) Számoljuk ki a  $\sum_{n=0}^{\infty} (-1)^n \frac{1}{2n+1}$  numerikus sor összegét.

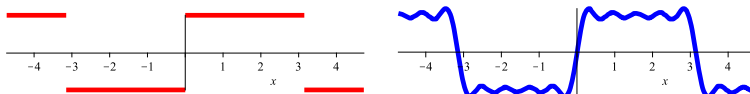
**7.135.** Legyen  $f$  az a periodikus függvény, amelyre  $f(x) = x^2$ , ha  $x \in [-\pi, \pi]$ .

(a) Fejtsük Fourier-sorba az  $f(x)$  függvényt a  $[-\pi, \pi]$  intervallumon.

(b) Számoljuk ki a  $\sum_{n=1}^{\infty} \frac{1}{n^2}$  numerikus sor összegét.

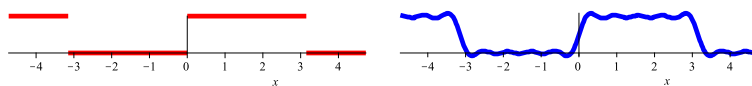
**Kirajzoltuk néhány előző feladat függvényeit és a 10-edik ( egynél az 5-ödik ) Fourier közelítéseit. Melyek ezek a függvények?**

**7.136.**

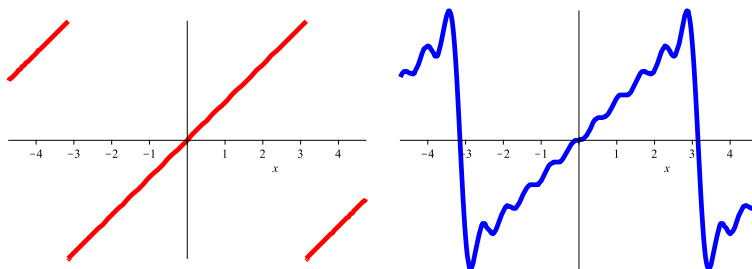




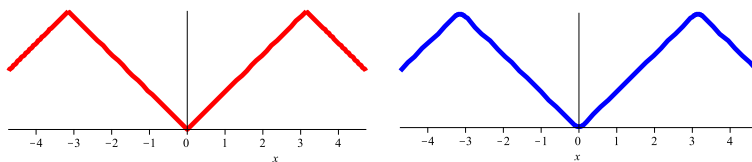
7.137.



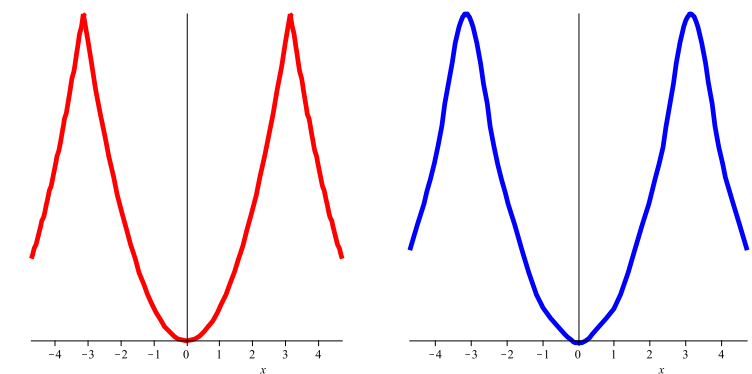
7.138.



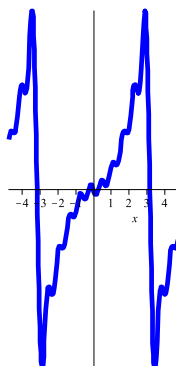
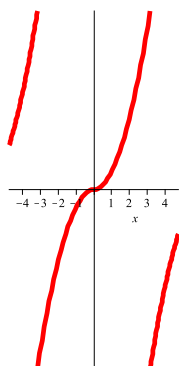
7.139.



7.140.



7.141.



Fejtsük Fourier-sorba a következő függvényeket a  $(-\pi, \pi)$  intervallumban!

7.142.  $e^x$ 7.143.  $e^{2x}$ 7.144.  $\operatorname{sh} x$ 7.145.  $\operatorname{sh} 3x$ 7.146.  $\operatorname{ch} x$ 7.147.  $\operatorname{ch} 4x$

## 8. fejezet

# Többváltozós függvények differenciálása

### 8.1. Euklideszi terek topológiája.

- A  $G \subset \mathbb{R}^n$  halmaz **nyílt** akkor és csak akkor, ha egyetlen határpontját sem tartalmazza.
- Az  $F \subset \mathbb{R}^n$  halmazra a következő állítások ekvivalensek:
  - Az  $F$  halmaz **zárt**.
  - Az  $F$  halmaz tartalmazza minden határpontját.
  - Nem lehet  $F$ -ből kikonvergálni, azaz ha

$$\{p_n : n \in \mathbb{N}\} \subset F, \text{ és } p_n \rightarrow p, \text{ akkor } p \in F.$$

- A  $K \subset \mathbb{R}^n$  halmazra a következő állítások ekvivalensek:
  - A  $K$  halmaz **kompakt**.
  - A  $K$  halmaz korlátos és zárt.
  - Minden  $K$ -beli sorozatnak van  $K$ -beli ponthoz konvergáló részsorozata.

**8.2. Többváltozós Bolzano-Weierstrass-tétel.** Korlátos pontsorozatnak van konvergens részsorozata.

**8.3. Többváltozós Weierstrass-tétel.** Kompakt halmaz folytonos képe kompakt. Speciálisan kompakt halmazon folytonos függvénynek van maximuma (és minimuma).

**8.4. Többváltozós Bolzano-tétel.** Összefüggő halmaz folytonos képe összefüggő.

**8.5. Többváltozós derivált.**

- Ha az  $f$  függvény (totálisan) deriválható a  $\mathbf{p}$  pontban, akkor itt folytonos, minden parciális deriváltja létezik, és a derivált koordinátái a megfelelő parciális deriváltak.
- Ha az  $f$  függvény parciális deriváltjai léteznek a  $\mathbf{p}$  pont egy környezetében, és ezek  $\mathbf{p}$ -ben folytonosak (**folytonosan deriválható  $\mathbf{p}$ -ben**), akkor  $f$  deriválható  $\mathbf{p}$ -ben.
- Ha az  $f$  függvény (totálisan) deriválható a  $\mathbf{p}$  pontban, akkor itt minden  $\mathbf{v} \neq \mathbf{0}$  irány mentén deriválható, és

$$\frac{\partial}{\partial \mathbf{v}} f(\mathbf{p}) = \frac{1}{|\mathbf{v}|} \mathbf{v} \cdot \text{grad } f(\mathbf{p})$$

Ennek következményeként

$$\max \left\{ \left| \frac{\partial}{\partial \mathbf{v}} f(\mathbf{p}) \right| : |\mathbf{v}| = 1 \right\} = |\text{grad } f(\mathbf{p})|^2$$

- Ha az  $f : \mathbb{R}^n \rightarrow \mathbb{R}$  függvény deriválható a  $\mathbf{p}$  pontban, akkor grafikonjának van **érintő hipersíkja** a  $\mathbf{p}$  pont felett, és ennek egyenlete

$$y = f(\mathbf{p}) + \text{grad } f \cdot (\mathbf{x} - \mathbf{p}).$$

**8.6. Young-tétel.** Ha az  $n$ -változós  $f$  függvény kétszer folytonosan deriválható a  $\mathbf{p}$  pont egy környezetében, akkor minden  $1 \leq i, j \leq n$  esetén

$$f''_{x_i x_j}(\mathbf{p}) = f''_{x_j x_i}(\mathbf{p}).$$

**8.7. Többváltozós szélsőérték.**

- Ha az  $f : \mathbb{R}^n \rightarrow \mathbb{R}$   $n$ -változós függvénynek lokális szélsőértéke van az értelmezési tartomány  $\mathbf{p}$  belső pontjában, és  $\mathbf{p}$ -ben (parciálisan) deriválható, akkor  $\text{grad } f(\mathbf{p}) = \mathbf{0}$ .
- Tegyük fel, hogy az  $f : \mathbb{R}^n \rightarrow \mathbb{R}$  függvény kétszer folytonosan deriválható a  $\mathbf{p}$  pontban és  $\text{grad } f(\mathbf{p}) = \mathbf{0}$ . Jelölje  $H$  az  $f$  másodrendű parciális deriváltjaiból álló szimmetrikus Hesse-mátrixot a  $\mathbf{p}$  pontban, valamint  $Q(\mathbf{x}) = \mathbf{x} \cdot H \mathbf{x}$  a  $H$ -hoz tartozó kvadratikus leképezést. Ekkor
  - ha  $Q$  pozitív definit, akkor  $\mathbf{p}$ -ben lokális minimum van;

- ha  $Q$  negatív definit, akkor  $\mathbf{p}$ -ben lokális maximum van;
- ha  $Q$  indefinit, akkor  $\mathbf{p}$ -ben nincs szélsőérték (nyeregpont);
- ha  $Q$  szemidefinit, akkor  $\mathbf{p}$ -ben ez a próba nem dönti el, hogy van-e szélsőérték.

Speciálisan kétváltozós függvény esetén ha

$$D = \det H = \begin{vmatrix} f''_{xx} & f''_{xy} \\ f''_{yx} & f''_{yy} \end{vmatrix}$$

a Hesse-mátrix determinánása a  $\mathbf{p}$  pontban, akkor

- minimum van, ha  $D > 0$  és  $f''_{xx} > 0$ ;
- maximum van, ha  $D > 0$  és  $f''_{xx} < 0$ ;
- nincs szélsőérték, ha  $D < 0$ ;
- ez a próba nem dönti el, hogy van-e szélsőérték, ha  $D = 0$ .

**8.8. Feltételes szélsőérték, Lagrange-féle multiplikátor módszer.** Ha az  $f : \mathbb{R}^n \rightarrow \mathbb{R}$  függvénynek lokális szélsőértéke van a  $\mathbf{a}$  pontban a  $g_k(\mathbf{x}) = 0$ ,  $k = 1, 2, \dots, p$  feltételek mellett, akkor megadhatók olyan  $\lambda_1, \lambda_2, \dots, \lambda_p$  valós számok, hogy

$$\frac{\partial}{\partial x_i} f(\mathbf{a}) + \sum_{k=1}^p \lambda_k \frac{\partial}{\partial x_i} g_k(\mathbf{a}) = 0, \quad i = 1, 2, \dots, n$$

## 8.1. Topológiai alapfogalmak

**Írjuk fel a megadott pontok távolságát!**

**8.1.**  $\mathbf{p}, \mathbf{q} \in \mathbb{R}^2$   $\mathbf{p} = (-1, 3)$   $\mathbf{q} = (5, -4)$

**8.2.**  $\mathbf{p}, \mathbf{q} \in \mathbb{R}^3$   $\mathbf{p} = (-1, 3, 5)$   $\mathbf{q} = (5, -4, 0)$

**8.3.**  $\mathbf{p}, \mathbf{q} \in \mathbb{R}^n$   $\mathbf{p} = (p_1, p_2, \dots, p_n)$   $\mathbf{q} = (q_1, q_2, \dots, q_n)$

**8.4.** Írjuk fel az origó középpontú, 1 sugarú (nyílt) gömböt meghatározó egyenlőtlenséget  $\mathbb{R}^k$ -ban, ahol  $k = 1, 2, 3, n$ .

**8.5.** Írjuk fel a  $\mathbf{c}$  középpontú,  $r$  sugarú (nyílt) gömböt meghatározó egyenlőtlenséget  $\mathbb{R}^k$ -ban, ahol  $k = 1, 2, 3, n$ .

**Rajzoljuk le az alábbi halmazokat, határozzuk meg a belső-, külső- és határpontjaikat, és döntsük el mindegyik halmazról, hogy nyílt-e, zárt-e, és hogy korlátos-e!**

**8.6.**  $\{h \in \mathbb{R} : -3 < h \leq 5\}$

**8.7.**  $\{(x, y) \in \mathbb{R}^2 : x^2 + y^2 = 1\}$

**8.8.**  $\{(x, y) \in \mathbb{R}^2 : 1 < x^2 + y^2 < 4\}$

**8.9.**  $\{(x, y) \in \mathbb{R}^2 : -3 < x < 5\}$

**8.10.**  $\{(x, y) \in \mathbb{R}^2 : x^2 + y^2 \geq 4\}$

**8.11.**  $\{(x, y) \in \mathbb{R}^2 : -1 \leq x, y \leq 1\}$

**8.12.**  $\{(x, y) \in \mathbb{R}^2 : x^2 + y^2 \geq 0\}$

**8.13.**  $\{(x, y) \in \mathbb{R}^2 : x^2 + y^2 \leq -4\}$

**Melyik halmaz nyílt, melyik zárt, melyik nyílt is, zárt is, és melyik se nem nyílt, se nem zárt? Indokoljuk a válaszokat! A feladatokban  $x$  és  $y$  valós számokat jelölnek.**

**8.14.**  $H = \{x : 0 < x < 1\}$

**8.15.**  $H = \{(x, 0) : 0 < x < 1\}$

**8.16.**  $H = \{x : 0 \leq x \leq 1\}$

**8.17.**  $H = \{(x, 0) : 0 \leq x \leq 1\}$

**8.18.**  $H = \{x : 0 \leq x < 1\}$

**8.19.**  $H = \{(x, 0) : 0 \leq x < 1\}$

**8.20.**  $H = \{(x, y) : x^2 + y^2 < 1\}$

**8.21.**  $H = \{(x, y, 0) : x^2 + y^2 < 1\}$

**8.22.**  $H = \{(x, y) : x \in \mathbb{Q}, y \in \mathbb{Q}\}$

**8.23.**  $H = \{(x, y) : 0 < x < 1, 0 < y < 1\}$

**Adjuk meg a következő síkbeli halmazok belső pontjait, külső pontjait és határpontjait!**

**8.24.**  $H = \{(x, y) : 0 \leq x \leq 1, 0 \leq y \leq 1\}$

**8.25.**  $H = \{(x, y) : 0 \leq x < 1, 0 < y \leq 1\}$

**8.26.**  $H = \{(x, y) : x \in \mathbb{Q}, y \in \mathbb{Q}, 0 \leq x \leq 1, 0 \leq y \leq 1\}$

**8.27.**  $H = \{(x, y) : 0 < x < 1, y = 0\}$

**Adjuk meg a következő térbeli halmazok belső pontjait, külső pontjait és határpontjait!**

**8.28.**  $H = \{(x, y, z) : x^2 + y^2 + z^2 < 1\}$

**8.29.**  $H = \{(x, y, z) : x^2 + y^2 + z^2 \leq 1\}$

**8.30.**  $H = \{(x, y, z) : x \in \mathbb{Q}, y \in \mathbb{Q}, z \in \mathbb{Q}, 0 \leq x \leq 1, 0 \leq y \leq 1, 0 \leq z \leq 1\}$

**8.31.**  $H = \{(x, y, z) : x \in \mathbb{Q}, 0 < x < 1, y = z = 0\}$

**8.32.** Legyen  $H \subset \mathbb{R}^n$ . Igazak-e a következő állítások?

- (a) Ha  $x \in H$ , akkor  $x$  belső pontja  $H$ -nak.
- (b) Ha  $x \notin H$ , akkor  $x$  nem lehet belső pontja  $H$ -nak.
- (c) Ha  $x \in H$ , akkor  $x$  nem lehet határpontja  $H$ -nak.
- (d) Ha  $x \notin H$ , akkor  $x$  nem lehet határpontja  $H$ -nak.
- (e) Van olyan halmaz, amelynek minden pontja határpont.
- (f) Van olyan halmaz, amelynek minden pontja belső pont.
- (g) Van olyan halmaz, amelynek nincs belső pontja.

## 8.2. Többváltozós függvények grafikonja

**Számítsuk ki a következő függvények helyettesítési értékét a megadott  $\mathbf{p}$  pontokban!**

**8.33.**  $f(x, y) = x + y^2$   $\mathbf{p} = (2, 3)$

**8.34.**  $f(x, y) = \arctg x + \arcsin xy$   $\mathbf{p} = (\pi/4, 0)$

**8.35.**  $f(x, y, z) = x^{(y^z)}$   $\mathbf{p} = (4, 3, 2)$

**8.36.**  $f(x, y, z) = x^{y^z}$   $\mathbf{p} = (4, 3, 2)$

**Adjuk meg a következő függvények helyettesítési értékét a megadott görbék pontjaiban!**

**8.37.**  $f(x, y) = x^2 + y^2$ ,  $y = x$ , illetve  $x^2 + y^2 = 1$

**8.38.**  $f(x, y) = x - y$ ,  $y = x$ , illetve  $y = x^2$

**8.39.**  $f(x, y) = \sin x$ ,  $x = \pi/4$ , illetve  $y = \pi/4$

**8.40.**  $f(x, y) = \sin xy$ ,  $x = \pi/4$ , illetve  $y = \pi/4$

**8.41.** Keressük meg a következő kétváltozós függvények grafikonjait az ábrák között!

(a)  $x^2 + y^2$

(b)  $(x + y)^2$

(c)  $x^2 - y^2$

(d)  $xy$

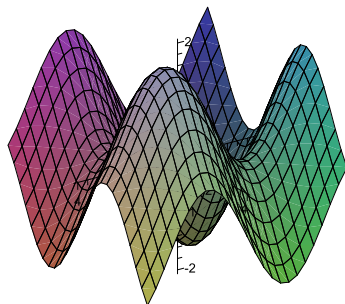
(e)  $\sin x + \sin y$

(f)  $\sin x \sin y$

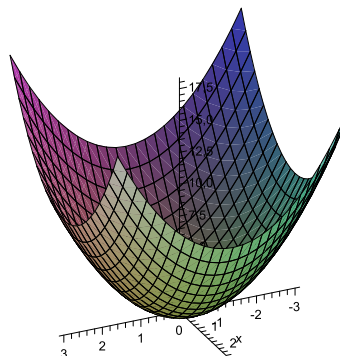




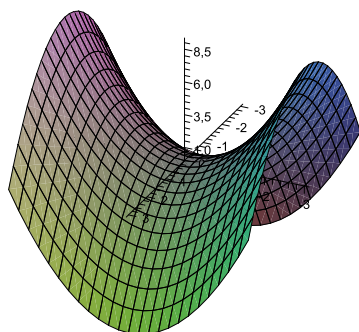
(A)



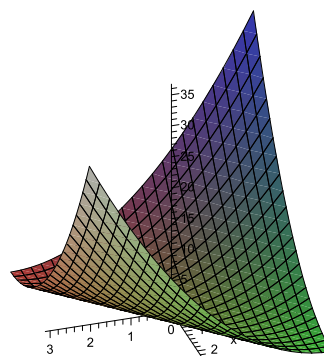
(B)




(C)



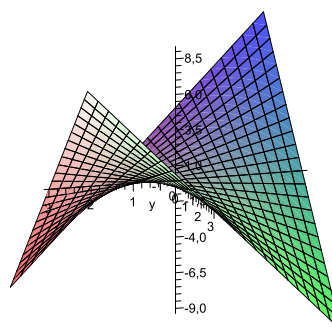
(D)



(E)

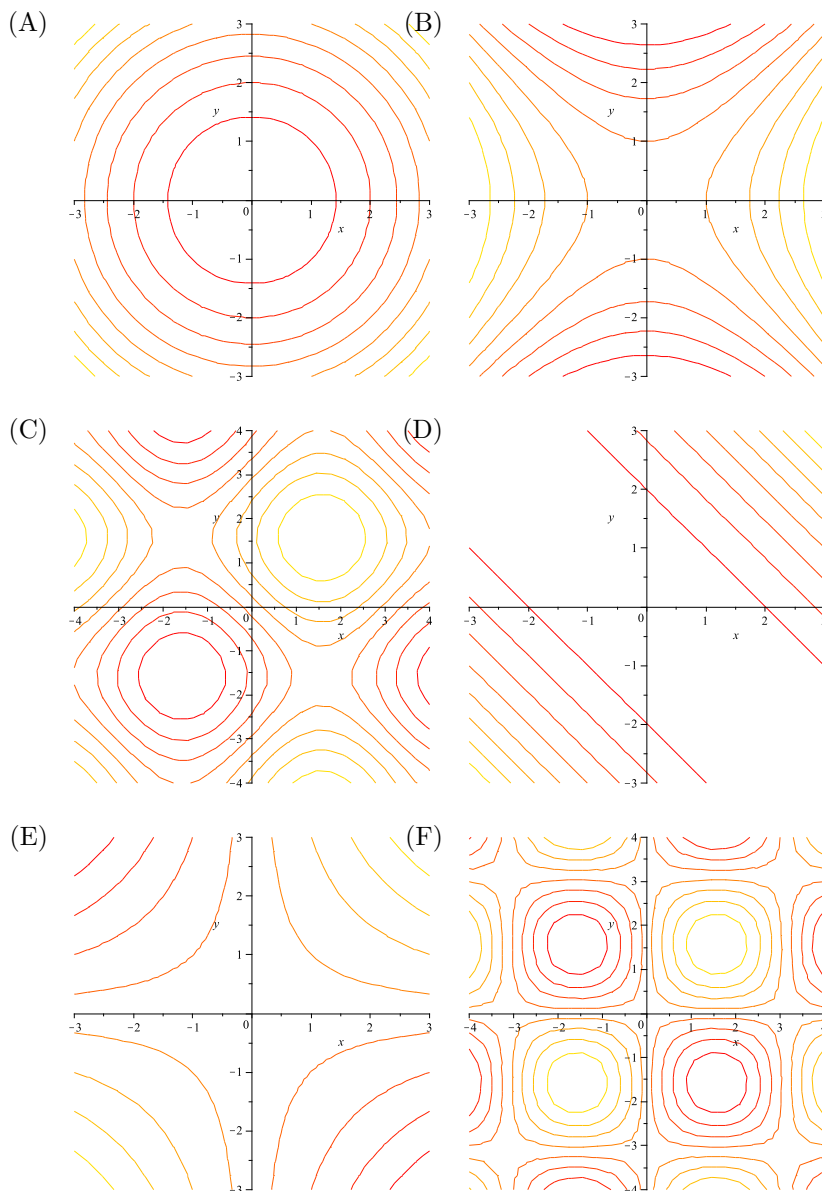


(F)





**8.42.** Az előző függvényeknek kirajzoltuk a szintvonalait is. Keresük meg a rajzokhoz tartozó képleteket!



Ábrázoljuk a következő függvények szintvonalait! Készítsünk a függvények grafikonjáról térbeli rajzot!

8.43.  $(x + y)^2$

8.44.  $\sqrt{x^2 + y^2}$

8.45.  $xy$

8.46.  $(x - y)^2$

8.47.  $x^2 + y^2,$

8.48.  $|x|$

8.49.  $x^2 - y^2$

8.50.  $|x + y|$

Határozzuk meg a következő függvények szintfelületeit!

8.51.  $f(x, y, z) = x + y + z$

8.52.  $f(x, y, z) = x^2 + y^2 + z^2$

8.53.  $f(x, y, z) = x + y$

8.54.  $f(x, y, z) = y^2$

Döntsük el az alábbi térbeli halmazokról, hogy lehetnek-e grafikonjai-e valamilyen kétváltozós függvénynek! Ha igen, akkor adjunk meg ilyen függvényt!

8.55. sík

8.56. gömbfelület

8.57. kúppalást

8.58. hengerpalást

8.59. félhenger palástja

8.60. félgömb felülete

Határozzuk meg a következő függvények lehetséges legbővebb értelmezési tartományát!

8.61.  $f(x, y) = \frac{x + y}{x - y}$

8.62.  $f(x, y) = \sqrt{1 - x^2} + \sqrt{y^2 + 1}$

8.63.  $f(x, y) = \frac{1}{x^2 + y^2}$

8.64.  $f(x, y) = \sqrt{1 - x^2 - y^2}$

8.65.  $f(x, y, z) = \frac{z}{\sin x} \cos y$

$$8.66. \quad f(x, y, z) = \frac{x}{y-z} + \frac{y}{x+z} - \frac{z}{x^2-y^2}$$

### 8.3. Többváltozós határérték, folytonosság

Van-e a következő többváltozós függvényeknek határértéke az adott pontokban? Ha igen, mennyi? Hol folytonosak ezek a függvények?

$$8.67. \quad f(x, y) = 7 \quad \mathbf{p} = (0, 0)$$

$$8.68. \quad f(x, y) = x + y \quad \mathbf{p} = (3, 5)$$

$$8.69. \quad f(x, y) = \frac{x}{y} \quad \mathbf{p} = (3, 0)$$

$$8.70. \quad f(x, y) = \frac{\sin xy}{x} \quad \mathbf{p} = (0, 2)$$

$$8.71. \quad f(x, y) = \frac{\sin xy}{\operatorname{tg} 2xy} \quad \mathbf{p} = (0, 3)$$

$$8.72. \quad f(x, y) = \frac{\sin x - \sin y}{x - y} \quad \mathbf{p} = (0, 0)$$

$$8.73. \quad f(x, y) = \frac{\sin x - \sin y}{e^x - e^y} \quad \mathbf{p} = (0, 0)$$

$$8.74. \quad \sqrt{x+y-1} \quad \mathbf{p} = (0, 0)$$

$$8.75. \quad xy \ln(x^2 + y^2) \quad \mathbf{p} = (0, 0)$$

$$8.76. \quad f(x, y) = \begin{cases} 1, & \text{ha } x \neq 0 \text{ és } y \neq 0 \\ 0, & \text{ha } x = 0 \text{ vagy } y = 0 \end{cases} \quad \mathbf{p} = (0, 0), \quad \mathbf{q} = (0, 1)$$

$$8.77. \quad f(x, y) = \begin{cases} 1, & \text{ha } x \neq 0 \\ 0, & \text{ha } x = 0 \end{cases} \quad \mathbf{p} = (0, 0), \quad \mathbf{q} = (0, 1), \quad \mathbf{r} = (1, 0)$$

$$8.78. \quad f(x, y) = \begin{cases} 1, & \text{ha } x^2 + y^2 \neq 0 \\ 0, & \text{egyébként} \end{cases} \quad \mathbf{p} = (0, 0), \quad \mathbf{q} = (0, 1)$$

**8.79.**  $f(x, y) = \begin{cases} x, & \text{ha } x = y \\ 0, & \text{egyébként} \end{cases} \quad \mathbf{p} = (0, 0), \quad \mathbf{q} = (0, 1)$

**8.80.**  $f(x, y) = \begin{cases} 1, & \text{ha } x = y \\ 0, & \text{egyébként} \end{cases} \quad \mathbf{p} = (0, 0), \quad \mathbf{q} = (0, 1)$

**8.81.** Legyen  $f(x, y) = \frac{x-y}{x+y}$ . Léteznek-e a következő határértékek?

(a)  $\lim_{(x,y) \rightarrow (0,0)} f(x, y)$                       (b)  $\lim_{x \rightarrow 0} \left( \lim_{y \rightarrow 0} f(x, y) \right)$

(c)  $\lim_{y \rightarrow 0} \left( \lim_{x \rightarrow 0} f(x, y) \right)$                       (d)  $\lim_{x \rightarrow 0} f(x, x)$

**8.82.** Legyen  $f(x, y) = (x+y) \sin \frac{1}{x} \sin \frac{1}{y}$ . Léteznek-e a következő határértékek?

(a)  $\lim_{(x,y) \rightarrow (0,0)} f(x, y)$                       (b)  $\lim_{x \rightarrow 0} \left( \lim_{y \rightarrow 0} f(x, y) \right)$

(c)  $\lim_{y \rightarrow 0} \left( \lim_{x \rightarrow 0} f(x, y) \right)$                       (d)  $\lim_{x \rightarrow 0} f(x, x)$

**8.83.** Legyen

$$f(x, y) = \begin{cases} \frac{2xy}{x^2 + y^2}, & \text{ha } x^2 + y^2 \neq 0 \\ 0, & \text{egyébként} \end{cases}.$$

Bizonyítsuk be, hogy a  $g(x) = f(x, 0)$  és a  $h(y) = f(0, y)$  függvények folytonosak  $x = 0$ -ban, illetve  $y = 0$ -ban! Bizonyítsuk be, hogy az  $f(x, y)$  függvény nem folytonos  $(x, y) = (0, 0)$ -ban!

**8.84.** Bizonyítsuk be, hogy ha  $f(x, y)$  folytonos a síkon, akkor

(a) a  $G = \{(x, y) : f(x, y) > 0\}$  halmaz nyílt;

(b) az  $F = \{(x, y) : f(x, y) \geq 0\}$  halmaz zárt!

## 8.4. Parciális és totális derivált

**8.85.** Mutassunk példát olyan kétváltozós függvényre, amelynek mindkét parciális deriváltja létezik az origóban, de a függvény nem folytonos az origóban!

**Határozzuk meg a következő függvények parciális deriváltjait!**

**8.86.**  $f(x, y) = x \sin y$

**8.87.**  $f(x, y) = \sin(xy)$

**8.88.**  $f(x, y) = (x + 2y) \sin(x + 2y)$

**8.89.**  $f(x, y) = 3x^2y^4 - 4$

**8.90.**  $f(x, y) = \frac{x + y}{x - y^2}$

**8.91.**  $f(x, y) = (5x + y^2)e^{x^2 + 3y}$

**8.92.**  $g(x, y, z) = \sin z \cdot (\cos x)^{\ln y}$

**8.93.**  $g(x, y, z) = \left(\frac{x}{y}\right)^z$

**8.94.**  $f(x, y) = x^2 + xy + y^2$

**8.95.**  $f(x, y) = e^{x-y}$

**8.96.**  $g(x, y, z) = x^{y^z}$

**8.97.**  $g(x, y, z) = \frac{z \operatorname{arctg} x^2 y}{1 + \ln(xy^3 + 2x\sqrt{z})}$

**8.98.**  $f(x, y, z) = \sin(x^2 + y^3 + z^4)$

**8.99.**  $f(x, y) = \operatorname{arctg} \frac{1-x}{1-y}$

**8.100.**  $f(x, y) = x^y + y^x$

**8.101.**  $f(x, y, z) = x^{yz}$

**8.102.** Parciálisan deriválható-e  $f(x, y) = |x| + |y|$  a  $(0, 0)$  pontban?

**8.103.** Mi a következő két állítás logikai kapcsolata, azaz melyikből következik a másik?

**P:**  $f(x, y)$  folytonos  $(0, 0)$ -ban

**Q:**  $f(x, y)$  parciális deriváltjai léteznek  $(0, 0)$ -ban

**8.104.** Tudjuk, hogy  $f(1, 2) = 3$ , továbbá hogy minden  $(x, y)$  pontban  $f'_x(x, y) = 0$  és  $f'_y(x, y) = 0$ . Mennyi lehet  $f(5, 10)$  ?

**8.105.** Hol folytonosak az

$$f(x, y) = \begin{cases} (x + y) \sin \frac{1}{x} \sin y, & \text{ha } x \neq 0 \text{ és } y \neq 0 \\ 0, & \text{ha } x = 0 \text{ vagy } y = 0 \end{cases}$$

függvény parciális derivált függvényei?

**Határozzuk meg a következő függvények második parciális deriváltjait!**

**8.106.**  $g(x, y, z) = xy^2 \sin z$

**8.107.**  $g(x, y, z) = \frac{x}{y + z}$

**8.108.**  $g(x, y, z) = 2 + x + y^2 + z^3$

**8.109.**  $g(x, y, z) = \ln(x + y^2 + z^3)$

**Írjuk fel a következő függvények iránymenti deriváltjait az adott pontokban az adott irányban!**

**8.110.**  $f(x, y) = x + y^2$

$\mathbf{p} = (2, 3), \quad \mathbf{v} = (3, 4)$

**8.111.**  $f(x, y) = \sin xy$   $\mathbf{p} = (0, 0), \quad \mathbf{v} = (1, -1)$

**8.112.**  $f(x, y) = e^{x+y} \cdot \ln y$   $\mathbf{p} = (0, 1), \quad \mathbf{v} = (-4, 3)$

**8.113.**  $f(x, y) = \frac{x}{y}$   $\mathbf{p} = (1, 1), \quad \mathbf{v} = (-1, -1)$

**Határozzuk meg a következő függvények  $\alpha = 30^\circ$ -os szöghöz tartozó iránymenti deriváltját a  $(3, 5)$  pontban!**

**8.114.**  $f(x, y) = x^2 - y^2$  **8.115.**  $h(x, y) = xe^y$

**Milyen irányban lesz az iránymenti derivált maximális, illetve minimális a  $(-4, 2)$  pontban?**

**8.116.**  $f(x, y) = (x - y)^2$  **8.117.**  $g(x, y) = x^2 + \frac{2}{xy}$

**Egy terepasztal felületét az  $f(x, y)$  függvénnyel adjuk meg. Milyen irányban indul el a felület adott  $A = (1, 2)$ ,  $B = (2, 1)$ ,  $C = (2, 0)$  és  $D = (-2, 1)$  pontjai fölé helyezett golyó?**

**8.118.**  $e^{-(x^2+y^2)}$  **8.119.**  $x^3 + y^3 - 9xy$

**8.120.** Egy buckás domb felületét az  $f(x, y) = -x^2 + \sin y$  függvény adja meg, ha  $-2 \leq x \leq 2, -10 \leq y \leq 10$ . Milyen irányban induljon el a síelő a  $\mathbf{p} = (1, \pi/3)$  pontból, ha a lehető legmeredekebb pályán akar lecsúszni?

**8.121.** Legyen  $f(x, y) = \sqrt{1 - x^2 - y^2}$ . Írja fel az  $(1/2, 1/2)$  ponton áthaladó szintvonal egyenletét, valamint a szintvonal érintőjét az  $(1/2, 1/2)$  pontban! Írjuk fel a függvény gradiensét az  $(1/2, 1/2)$  pontban! Mekkora szöveg zár be a szintvonal érintője a gradienssel?

**8.122.** Adjunk példát olyan  $f(x, y)$  függvényre, ahol a gradiens létezik, de nem merőleges a szintvonal érintőjére!

Segítség: vizsgáljuk az



$$f(x, y) = \begin{cases} 0, & \text{ha } (x-1)^2 + y^2 = 1 \\ y, & \text{ha } x = 0 \text{ és } y \neq 0 \\ x & \text{egyébként} \end{cases}$$

függvényt az origóban!

**8.123.** Legyen  $f(x, y) = \sqrt{1 - x^2 - y^2}$ . Ellenőrizzük, hogy az  $(1/2, 1/2)$  pontban a függvény gradiense merőleges a szintvonal érintőjére!

**8.124.** Írjuk fel az  $f(x, y) = \operatorname{sgn} x \operatorname{sgn} y$  függvény gradiensét azokban a pontokban, ahol létezik!

**Egy terepasztal felületét az  $f(x, y)$  függvény adja meg. Tegyük fel, hogy az  $x$  tengely kelet felé, az  $y$  tengely pedig észak felé mutat. Határozzuk meg a  $\mathbf{p}$  ponton átmenő, észak-északnyugati irányban induló ösvény meredekségét a  $\mathbf{p}$  pontban!**

**8.125.**  $f(x, y) = x^2 - y^2$   $\mathbf{p} = (1, 2, -3)$

**8.126.**  $x^3 + y^3 - 9xy$   $\mathbf{p} = (2, 0, 8)$

**8.127.** Legyen  $f(x, y) = \begin{cases} xy \frac{x^2 - y^2}{x^2 + y^2}, & \text{ha } x^2 + y^2 \neq 0 \\ 0, & \text{ha } x^2 + y^2 = 0 \end{cases}$

- (a) Mennyi  $f'_x(0, 0)$  és  $f'_y(0, 0)$ ?
- (b) Mennyi  $f'_x(0, y)$  ha  $y \neq 0$  és mennyi  $f'_y(x, 0)$  ha  $x \neq 0$ ?
- (c) Mennyi  $f''_{xy}(0, 0)$  és  $f''_{yx}(0, 0)$ ?
- (d) Miért nincs ez ellentmondásban Young tételével?
- (e) Differenciálható-e kétszer  $f$  a  $(0, 0)$ -ban?

**8.128.** Legyen  $f : \mathbb{R}^n \rightarrow \mathbb{R}$  függvény. Melyik állítás igaz és melyik hamis az alábbiak közül? Ha egy állítás hamis, adjunk ellenpéldát!

- (a) Ha  $f$  folytonos a  $\mathbf{p}$  pontban, akkor ott differenciálható.
- (b) Ha  $f$  differenciálható a  $\mathbf{p}$  pontban, akkor  $f$  a  $\mathbf{p}$  pontban folytonos.

- (c) Ha  $f$ -nek léteznek a parciális deriváltjai a  $\mathbf{p}$  pontban, akkor  $f$  a  $\mathbf{p}$  pontban folytonos.
- (d) Ha  $f$ -nek léteznek és folytonosak a parciális deriváltjai a  $\mathbf{p}$  pontban, akkor  $f$  a  $\mathbf{p}$  pontban differenciálható.
- (e) Ha  $f$ -nek léteznek és folytonosak a parciális deriváltjai a  $\mathbf{p}$  pontban, akkor  $f$  a  $\mathbf{p}$  pontban folytonos.
- (f) Ha  $f$  differenciálható a  $\mathbf{p}$  pontban, akkor  $f$ -nek  $\mathbf{p}$ -ben léteznek a parciális deriváltjai.
- (g) Ha  $\mathbf{p}$ -ben  $f$ -nek léteznek a másodrendű parciális deriváltjai, akkor  $f$  2-szer differenciálható  $\mathbf{p}$ -ben.
- (h) Ha  $\mathbf{p}$ -ben  $f$ -nek léteznek és folytonosak a másodrendű parciális deriváltjai, akkor  $f$  2-szer differenciálható  $\mathbf{p}$ -ben.
- (i) Ha  $f$  a  $\mathbf{p}$  pontban 2-szer differenciálható, akkor  $\mathbf{p}$ -ben léteznek  $f$  másodrendű parciális deriváltjai.
- (j) Ha  $f$  a  $\mathbf{p}$  pontban 2-szer differenciálható, akkor  $\mathbf{p}$ -ben léteznek  $f$  parciális deriváltjai, és a parciális deriváltak  $\mathbf{p}$ -ben folytonosak.

---

**Van-e olyan  $f : \mathbb{R}^2 \rightarrow \mathbb{R}$  függvény, amelyre**

**8.129.**  $f'_x(x, y) = \sin y, f'_y(x, y) = x \cos y$

**8.130.**  $f'_x(x, y) = e^{xy}, f'_y(x, y) = \cos(x - y)$

---

**Határozzuk meg az alábbi függvényeket a megadott pontokban érintő síkok illetve hipersíkok egyenletét!**

**8.131.**  $f(x, y) = x^y$   $\mathbf{p} = (2, 3)$

**8.132.**  $f(x, y) = \sin(xy)$   $\mathbf{p} = (1/2, \pi)$

**8.133.**  $f(x, y, z) = xy^2 - z^3$   $\mathbf{p} = (3, 2, 1)$

**8.134.**  $f(x_1, \dots, x_n) = x_1 \cdot x_2 \cdot \dots \cdot x_n$   $\mathbf{p} = (1, 2, \dots, n)$

---

**Írjuk fel a  $G(t) = F(\mathbf{r}(t))$  összetett függvényt! Határozzuk meg  $G'(t)$ -t közvetlenül a képletből, és a láncszabály segítségével is!**



$$\mathbf{8.135.} \quad F(x, y) = x^2 + y^2 \quad \mathbf{r}(t) = \cos t \cdot \mathbf{i} + \sin t \cdot \mathbf{j} \quad t \in [0, 2\pi]$$

$$\mathbf{8.136.} \quad F(x, y) = x^2 - y^2 \quad \mathbf{r}(t) = \cos t \cdot \mathbf{i} + \sin t \cdot \mathbf{j} \quad t \in [0, 2\pi]$$

$$\mathbf{8.137.} \quad F(x, y) = x^2 + y^2 \quad \mathbf{r}(t) = t \cdot \mathbf{i} + 3t \cdot \mathbf{j} \quad t \in [0, 10]$$

**Írjuk fel a következő összetett leképezések Jacobi-mátrixát.**

$$\mathbf{8.138.} \quad g(t) = (\sin t, \cos t), \quad f(x, y) = x + y, \quad h = f \circ g.$$

$$\mathbf{8.139.} \quad f(u, v) = (\sin uv, \cos uv), \quad g(x, y) = x^2 + y^2, \quad h = g \circ f$$

$$\mathbf{8.140.} \quad f(u, v) = \left( u^2 v^2, \frac{1}{uv} \right), \quad g(x, y) = \ln x + \ln y, \quad h = g \circ f.$$

**Adjuk meg a következő síkbeli leképezések Jacobi-mátrixát!**

$$\mathbf{8.141.} \quad \mathbf{v} = \sin xy \cdot \mathbf{i} + x \cos y \cdot \mathbf{j}$$

$$\mathbf{8.142.} \quad \mathbf{v} = \frac{xy}{1+x^2} \cdot \mathbf{i} + \frac{x}{x^2+y^2} \cdot \mathbf{j}$$

$$\mathbf{8.143.} \quad \mathbf{v} = (\ln x + \ln y) \cdot \mathbf{i} + x^2 \cdot \mathbf{j}$$

$$\mathbf{8.144.} \quad \mathbf{v} = \sin(x + 3y^2) \cdot \mathbf{i} + e^{xy} \cdot \mathbf{j}$$

**8.145.** Legyen  $F(x, y) = xy$ , és legyenek  $f : \mathbb{R}^2 \rightarrow \mathbb{R}$ ,  $g : \mathbb{R}^2 \rightarrow \mathbb{R}$  differenciálható függvények! Írjuk fel az  $F(f, g)$  összetett függvény deriváltját a láncszabály segítségével!

**8.146.** Legyen  $\mathbf{r} : \mathbb{R} \rightarrow \mathbb{R}^2$  differenciálható, és legyen  $f(x, y) = x + y$ . Írjuk fel  $f \circ \mathbf{r}$  deriváltját a láncszabály segítségével!

**Írjuk fel a következő függvények  $P$  ponton áthaladó szintvonalainak érintőjét a  $P$  pontban!**

$$\mathbf{8.147.} \quad f(x, y) = x^y, \quad P(3, 5)$$

$$\text{8.148. } f(x, y) = x^2 - y^2 \quad P(5, 3)$$

## 8.5. Többváltozós szélsőérték

**Van-e abszolút szélsőértékük a következő függvényeknek az adott halmazokon? Indokoljuk a válaszokat!**

$$\text{8.149. } f(x) = \frac{1}{x} \quad H = \{(x) : x \neq 0\}$$

$$\text{8.150. } f(x) = \sin^2 \sqrt[7]{x^3} \quad H = \{(x) : x \in \mathbb{R}\}$$

$$\text{8.151. } f(x, y) = \frac{y}{x} \quad H = \{(x, y) : x \neq 0\}$$

$$\text{8.152. } f(x, y) = x^2 + e^y \sin(x^3 y^2) \quad H = \{(x, y) : x^2 + y^2 \leq 1\}$$

$$\text{8.153. } f(x, y) = x^2 + y^2 \quad H = \{(x, y) : x^2 + y^2 < 1\}$$

$$\text{8.154. } f(x, y) = x + y \quad H = \{(x, y) : 0 < x < 1, 0 < y < 1\}$$

$$\text{8.155. } f(x, y) = xy \quad H = \{(x, y) : 0 \leq x \leq 1, 0 \leq y \leq 1\}$$

$$\text{8.156. } f(x, y, z) = xyz \quad H = \{(x, y, z) : (x-1)^2 + (y+2)^2 + (z-3)^2 \leq 4\}$$

**Határozzuk meg a következő függvények abszolút szélsőértékeit a megadott halmazokon!**

$$\text{8.157. } f(x, y) = x^3 y^2 (1 - x - y) \quad H = \{(x, y) : 0 \leq x, 0 \leq y, x + y \leq 1\}$$

$$\text{8.158. } f(x, y) = x^2 + y^2 + (x + y + 1)^2 \quad H = \mathbb{R}^2$$

$$\text{8.159. } f(x, y) = x - y - 3 \quad H = \{(x, y) : x^2 + y^2 \leq 1\}$$

$$\text{8.160. } f(x, y) = \ln x \cdot \ln y + \frac{1}{2} \ln x + \frac{1}{2} \ln y$$

$$H = \{(x, y) : \frac{1}{e} \leq x \leq e, \frac{1}{e} \leq y \leq e\}$$

**8.161.**  $f(x, y) = \sin x + \sin y + \sin(x + y)$   
 $H = \{(x, y) : 0 \leq x \leq \frac{\pi}{2}, 0 \leq y \leq \frac{\pi}{2}\}$

**8.162.**  $f(x, y) = x^2 - 2xy + 2y^2 - 2x + 4y$   
 $H = \{(x, y) : |x| \leq 3, |y| \leq 3\}$

**Keresstük meg a következő függvények lokális szélsőértékhelyeit, ha vannak!**

**8.163.**  $f(x, y) = 3x^2 + 5y^2$

**8.164.**  $f(x, y) = (2x - 5y)^2$

**8.165.**  $f(x, y) = 2x^2 - 3y^2$

**8.166.**  $f(x, y) = 2x^2 - y^2 + 4x + 4y - 3$

**8.167.**  $f(x, y) = x^2 + y^2 - 6x + 8y + 35$

**8.168.**  $f(x, y) = 3 - \sqrt{2 - (x^2 + y^2)}$

**8.169.**  $f(x, y) = -y^2 + \sin x$

**8.170.**  $f(x, y) = e^{-(x^2+y^2)}$

**8.171.**  $f(x, y) = (x - y^2)(2x - y^2)$

**8.172.**  $f(x, y) = -2x^2 - 2xy - 2y^2 + 36x + 42y - 158$

**8.173.** Van-e olyan egyváltozós polinom, amelynek értékkészlete  $(0, \infty)$ ? Ha igen, adjunk rá példát! Van-e olyan kétváltozós polinom, amelynek értékkészlete  $(0, \infty)$ ? Ha igen, adjunk rá példát!

**8.174.** Adjunk meg olyan kétváltozós függvényt, amelyiknek végtelen sok szigorú lokális maximuma van, de nincs lokális minimuma!

**8.175.** Határozzuk meg a  $2x + 3y + 4z$  függvény maximumát és minimumát az origó középpontú 1 sugarú gömb felszínén!

**8.176.** Határozzuk meg a  $\mathbf{p}(t) = 2t \cdot \mathbf{i} + t \cdot \mathbf{j} + (1-t) \cdot \mathbf{k}$  és a  $\mathbf{q}(t) = 3t \cdot \mathbf{i} + t \cdot \mathbf{j} + (2t-1) \cdot \mathbf{k}$  egyenesek távolságát!

**8.177.** Igazak-e a következő állítások?

- (a) Ha  $f'_x(x_0, y_0) = 0$ , akkor  $f$ -nek az  $(x_0, y_0)$  pontban lokális szélsőérték helye van.
- (b) Ha  $f'_x(x_0, y_0) = 0$  és  $f'_y(x_0, y_0) = 0$ , akkor  $f$ -nek az  $(x_0, y_0)$  pontban lokális szélsőérték helye van.
- (c) Ha  $f''_{xy}(x_0, y_0) = 0$  és  $f''_{yx}(x_0, y_0) = 0$ , akkor  $f$ -nek az  $(x_0, y_0)$  pontban lokális szélsőérték helye van.
- (d) Ha  $f''_{xx}(x_0, y_0)f''_{yy}(x_0, y_0) - (f''_{xy}(x_0, y_0))^2 < 0$ , akkor  $f$ -nek az  $(x_0, y_0)$  pontban nincs lokális szélsőérték helye.
- (e) Ha  $f''_{xx}(x_0, y_0)f''_{yy}(x_0, y_0) - (f''_{xy}(x_0, y_0))^2 \leq 0$ , akkor  $f$ -nek az  $(x_0, y_0)$  pontban nincs lokális szélsőérték helye.
- (f) Ha  $f''_{xx}(x_0, y_0) < 0$ , akkor  $f$ -nek az  $(x_0, y_0)$  pontban nincs lokális minimum helye.

**Mely  $(x, y) \in \mathbb{R}^2$  pontokban nulla az  $f(x, y)$  függvény mindkét parciális deriváltja? Mely  $(x, y) \in \mathbb{R}^2$  pontokban van az  $f(x, y)$  függvénynek lokális szélsőérték helye?**

**8.178.**  $f(x, y) = x^3$

**8.179.**  $f(x, y) = x^2$

**8.180.**  $f(x, y) = x^2 - y^2$

**8.181.**  $f(x, y) = x^2 + y^2$

**8.182.**  $f(x, y) = (x + y)^2$

**8.183.**  $f(x, y) = x^3 + y^3$

**8.184.**  $f(x, y) = e^{-(x^2+y^2)}$

**8.185.**  $f(x, y) = x^2 + \sin y$

**8.186.**  $f(x, y) = 3x^2 + 5y^2$

**8.187.**  $f(x, y) = \frac{2}{3}x^3 + y^4 + xy$

**8.188.**  $f(x, y) = xy$

**8.189.**  $f(x, y) = e^{y^2-x^2}$

**8.190.**  $f(x, y, z) = xyz + x^2 + y^2 + z^2$

**8.191.**  $f(x, y) = x^3 - y^3$

8.192.  $f(x, y) = x^4 + y^4$

8.193.  $f(x, y) = -2x^2 - y^4$

8.194.  $f(x, y) = (2x - 5y)^2$

8.195.  $f(x, y) = (1 + e^y) \cos x - ye^y$

Egy hegy felületét az  $F(x, y) = 30 - \frac{x^2}{100} - \frac{y^2}{100}$  függvény írja le. Adjuk meg a kiránduló ösvény legmagasabb pontját, ha az ösvény pontjainak koordinátái kielégítik a következő feltételeket:

8.196.  $3x + 3y = \pi \sin x + \pi \sin y$

8.197.  $4x^2 + 9y^2 = 36$

8.198.  $y = \frac{1}{1 + x^2}$

8.199.  $x^2 + y^2 = 25$

Határozzuk meg  $f$  maximumát a megadott feltétel mellett!

8.200.  $f(x, y) = xy, \quad x^2 + y^2 = 1$

8.201.  $f(x, y, z) = x - y + 3z, \quad x^2 + \frac{y^2}{2} + \frac{z^2}{3} = 1$

8.202.  $f(x, y, z) = xyz, \quad x^2 + y^2 + z^2 = 3$

8.203.  $f(x, y) = xy, \quad x + y + z = 5$

8.204.  $f(x, y) = xyz, \quad xy + yz + xz = 8$

8.205.  $f(x, y) = xyz, \quad xy + yz + xz = 8, \quad x, y, z \geq 0$

8.206. Egy részecske az  $x^2 + y^2 = 25$  körpályán mozoghat azon a síkon, ahol az  $(x, y)$  pontban az energiája  $E(x, y) = x^2 + 24xy + 8$ . Van-e a részecskenek stabil egyensúlyi helyzete?

8.207. Egy üzemben a gyártott termék mennyisége az  $x$  és  $y$  paraméterektől függ:  
 $M(x, y) = xy$ . A termelési költség  $C(x, y) = 2x + 3y$ . Legfeljebb mennyi terméket gyárthat az üzem, ha  $C(x, y) = 10$  egységnyi pénze van a termelés költségeire?

- 8.208.** Adott térfogatú téglák közül melyiknek a legkisebb a felszíne?
- 8.209.** Határozzuk meg annak a háromszögnek a szögeit, amelynek a kerülete  $K$ , és a területe maximális!
- 8.210.** Határozzuk meg a  $3x^2 + 2y^2 + z^2 = 9$  egyenletű ellipszoidot az  $(1, -1, 2)$  pontban érintő sík egyenletét!
- 8.211.** Legyen  $P = (3, -7, -1)$ ,  $Q = (5, -3, 5)$ ,  $S$  pedig az a  $Q$ -n átmenő sík, amelyik merőleges a  $PQ$  szakaszra!
- (a) Írjuk fel az  $S$  sík egyenletét!
  - (b) Írjuk fel a sík egy pontjának és az origónak a távolságát!
  - (c) Melyik pontja van az  $S$  síknak legközelebb az origóhoz?
  - (d) Mutassuk meg, hogy az előbb kapott pontot az origóval összekötő szakasz merőleges az  $S$  síkra! Magyarázzuk meg geometriailag is, hogy ez miért van így!



## 9. fejezet

# Többváltozós Riemann-integrál

### 9.1. Jordan-mérhető halmazok tulajdonságai.

- Ha  $A \subset \mathbb{R}^n$  korlátos, akkor  $b(A) = b(\text{int } A)$ ,  $k(A) = k(\overline{A})$ .
- Az  $A \subset \mathbb{R}^n$  korlátos halmaz akkor és csak akkor Jordan-mérhető, ha határa nullmértékű.
- Ha  $A \subset \mathbb{R}^n$  Jordan-mérhető, és  $f : A \rightarrow \mathbb{R}$  korlátos, akkor  $f$  pontosan akkor integrálható, ha graf  $f \subset \mathbb{R}^{n+1}$  nullmértékű.

### 9.2. Az integrál tulajdonságai.

- Ha  $A$  Jordan-mérhető halmaz, akkor  $t(A) = \int_A \chi_A$ , ahol  $\chi_A$  az  $A$  halmaz **karakterisztikus függvénye**,

$$\chi_A(x) = \begin{cases} 1 & \text{ha } x \in A \\ 0 & \text{ha } x \notin A \end{cases}$$

- Ha  $A$  és  $B$  két korlátos halmaz,  $\text{int } A \cap \text{int } B = \emptyset$  (**egymásba nem nyúló halmazok**),  $f$  integrálható  $A$ -n és  $B$ -n is, akkor  $f$  integrálható a  $C = A \cup B$  halmazon és

$$\int_C f = \int_A f + \int_B f.$$

- Mérhető zárt halmazon folytonos függvény integrálható.
- Ha  $f$  és  $g$  egy nullmértékű halmazt kivéve megegyezik a mérhető  $A$  halmazon, és  $f$  integrálható  $A$ -n, akkor  $g$  is integrálható  $A$ -n, és

$$\int_A f = \int_A g.$$

- Ha  $f$  és  $g$  integrálható az  $A$  halmazon,  $c$  pedig egy tetszőleges valós szám, akkor  $f + g$  és  $c \cdot f$  is integrálható, és

$$\int_A (f + g) = \int_A f + \int_A g, \quad \int_A (c \cdot f) = c \int_A f.$$

### 9.3. Integrálási módszerek.

- **Szukcesszív integrálás - Fubini-tétel.**

Legyen  $A \subset \mathbb{R}^{n-1}$  egy zárt Jordan-mérhető halmaz,  $B = [a, b] \times A \subset \mathbb{R}^n$  és  $f : B \rightarrow \mathbb{R}$  folytonos, akkor

$$\iint_B f(x, y) \, dx \, dy = \int_a^b \left( \int_A f(x, y) \, dy \right) dx$$

- **Integrálás normáltartományon.**

Legyen  $A \subset \mathbb{R}^{n-1}$  egy zárt Jordan-mérhető halmaz,  $\varphi : A \rightarrow \mathbb{R}$ ,  $\psi : A \rightarrow \mathbb{R}$  két folytonos függvény,  $\varphi \leq \psi$  az  $A$  pontjaiban,

$$N = \{(x, y) : x \in A, \varphi(x) \leq y \leq \psi(x)\} \subset \mathbb{R}^n, \quad f : N \rightarrow \mathbb{R}$$

folytonos függvény. Ekkor  $N$  Jordan-mérhető,  $f$  integrálható  $N$ -en, és

$$\iint_N f(x, y) \, dx \, dy = \int_A \left( \int_{\varphi(x)}^{\psi(x)} f(x, y) \, dy \right) dx.$$

- **Integráltranszformáció.**

Legyen  $A \subset \mathbb{R}^n$  zárt Jordan-mérhető halmaz,  $\Phi : A \rightarrow \mathbb{R}^n$  folytonos, int  $A$ -n egy-egy értelmű és folytonosan deriválható,  $B = \{\Phi(x) : x \in A\} = \Psi(A)$ , valamint  $f : B \rightarrow \mathbb{R}$  folytonos függvény. Ekkor  $B$  (zárt) Jordan-mérhető halmaz, és

$$\int_B f(y) \, dy = \int_A |J| f(\Psi(x)) \, dx,$$

ahol  $J = \det(\Psi')$  a  $\Psi$  leképezés **Jacobi-determinánsa**.

## 9.1. Jordan-mérték

**Van-e területe a következő síkbeli halmazok határának? Ha igen, határozzuk meg a területét!**

**9.1.**  $H = \{(x, y) : 0 \leq x < 1, 0 < y \leq 1\}$

**9.2.**  $H = \{(x, y) : x \in \mathbb{Q}, y \in \mathbb{Q}, 0 \leq x \leq 1, 0 \leq y \leq 1\}$

**Van-e térfogata a következő térbeli halmazok határának? Ha igen, határozzuk meg a térfogatát!**

**9.3.**  $H = \{(x, y, z) : 0 \leq x \leq 1, 0 \leq y \leq 1, 0 \leq z \leq 1\}$

**9.4.**  $H = \{(x, y, z) : x \in \mathbb{Q}, y \in \mathbb{Q}, z \in \mathbb{Q}, 0 \leq x \leq 1, 0 \leq y \leq 1, 0 \leq z \leq 1\}$

**Határozzuk meg a következő síkbeli halmazok külső és belső területét! Melyik halmaz mérhető?**

**9.5.**  $H = \{(x, y) : 0 \leq x \leq 1, 0 \leq y \leq 1\}$

**9.6.**  $H = \{(x, y) : 0 \leq x < 1, 0 < y \leq 1\}$

**9.7.**  $H = \{(x, y) : 0 \leq x \leq 1, 0 \leq y \leq x\}$

**9.8.**  $H = \{(x, y) : x \in \mathbb{Q}, y \in \mathbb{Q}, 0 \leq x \leq 1, 0 \leq y \leq 1\}$

**Határozzuk meg a következő térbeli halmazok külső és belső mértékét! Melyik halmaz mérhető?**

**9.9.**  $H = \{(x, y, z) : 0 \leq x \leq 1, 0 \leq y \leq 1, 0 \leq z \leq 1\}$

**9.10.**  $H = \{(x, y, z) : 0 \leq x < 1, 0 < y < 1, 0 < z < 1\}$

**9.11.**  $H = \{(x, y, z) : 0 < x < 1, 0 < y < 1, 0 < z < x + y\}$

**9.12.**  $H = \{(x, y, z) : x \in \mathbb{Q}, y \in \mathbb{Q}, z \in \mathbb{Q}, 0 \leq x \leq 1, 0 \leq y \leq 1, 0 \leq z \leq 1\}$

**9.13.** Bizonyítsuk be, hogy egy korlátos halmaz pontosan akkor mérhető, ha a határának a mértéke 0.

**9.14.** Bizonyítsuk be, hogy ha a  $H_1$  és  $H_2$  halmazok mérhetőek, akkor a  $H_1 \cup H_2, H_1 \setminus H_2, H_1 \cap H_2$  halmazok is mérhetőek!

**9.15.** Van-e olyan korlátos  $A$  és  $B$  síkbeli halmaz, amelyekre teljesül, hogy

$$(a) \ b(A \cup B) > b(A) + b(B)? \quad (b) \ k(A \cup B) < k(A) + k(B)?$$

**9.16.** Van-e olyan korlátos és diszjunkt  $A$  és  $B$  síkbeli halmaz, amelyekre teljesül, hogy

$$(a) \ b(A \cup B) > b(A) + b(B)? \quad (b) \ k(A \cup B) < k(A) + k(B)?$$

**9.17.** Tegyük fel, hogy a korlátos  $H$  halmaz határának a területe 0. Következik-e ebből, hogy a  $H$  halmaz belseje üres?

**9.18.** Tegyük fel, hogy a korlátos  $H$  halmaz belseje üres. Következik-e ebből, hogy a  $H$  halmaz mérhető?

**9.19.** Legyen  $R$  egy tengelypárhuzamos téglá, és legyen  $H \subset R$  tetszőleges halmaz. Bizonyítsuk be, hogy  $b(H) + k(R \setminus H) = t(R)$ !

**9.20.** Legyen  $R$  egy tengelypárhuzamos téglá, és legyen  $H \subset R$  tetszőleges halmaz. Bizonyítsuk be, hogy  $H$  pontosan akkor mérhető, ha  $k(H) + k(R \setminus H) = t(R)$ !

**9.21.** Van-e olyan korlátos  $H$  halmaz, amelyekre teljesül, hogy

$$(a) \ k(H) > b(H) \quad (b) \ k(H) < b(H)$$

$$(c) \ t(\partial H) > b(H) \quad (d) \ t(\partial H) > k(H)?$$

**9.22.** Van-e olyan mérhető  $H$  halmaz, amelyekre teljesül, hogy

(a)  $k(H) > b(H)$

(b)  $t(\partial H) = 1?$

**9.23.** Tegyük fel, hogy  $H$  korlátos halmaz. Igaz-e, hogy ha  $H$  mérhető, akkor  $H \cup \partial H$  is mérhető?

**9.24.** Legyen  $K_n$  az origó középpontú,  $1/n$  sugarú körvonal a síkban! Határozzuk meg az  $\bigcup_{n=1}^{\infty} K_n$  halmaz területét!

**9.25.** Legyen  $K_n$  az  $(1/n, 1/n)$  középpontú,  $1/n$  sugarú körvonal a síkban! Határozzuk meg az  $\bigcup_{n=1}^{\infty} K_n$  halmaz területét!

**9.26.** Legyen  $f : [a, b] \rightarrow \mathbb{R}$  korlátos függvény, és  $G_f = \{(x, y) : a \leq x \leq b, y = f(x)\}$ , a függvény grafikonja. Bizonyítsuk be, hogy  $G_f$  pontosan akkor Jordan-mérhető, ha  $f$  integrálható!

**9.27.** Számoljuk ki az egységnyezet racionális pontjaiból álló halmaz belső, illetve külső mértékét.

**9.28.** Adjunk meg a síkban egy korlátos nyílt halmazt, amelynek nincs Jordan-területe.

**9.29.** Adjunk meg a síkban korlátos zárt halmazt, amelynek nincs Jordan-területe.

**9.30.** Bizonyítsuk be, hogy tetszőleges korlátos  $A \subset \mathbb{R}^n$  halmazra

$$b(A) = 0 \iff \text{int } A = \emptyset.$$

**9.31.** Bizonyítsuk be, hogy ha  $A \subset \mathbb{R}^n$  Jordan-mérhető, akkor  $\forall \varepsilon > 0 \exists K \subset A$  zárt, és  $\exists G \supset A$  nyílt mérhető halmaz úgy, hogy

$$t(A) - \varepsilon < t(K) \leq t(A) \leq t(G) < t(A) + \varepsilon.$$

**9.32.** Legyen  $C \subset \mathbb{R}$  a Cantor-halmaz.  $H = C \times [0, 1] \subset \mathbb{R}^2$ . Jordan-mérhető-e  $H$ , és ha igen, mennyi a területe?

**9.33.** Legyen  $H = \bigcup_{n=1}^{\infty} K_n$ , ahol  $K_n$  az origó középpontú,  $1/n$  sugarú körvonal.

- (a) Mérhető halmaz  $H$ ?  
 (b) Van-e olyan  $S \subset \mathbb{R}^2$  (mérhető) halmaz, amelyre  $\partial S = H$ ?  
 (c) Van-e olyan  $S \subset \mathbb{R}^2$  (mérhető) halmaz, amelyre  $\partial S \supset H$ ?

## 9.2. Többváltozós Riemann-integrál

**9.34.** Legyen  $H = [-1, 1] \times [0, 1]$ , és

$$f(x, y) = \begin{cases} |x|, & \text{ha } y \in \mathbb{Q} \\ 0, & \text{ha } y \notin \mathbb{Q} \end{cases}$$

Mutassuk meg, hogy  $\int_0^1 \left( \int_{-1}^1 f(x, y) dx \right) dy = 0$ , és hogy  $f$  nem integrálható  $H$ -n!

**9.35.** Legyen  $H = \{x^2 + y^2 \leq 1\}$ , és

$$f(x, y) = \begin{cases} 1, & \text{ha } x \geq 0 \\ -1, & \text{ha } x < 0 \end{cases}$$

Számítsuk ki  $f$  alsó és felső integrálját a  $H$  halmazon! Integrálható-e  $f$  a  $H$  halmazon?

**Integrálhatók-e az  $N = [0, 1] \times [0, 1]$  egységnyezeten a következő függvények? Ha igen, számítsuk ki az integrál értékét!**

**9.36.**  $f(x, y) = \begin{cases} 0, & \text{ha } y > x \\ 1, & \text{ha } y \leq x \end{cases}$

**9.37.**  $f(x, y) = \begin{cases} 1, & \text{ha } y \geq x \\ 0, & \text{ha } y < x \end{cases}$

**9.38.**  $f(x, y) = \begin{cases} 0, & \text{ha } xy \neq 0 \\ 1, & \text{ha } xy = 0 \end{cases}$

**9.39.**  $f(x, y) = \begin{cases} 1, & \text{ha } x, y \in \mathbb{Q} \\ 0, & \text{egyébként} \end{cases}$

$$\mathbf{9.40.} \quad f(x, y) = \begin{cases} 1, & \text{ha } x \geq 1/2 \\ 2, & \text{ha } x < 1/2 \end{cases}$$

$$\mathbf{9.41.} \quad f(x, y) = \begin{cases} 1, & \text{ha } y \geq 1/2 \\ 2, & \text{ha } y < 1/2 \end{cases}$$

$$\mathbf{9.42.} \quad f(x, y) = D(x)D(y), \text{ ahol } D(t) = \begin{cases} 1, & \text{ha } t \in \mathbb{Q} \\ 0, & \text{ha } t \notin \mathbb{Q} \end{cases} \text{ a Dirichlet-függvény.}$$

$$\mathbf{9.43.} \quad \text{Legyen } f(x, y) = \begin{cases} n & \text{ha } x + y = 1/n, n \in \mathbb{N}^+ \\ 0 & \text{egyébként} \end{cases}.$$

Mutassuk meg, hogy  $f$  nem integrálható az  $N$  egységnegyzeten, de

$$\int_0^1 \left( \int_0^1 f(x, y) dx \right) dy = 0 \text{ és } \int_0^1 \left( \int_0^1 f(x, y) dy \right) dx = 0.$$

**Számítsuk ki az  $N = [0, 1] \times [0, 1]$  halmazon a következő területi integrálokat! Alkalmazzuk Fubini tételét!**

$$\mathbf{9.44.} \quad \iint_N \sin x \, dx \, dy$$

$$\mathbf{9.45.} \quad \iint_N \sin y \, dx \, dy$$

$$\mathbf{9.46.} \quad \iint_N \sin(x + y) \, dx \, dy$$

$$\mathbf{9.47.} \quad \iint_N \sin xy \, dx \, dy$$

$$\mathbf{9.48.} \quad \iint_N e^{2x+y} \, dx \, dy$$

$$\mathbf{9.49.} \quad \iint_N xy \, dx \, dy$$

**Legyen  $N = [0, 1]^2 \subset \mathbb{R}^2$  az egységnegyzet. Integráljuk  $N$ -en a következő  $f(x, y)$  függvényeket:**

$$\mathbf{9.50.} \quad f(x, y) = x$$

$$\mathbf{9.51.} \quad f(x, y) = x^3 - x^2y + \sqrt{y}$$

$$\mathbf{9.52.} \quad f(x, y) = e^{x+2y}$$

$$\mathbf{9.53.} \quad f(x, y) = xe^{xy}$$

$$\text{9.54. } f(x, y) = \begin{cases} 1 & \text{ha } x = y \\ 0 & \text{ha } x \neq y \end{cases} \quad \text{9.55. } f(x, y) = \begin{cases} 1 & \text{ha } x = y \\ 0 & \text{ha } x < y \end{cases}$$

$$\text{9.56. } f(x, y) = \begin{cases} 1 & \text{ha } x + y = 1 \\ 0 & \text{egyébként} \end{cases}$$

$$\text{9.57. } f(x, y) = \begin{cases} 1 & \text{ha } x = 1/n, n \in \mathbb{N}^+ \\ 0 & \text{egyébként} \end{cases}$$

**Határozzuk meg a következő területi integrálokat a megadott téglalapokon:**

$$\text{9.58. } \iint_T (x + y) dx dy \quad T : 0 \leq x \leq 1, 1 \leq y \leq 3$$

$$\text{9.59. } \iint_T xy dx dy \quad T : 0 \leq x \leq 1, 1 \leq y \leq 3$$

$$\text{9.60. } \iint_T e^{x+y} dx dy \quad T : 0 \leq x \leq 1, 0 \leq y \leq 1$$

$$\text{9.61. } \iint_T xe^y dx dy \quad T : 1 \leq x \leq 2, 3 \leq y \leq 4$$

$$\text{9.62. } \iint_T \frac{x}{y} dx dy \quad T : 1 \leq x \leq 2, 3 \leq y \leq 4$$

$$\text{9.63. } \iint_T x \sin y dx dy \quad T : 0 \leq x \leq 1, 2 \leq y \leq 3$$

**Számítsuk ki a  $H = \{(x, y) : 0 \leq x \leq \pi/2, 0 \leq y \leq \sin x\}$  halmazon a következő területi integrálokat! Alkalmazzuk Fubini tételét!**

$$\text{9.64. } \iint_H (x - y) dx dy \quad \text{9.65. } \iint_H xy dx dy$$

$$\text{9.66. } \iint_H y \sin x dx dy \quad \text{9.67. } \iint_H \frac{x}{\sqrt{1+y^2}} dx dy$$

**Határozzuk meg a következő területi integrálokat a megadott halmazokon:**



$$\text{9.68.} \quad \iint_T (x+y) \, dx \, dy \quad T : x^2 + y^2 \leq 1$$

$$\text{9.69.} \quad \iint_T xy \, dx \, dy \quad T : (x-1)^2 + (y+1)^2 \leq 4$$

$$\text{9.70.} \quad \iint_T xy \, dx \, dy \quad T : \begin{array}{l} (x-1)^2 + y^2 = 1 \\ (x-2)^2 + y^2 = 4 \end{array} \quad \begin{array}{l} \text{körök által határolt} \\ \text{tartomány.} \end{array}$$

$$\text{9.71.} \quad \iint_T (x-xy) \, dx \, dy \quad T : (x-2)^2 + (y+3)^2 \leq 4$$

$$\text{9.72.} \quad \iint_T e^{-x^2} \, dx \, dy \quad T : 0 \leq x \leq 1, 0 \leq y \leq x$$

$$\text{9.73.} \quad \iint_T (x^2 + y^2)^{3/2} \, dx \, dy \quad T : x^2 + y^2 \leq 1$$

Legyen  $T = [0, 1] \times [0, 2] \times [0, 3] \subset \mathbb{R}^3$ . Számoljuk ki a következő térfogati integrálokat a  $T$  téglán:

$$\text{9.74.} \quad \iiint_T (x+y+z) \, dx \, dy \, dz \quad \text{9.75.} \quad \iiint_T xyz \, dx \, dy \, dz$$

$$\text{9.76.} \quad \iiint_T e^{x+y+z} \, dx \, dy \, dz \quad \text{9.77.} \quad \iiint_T (xz + y^2) \, dx \, dy \, dz$$

Határozzuk meg a következő görbék által határolt síkidomok területét!

$$\text{9.78.} \quad y = x^2, \quad x = y^2 \quad \text{9.79.} \quad y = 2x - x^2, \quad y = x^2$$

$$\text{9.80.} \quad 2y = x^2, \quad y = x \quad \text{9.81.} \quad 4y = x^2 - 4x, \quad x - y - 3 = 0$$

$$\text{9.82.} \quad y = x^2, \quad y = 2x^2, \quad xy = 1, \quad xy = 2$$


$$\text{9.83.} \quad x^2 - y^2 = 1, \quad x^2 - y^2 = 4, \quad xy = 1, \quad xy = 2$$




**9.84.** Határozzuk meg a  $H = \{(x, y) : -1 \leq x \leq 1, 0 \leq y \leq \sqrt{1 - x^2}\}$  halmaz területét!

**9.85.** Számoljuk ki az  $y = x^2$ ,  $y = 2x^2$  parabolák és az  $x = 1$  egyenes által határolt síkidom területét.

**9.86.** Számoljuk ki az  $x^2 + y^2 = 1$  hengerpálást és az  $x + y + z = 2$ ,  $z = 0$  síkok által határolt test térfogatát. A keresett test:



**9.87.** Számoljuk ki az  $x^2 + y^2 = 1$  hengerpálást és az  $x + y + z = 1$ ,  $z = 0$  síkok által határolt test térfogatát. A keresett test:



**9.88.** Számítsuk ki az  $f(x, y) = 1 - \frac{x^2}{2} - \frac{y^2}{2}$  függvény grafikonja alatti test térfogatát a  $H$  halmaz felett, ha  $H = [0, 1] \times [0, 1]$ !

**9.89.** Számítsuk ki az  $f(x, y) = x + y$  függvény grafikonja alatti test térfogatát a  $H$  halmaz felett, ha  $H = \{0 \leq x + y \leq 1, 0 \leq x, 0 \leq y\}$ !

**Rajzoljuk le azt a testet, amelyiknek a térfogatát az adott integrállal számolhatjuk ki! Számítsuk ki a térfogatokat!**

$$\text{9.90.} \quad \iint_{|x|+|y|\leq 1} (x^2 + y^2) dy dx \quad \text{9.91.} \quad \int_0^1 \left( \int_0^{1-x} (x^2 + y^2) dy \right) dx$$

**Számítsuk ki a következő felületek által határolt testek térfogatát!**

$$\text{9.92.} \quad x + y + z = 6, \quad x = 0, \quad z = 0, \quad x + 2y = 4$$

$$\text{9.93.} \quad x - y + z = 6, \quad x + y = 2, \quad x = y, \quad y = 0, \quad z = 0$$

$$\text{9.94.} \quad z = 1 - x^2 - y^2, \quad x^2 + y^2 \leq 1$$

$$\text{9.95.} \quad z = \cos x \cos y, \quad |x + y| \leq \frac{\pi}{2}, \quad z = 0$$

**Számítsuk ki a következő testek térfogatát!**

$$\text{9.96.} \quad \text{gömb}$$

$$\text{9.97.} \quad \text{ellipszoid}$$

$$\text{9.98.} \quad \text{körhenger}$$

$$\text{9.99.} \quad \text{forgáskúp}$$

Tegyük fel, hogy a  $H$  síkbeli tartományt  $\varrho(x, y)$  sűrűségű anyag tölti ki. Ekkor a test tömege:

$$M = \iint_H \varrho(x, y) dx dy,$$

a test tömegközéppontjának a koordinátái pedig

$$S_x = \frac{1}{M} \iint_H x \varrho(x, y) dx dy, \quad S_y = \frac{1}{M} \iint_H y \varrho(x, y) dx dy.$$

Határozzuk meg a tömegközéppont koordinátáit, ha  $H = [0, 1] \times [0, 1]$  és,

$$\text{9.100.} \quad \varrho(x, y) = x^2$$

$$\text{9.101.} \quad \varrho(x, y) = x + y$$

9.102.  $\varrho(x, y) = xy$

9.103.  $\varrho(x, y) = x^2 + y^2$

Határozzuk meg annak a kétdimenziós testnek a tömegközéppontját, amelyiket az  $y = 0$ ,  $x = 2$ ,  $y = 1$ ,  $y = x$  egyenesek határolnak, és amelyiknek a sűrűsége

9.104.  $\varrho(x, y) = 1$

9.105.  $\varrho(x, y) = x$

9.106.  $\varrho(x, y) = y$

9.107.  $\varrho(x, y) = xy$

9.108.  $\varrho(x, y) = \frac{1}{x + y^3}$

9.109.  $\varrho(x, y) = e^{x+y}$

Az  $xy$  síkban levő test tehetetlenségi nyomatéka a  $z$  tengelyre nézve

$$\Theta = \iint_H r^2(x, y) \varrho(x, y) dx dy,$$

ahol  $r(x, y)$  az  $(x, y)$  pont távolsága a  $z$  tengelytől. Határozzuk meg a  $\varrho$  sűrűségű, egységoldalú négyzet  $z$  tengelyre vonatkozó tehetetlenségi nyomatékát, ha a négyzet egyik csúcsa ér hozzá a  $z$  tengelyhez!

9.110.  $\varrho(x, y) = 1$

9.111.  $\varrho(x, y) = xy$

9.112. Határozzuk meg az előző két feladatban szereplő négyzetek tehetetlenségi nyomatékát az  $z$  tengelyre vonatkozóan, ha a négyzet egyik oldalának a felezőpontja ér hozzá a  $z$  tengelyhez!

9.113. Egy vékony lemezt az  $y = 0$ ,  $x = 1$  és az  $y = 2x$  egyenesek határolnak. A lemez sűrűsége  $\varrho(x, y) = 6x + 6y + 6$ . Határozzuk meg a test tömegét és tömegközéppontjának koordinátáit!

9.114. Egy test az első térfelületben van, a koordinátasíkok és az  $x + y + z = 2$  sík határolja, a sűrűsége pedig  $\varrho(x, y, z) = 2x$ . Határozzuk meg a test tömegét és tömegközéppontjának koordinátáit!

**9.115.** Egy 1 méter mély gödörből a felszínre szivattyúzzuk a vizet. Mennyi munkát végzünk a gravitáció ellenében, ha a gödör

(a) kocka alakú,

(b) félgömb alakú?

## 10. fejezet

# Vonalintegrál és primitív függvény

**10.1. Érintőegyenes.** Az  $\mathbf{r}(t)$  térgörbe érintőjének egyenlete az  $\mathbf{r}_0 = \mathbf{r}(t_0)$  pontban

$$\mathbf{r} = \mathbf{r}_0 + \mathbf{v} \cdot t,$$

ahol  $\mathbf{v} = \dot{\mathbf{r}}(t_0)$  az érintőegyenes irányvektora.

**10.2. Sík és térgörbe ívhossza.**

— Ha az  $\mathbf{r} : [a, b] \rightarrow \mathbb{R}^2$  síkgörbe folytonosan deriválható, akkor rektifikálható, és ívhossza

$$L = \int_a^b |\dot{\mathbf{r}}| dt = \int_a^b \sqrt{\dot{x}^2 + \dot{y}^2} dt.$$

— Ha  $f : [a, b] \rightarrow \mathbb{R}$  folytonosan deriválható, akkor grafikonja rektifikálható, és ívhossza

$$L = \int_a^b \sqrt{1 + (f')^2} dx.$$

— Ha az  $\mathbf{r} : [a, b] \rightarrow \mathbb{R}^3$  térgörbe folytonosan deriválható, akkor rektifikálható, és ívhossza

$$L = \int_a^b |\dot{\mathbf{r}}| dt = \int_a^b \sqrt{\dot{x}^2 + \dot{y}^2 + \dot{z}^2} dt.$$

**10.3. Érintősík.** Az  $\mathbf{r}(u, v)$  felület érintősíkjának egyenlete az  $\mathbf{r}_0 = \mathbf{r}(u_0, v_0)$  pontban

$$\mathbf{n} \cdot \mathbf{r} = \mathbf{n} \cdot \mathbf{r}_0$$

ahol  $\mathbf{n} = \mathbf{r}'_u(u_0, v_0) \times \mathbf{r}'_v(u_0, v_0)$  az érintősík normálisa.

Speciálisan a  $z = f(x, y)$  grafikonjának érintősíkja az  $(x_0, y_0)$  pont felett

$$z = f(x_0, y_0) + f'_x(x_0, y_0)(x - x_0) + f'_y(x_0, y_0)(y - y_0)$$

**10.4. Felszín.** Ha az  $\mathbf{r} : A \rightarrow \mathbb{R}^3$  felület folytonosan deriválható, akkor a felületnek van (véges) felszíne, és

$$S = \iint_A |\mathbf{r}'_u \times \mathbf{r}'_v| \, du \, dv.$$

Speciálisan a  $z = f(x, y)$  folytonosan deriválható függvény grafikonjának felszíne az  $A$  mérhető síkidom felett

$$S = \iint_A \sqrt{1 + (z'_x)^2 + (z'_y)^2} \, dx \, dy.$$

**10.5. Vonalintegrál kiszámolása.** Ha  $\mathbf{v} = v_1(x, y, z) \cdot \mathbf{i} + v_2(x, y, z) \cdot \mathbf{j} + v_3(x, y, z) \cdot \mathbf{k}$  vektormező folytonos a  $G$  tartományon,  $\mathbf{r} : [a, b] \rightarrow G$ ,  $\mathbf{r}(t) = x(t) \cdot \mathbf{i} + y(t) \cdot \mathbf{j} + z(t) \cdot \mathbf{k}$  folytonosan deriválható, akkor  $\mathbf{v}$  vonalmenti integrálja létezik a  $\Gamma : \mathbf{r}(t)$  görbe mentén, és

$$\int_{\Gamma} v \, d\mathbf{r} = \int_a^b \mathbf{v}(\mathbf{r}(t)) \cdot \dot{\mathbf{r}}(t) \, dt.$$

Koordinátákkal kiírva

$$\begin{aligned} \int_{\Gamma} v_1(x, y, z) \, dx + v_2(x, y, z) \, dy + v_3(x, y, z) \, dz &= \\ &= \int_a^b [v_1(x, y, z)\dot{x} + v_2(x, y, z)\dot{y} + v_3(x, y, z)\dot{z}] \, dt. \end{aligned}$$

Hasonlóan, síkbeli vektormező és görbe esetén

$$\int_{\Gamma} v_1(x, y) \, dx + v_2(x, y) \, dy = \int_a^b [v_1(x, y)\dot{x} + v_2(x, y)\dot{y}] \, dt.$$

**10.6. Konzervatív vektortér.**

- A  $\mathbf{v}$  vektormező pontosan akkor konzervatív a  $G$  tartományon, ha minden  $G$ -ben fekvő zárt rektifikálható  $\Gamma$  görbén

$$\oint_{\Gamma} \mathbf{v} \, d\mathbf{r} = 0,$$

azaz minden körintegrál nulla.

- **Newton-Leibniz-formula** vonalintegrálokra.

Ha a  $\mathbf{v}$  vektortér konzervatív a  $G$  tartományon és  $U(\mathbf{r})$  egy primitív függvénye  $G$ -n,  $\Gamma$  egy folytonosan deriválható  $G$ -beli görbe az  $\mathbf{a}$  kezdő és  $\mathbf{b}$  végpontokkal, akkor

$$\int_{\Gamma} \mathbf{v} \, d\mathbf{r} = U(\mathbf{b}) - U(\mathbf{a}).$$

- Ha a  $\mathbf{v}$  vektormező konzervatív és folytonosan deriválható a  $G$  tartományon, akkor

$$\operatorname{rot} \mathbf{v} = \mathbf{0},$$

azaz a keresztbe vett deriváltak megegyeznek, **örvénymentes** a vektormező.

- Ha a  $\mathbf{v}$  vektormező folytonosan deriválható az **egyszeresen összefüggő**  $G$  tartományon, és  $G$  pontjaiban  $\operatorname{rot} \mathbf{v} = \mathbf{0}$ , akkor  $\mathbf{v}$  konzervatív.

**10.1. Sík és térgörbék**

**Ábrázoljuk a következő síkgörbéket!**

**10.1.**  $\mathbf{r} = t \cdot \mathbf{i} + t^2 \cdot \mathbf{j}$   
 $t \in [0, 4]$

**10.2.**  $\mathbf{r} = t^2 \cdot \mathbf{i} + t \cdot \mathbf{j}$   
 $t \in [0, 16]$

**10.3.**  $\mathbf{r} = \sqrt{t} \cdot \mathbf{i} + t \cdot \mathbf{j}$   
 $t \in [0, 16]$

**10.4.**  $\mathbf{r} = t \cdot \mathbf{i} + \sqrt{t} \cdot \mathbf{j}$   
 $t \in [0, 4]$



**10.5.**  $\mathbf{r} = 2t \cdot \mathbf{i} + 4t^2 \cdot \mathbf{j}$   
 $t \in [0, 2]$

**10.6.**  $\mathbf{r} = t^2 \cdot \mathbf{i} + t^2 \cdot \mathbf{j}$   
 $t \in [0, 4]$

**10.7.**  $\mathbf{r} = \cos t \cdot \mathbf{i} + \sin t \cdot \mathbf{j}$   
 $t \in [0, 2\pi]$

**10.8.**  $\mathbf{r} = \cos t \cdot \mathbf{i} + \sin t \cdot \mathbf{j}$   
 $t \in [0, \pi]$

**10.9.**  $\mathbf{r} = \cos t \cdot \mathbf{i} + \sin t \cdot \mathbf{j}$   
 $t \in [-\pi/2, \pi/2]$

**10.10.**  $\mathbf{r} = 2 \cos t \cdot \mathbf{i} + 4 \sin t \cdot \mathbf{j}$   
 $t \in [0, 2\pi]$

**10.11.**  $\mathbf{r} = 4 \cos t \cdot \mathbf{i} + 2 \sin t \cdot \mathbf{j}$   
 $t \in [\pi/2, 3\pi/2]$

**10.12.**  $\mathbf{r} = \cos t \cdot \mathbf{i} + t \sin t \cdot \mathbf{j}$   
 $t \in [0, 2\pi]$

**10.13.**  $\mathbf{r} = t \cos t \cdot \mathbf{i} + \sin t \cdot \mathbf{j}$   
 $t \in [0, 6\pi]$

**10.14.**  $\mathbf{r} = t \cos t \cdot \mathbf{i} + t \sin t \cdot \mathbf{j}$   
 $t \in [0, 4\pi]$

---

**Ábrázoljuk a következő térgörbét!**

**10.15.**  $\mathbf{r} = t \cdot \mathbf{i} + 2t \cdot \mathbf{j} + 3t \cdot \mathbf{k}$   
 $t \in [2, 4]$

**10.16.**  $\mathbf{r} = -2t \cdot \mathbf{i} + t \cdot \mathbf{j} - (t/3) \cdot \mathbf{k}$   
 $t \in [2, 4]$

**10.17.**  $\mathbf{r} = \cos t \cdot \mathbf{i} + \sin t \cdot \mathbf{j} + t \cdot \mathbf{k}$   
 $t \in [0, 6\pi]$

**10.18.**  $\mathbf{r} = t \cdot \mathbf{i} + \sin t \cdot \mathbf{j} + \cos t \cdot \mathbf{k}$   
 $t \in [0, 6\pi]$

**10.19.**  $\mathbf{r} = 2 \sin t \cdot \mathbf{i} - t^2 \cdot \mathbf{j} + \cos t \cdot \mathbf{k}$   
 $t \in [2, 6\pi]$

**10.20.**  $\mathbf{r} = t \cos t \cdot \mathbf{i} + t \sin t \cdot \mathbf{j} + t \cdot \mathbf{k}$   
 $t \in [2, 6\pi]$ 

---

**10.21.** Adjunk meg olyan görbét, amelyik

- (a) egy hengerre felcsavarodó spirál;
- (b) egy kúpra felcsavarodó spirál!

**10.22.** Számoljuk ki az előző görbék ívhosszát, ha adott a henger, illetve kúp alapkörének a sugara, továbbá a henger és a kúp magassága!

**Vázoljuk a következő síkgörbéket! Írjuk fel az érintők egyenletét  $t = \pi/4$ -ben!**

**10.23.**  $\mathbf{r}(t) = 2 \cos t \cdot \mathbf{i} + 3 \sin t \cdot \mathbf{j}$   $t \in [0, 8\pi]$

**10.24.**  $\mathbf{r}(t) = t \cos t \cdot \mathbf{i} + t \sin t \cdot \mathbf{j}$   $t \in [0, 8\pi]$

**Írjuk fel a következő síkgörbék érintőit a megadott  $P$  pontokban!**

**10.25.**  $x^2 - xy^3 + y^5 = 17$   $P(5, 2)$

**10.26.**  $(x^2 + y^2)^2 = 3x^2y - y^3$   $P(0, 0)$

**Számoljuk ki a következő térgörbék érintőinek egyenletét a megadott helyeken:**

**10.27.**  $\mathbf{r}(t) = (t-3) \cdot \mathbf{i} + (t^2+1) \cdot \mathbf{j} + t^2 \cdot \mathbf{k}$   $t = 2$

**10.28.**  $\mathbf{r}(t) = \sin t \cdot \mathbf{i} + \cos t \cdot \mathbf{j} + \frac{1}{\cos t} \cdot \mathbf{k}$   $\mathbf{p} = \mathbf{j} + \mathbf{k}$

**Határozzuk meg az alábbi síkgörbék ívhosszát:**

**10.29.** (ciklois)  
 $x = r(t - \sin t)$   $0 \leq t \leq 2\pi$   
 $y = r(1 - \cos t)$

**10.30.** (arkhimédészi spirális)  
 $r = a\varphi$   $0 \leq \varphi \leq 2\pi$

$$10.31. \quad y = \sqrt{x} \qquad 0 \leq x \leq a$$

## 10.2. Skalár-, és vektormezők, differenciál- operátorok

10.32. Milyen geometriai transzformációnak felel meg a síkon az

$$f(x, y) = \left( \frac{x}{x^2 + y^2}, -\frac{y}{x^2 + y^2} \right)$$

leképezés?

**Adjunk meg olyan  $f : \mathbb{R}^2 \rightarrow \mathbb{R}^2$  leképezéseket, amelyeknek  $H$  az értelmezési tartománya, és  $K$  az értékkészlete!**

$$10.33. \quad \begin{aligned} H &= \{(x, y) : 0 < x < 1, 0 < y < 1\} \\ K &= \{(x, y) : 0 < x < 2, 0 < y < 4\} \end{aligned}$$

$$10.34. \quad \begin{aligned} H &= \{(x, y) : 0 < x < 1, 0 < y < 1, x + y < 1\} \\ K &= \{(x, y) : 0 < x < 1, 0 < y < 1\} \end{aligned}$$

$$10.35. \quad \begin{aligned} H &= \{(x, y) : 0 < x \leq 1, y = 0\} \\ K &= \{(x, y) : x^2 + y^2 = 1\} \end{aligned}$$

$$10.36. \quad \begin{aligned} H &= \{(x, y) : 0 < x < 1, 0 < y < 2\} \\ K &= \{(x, y) : x^2 + y^2 < 1\} \end{aligned}$$

**Határozzuk meg  $\text{grad } f = \nabla f$ -et, ha**

$$10.37. \quad f(x, y) = x^2 - y^2 \qquad 10.38. \quad f(x, y) = x^2 + y^2$$

$$10.39. \quad f(x, y) = x^4 - 6x^2y^2 + y^4 \qquad 10.40. \quad f(x, y) = \sqrt{x^2 + y^2}$$

**Írjuk fel a következő függvények gradiensét a megadott pontokban!**

$$10.41. \quad f(x, y) = x^2 \sin y \qquad \mathbf{p} = (\pi/3, -\pi/4)$$

$$10.42. \quad f(x, y) = \sqrt{x} \ln xy \qquad \mathbf{p} = (e^2, e^4)$$

$$10.43. \quad f(x, y, z) = x + xy^2 + x^2z^3 \qquad \mathbf{p} = (2, -1, 1)$$

$$10.44. \quad f(x, y, z) = x \sin y + z^2 \cos y \qquad \mathbf{p} = (\pi/2, \pi/6)$$

Számoljuk ki a következő skalármezők gradiensét, itt 'a' egy rögzített állandó vektort jelöl, 'r' pedig egy térbeli vektorváltozót:

$$10.45. \quad U(\mathbf{r}) = \mathbf{a} \cdot \mathbf{r} \qquad 10.46. \quad U(\mathbf{r}) = |\mathbf{a} \times \mathbf{r}|$$

$$10.47. \quad U(\mathbf{r}) = \mathbf{r}^2 + \frac{1}{\mathbf{r}^2} \qquad 10.48. \quad U(\mathbf{r}) = \frac{\mathbf{a}^2}{\mathbf{r}^2}$$

Határozzuk meg az alábbi felületek érintősíkját az adott helyeken:

$$10.49. \quad \mathbf{r} = (u^2 - v) \cdot \mathbf{i} + (u - v^3) \cdot \mathbf{j} - (u + v) \cdot \mathbf{k}; \qquad u = 1, v = 2$$

$$10.50. \quad z = x^2 + y^2; \qquad x = 1, y = 2$$

Számoljuk ki az alábbi felületdarabok felszínét:

$$10.51. \quad \mathbf{r} = u \cos v \cdot \mathbf{i} + u \sin v \cdot \mathbf{j} + u \cdot \mathbf{k} \qquad 0 \leq u \leq 1; 0 \leq v \leq \pi$$

$$10.52. \quad z = \frac{x^2}{2y} \qquad 0 \leq x \leq 1; 1 \leq y \leq 2$$

### 10.3. Vonalintegrál

Legyen  $\mathbf{v} = (x + y) \cdot \mathbf{i} + (x - y) \cdot \mathbf{j}$ . Számítsuk ki  $\mathbf{v}$  vonalintegrálját a következő síkgörbéken!

$$10.53. \quad \Gamma : t \cdot \mathbf{i} \qquad t \in [0, 1]$$

$$10.54. \quad \Gamma : \begin{cases} t \cdot \mathbf{i} + (t + 1) \cdot \mathbf{j}, & \text{ha } t \in [-1, 0] \\ t \cdot \mathbf{i} + (-t + 1) \cdot \mathbf{j}, & \text{ha } t \in (0, 1] \end{cases}$$

$$10.55. \quad \Gamma : \cos t \cdot \mathbf{i} + \sin t \cdot \mathbf{j} \quad t \in [0, \pi]$$

$$10.56. \quad \Gamma : \begin{cases} (1 + \cos t) \cdot \mathbf{i} + \sin t \cdot \mathbf{j}, & \text{ha } t \in [0, \pi] \\ \frac{t - \pi}{\pi} \cdot \mathbf{i}, & \text{ha } t \in (\pi, 2\pi] \end{cases}$$

Legyen  $\mathbf{v} = (x^2 - 2xy) \cdot \mathbf{i} + (y^2 - 2xy) \cdot \mathbf{j}$ . Számítsuk ki  $\mathbf{v}$  vonalintegrálját a következő görbéken!

$$10.57. \quad \Gamma : t \cdot \mathbf{i} + t^2 \cdot \mathbf{j} \quad t \in [-1, 1]$$

$$10.58. \quad \Gamma : t \cdot \mathbf{i} + \mathbf{j} \quad t \in [-1, 1]$$

Legyen a  $\Gamma_1$  görbe az  $A(0, 0)$  és  $B(1, 1)$  pontokat összekötő egyenes szakasz,  $\Gamma_2$  pedig az  $A(0, 0)$  és  $B(1, 1)$  pontokat összekötő parabolív, mégpedig az  $y = x^2$  függvény grafikonja 0 és 1 között. Számítsuk ki ezeken a görbéken a következő leképezések vonalintegrálját!

$$10.59. \quad \mathbf{v} = (x - y) \cdot \mathbf{i} + (x + y) \cdot \mathbf{j}$$

$$10.60. \quad \mathbf{v} = x \cdot \mathbf{i} + y \cdot \mathbf{j}$$

$$10.61. \quad \mathbf{v} = y \cdot \mathbf{i} + x \cdot \mathbf{j}$$

$$10.62. \quad \mathbf{v} = (x^2 + y^2) \cdot \mathbf{i} + (x^2 - y^2) \cdot \mathbf{j}$$

Legyen a  $\Gamma$  görbe az  $A(0, 0)$ ,  $B(1, 0)$  és a  $C(0, 1)$  pontokat összekötő töröttvonal. Számítsuk ki ezen a görbén a következő leképezések vonalintegrálját!

$$10.63. \quad \mathbf{v} = -2x \cdot \mathbf{i} + y \cdot \mathbf{j}$$

$$10.64. \quad \mathbf{v} = \mathbf{i} + x^2 \cdot \mathbf{j}$$

$$10.65. \quad \mathbf{v} = y^2 \cdot \mathbf{i} - \mathbf{j}$$

$$10.66. \quad \mathbf{v} = xy \cdot \mathbf{i} + (x + y) \cdot \mathbf{j}$$

- 10.67.** Legyen a  $\Gamma$  görbe az  $A(-2, 0)$  és a  $B(1, 0)$  pontokat összekötő egyenes szakasz. Számítsuk ki ezen a görbén az

$$\mathbf{v} = \frac{2x^3 - 3x}{x^2 + y^2} \cdot \mathbf{i} + \frac{1}{x^2 + y^2} \cdot \mathbf{j}$$

leképezés vonalintegrálját!

**Legyen  $\mathbf{v} = (x + y) \cdot \mathbf{i} + (y + z) \cdot \mathbf{j} + (z + x) \cdot \mathbf{k}$ . Számítsuk ki  $\mathbf{v}$  vonalintegrálját a következő görbéken!**

**10.68.**  $\Gamma : t \cdot \mathbf{i} + 2t \cdot \mathbf{j} + 3t \cdot \mathbf{k} \quad t \in [0, 1]$

**10.69.**  $\Gamma : t \cdot \mathbf{i} + t^2 \cdot \mathbf{j} \quad t \in [1, 2]$

**10.70.**  $\Gamma : \cos t \cdot \mathbf{i} + \sin t \cdot \mathbf{j} + t \cdot \mathbf{k} \quad t \in [0, \pi]$

**10.71.**  $\Gamma : \cos t \cdot \mathbf{i} + \sin t \cdot \mathbf{j} + t \cdot \mathbf{k} \quad t \in [\pi, 2\pi]$

**Legyen a  $\Gamma$  görbe az  $A(0, 0, 0)$  és  $B(1, 1, 1)$  pontokat összekötő egyenes szakasz. Számítsuk ki ezen a görbén a következő leképezések vonalintegrálját!**

**10.72.**  $\mathbf{v} = xz \cdot \mathbf{i} + yx \cdot \mathbf{j} + xy \cdot \mathbf{k}$

**10.73.**  $\mathbf{v} = (x - y) \cdot \mathbf{i} + (x + y) \cdot \mathbf{j} + z \cdot \mathbf{k}$

**10.74.**  $\mathbf{v} = xy \cdot \mathbf{i} + yz \cdot \mathbf{j} + xz \cdot \mathbf{k}$

**10.75.**  $\mathbf{v} = y^2 \cdot \mathbf{i} + z^2 \cdot \mathbf{j} + x^2 \cdot \mathbf{k}$

- 10.76.** Legyen a  $\Gamma$  görbe az  $A(-2, 0, 1)$  és a  $B(1, 0, 3)$  pontokat összekötő egyenes szakasz. Számítsuk ki ezen a görbén a

$$\mathbf{v} = \frac{x}{x^2 + y^2 + z^2} \cdot \mathbf{i} + \frac{1}{x^2 + y^2 + z^2} \cdot \mathbf{j} + \frac{z}{x^2 + y^2 + z^2} \cdot \mathbf{k}$$

leképezés vonalintegrálját!

**Határozzuk meg az alábbi vonalintegrálokat:**

$$10.77. \quad \int_C (x^2 - 2xy) dx + (y^2 - 2xy) dy \quad \Gamma : y = x^2 \quad (-1 \leq x \leq 1)$$

$$10.78. \quad \oint_C (x + y) dx + (x - y) dy \quad \Gamma : \frac{x^2}{a^2} + \frac{y^2}{b^2} = 1$$

$$10.79. \quad \int_C y dx + z dy + x dz \quad C : \begin{cases} x = a \cos t \\ y = a \sin t \\ z = bt \end{cases} \quad 0 \leq t \leq 2\pi$$

**Van-e a következő síkbeli vektormezőknek primitív függvénye? Ha igen, határozzuk meg őket!**

$$10.80. \quad \mathbf{v} = y \cdot \mathbf{i} + x \cdot \mathbf{j}$$

$$10.81. \quad \mathbf{v} = x \cdot \mathbf{i} + y \cdot \mathbf{j}$$

$$10.82. \quad \mathbf{v} = (x - y) \cdot \mathbf{i} + (y - x) \cdot \mathbf{j}$$

$$10.83. \quad \mathbf{v} = (x^4 + 4xy^3) \cdot \mathbf{i} + (6x^2y^2 - 5y^4) \cdot \mathbf{j}$$

$$10.84. \quad \mathbf{v} = (x + y) \cdot \mathbf{i} + (x - y) \cdot \mathbf{j}$$

$$10.85. \quad \mathbf{v} = e^x \cdot \mathbf{i} + e^y \cdot \mathbf{j}$$

$$10.86. \quad \mathbf{v} = e^y \cdot \mathbf{i} + e^x \cdot \mathbf{j}$$

$$10.87. \quad \mathbf{v} = e^x \cos y \cdot \mathbf{i} - e^x \sin y \cdot \mathbf{j}$$

$$10.88. \quad \mathbf{v} = (x^2 + y) \cdot \mathbf{i} + (x + \operatorname{ctg} y) \cdot \mathbf{j}$$

$$10.89. \quad \mathbf{v} = \sin y \cdot \mathbf{i} + \sin x \cdot \mathbf{j}$$

$$10.90. \quad \mathbf{v} = \cos xy \cdot \mathbf{i} + \sin xy \cdot \mathbf{j}$$

$$10.91. \quad \mathbf{v} = y \sin xy \cdot \mathbf{i} + x \sin xy \cdot \mathbf{j}$$

$$10.92. \quad \mathbf{v} = \frac{x}{x^2 + y^2} \cdot \mathbf{i} + \frac{y}{x^2 + y^2} \cdot \mathbf{j}$$

$$10.93. \quad \mathbf{v} = \frac{x}{x^2 + y^2} \cdot \mathbf{i} - \frac{y}{x^2 + y^2} \cdot \mathbf{j}$$

$$10.94. \quad \mathbf{v} = \frac{y}{x^2 + y^2} \cdot \mathbf{i} + \frac{x}{x^2 + y^2} \cdot \mathbf{j}$$

$$10.95. \quad \mathbf{v} = \frac{y}{x^2 + y^2} \cdot \mathbf{i} - \frac{x}{x^2 + y^2} \cdot \mathbf{j}$$

$$10.96. \quad \mathbf{v} = \frac{y}{(x^2 + y^2)^2} \cdot \mathbf{i} + \frac{x}{(x^2 + y^2)^2} \cdot \mathbf{j}$$

$$10.97. \quad \mathbf{v} = -\frac{y}{(x^2 + y^2)^2} \cdot \mathbf{i} + \frac{x}{(x^2 + y^2)^2} \cdot \mathbf{j}$$

**Számítsuk ki a 10.80. és 10.97. közötti feladatokban szereplő leképezések vonalintegrálját**

10.98. az origó körüli egysugarú körön pozitív irányban haladva;

10.99. azon a négyzeten, amelynek csúcspontjai  $A(-1, -1)$ ,  $B(1, -1)$ ,  $C(1, 1)$  és  $D(-1, 1)$ , pozitív irányban haladva végig a négyzet teljes területén.

**Konzervatívak-e következő erőterek az egész síkon? Ha igen, adjunk meg egy potenciálfüggvényt!**

$$10.100. \quad \mathbf{E} = 9,81 \cdot \mathbf{j}$$

$$10.101. \quad \mathbf{E} = (y + x) \cdot \mathbf{i} + x \cdot \mathbf{j}$$

$$10.102. \quad \mathbf{E} = (y + \operatorname{sgn} x) \cdot \mathbf{i} + x \cdot \mathbf{j}$$

$$10.103. \quad \mathbf{E} = (x + y) \cdot \mathbf{i} + (x + [y]) \cdot \mathbf{j}$$

$$10.104. \quad \mathbf{E} = x \cdot \mathbf{i} + 2y \cdot \mathbf{j}$$

$$10.105. \quad \mathbf{E} = (x^2 - 2xy) \cdot \mathbf{i} + (y^2 - 2xy) \cdot \mathbf{j}$$

$$10.106. \quad \mathbf{E} = -\frac{y}{x^2 + y^2} \cdot \mathbf{i} + \frac{x}{x^2 + y^2} \cdot \mathbf{j}$$



$$10.107. \quad \mathbf{E} = \frac{x}{(x^2 + y^2)^{3/2}} \cdot \mathbf{i} + \frac{y}{(x^2 + y^2)^{3/2}} \cdot \mathbf{j}$$

**Van-e a következő térbeli vektormezőknek primitív függvénye? Ha igen, határozzuk meg őket!**

$$10.108. \quad \mathbf{v} = yz \cdot \mathbf{i} + xz \cdot \mathbf{j} + xy \cdot \mathbf{k}$$

$$10.109. \quad \mathbf{v} = xy \cdot \mathbf{i} + yz \cdot \mathbf{j} + xz \cdot \mathbf{k}$$

$$10.110. \quad \mathbf{v} = (x + y) \cdot \mathbf{i} + (z - y) \cdot \mathbf{j} + xz \cdot \mathbf{k}$$

$$10.111. \quad \mathbf{v} = \frac{-x^2 + y^2 + z^2}{x^2 + y^2 + z^2} \cdot \mathbf{i} + \frac{x^2 - y^2 + z^2}{x^2 + y^2 + z^2} \cdot \mathbf{j} + \frac{x^2 + y^2 - z^2}{x^2 + y^2 + z^2} \cdot \mathbf{k}$$

$$10.112. \quad \mathbf{v} = 2xy^3z^4 \cdot \mathbf{i} + 3x^2y^2z^4 \cdot \mathbf{j} + 4x^2y^3z^3 \cdot \mathbf{k}$$

$$10.113. \quad \mathbf{v} = 3xy^3z^4 \cdot \mathbf{i} + 3x^2y^2z^4 \cdot \mathbf{j} + x^2y^3z^3 \cdot \mathbf{k}$$

$$10.114. \quad \mathbf{v} = \sin y \cdot \mathbf{i} + x \cos y \cdot \mathbf{j} + 2z \cdot \mathbf{k}$$

$$10.115. \quad \mathbf{v} = e^x z \sin y \cdot \mathbf{i} + e^x z \cos y \cdot \mathbf{j} + e^x \sin y \cdot \mathbf{k}$$

10.116. A 10.108. és 10.115. közötti feladatokban szereplő leképezések közül melyeknek lesz biztosan 0 a vonalintegrálja bármely  $(3, 4, 5)$  középpontú, 1 sugarú körvonalon?

10.117. Határozzuk meg az alábbi vonalintegrált, és ellenőrizzük, hogy a keresztbe vett deriváltak megegyeznek:

$$\oint_C \frac{y dx - x dy}{x^2 + y^2}, \quad \Gamma: x^2 + y^2 = R^2.$$

**Határozzuk meg a  $z(x, y)$  primitív függvényt:**

$$10.118. \quad dz = (x^2 + 2xy - y^2) dx + (x^2 - 2xy - y^2) dy$$

$$10.119. \quad dz = \frac{y dx - x dy}{3x^2 - 2xy + 3y^2}$$

$$10.120. \quad dz = \frac{(x^2 + 2xy + 5y^2) dx + (x^2 - 2xy + y^2) dy}{(x + y)^3}$$

Határozzuk meg az  $u(x, y, z)$  primitív függvényt:

$$10.121. \quad du = (x^2 - 2yz) dx + (y^2 - 2xz) dy + (z^2 - 2xy) dz$$

$$10.122. \quad du = \left(1 - \frac{1}{y} + \frac{y}{z}\right) dx + \left(\frac{x}{z} + \frac{x}{y^2}\right) dy - \frac{xy}{z^2} dz$$

$$10.123. \quad du = \frac{(x + y) dx + (x + y) dy + z dz}{x^2 + y^2 + z^2 + 2xy}$$

Az origóban elhelyezett  $M$  tömegpont az  $(x, y, z)$  pontban levő  $m$  tömegpontra

$$c \frac{Mm}{x^2 + y^2 + z^2}$$

gravitációs vonzóerővel hat, ahol  $c$  egy állandó. Az erő iránya megegyezik az  $(x, y, z)$  pontból az origóba mutató vektor irányával. Számítsuk ki a gravitációs erő munkáját, ha az  $m$  tömegű test a következő görbéken mozog:

$$10.124. \quad \Gamma : \cos t \cdot \mathbf{i} + \sin t \cdot \mathbf{j} \quad t \in [0, 2\pi]$$

$$10.125. \quad \Gamma : \cos t \cdot \mathbf{i} + \sin t \cdot \mathbf{j} \quad t \in [0, \pi]$$

$$10.126. \quad \Gamma : t \cdot \mathbf{i} + 2t \cdot \mathbf{j} + 3t \cdot \mathbf{k} \quad t \in (0, 1]$$

$$10.127. \quad \Gamma : \text{az a négyzet, amelynek csúcspontjai } A(-1, -1, 0), B(1, -1, 0), C(1, 1, 0), D(-1, 1, 0) \text{ pozitív irányban végighaladva a négyzet teljes kerületén.}$$

$$10.128. \quad \text{Határozzuk meg az előző feladatokban szereplő gravitációs erő potenciálfüggvényét!}$$

Az origóban elhelyezett  $Q$  pontszerű töltés az  $(x, y, z)$  pontban levő,  $q$  pontszerű töltésre

$$c \frac{Mm}{x^2 + y^2 + z^2}$$

taszító erővel hat, ahol  $c$  egy állandó, és az erő iránya ellentétes az  $(x, y, z)$  pontból az origóba mutató vektor irányával.

**10.129.** Mekkora munkát végez ez az elektrosztatikus erő, amikor a  $q$  töltést az  $(1, 2, 3)$  pontból az  $(5, 6, 7)$  pontba viszi? Függ-e a végzett munka az útvonaltól?

**10.130.** Mekkora munkát végez ez az elektrosztatikus erő, amikor a  $q$  töltést az  $(1, 2, 3)$  pontból a végtelen távoli pontba viszi? Függ-e a végzett munka az útvonaltól?

---

**10.131.** Határozzuk meg az előző feladatokban szereplő elektrosztatikus erő potenciálfüggvényét!

**10.132.** Az asztal lapján csúszó  $m$  tömegű testre az asztal lapja  $c \cdot m$  súrlódási erővel hat, ahol  $c$  egy állandó. Az erő iránya mindig ellentétes az elmozdulás irányával. Mekkora munkát végez a súrlódási erő, amikor a testet a  $(0, 0)$  pontból egy egyenes szakasz mentén a  $(3, 4)$  pontba csúsztatjuk? Mekkora munkát végez a súrlódási erő, amikor a testet a  $(0, 0)$  pontból először egy egyenes szakasz mentén a  $(3, 0)$ , majd egy csatlakozó egyenes szakasz mentén a  $(3, 4)$  pontba csúsztatjuk? Függ-e végzett munka az útvonaltól?

**10.133.** Van-e az előző feladatban szereplő súrlódási erőnek potenciálfüggvénye?

# 11. fejezet

## Komplex függvények

**11.1. Cauchy-Riemann differenciálegyenletek.** Ha az  $f(z) = f(x + iy) = u(x, y) + i \cdot v(x, y)$  deriválható a  $z_0 = x_0 + iy_0$  pontban, akkor

$$u'_x(x_0, y_0) = v'_y(x_0, y_0), \quad u'_y(x_0, y_0) = -v'_x(x_0, y_0).$$

Megfordítva, ha teljesülnek a fenti egyenletek az  $(x_0, y_0)$  pontban és ebben a pontban  $u$  és  $v$  totálisan deriválható (mint kétváltozós valós függvények), akkor az  $f(z)$  komplex függvény (komplex értelemben) deriválható  $z_0$ -ban.

**11.2. Cauchy-féle integráltétel.** Ha  $f$  analitikus a  $\Gamma$  egyszerű zárt görbe belsejében,  $\Omega$ -ban, a  $\Gamma$  pontjaiban folytonos, akkor

$$\oint_{\Gamma} f(z) dz = 0.$$

**11.3. Cauchy-féle integrálformulák.** Ha  $f$  analitikus  $a$ -ban,  $\Gamma$  pozitív irányítású zárt körvonal  $a$  körül az  $f$  regularitási tartományában, akkor

$$f^{(n)}(a) = \frac{n!}{2\pi i} \oint_{\Gamma} \frac{f(z)}{(z-a)^{n+1}} dz.$$

**11.4. Holomorf függvények.**

- **Maximum elv.** Egyszeresen összefüggő tartományon holomorf függvény abszolút-értékének nincs (lokális) maximuma a tartomány pontjaiban.
- **Liouville tétele.** Az egész komplex síkon holomorf korlátos függvény konstans.
- **Rouché tétele.** Legyen  $\Gamma$  egyszerű zárt görbe a komplex síkon, belseje  $\Omega$ ,  $f$  és  $g$  két folytonos komplex függvény  $\overline{\Omega} = \Omega \cup \Gamma$ -n,  $f$  és  $g$  holomorf  $\Omega$ -n, valamint tegyük fel, hogy minden  $z \in \Gamma$  esetén

$$|g(z)| > |f(z) - g(z)|.$$

Ekkor a két függvénynek, multiplicitással számolva, ugyanannyi gyöke van  $\Omega$ -ban.

### 11.5. Meromorf függvények.

— Ha  $f(z)$  Laurent-sorba fejthető  $a$  körül,

$$f(z) = \sum_{n=-\infty}^{\infty} a_n (z-a)^n,$$

akkor

$$\operatorname{Res}(f, a) = a_{-1} = \frac{1}{2\pi i} \oint_{\Gamma} f(z) dz,$$

ahol  $\Gamma$  egy pozitív irányítású körvonal  $a$  körül, amelynek sugara kisebb a Laurent-sor konvergenciasugaránál.

— **Residuum tétel.** Ha  $D \subset \mathbb{C}$  egyszeresen összefüggő tartomány,  $f$  meromorf  $D$ -ben,  $\Gamma$  pedig  $D$ -beli egyszerű zárt görbe pozitív irányítással, amely nem megy át póluson, akkor

$$\oint_{\Gamma} f(z) dz = 2\pi i \sum \{\operatorname{Res}(f, a) : a \in \Omega\}$$

ahol  $\Omega$  a  $\Gamma$  görbe belseje.

**11.1.** Bizonyítsuk be, hogy a  $z$  komplex szám konjugáltjának reciproka megegyezik  $z$  reciprokának konjugáltjával!

**11.2.** Tegyük fel, hogy  $|z| < 1$  és  $|\alpha| < 1$ . Bizonyítsuk be, hogy ekkor  $\left| \frac{z-\alpha}{1-z\bar{\alpha}} \right| < 1$ .

**Ellenőrizzük, hogy teljesülnek-e a Cauchy-Riemann differenciálegyenletek a következő komplex függvények esetében!**

**11.3.**  $f(z) = z^2$

**11.4.**  $f(z) = z^n, \quad n \in \mathbb{N}^+$

**11.5.**  $f(z) = \frac{1}{z}, \quad z \neq 0$

**11.6.**  $f(z) = \frac{1}{z^2 + 1}$

**11.7.** Teljesülnek-e a Cauchy-Riemann differenciálegyenletek az  $f(z) = \sqrt{|xy|}$  függvényre, ahol  $x$  a  $z$  komplex szám valós,  $y$  pedig a képzetes része? Differenciálható-e az előző függvény  $z = 0$ -ban?

**11.8.** Bizonyítsuk be, hogy az  $f(z) = 2x^2 + 3y^2 + xy + 2x + i(4xy + 5y)$  függvény a sík egyetlen tartományán sem differenciálható!

**Keressük meg azokat a pontokat, ahol  $f$  differenciálható!**

**11.9.**  $f(x + iy) = xy + iy$

**11.10.**  $f(x + iy) = (2x^2 - y) + i(x^2 + y^2)$

**Határozzuk meg a differenciálható  $f(x + iy) = u(x, y) + iv(x, y)$  függvényt a következő feltételek mellett!**

**11.11.**  $u(x, y) = x^2 - y^2 + xy, \quad f(0) = 0$

**11.12.**  $v(x, y) = \frac{x^2}{x^2 + y^2}, \quad f(2) = 0$

**Határozzuk meg a következő hatványsorok konvergenciasugarát!**

**11.13.**  $\sum_{n=1}^{\infty} \frac{1}{n} (z - i)^n$

**11.14.**  $\sum_{n=1}^{\infty} 2^n (z + i)^n$

**11.15.**  $\sum_{n=1}^{\infty} n^2 (z - 2 - 2i)^n$

**11.16.**  $\sum_{n=1}^{\infty} \frac{(n-1)!}{n!} z^n$

**11.17.**  $\sum_{n=0}^{\infty} \frac{(n^2)!}{3^{n!}} z^n$

**11.18.**  $\sum_{n=1}^{\infty} \ln(n!) z^n$

**11.19.**  $\sum_{n=1}^{\infty} \frac{1}{n} z^n$

**11.20.**  $\sum_{n=0}^{\infty} \left( \frac{in}{n+1} \right)^{n^2} z^n$

**Adjuk meg a következő hatványsorok konvergenciasugarát és összegfüggvényét!**

$$11.21. \quad \sum_{n=1}^{\infty} z^n$$

$$11.22. \quad \sum_{n=0}^{\infty} i^n z^n$$

$$11.23. \quad \sum_{n=0}^{\infty} (n+1)z^n$$

$$11.24. \quad \sum_{n=0}^{\infty} (n+2)(n+1)z^n$$

**Bizonyítsuk be a megfelelő hatványsorok felhasználásával az Euler-féle összefüggéseket:**

$$11.25. \quad e^{iz} = \cos z + i \sin z$$

$$11.26. \quad e^{-iz} = \cos z - i \sin z$$

$$11.27. \quad \cos z = \frac{1}{2} (e^{iz} + e^{-iz})$$

$$11.28. \quad \sin z = \frac{1}{2i} (e^{iz} - e^{-iz})$$

**11.29.** Bizonyítsuk be az Euler-féle összefüggések segítségével, hogy az  $e^z$  exponenciális függvény  $2\pi i$  szerint periodikus!

**11.30.** Bizonyítsuk be, hogy a  $\sin z$  és  $\cos z$  függvényeknek pontosan ugyanazok a zérushelyei, mint a valós  $\sin x$  és  $\cos x$  függvényeknek!

**Legyen  $\Gamma$  a  $|z| = 1$  körvonal, és integráljuk a zárt körvonalon pozitív irányban a következő függvényeket!**

$$11.31. \quad f(x+iy) = x$$

$$11.32. \quad f(x+iy) = y$$

$$11.33. \quad f(x+iy) = x - iy$$

$$11.34. \quad f(x+iy) = x + iy$$

**Legyen  $\Gamma$  a  $|z| = R$  körvonal, és integráljuk a zárt körvonalon pozitív irányban a következő függvényeket!**

$$11.35. \quad f(z) = \frac{1}{z}$$

$$11.36. \quad f(z) = \frac{1}{z^2}$$

**Integráljuk az  $f(z) = |z|$  függvényt a következő,  $z_1 = -1$ -ből kiinduló,  $z_2 = i$ -be érkező görbéken! Függe-e az integrál értéke az útvonaltól?**

**11.37.**  $\Gamma = \{e^{-it} : t \in [\pi, 3\pi/2]\}$

**11.38.**  $\Gamma = \{t : t \in [-1, 0]\} \cup \{it : t \in [0, 1]\}$

**11.39.** Számítsuk ki a  $\int (x^2 - y^2) dx - 2xy dy$  vonalintegrált az  $1 + i$  pontból kiinduló és a  $3 + 2i$  pontba érkező szakaszon (valós) primitív függvény segítségével!

**11.40.** Számítsuk ki a  $\int (x^2 - y^2) dx - 2xy dy$  vonalintegrált az  $1 + i$  pontból kiinduló és a  $3 + 2i$  pontba érkező szakaszon a **Cauchy-féle integráltétel** segítségével!

**Legyen  $\Gamma : z(t) = 1 + it, t \in [0, 1]$ . Integráljuk a  $\Gamma$  görbén a Cauchy-féle integráltétel segítségével a következő függvényeket!**

**11.41.**  $f(z) = 3z^2$

**11.42.**  $f(z) = \frac{1}{z}$

**11.43.**  $f(z) = e^z$

**11.44.**  $f(z) = ze^{z^2}$

**Határozzuk meg az  $\int_{\Gamma} \frac{1}{z^2 + 1} dz$  integrált a következő zárt görbékön!**

**11.45.**  $\Gamma : |z| = 1/2$

**11.46.**  $\Gamma : |z| = 3$

**11.47.**  $\Gamma : |z - i| = 1$

**11.48.**  $\Gamma : |z + i| = 1$

**Írjuk fel a következő függvények adott  $a$  pont körüli hatványsorát!**

**11.49.**  $\frac{1}{(1 - z)^2}, \quad a = 3$

**11.50.**  $\frac{1}{(z - 2)(z - 3)}, \quad a = 5$



**11.51.**  $\frac{1}{1-z+z^2}, \quad a=0$

**11.52.**  $\frac{3z-6}{(z-4)(z+25)}, \quad a=10$

Számítsuk ki az  $f(z)$  függvény  $z_0 = 0$  pontbeli reziduumát!

**11.53.**  $f(z) = \frac{e^z}{z^2}$

**11.54.**  $f(z) = \frac{\cos z}{\sin z}$

Számítsuk ki az  $f(z) = \frac{1}{z^3 - z^5}$  függvény  $z_0$  pontbeli reziduumát!

**11.55.**  $z_0 = 0$

**11.56.**  $z_0 = 1$

**11.57.**  $z_0 = -1$

**11.58.**  $z_0 = i$

Számítsuk ki az  $f(z) = \frac{z^2}{(z^2+1)^2}$  függvény  $z_0$  pontbeli reziduumát!

**11.59.**  $z_0 = i$

**11.60.**  $z_0 = -i$

Határozzuk meg az  $\oint_{|z|=4} f(z) dz$  körintegrált, ahol

**11.61.**  $f(z) = \frac{e^z \sin z}{z-1}$

**11.62.**  $f(z) = \frac{e^{\sin z}}{z^2}$

**11.63.**  $f(z) = \frac{e^{\sin z}}{z-2}$

**11.64.**  $f(z) = \frac{e^{\sin z}}{(z-1)(z-2)}$

**11.65.**  $f(z) = \frac{e^z \cos z}{z-\pi}$

**11.66.**  $f(z) = \frac{e^{\sin z}}{z^2-1}$

Legyen  $\Gamma : z(t) = t + it, t \in [0, 1]$ . Integráljuk a  $\Gamma$  görbén a következő függvényeket!

11.67.  $f(z) = z^2$

11.68.  $f(z) = e^z$

Legyen  $\Gamma$  az  $|z - 2i| = 1$  körvonal, és pozitív körüljárási irányban integráljuk a  $\Gamma$  görbén a következő függvényeket!

11.69.  $f(z) = z^2$

11.70.  $f(z) = \frac{1}{z}$

11.71.  $f(z) = z^2 + \frac{1}{z}$

11.72.  $f(z) = z + \frac{1}{z}$

Hány gyöke van a következő egyenleteknek az  $|z| < 1$  körben? (Segítség: alkalmazzuk Rouché tételét.)

11.73.  $z^6 - 6z + 10 = 0$

11.74.  $z^4 - 5z + 1 = 0$

11.75. Számítsuk ki az  $\int_{-\infty}^{\infty} \frac{1}{(x^2 + 1)^2} dx$  integrált a komplex számsíkon görbe menti integrálással!

11.76. Hova képezi az  $f(z) = \frac{az + b}{cz + d}$  függvény az origó középpontú, egységsugarú kört?

11.77. Adjunk meg olyan komplex függvényt, amelyik a felső félsíkot az origó középpontú, egységsugarú körbe viszi!

Milyen görbét vagy tartományokat határoznak meg a következő feltételek?

11.78.  $|z - 2| < |z|$

11.79.  $|z^2 - 1| < 1$

11.80.  $\operatorname{Im} \frac{1}{z} = 2$

11.81.  $\operatorname{Re} z = \operatorname{Im} z$

A  $w = f(z)$  függvény a  $z = x + iy$  síkot a  $w = u + iv$  síkba képezi le. Határozzuk meg az adott  $T$  tartományok képét!

$$\boxed{11.82.} \quad w = z^2, \quad T = \{x + iy : x \geq 0, y \geq 0\}$$

$$\boxed{11.83.} \quad w = e^z, \quad T = \{x + iy : 0 < y < \frac{\pi}{2}\}$$

# Megoldások

## Alapfogalmak, valós számok


### 1.1 Elemi feladatok

**1.1.** A megoldáshalmaz a  $(2, 8)$  nyílt intervallum.



**1.2.** Ugyanaz, mint az előző feladatban.

**1.3.** A megoldáshalmaz a  $(4, 6)$  nyílt intervallum.



**1.5.** Az eredeti egyenlőtlenség:

$$\frac{1}{5x+6} \geq -1$$

Szorozzuk át az egyenlőtlenséget  $5x+6$ -tal. Két esetet kell megkülönböztetnünk:

I. eset:  $5x+6 > 0$ , azaz  $x > -6/5$ . Ekkor az új egyenlőtlenség:

$$1 \geq -(5x+6), \quad 5x \geq -7, \quad x \geq -7/5$$

A vizsgált esetben ez csak akkor lehetséges, ha  $x > -6/5$ .

II. eset:  $5x+6 < 0$ , azaz  $x < -6/5$ . Ekkor az új egyenlőtlenség megfordul:

$$1 \leq -(5x+6), \quad 5x \leq -7, \quad x \leq -7/5$$

A vizsgált esetben ez csak akkor lehetséges, ha  $x \leq -7/5$ .

Tehát az összes megoldás egy zárt és egy nyílt félegyenes uniója:

$$x \in (-\infty, -7/5] \cup (-6/5, \infty)$$

**1.7.** Az eredeti egyenlőtlenség:

$$10x^2 + 17x + 3 \leq 0$$

A baloldalon szereplő másodfokú polinom főegyütthatója pozitív, ezért a parabola pontjai a két gyök által kapott intervallumban vannak az  $x$  tengely alatt. Számoljuk ki a két gyököt:

$$10x^2 + 17x + 3 = 0$$

$$x_1 = -\frac{3}{2}, \quad x_2 = -\frac{1}{5}$$

Tehát a megoldások halmaza:

$$x \in [-3/2, -1/5]$$

**1.9.**

Az eredeti egyenlőtlenség:

$$8x^2 - 30x + 25 \geq 0$$

Számoljuk ki a másodfokú egyenlet gyökeit:

$$8x^2 - 30x + 25 = 0$$

$$x_{1,2} = \frac{30 \pm \sqrt{900 - 800}}{16}, \quad x_1 = \frac{5}{2}, \quad x_2 = \frac{5}{4}$$

Mivel a főegyüttható pozitív, ezért a másodfokú polinom a két gyök által meghatározott intervallumon kívül pozitív, tehát a megoldások

$$x \in (-\infty, 5/4] \cup [5/2, \infty)$$

**1.11.**

Az eredeti egyenlőtlenség:

$$9x^2 - 24x + 17 \geq 0$$

Számoljuk ki a másodfokú egyenlet gyökeit:

$$9x^2 - 24x + 17 = 0$$

Ennek az egyenletnek a diszkriminánsa negatív ( $-36$ ), ezért a másodfokú polinom sehol sem nulla. Mivel a főegyüttható pozitív, ezért minden  $x \in \mathbb{R}$  esetén

$$9x^2 - 24x + 17 > 0$$

Tehát az egyenlőtlenségnek minden  $x \in \mathbb{R}$  megoldása.

**1.14.** Milyen  $x \in \mathbb{R}$  esetén lesz  $|x + 1| + |x - 2| \leq 12$  ?

Három esetet különböztethetünk meg aszerint, hogy  $(x + 1)$  és  $(x - 2)$  milyen előjelű.

I. eset:  $x < -1$ , azaz mindkét tag negatív.

$$-(x + 1) - (x - 2) \leq 12, \quad -2x \leq 11, \quad x \geq -\frac{11}{2}$$

Ebben az esetben a megoldások:

$$x \in [-11/2; -1)$$

II. eset:  $-1 \leq x < 2$ , azaz az első tag nem negatív, a második negatív.

$$(x + 1) - (x - 2) \leq 12, \quad 3 \leq 12, \quad x \text{ tetszőleges}$$

Ebben az esetben a megoldások:

$$x \in [-1; 2)$$

III. eset:  $x \geq 2$ , azaz egyik tag sem negatív.

$$(x + 1) + (x - 2) \leq 12, \quad 2x \leq 13, \quad x \leq \frac{13}{2}$$

Ebben az esetben a megoldások:

$$x \in [2; 13/2]$$

Összesítve a három esetet

$$x \in [-11/2; 13/2]$$

az összes megoldás.

**1.16.** Milyen  $x \in \mathbb{R}$  esetén lesz  $\left| \frac{x + 1}{2x + 1} \right| > \frac{1}{2}$  ?

I. eset:  $x < -1$ , azaz a számláló és a nevező is negatív.

$$\frac{x + 1}{2x + 1} > \frac{1}{2}, \quad 2(x + 1) < 2x + 1, \quad 2 < 1$$

Ebben az esetben nincs megoldás.

II. eset:  $x > -1/2$ , azaz a számláló és a nevező is pozitív.

$$\frac{x + 1}{2x + 1} > \frac{1}{2}, \quad 2(x + 1) > 2x + 1, \quad 2 > 1$$

Ebben az esetben a megoldások:

$$x \in (-1/2; \infty)$$

III. eset:  $-1 < x < -1/2$ , azaz a számláló pozitív a nevező pedig negatív. A negatív nevezővel átszorozva megfordul az egyenlőtlenség:

$$\left| \frac{x+1}{2x+1} \right| = -\frac{x+1}{2x+1} > \frac{1}{2}, \quad -2(x+1) < 2x+1, \quad 4x > -3, \quad x > -\frac{3}{4}$$

Ebben az esetben a megoldások:

$$x \in (-3/4; -1/2)$$

Ha a nevező pozitív, akkor a számláló is az, ezért több eset nincs. Így az összes megoldás:

$$x \in (-3/4; -1/2) \cup (-1/2; \infty)$$

**1.18.**

$$\sqrt{x+3} + |x-2| = 0$$

Két nem negatív szám összege csak úgy lehet nulla, ha mindkettő nulla. Tehát

$$x+3 = 0 \text{ és } x-2 = 0$$

Ez a két egyenlet semmilyen  $x$ -re sem teljesül egyszerre, ezért az egyenletnek nincs megoldása.

## 1.2 Logikai alapfogalmak

**1.20.**

- (a) Van olyan egér, amelyik nem szereti a sajtot.
- (b) Valaki másnak vermet ásott és nem esett bele.
- (c) Van olyan asszony, aki csak olyat akar tenni, amit szabad.
- (d) Minden  $a$ -hoz van olyan  $b$ , hogy az  $a+x = b$  legalább két különböző  $x$ -re teljesül.
- (e) 3 nagyobb, mint 2, és 5 nem osztója 10-nek.
- (f) Zörög a haraszt és nem fúj a szél.
- (g) A nagynénémnek kerekei vannak, mégsem ő a miskolci gyorsvonat.

**1.22.**

Igen:

(b)+(c)  $\implies$  Minden állat vagy emlős, vagy van kopoltyúja.(b)+(a)  $\implies$  Ha egy állat emlős, akkor van kopoltyúja.

Tehát egy állatnak akár emlős akár nem, van kopoltyúja.

**1.25.**

Csak a (b) állítás hamis, a többi igaz.

**1.27.**

Ehhez a „Minden mohikán hazudik” mondathoz nem lehet igazságértéket rendelni, ha csak egy mohikán van.

Ha a mondat igaz lenne, akkor az utolsó mohikán is hazudott, tehát nem igaz a mondat.

Ha a mondat hamis lenne, akkor van igazmondó mohikán. De ha csak egy mohikán van, akkor ő az igazmondó. Ezért igaz amit mondott, tehát igaz a mondat.

**1.29.**Jelölje  $x$  az első,  $y$  pedig a harmadik számjegyet. A feltevés miatt  $x + y = 5$ . Most már az összes számjegy felírható  $x$  és  $y$  segítségével:

$$x, 6, y, x, 6, y, x, 6, y, x, 6, y, x$$

A 12. jegy  $y = 4$ , és ezért  $x = 1$ . Tehát a kód:

$$1641641641641$$

Azaz a 13-adik jegy 1.

**1.31.**

Csak a (c) állítás következik, sőt a két állítás ekvivalens:

$$(A \implies B) \iff (\neg B \implies \neg A)$$

**1.32.** $A \implies B$  (mert 5 pozitív), de  $B \not\implies A$  ha például  $x = -6$ .**1.34.** $B \implies A$ , mert az  $A$  állítás mindig igaz (ha értelmes a gyökös kifejezés). Fordítva nem igaz a következtetés, például ha  $x = 3$ .**1.36.**Egyikből sem következik a másik (mert  $x^2 - x - 6$  gyökei  $-2$  és  $3$ ). Például ha  $x = -3$  akkor  $A$  igaz de  $B$  nem, ha pedig  $x = 3$  akkor  $A$  hamis és  $B$  igaz.**1.38.**

Mindkét állítás hamis, ezért mindegyikből következik a másik (és bármely egyéb állítás).



**1.40.**  $A \implies B$ , mert a két egyenlőtlenséget összeadva, felhasználva a háromszög egyenlőtlenséget:

$$\begin{aligned} 0, 2 = 0, 1 + 0, 1 > |x - 5| + |y - 5| &= |x - 5| + |5 - y| \geq \\ &\geq |x - 5 - y + 5| = |x - y| \end{aligned}$$

$B \not\Rightarrow A$ , például ha  $x = y = 0$

**1.42.**  $\exists k \in \mathbb{N}^+ 2|k$  jelentése: van páros pozitív egész szám, ez igaz.

Tagadása:  $\forall k \in \mathbb{N}^+ 2 \nmid k$ , azaz minden pozitív egész páratlan. Ez nem igaz, például  $k = 2$ -re.

**1.43.**  $\forall n \in \mathbb{N}^+ \exists k \in \mathbb{N}^+ n|k$  jelentése: minden  $n$  pozitív egésznek van többszöröse. Ez igaz, minden  $n \in \mathbb{N}^+$  esetén legyen  $k = 2 \cdot n$

Tagadása:  $\exists n \in \mathbb{N}^+ \forall k \in \mathbb{N}^+ n \nmid k$ , azaz van olyan  $n \in \mathbb{N}^+$ , amelyik egyetlen pozitív egésznek sem osztója. Ez nem igaz (mert az eredeti állítás igaz).

**1.45.** Nem hazudott. Akkor hazudott volna, hogyha a hó miatt nem járt a busz, Pistike mégis elment az iskolába.

**1.47.**  $2^{98}$  részhalmaz esetén igaz,  $2^{100} - 2^{98} = 3 \cdot 2^{98}$  esetén pedig nem.

**1.49.** 1 benne van:  $2^{99}$  részhalmaz.

2 nincs benne:  $2^{99}$  részhalmaz.

1 benne van és 2 nincs benne:  $2^{98}$  részhalmaz.

1 benne van a részhalmazban vagy a 2 nincs benne:  $2^{99} + 2^{99} - 2^{98} = 3 \cdot 2^{98}$

A komplementer esemény:  $2^{98}$  részhalmaz esetén 1 nincs benne és 2 benne van.

**1.51.** Az üres halmaz ilyen. Ha  $H \neq \emptyset$ , legyen  $k = \min H$ . De akkor  $H = \{i : k \leq i \leq n\}$ . Tehát  $n + 1$  ilyen halmaz van.

**1.52.** Jelölje  $\mathcal{A}_n$  az ilyen halmazok halmazát,  $a_n$  az  $\mathcal{A}_n$  számosságát. Nyilván  $a_1 = 2$  és  $a_2 = 3$ . Ha most  $n > 2$ , akkor legyen

$$\mathcal{B}_n = \{A \in \mathcal{A}_n : n \notin A\} \text{ és } \mathcal{C}_n = \{A \in \mathcal{A}_n : n \in A \wedge n - 1 \notin A\}$$

Könnyen látható, hogy

$$A \in \mathcal{B}_n \iff A \in \mathcal{A}_{n-1} \text{ és } A \in \mathcal{C}_n \iff A \cap A_{n-2} \in \mathcal{A}_{n-2}.$$

Tehát  $a_n = a_{n-1} + a_{n-2}$ . Ez az ún. **Fibonacci-sorozat**, pontosabban  $a_n = u_{n+2}$ .

**1.53.** Jelölje most  $\mathcal{B}_n$  a feltételnek megfelelő halmazok halmazát,  $B \in \mathcal{B}$  esetén két lehetőség van:

(1) Minden  $x \in B$  esetén  $x + 1 \notin B$ . Ilyen halmaz az előző feladat szerint  $a_n = u_{n+2}$  darab van.

(2) Van olyan  $x \in B$ , amelyre  $x + 1 \in B$ . Ebben az esetben legyen  $k(B) = \min \{x \in B : x + 1 \in B\}$ .

Ha most

$$b_k = |\{B \in \mathcal{B} : k(B) = k\}|,$$

akkor nyilván  $b_k = a_{k-2} = u_k$ ,  $k = 1, 2, \dots, n - 1$ .

Tehát  $|\mathcal{B}_n| = (u_1 + u_2 + \dots + u_n) + u_{n+2}$ . A Fibonacci számok összegére vonatkozó képlet a **Fibonacci-sorozatról** szóló feladatok közt megtalálható.

**1.55.**  $\neg P \cap \neg Q$

**1.57.**  $P \cap \neg Q$

**1.59.**  $\neg P \cap \neg Q$

**1.61.**  $\neg P \cap Q$

**1.63.**  $\neg(P \implies Q) = P \cap \neg Q$

**1.65.** (b)  $\implies$  (a), (c)  $\implies$  (d).

Más következtetés nem igaz.

### 1.3 Bizonyítási módszerek

**1.66.** Indirekt módon tegyük fel, hogy van olyan  $p, q \in \mathbb{N}^+$ , amelyekre  $\sqrt{3} = \frac{p}{q}$ . Feltehetjük azt is, hogy  $p$  és  $q$  relatív prím. Átalakítás után:

$$3 = \frac{p^2}{q^2}, \quad 3q^2 = p^2.$$

Eszerint  $p^2$  osztható 3-mal, de mivel 3 prímszám, ezért  $p$  is osztható 3-mal:  $p^2 = 9r^2$ . Így tehát

$$3q^2 = 9r^2, \quad q^2 = 3r^2.$$

Megismételve az előző gondolatmenetet  $p$  helyett  $q$ -ra, azt kapjuk, hogy  $q$  is osztható 3-mal. ami ellentmond annak, hogy  $p$  és  $q$  relatív prím.

**1.68.** Indirekt módon tegyük fel, hogy

$$r = \frac{\frac{\sqrt{2}+1}{2} + 3}{4} + 5$$

racionális. De akkor

$$(r-5) \cdot 4 = \frac{\sqrt{2}+1}{2} + 3$$

is racionális. Tovább folytatva az okoskodást, azt kapjuk, hogy  $\sqrt{2}$  racionális. Ez ellentmondás. Azt, hogy  $\sqrt{2}$  irracionális, ugyanúgy láthatjuk be, ahogy  $\sqrt{3}$  esetén.

- 1.70.**
- (a) Nem lehet: ha  $x + y$  racionális lenne, akkor  $(x + y) - x = y$  is az lenne.
  - (b) Nem lehet: ha  $x - y$  racionális lenne, akkor  $x - (x - y) = y$  is az lenne.
  - (c) Lehet, de csak ha  $x = 0$ .
  - (d) Lehet, de csak ha  $x = 0$ .

- 1.72.**
- (a) Igaz.
  - (b) Nem igaz: például  $a = \sqrt{2}$ ,  $b = -\sqrt{2}$
  - (c) Nem igaz,  $a + b$  irracionális.
  - (d) Igaz.

- 1.74.** Annak tagadása, hogy 1 a legnagyobb szám az, hogy 1-nél van nagyobb szám, nem pedig az, hogy egy másik szám a legnagyobb szám. A valós (vagy a természetes) számok között nincs legnagyobb!

- 1.76.** Teljes indukcióval:  
 $n = 1 : 16|16$

$n + 1$ -re: Mivel ha  $k|a - b$  és  $k|b$ , akkor  $k|a$ , ezért elég belátni, hogy  
 $16|(5^{n+2} - 4(n+1) - 5) - (5^{n+1} - 4n - 5)$  azaz, hogy  $16|4 \cdot (5^{n+1} - 1)$ .  
 Ez teljesül, ha  $4|5^{n+1} - 1$ . Ezt teljes indukcióval könnyű bizonyítani.

**1.77.** Indirekt, tegyük fel, hogy  $\operatorname{tg} 1^\circ$  racionális. Ekkor teljes indukcióval bebizonyítjuk, hogy minden  $n \in \mathbb{N}^+$ ,  $n < 90$  esetén  $\operatorname{tg} n^\circ$  racionális. Ez következik a szögek összegére vonatkozó képletből:

$$\operatorname{tg}(n+1)^\circ = \frac{\operatorname{tg} n^\circ + \operatorname{tg} 1^\circ}{1 - \operatorname{tg} n^\circ \cdot \operatorname{tg} 1^\circ}$$

Ennek a racionális kifejezésnek minden eleme racionális, így az eredmény is az. Mivel  $\operatorname{tg} 30^\circ$  irracionális, ellentmondásra jutottunk.

**1.78.** A számtani és mértani közepekre vonatkozó egyenlőtlenség szerint

$$\sqrt[n]{n!} = \sqrt[n]{1 \cdot 2 \cdots n} \leq \frac{1 + 2 + \cdots + n}{n} = \frac{n+1}{2}$$

Mindkét oldalt az  $n$ -edik hatványra emelve a kívánt egyenlőtlenséget kapjuk.

**1.79.** Igaz az állítás.

Indirekt módon tegyük fel, hogy minden  $a_n \geq 10^{-6}$  és így  $a_n^2 \geq d = 10^{-12} > 0$ . Ezért  $a_{n+1} \leq a_n - d$  és általában  $a_{n+k} \leq a_n - k \cdot d$ . Tehát a  $k = 10^{12} = \frac{1}{d}$  választással  $a_{1+k} \leq 0, 9 - 1 < 0 < 10^{-6}$ . Ez ellentmondás.

**1.81.** (a) Jelölje a keresett összeget  $s_n$ , azaz

$$s_n = \frac{1}{1 \cdot 2} + \frac{1}{2 \cdot 3} + \cdots + \frac{1}{(n-1) \cdot n}.$$

Kiszámoljuk  $s_n$  értékét  $n = 2, 3, 4$  esetében.

$$s_2 = \frac{1}{2}, \quad s_3 = \frac{2}{3}, \quad s_4 = \frac{3}{4}, \quad \dots$$

A sejtés az összegképletre:

$$s_n = \frac{n-1}{n} = 1 - \frac{1}{n}.$$

Bizonyítás teljes indukcióval:  $n = 2$ -re igaz. Tegyük fel, hogy  $n$ -re igaz az állítás.

$$s_{n+1} = \frac{1}{1 \cdot 2} + \frac{1}{2 \cdot 3} + \cdots + \frac{1}{(n-1) \cdot n} + \frac{1}{n \cdot (n+1)} = s_n + \frac{1}{n \cdot (n+1)} =$$

$$= \frac{n-1}{n} + \frac{1}{n \cdot (n+1)} = \frac{(n-1)(n+1) + 1}{n \cdot (n+1)} = \frac{n}{n+1}$$

Egy másik bizonyítást láthatunk az [1.87. feladat megoldásánál](#).

(b) Most legyen  $s_n = 1 + 3 + \dots + (2n-1)$  a páratlan számok összege.

$$s_1 = 1, s_2 = 4, s_3 = 9, s_4 = 16, \dots$$

A sejtés:  $s_n = n^2$ .

Teljes indukcióval:  $n = 1$ -re igaz. Tegyük fel, hogy  $n$ -re igaz az állítás.

$$\begin{aligned} s_n + 1 &= 1 + 3 + \dots + (2n-1) + (2n+1) = \\ &= s_n + (2n+1) = n^2 + 2n + 1 = (n+1)^2 \end{aligned}$$

**1.82.**

A jobb oldalon elvégezve az  $(a-b)$ -vel való szorzást, két tagot kivéve minden tag kiesik.

**1.83.**

**Első bizonyítás:** Teljes indukcióval.  $n = 1$ -re az állítás igaz. Ha  $n$ -re igaz, akkor

$$(1 + 2 + \dots + n) + (n+1) = \frac{n(n+1)}{2} + (n+1) = \frac{(n+1)(n+2)}{2}$$

**Második bizonyítás:** Írjuk egymás alá kétszer az összeget, de másodszor fordított sorrendben:

$$1 + 2 + \dots + n$$

$$n + (n-1) + \dots + 1$$

Az így kialakult oszlopokban a számok összege  $n+1$  és mivel  $n$  darab oszlop van, a keresett összeg kétszerese éppen  $n(n+1)$ .

**1.84.**

Teljes indukcióval.  $n = 1$ -re az állítás igaz. Ha  $n$ -re igaz az állítás, akkor

$$\begin{aligned} (1^2 + 2^2 + \dots + n^2) + (n+1)^2 &= \frac{n(n+1)(2n+1)}{6} + (n+1)^2 = \\ &= \frac{(n+1)(n+2)(2(n+1)+1)}{6} \end{aligned}$$

**1.85.** Teljes indukcióval.  $n = 1$ -re az állítás igaz. Ha  $n$ -re igaz az állítás, akkor

$$\begin{aligned} (1^3 + 2^3 + \dots + n^3) + (n+1)^3 &= \left(\frac{n(n+1)}{2}\right)^2 + (n+1)^3 = \\ &= \left(\frac{(n+1)(n+2)}{2}\right)^2 \end{aligned}$$

**1.86.** Legyen  $s_n$  az egyenlőség baloldalán,  $t_n$  pedig a jobboldalán szereplő összeg.

$$\begin{aligned} s_n &= 1 - \frac{1}{2} + \frac{1}{3} - \dots - \frac{1}{2n} \\ t_n &= \frac{1}{n+1} + \frac{1}{n+2} + \dots + \frac{1}{2n} \end{aligned}$$

Teljes indukcióval.  $n = 1$ -re az állítás igaz, azaz  $s_1 = t_1$ . Ha  $n$ -re igaz az állítás, akkor

$$\begin{aligned} s_{n+1} &= s_n + \left(\frac{1}{2n+1} - \frac{1}{2n+2}\right) = \\ &= \left(1 - \frac{1}{2} + \frac{1}{3} - \dots - \frac{1}{2n}\right) + \left(\frac{1}{2n+1} - \frac{1}{2n+2}\right) = \\ &= \left(\frac{1}{n+1} + \frac{1}{n+2} + \dots + \frac{1}{2n}\right) + \left(\frac{1}{2n+1} - \frac{1}{2n+2}\right) = \\ &= \frac{1}{n+1} + \left(\frac{1}{n+2} + \dots + \frac{1}{2n}\right) + \left(\frac{1}{2n+1} + \frac{1}{2(n+1)} - \frac{1}{n+1}\right) = \\ &= \frac{1}{n+2} + \frac{1}{n+3} + \dots + \frac{1}{2(n+1)} = t_{n+1} \end{aligned}$$

**1.87.** Felhasználva, hogy  $\frac{1}{(k-1)k} = \frac{1}{k-1} - \frac{1}{k}$ , un. teleszkopikus összeget kapunk:

$$\begin{aligned} \frac{1}{1 \cdot 2} + \frac{1}{2 \cdot 3} + \dots + \frac{1}{(n-1) \cdot n} &= \\ &= \left(\frac{1}{1} - \frac{1}{2}\right) + \left(\frac{1}{2} - \frac{1}{3}\right) + \dots + \left(\frac{1}{n-1} - \frac{1}{n}\right) = 1 - \frac{1}{n} \end{aligned}$$

**1.88.** Itt két teleszkopikus összegre lehet bontani az eredeti összeget, mivel

$$\begin{aligned} \frac{1}{k(k+1)(k+2)} &= \frac{1}{2} \left( \frac{1}{k} - \frac{2}{k+1} + \frac{1}{k+2} \right) = \\ &= \frac{1}{2} \left( \frac{1}{k} - \frac{1}{k+1} \right) - \frac{1}{2} \left( \frac{1}{k+1} - \frac{1}{k+2} \right). \end{aligned}$$

Tehát:

$$\begin{aligned} \sum_{k=1}^n \frac{1}{k(k+1)(k+2)} &= \frac{1}{2} \sum_{k=1}^n \left( \frac{1}{k} - \frac{1}{k+1} \right) - \frac{1}{2} \sum_{k=1}^n \left( \frac{1}{k+1} - \frac{1}{k+2} \right) = \\ &= \frac{1}{2} \left( \frac{1}{2} - \frac{1}{n+1} + \frac{1}{n+2} \right). \end{aligned}$$

**1.89.** A 1.83. és 1.84. feladatokban szereplő képletek felhasználásával:

$$\begin{aligned} \sum_{k=1}^n k(k+1) &= \sum_{k=1}^n k^2 + \sum_{k=1}^n k = \frac{n(n+1)(2n+1)}{6} + \frac{n(n+1)}{2} = \\ &= \frac{n(n+1)(n+2)}{3} \end{aligned}$$

**1.90.** A 1.83. , 1.84. és 1.85. feladatokban szereplő képletek felhasználásával:

$$\begin{aligned} \sum_{k=1}^n k(k+1)(k+2) &= \sum_{k=1}^n k^3 + 3 \sum_{k=1}^n k^2 + 2 \sum_{k=1}^n k = \\ &= \left( \frac{n(n+1)}{2} \right)^2 + 3 \cdot \frac{n(n+1)(2n+1)}{6} + 2 \cdot \frac{n(n+1)}{2} = \\ &= \frac{n(n+1)(n^2+5n+6)}{4} = \frac{n(n+1)(n+2)(n+3)}{4} \end{aligned}$$

**1.92.** Teljes indukcióval:  $n = 0$  esetén igaz. Tegyük fel, hogy  $n$ -re igaz az állítás és, hogy egy  $k$  pozitív egész szám osztója  $u_{n+1}$ -nek és  $u_{n+2}$ -nek is. De akkor  $k$  osztója  $u_{n+2} - u_{n+1} = u_n$ -nek is. Mivel az indukciós feltevés szerint  $u_n$  és  $u_{n+1}$  relatív prímelek, ezért  $k = 1$ , tehát  $u_{n+1}$  és  $u_{n+2}$  is relatív prím számok.

**1.93.** Teljes indukcióval:  
Az  $n = 1$  és az  $n = 2$  eset könnyen ellenőrizhető.

Tegyük fel, hogy  $n > 2$  és  $n - 1$ -re illetve  $n - 2$ -re igaz az állítás.

$$u_n = u_{n-1} + u_{n-2} > \frac{1,6^{n-1}}{3} + \frac{1,6^{n-2}}{3} = \frac{1,6^{n-2}}{3}(1,6 + 1) > \frac{1,6^{n-2}}{3} \cdot 1,6^2 = \frac{1,6^n}{3}$$

Másrészt

$$u_n = u_{n-1} + u_{n-2} < 1,7^{n-1} + 1,7^{n-2} = 1,7^{n-2}(1,7 + 1) < 1,7^{n-2} \cdot 1,7^2 = 1,7^n$$

**1.94.**

Teljes indukcióval: Az  $n = 1$  eset mindegyik feladatnál könnyen ellenőrizhető. Tegyük fel, hogy  $n$ -re igaz a megfelelő állítás, be kell látnunk, hogy akkor  $n + 1$ -re is.

- (a)  $(u_1 + u_2 + \dots + u_n) + u_{n+1} = u_{n+2} - 1 + u_{n+1} = u_{n+3} - 1$   
 (b)  $u_{n+1}^2 - u_n u_{n+2} = u_{n+1}^2 - u_n(u_{n+1} + u_n) = u_{n+1}(u_{n+1} - u_n) - u_n^2 = u_{n+1}u_{n-1} - u_n^2 = -(-1)^{n+1} = (-1)^{n+2}$   
 (c)  $(u_1^2 + u_2^2 + \dots + u_n^2) + u_{n+1}^2 = u_n u_{n+1} + u_{n+1}^2 = u_{n+1}(u_n + u_{n+1}) = u_{n+1}u_{n+2}$

**1.95.**

Az alábbi formulák teljes indukcióval könnyen bizonyíthatók.

- (a)  $s_n = \alpha \cdot u_{2n+1} + \beta = u_{2n+1} - 1.$   
 (b)  $s_n = \alpha \cdot u_{2n+2} + \beta = u_{2n+2}.$   
 (c)  $s_n = \alpha \cdot u_{3n+2} + \beta = \frac{u_{3n+2} - 1}{2}.$   
 (d)  $s_n = u_{2n}^2$

**1.97.**

Az indoklás csak akkor helyes, ha  $n$  legalább 2. Ezért az  $n = 1$  és az  $n = 2$  eseteket nem „bizonyítottuk” be.

**1.99.**

Mindhárom közepet csökkentjük illetve növeljük, ha minden számot lecserélünk a legkisebbre, illetve a legnagyobbra.

**1.101.**

Az  $a^2bc$  egy négytényezős szorzat. Írjuk fel a megadott 3 tagú összeget 4 tagú összegként és használjuk a számtani és mértani közepek közti egyenlőtlenséget 4 szám esetén:

$$\frac{\frac{a}{2} + \frac{a}{2} + b + c}{4} \geq \sqrt[4]{\frac{a}{2} \cdot \frac{a}{2} \cdot b \cdot c} = \sqrt[4]{\frac{1}{4}a^2bc}$$

Eszerint

$$\frac{18}{4} = \frac{9}{2} \geq \sqrt[4]{\frac{1}{4}a^2bc}$$



Negyedik hatványra emelés és átrendezés után:

$$a^2bc \leq 4 \left(\frac{9}{2}\right)^4$$

A jobboldalon szereplő szám a keresett maximum, hiszen  $\frac{a}{2} = b = c = \frac{18}{4} = \frac{9}{2}$  esetén egyenlőség van.

**1.103.** Használjuk a harmonikus és a számtani közepek közötti egyenlőtlenséget:

$$\frac{abc}{ab+bc+ac} = \frac{1}{3} \cdot \frac{3}{\frac{1}{c} + \frac{1}{a} + \frac{1}{b}} \leq \frac{1}{3} \cdot \frac{a+b+c}{3} = \frac{18}{9} = 2$$

Itt egyenlőség pontosan akkor van, ha  $a = b = c = 6$

**1.105.**

$$2a + b + c = 3 \cdot \frac{2a + b + c}{3} \geq 3 \sqrt[3]{(2a)bc} = 3 \sqrt[3]{2 \cdot 18} = 3 \sqrt[3]{36}$$

Itt egyenlőség pontosan akkor van, ha  $2a = b = c = \sqrt[3]{36}$ .

**1.107.** Felhasználjuk a mértani és a négyzetes közepek közötti egyenlőtlenséget:

$$a^2 + b^2 + c^2 = 3 \left( \sqrt{\frac{a^2 + b^2 + c^2}{3}} \right)^2 \geq 3 \left( \sqrt[3]{abc} \right)^2 = 3 \left( \sqrt[3]{18} \right)^2$$

Itt egyenlőség pontosan akkor van, ha  $a = b = c = \sqrt[3]{18}$ .

**1.109.**

$$a + \frac{1}{a} = 2 \cdot \frac{a + \frac{1}{a}}{2} \geq 2 \cdot \sqrt{a \cdot \frac{1}{a}} = 2$$

**1.112.** Természetesen csak akkor értelmes a feladat, ha  $v > u$ . A  $v_a$  átlagsebesség a megtett út osztva a megtételhez szükséges  $t$  idővel:

$$v_a = \frac{2s}{t}$$

Számoljuk ki  $t$ -t. A folyásirányban a sebesség  $v+u$ , az  $s$  úthoz szükséges idő

$$t_1 = \frac{s}{v+u}$$

Az ellenkező úton a sebesség  $v-u$ , az  $s$  úthoz szükséges idő

$$t_2 = \frac{s}{v-u}$$

Mivel  $t = t_1 + t_2$

$$v_a = \frac{2s}{\frac{s}{v+u} + \frac{s}{v-u}} = \frac{2}{\frac{1}{v+u} + \frac{1}{v-u}}$$

Tehát  $v_a$  éppen a harmonikus közepe a  $v+u$ ,  $v-u$  számoknak, és ezért  $u > 0$  esetén határozottan kisebb a két szám számtani közepénél,  $v$ -nél.

**1.114.**

$$f(x) = x(1-x) = \left(\sqrt{x(1-x)}\right)^2 \leq \left(\frac{x+(1-x)}{2}\right)^2 = \frac{1}{4}$$

Itt egyenlőség van, ha  $x = 1-x = \frac{1}{2}$

**1.115.**

$$f(x) = x + \frac{4}{x} = 2 \cdot \frac{x + \frac{4}{x}}{2} \geq 2 \cdot \sqrt{x \cdot \frac{4}{x}} = 4$$

A minimum ott van, ahol egyenlőség van, azaz  $x = \frac{4}{x} = 2$ .

**1.117.**

Felhasználva a számtani és mértani közepek közötti egyenlőtlenséget:

$$x^2(1-x) = 4 \cdot \frac{x}{2} \cdot \frac{x}{2} \cdot (1-x) \leq 4 \cdot \left(\frac{\frac{x}{2} + \frac{x}{2} + (1-x)}{3}\right)^3 = \frac{4}{27}$$

Egyenlőség csak akkor van, ha  $\frac{x}{2} = 1-x$ , azaz  $x = \frac{2}{3}$ .

Tehát a keresett maximum:  $\frac{4}{27}$ .

**1.119.** Legyen  $g(x) = f(x) - 3 = 2(x^2 + 1) + \frac{3}{x^2 + 1}$ . A  $g(x)$  függvénynek ugyanott van a minimuma, mint  $f(x)$ -nek. Mivel a pozitív  $2(x^2 + 1)$  és  $\frac{3}{x^2 + 1}$  számoknak a szorzata állandó ( $= 6$ ), ezért az összegük akkor minimális, ha megegyeznek.

$$2(x^2 + 1) = \frac{3}{x^2 + 1}$$

Innen  $x^2 = \sqrt{3/2} - 1$  és így  $g(x)$  minimuma

$$m_g = g\left(\sqrt{\sqrt{3/2} - 1}\right) = 2\left(\sqrt{3/2}\right) + \frac{3}{\sqrt{3/2}} = \frac{6}{\sqrt{3/2}} = 2\sqrt{6},$$

$f(x)$  minimuma pedig

$$m_f = m_g + 3 = 2\sqrt{6} + 3$$

**1.121.** Az ábra jelöléseit használva, a téglalap területe:

$$T = 4F, \text{ ahol } F = x \cdot y \text{ és } x^2 + y^2 = 1.$$

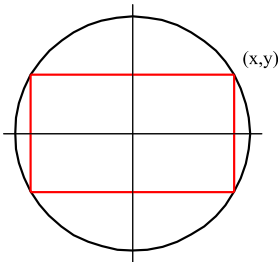
Ezért  $F = x\sqrt{1-x^2}$ . Számoljuk ki  $F^2$  maximumát:

$$F^2 = x^2(1-x^2) \leq \left(\frac{x^2 + (1-x^2)}{2}\right)^2 = \frac{1}{4}.$$

Egyenlőség csak akkor van, ha  $x^2 = 1 - x^2$ , azaz

$$x = y = \frac{1}{\sqrt{2}}.$$

Tehát a maximális terület:  $T = 2$ , mégpedig a négyzet esetén.



**1.122.** Az ábra a kúp és a henger egy síkmetszetét ábrázolja. Az ábra jelöléseit használva, a henger térfogata:

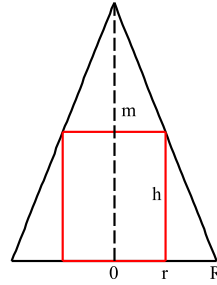
$$V = \pi r^2 h. \text{ Mivel } \frac{h}{m} = \frac{R-r}{R}, \text{ ezért } V = \frac{\pi m}{R} \cdot r^2 (R-r)$$

Az előző feladathoz hasonlóan

$$V = \frac{4\pi m}{R} \cdot \frac{r}{2} \cdot \frac{r}{2} \cdot (R-r) \leq \frac{4\pi m}{R} \left(\frac{R}{3}\right)^3 = \frac{4}{27}$$

Egyenlőség csak akkor van, ha  $\frac{r}{2} = R-r$ .  
Ekkor a henger sugara, illetve magassága:

$$r = \frac{2}{3}R, \quad h = \frac{m}{3}$$



Tehát a maximális térfogat:  $V = \frac{4}{27}\pi Rm$ .

**1.123.**

Az ábra a gömb és a henger egy síkmetszetét ábrázolja. Az ábra jelöléseit használva, a henger térfogata:

$$V = 2\pi \cdot U, \text{ ahol } U = x^2 \cdot y \text{ és } x^2 + y^2 = 1, \quad 0 \leq x \leq 1.$$

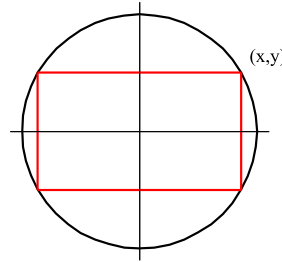
Ezért  $U = x^2\sqrt{1-x^2}$ . Számoljuk ki  $\frac{U^2}{4}$  maximumát:

$$\frac{U^2}{4} = \frac{x^4(1-x^2)}{4} = \frac{x^2}{2} \cdot \frac{x^2}{2} \cdot (1-x^2)$$

Az itt szereplő három pozitív szám összege  $x$ -től függetlenül 1, és így szorzatuk akkor maximális, ha megegyeznek:

$$\frac{x^2}{2} = 1 - x^2 \text{ azaz } x = \frac{\sqrt{2}}{\sqrt{3}}, \quad y = \frac{1}{\sqrt{3}}.$$

Tehát a maximális térfogat:  $V = \frac{4\pi}{3\sqrt{3}}$ .



**1.124.**

Mikor az első egyenlőség mindkét oldalából kivonjuk a  $\frac{c}{\sqrt{2}}$  számot, negatív számot kapunk. Ezzel beszorozva az  $a < c$  egyenlőtlenséget, az egyenlőtlenség megfordul.

## 1.4 Halmazok

**1.126.** A (b)-ben szereplő halmazzal:  $\overline{A \cup B} = \{x : x \notin A \wedge x \notin B\}$ .

**1.128.** Igaz az állítás.

$$\begin{aligned} x \in (A \setminus B) &\iff (x \in A) \wedge (x \notin B) \iff (x \in A) \wedge (x \in \overline{B}) \iff \\ &\iff x \in (A \cap \overline{B}) \end{aligned}$$

**1.131.** Nem igaz, legyen például  $A = B = \{1\} \subset \mathbb{R}$ . Ekkor  $\overline{A} \setminus B = \overline{A} = \mathbb{R} \setminus \{1\}$ , viszont  $A \setminus \overline{B} = A = \{1\}$ .

**1.132.** Nem igaz, legyen például  $A = B = \{1\}$ . Ekkor  $(A \cup B) \setminus A = \emptyset \neq B$ .

**1.135.** Igaz az állítás.

**Első bizonyítás.**

Megmutatjuk, hogy  $A \setminus B \subset A \setminus (A \cap B)$ , és azt is, hogy  $A \setminus (A \cap B) \subset A \setminus B$ .

Legyen  $x \in A \setminus B$  tetszőleges. Ekkor  $x \notin B$  és ezért  $x \notin A \cap B$ . Mivel  $x \in A$ , ezért  $x \in A \setminus (A \cap B)$ .

Legyen most  $x \in A \setminus (A \cap B)$  tetszőleges. Ekkor  $x \notin A \cap B$ . Mivel  $x \in A$ , ezért  $x \notin B \setminus A$ . Így tehát  $x \notin (B \setminus A) \cup (A \cap B) = B$ . Eszerint  $x \in A \setminus B$ .

**Második bizonyítás.** (lásd a 1.128. feladatot)

$$\begin{aligned} A \setminus (A \cap B) &= A \cap \overline{(A \cap B)} = A \cap (\overline{A} \cup \overline{B}) = (A \cap \overline{A}) \cup (A \cap \overline{B}) = \\ &= \emptyset \cup (A \cap \overline{B}) = (A \cap \overline{B}) = A \setminus B \end{aligned}$$

**1.136.**

$$A \setminus (B \cup C)$$

**1.138.**

$$((A \cap B) \cup (A \cap C) \cup (B \cap C)) \setminus (A \cap B \cap C)$$

**1.140.**

$$\begin{aligned} x \in \overline{(A \cup B)} &\iff x \notin (A \cup B) \iff (x \notin A) \wedge (x \notin B) \iff \\ &\iff (x \in \overline{A}) \wedge (x \in \overline{B}) \iff x \in (\overline{A} \cap \overline{B}) \end{aligned}$$

## 1.5 A valós számok axiómarendszere

- 1.144.** (a) Nem igaz, például  $x = -1$ ,  $A = 0$  esetén.  
 (b) Igaz. Mivel az első egyenlőtlenség,  $|x| < A$  bal oldala nem negatív, ezért saját magával szorozható, azaz  $|x|^2 < A^2$ . Mivel  $|x|^2 = |x^2|$  ezért  $|x^2| < A^2$ .

- 1.147.** (a) A  $H$  halmaznak nincs minimuma (minimális eleme).  
 (b)  $H$ -nak nincs maximuma.  
 (c)  $H$ -nak van maximuma.  
 (d) A  $H$  halmaznak van minimuma.

- 1.149.** A (b) állítás nem igaz, a többi igaz.

**1.152.**  $\bigcap_{n=1}^{\infty} A_n = \{0\}$

**1.153.**  $\bigcap_{n=1}^{\infty} B_n = \emptyset$

- 1.157.** Formálisan:

$$\exists x \in H \forall y \in H (x > 2 \wedge y \geq x^2)$$

Ez az állítás egyetlen  $H \subset \mathbb{R}$  esetén sem teljesül, mert  $y = x$  választással ha  $x > 2$  ( $x > 1$ ) akkor  $x < x^2$ .

**1.158.**  $M = \bigcap_{n=1}^{\infty} I_n = \{0\}$

Mivel minden  $n \in \mathbb{N}^+$  esetén  $-1/n \leq 0 \leq 1/n$ , azaz  $0 \in I_n$ , ezért  $0 \in M$ . Ha  $x \neq 0$ , akkor van olyan  $k \in \mathbb{N}^+$ , amelyre  $1/k < |x|$ . Erre a  $k$ -ra  $x \notin I_k = [-1/k, 1/k]$ .

**1.159.**  $M = \bigcap_{n=1}^{\infty} I_n = \{0\}$

**1.164.**  $M = \bigcap_{n=1}^{\infty} I_n = \{0\}$

Mivel minden  $n \in \mathbb{N}^+$  esetén  $0 < 1/n$  azaz  $0 \in I_n$ , ezért  $0 \in M$ . Ha  $x \neq 0$ , akkor van olyan  $k \in \mathbb{N}^+$ , amelyre  $1/k < |x|$ . Erre a  $k$ -ra  $x \notin I_k = [0, 1/k]$ .

**1.165.**  $M = \bigcap_{n=1}^{\infty} I_n = \emptyset$

Mivel minden  $n \in \mathbb{N}^+$  esetén  $0 \notin I_n$ , ezért  $0 \notin M$ . Ha  $x \neq 0$ , akkor van olyan  $k \in \mathbb{N}^+$ , amelyre  $1/k < |x|$ . Erre a  $k$ -ra  $x \notin I_k = (0, 1/k]$ .

**1.166.** Egyedül a 1.166.e állítás igaz.

**1.168.** Nem lehet a Cantor-axióma miatt.

**1.174.** Nem lehet.

Akárhány zárt intervallum metszete vagy üres, vagy egy pont, vagy egy zárt intervallum. Ezért a metszet nem lehet valódi nyílt intervallum.

**1.175.** Lehet, de csak akkor, ha valahonnan kezdve ugyanazok az intervallumok.

Legyen ugyanis  $I_n = (a_n, b_n)$ . Az, hogy ezek egymásba vannak „skatulyázva”, azt jelenti, hogy minden  $n$  esetén  $a_n \leq a_{n+1} < b_{n+1} \leq b_n$

Legyen  $a = \sup a_n$ ,  $b = \inf b_n$ . Tudjuk, hogy  $a \leq b$ .

Négy esetet különböztetünk meg:

1)  $a = \max a_n$  és  $b = \min b_n$ . Ez pontosan akkor teljesül, ha valahonnan kezdve  $a_n = a_{n+1}$  és  $b_n = b_{n+1}$ . Ekkor  $\bigcap_{n=1}^{\infty} I_n = I_N = (a, b)$ .

2)  $a = \max a_n$  és a  $b_n$ -ek között nincs minimális. Ekkor  $\bigcap_{n=1}^{\infty} I_n = (a, b]$ , ami üres, ha  $a = b$  és nem üres balról nyílt, jobbról zárt intervallum, ha  $a < b$ .

3)  $a_n$ -ek között nincs maximális, de  $b = \min b_n$ . Ekkor  $\bigcap_{n=1}^{\infty} I_n = [a, b)$ .

4)  $a_n$ -ek között nincs maximális és a  $b_n$ -ek között nincs minimális. Ekkor  $\bigcap_{n=1}^{\infty} I_n = [a, b]$ .

**1.176.** A Cantor-axióma kivételél minden teljesül.

**1.180.** Minden véges tizedestört alakban felírható szám racionális, de például az  $1/3$ -nak nincs véges tizedestört alakja.

Pontosan azoknak a racionális számoknak van véges tizedestört alakja, amelyek felírhatók úgy két egész szám hányadosaként, hogy a nevezőnek csak a 2 és az 5 a prímosztói.

**1.183.** Az  $I_n$  intervallumsorozatra két feltételt követel meg a Cantor-axióma:

1. Az  $I_n$ -ek korlátos zárt intervallumok.
2. Az  $I_n$ -ek „egymásba skatulyázottak”, azaz a nagyobb indexű intervallum része a kisebb indexűnek.

Ha az első feltételt elhagyom, akkor például az  $I_n = (0, 1/n)$  nyílt intervallumsorozat metszete üres.

Ha a második feltételt hagyom el, akkor például az  $I_n = [n, n + 1]$  zárt intervallumsorozat metszete üres.

Megjegyzés:

a 2. feltétel helyettesíthető azzal a gyengébb feltétellel, hogy bármely véges sok intervallum metszete nem üres.

Ha a szereplő intervallumok tetszőleges típusúak és sem a bal sem a jobb végpontok sorozata nem „stabilizálódik”, azaz végtelen sok különböző bal és jobb végpont van, akkor (a 2. feltétel meghagyása mellett) a metszet nem üres.

## 1.6 A számegyenes

**1.186.**  $B = \{2, 6\}$ , amely egyetlen pontból áll. Ez a feladat mutatja, hogy a tizedes vessző használata bizonyos helyzetekben félreérthető, hiszen a  $\{2, 6\}$  halmaznak két eleme van.

**1.187.**  $C = (2, 6)$

**1.188.**  $D = \{2, 3, 4, 5, 6\}$

**1.189.**  $E = [2, 6]$

**1.190.**  $F = (2, 6]$

**1.191.**  $G = [2, 6)$

**1.192.**  $H = [2, 6] \cap \mathbb{Q}$ , nem intervallum!

**1.196.** Az  $A = \left\{ \frac{1}{n} : n \in \mathbb{N}^+ \right\}$  halmaz alulról korlátos, legnagyobb alsó korlátja a 0, felülről is korlátos, mert van maximuma, legnagyobb eleme az 1. Mivel alulról és felülről is korlátos, ezért korlátos.



**1.201.** Az  $I_p = \{n \in \mathbb{N} : n \text{ prímszám} \wedge n + 2 \text{ prímszám}\}$  halmaz, az úgynevezett ikerprímek halmaza alulról korlátos, hiszen például a 0 egy alsó korlát. Az, hogy felülről nem korlátos, azaz van-e végtelen sok ikerprím, a mai napig (2014. március 4.) nem ismert.

**1.203.** Ilyen sorozat például az  $a_n = (-1)^n \cdot \left(1 - \frac{1}{n}\right)$ , azaz

$$a_n = \begin{cases} 1 - \frac{1}{n} & \text{ha } n \text{ páros} \\ -1 + \frac{1}{n} & \text{ha } n \text{ páratlan} \end{cases}$$

**1.206.**  $\forall x \in A \exists y \in A (y < x)$

**1.209.**  $\sup(A \cup B) = \max\{\sup A, \sup B\}$ ,  $\sup(A \cap B) = \min\{\sup A, \sup B\}$ .

Ha  $\sup(A \setminus B) \neq \emptyset$ , azaz  $A \not\subseteq B$ , akkor  $\sup(A \setminus B) \leq \sup A$ .

**1.214.**  $A = \left\{\frac{1}{2n-1} : n \in \mathbb{N}^+\right\}$ ,  $\inf A = 0$ ,  $\sup A = \max A = 1$ , nincs minimuma.

**1.216.**  $A = \left\{\frac{1}{n} + \frac{1}{\sqrt{n}} : n \in \mathbb{N}^+\right\}$  esetén  $\inf A = 0$ ,  $\sup A = \max A = 2$ , nincs minimuma.

**1.220.**  $A = \left\{\frac{1}{n} + \frac{1}{k} : n \in \mathbb{N}^+\right\}$  esetén  $\inf A = 0$ ,  $\sup A = \max A = 2$ , nincs minimuma.

**1.222.** Legyen  $A = \left\{\sqrt[n]{2} : n \in \mathbb{N}^+\right\}$ . Az világos, hogy  $\sup A = \max A = 2$ . Belátjuk, hogy  $\inf A = 1$ . Mivel  $\sqrt[n]{2} > 1$ , ezért 1 alsó korlát. Megmutatjuk, hogy tetszőleges  $x > 0$  esetén  $1 + x$  nem alsó korlát:

Mivel a Bernoulli-egyenlőtlenség szerint  $(1+x)^n \geq 1+nx$  és  $1+nx > 2$  ha  $n > \frac{2}{x}$ , ezért van olyan  $n$  (valahonnan kezdve mindegyik  $n$ ), hogy  $1+x > \sqrt[n]{2}$ .

**1.223.** Legyen  $A = \left\{\sqrt[n]{2^n - n} : n \in \mathbb{N}^+\right\}$ . Mivel minden  $n \in \mathbb{N}^+$  esetén  $2^n \geq n+1$  a Bernoulli-egyenlőtlenség szerint, ezért  $\sup A = \min A = 1$ .

Másrészt  $2^n - n < 2^n$ , ezért  $A$  egy felső korlátja 2. Ez egyben az  $A$  halmaz szuprémuma is,  $\sup A = 2$ , mert

$$\sqrt[n]{2^n - n} \geq \sqrt[n]{2^n - 2^{n-1}} = 2 \cdot \frac{1}{\sqrt[n]{2}}$$

és az előző feladat szerint

$$\sup \left\{ \frac{1}{\sqrt[n]{2}} : n \in \mathbb{N}^+ \right\} = \frac{1}{\inf \{ \sqrt[n]{2} : n \in \mathbb{N}^+ \}} = 1$$

Mivel  $2 \notin A$ , ezért az  $A$  halmaznak nincs maximuma.

**1.227.** A szuprémum definíciója miatt elég megmutatni, hogy a  $B$  halmaz minden felső korlátja az  $A$  halmaznak is felső korlátja.

Legyen tehát  $K$  tetszőleges felső korlátja  $B$ -nek, továbbá  $a \in A$  tetszőleges. A feltétel szerint van olyan  $b \in B$ , amelyre  $a \leq b$ . Mivel  $K$  felső korlát, ezért  $b \leq K$  is teljesül. Így tehát tetszőleges  $a \in A$  esetén  $a \leq K$ , azaz  $K$  felső korlátja  $A$ -nak.

**1.230.**  $\mathbf{Q} \implies \mathbf{P}$ :

$$|x - y| = |(x - A) + (A - y)| \leq |x - A| + |A - y| = |x - A| + |y - A| < \varepsilon + \varepsilon = 2\varepsilon.$$

$\mathbf{P} \not\Rightarrow \mathbf{Q}$ :

Legyen például  $x = y = 0$ ,  $\varepsilon = 1$  és  $A = 2$ .

**1.235.**  $\mathbf{P} \not\Rightarrow \mathbf{Q}$ : Legyen például  $H = (1, 2]$ . Ekkor  $\mathbf{P}$  teljesül de az  $a = 1$  választás mutatja, hogy  $\mathbf{Q}$  nem teljesül.

$\mathbf{Q} \not\Rightarrow \mathbf{P}$ : Legyen például  $H = \{-1\}$ .

## Számsorozatok konvergenciája

### 2.1 Sorozatok határértéke

**2.1.** Mivel  $a_n \rightarrow 1$ , ezért megadhatók a keresett küszöbindexek.

(a)  $\varepsilon = 0,1$

$$|a_n - 1| = \left| 1 + \frac{1}{\sqrt{n}} - 1 \right| = \frac{1}{\sqrt{n}} < 0,1 \iff \sqrt{n} > 10 \iff n > 10^2$$

Tehát az  $n_0 = 10^2$  választás megfelel.

(b)  $\varepsilon = 0,01$  Az előző megoldásban 0,1-et 0,01-re cserélve kapjuk, hogy az  $n_0 = 10^4$  választás megfelel.

**2.2.** Nincs ilyen  $n_0$  küszöbindex, ugyanis az előző feladat (a) részének megoldása szerint ha

$n > 10^4$ , akkor  $|a_n - 1| < 0,1$ . Ezért ezekre az  $n$ -ekre

$$|a_n - 2| = |(a_n - 1) - (2 - 1)| \geq |1 - |a_n - 1|| > 1 - 0,1 = 0,9 > 0,001.$$

**2.3.** Ezek a feladatok a konvergencia definíciójában szereplő jelek (logikai kvantorok, egyenlőtlenség) sorrendjének és típusának a fontosságát mutatják meg.

- (a) Igaz. A 2.1. feladatot általánosítva könnyen látható, hogy  $a_n \rightarrow 1$  és ez a formula éppen ezt mondja.
- (b) Nem igaz. Ez a formula pontosan akkor teljesül egy  $(a_n)$  sorozatra, ha valahonnan kezdve a sorozat minden tagja 1. A megadott sorozat nem ilyen.
- (c) Igaz. A formula pontosan akkor teljesül egy  $(a_n)$  sorozatra, ha a sorozat korlátos. A megadott sorozat korlátos.
- (d) Nem igaz. A formula pontosan akkor teljesül egy  $(a_n)$  sorozatra, ha van olyan nyílt ( $\varepsilon$  sugarú) intervallum az 1 körül, amelyik a sorozatnak csak véges sok tagját tartalmazza.
- (e) Igaz. A formula pontosan akkor teljesül egy  $(a_n)$  sorozatra, ha a sorozat első tagja  $a_1 = 1$ , ugyanis az  $n_0 = 1$  választás minden  $\varepsilon$  esetén megfelel.
- (f) Nem igaz. A formula pontosan akkor teljesül egy  $(a_n)$  sorozatra, ha a sorozat első tagja  $a_1 \neq 1$ .

**2.4.** Megmutatjuk, hogy elég nagy  $n$ -re  $b_n > a_n$ :

$$10n^2 + 25 \leq 10n^2 + n^2 = 11n^2, \text{ ha } n \geq 5.$$

Másrészt  $11n^2 < n^3$ , ha  $n > 11$ .

Így az  $N = 11$  választással  $b_n > a_n$ , ha  $n > N$ .

**2.6.** Az  $(a_n)$  a nagyobb valahonnan kezdve:

$$3^n - n^2 > 2^n + n \iff 3^n > 2^n + n^2 + n.$$

Belátjuk először, hogy valahonnan kezdve  $2^n > n^2$ . A binomiális kifejtést használva

$$\begin{aligned} 2^n &= (1+1)^n = \sum_{k=0}^n \binom{n}{k} > \binom{n}{3} = \frac{n(n-1)(n-2)}{6} > \\ &> \left(\frac{n}{2}\right)^3 \cdot \frac{1}{6} = \frac{n^3}{48} > n^2 \end{aligned}$$

Ez teljesül ha egyrészt  $n-2 > \frac{n}{2}$ , azaz  $n > 4$ , másrészt  $n > 48$ . Tehát  $n > 48 = 2^3 \cdot 6$  esetén

$$2^n + n^2 + n < 2^n + 2^n + 2^n = 3 \cdot 2^n < 3^n.$$

Az egyenlőtlenség biztosan teljesül, ha

$$\left(\frac{3}{2}\right)^n = (1+0,5)^n > 3.$$

Ez utóbbi pedig a **Bernoulli-egyenlőtlenség** szerint igaz, ha  $n > 4$ .

Tehát összefoglalva a keresett  $N$  számra kapott feltételeket, az  $N = 48$  választás megfelel.

**2.8.** A  $(b_n)$  a nagyobb valahonnan kezdve:

Ha  $n > 3$ , akkor

$$n! = 6 \cdot (4 \cdot 5 \cdots n) > 6 \cdot 4^{n-3} = \frac{6}{4^3} 2^{2n} > 2^n$$

Az egyenlőtlenség teljesül, ha  $2^n > \frac{4^3}{6} = \frac{2^7}{3}$ , ez pedig akkor, ha  $n > 8$ . Tehát az  $N = 8$  választás megfelel.

**2.16.**

$$\sqrt[n]{2} < 1,01 = 1 + 0,1 \iff 2 < (1 + 0,1)^n$$

A Bernoulli-egyenlőtlenség szerint

$$(1 + 0,1)^n \geq 1 + 0,1n > 0,1n > 2$$

ha  $n > 20$ .**2.17.**

$$\sqrt[n]{n} < 1,0001 \iff n < (1 + 10^{-4})^n$$

A binomiális kifejtést használva

$$(1 + 10^{-4})^n = \sum_{k=0}^n \binom{n}{k} 10^{-4k} > \binom{n}{2} 10^{-8} = \frac{n(n-1)}{2 \cdot 10^8} > \frac{n^2}{8 \cdot 10^8} > n$$

ha  $n > 8 \cdot 10^8$ .**2.25.**

$$\sqrt{n^2 + 5} - n = (\sqrt{n^2 + 5} - n) \cdot \frac{\sqrt{n^2 + 5} + n}{\sqrt{n^2 + 5} + n} = \frac{5}{\sqrt{n^2 + 5} + n} < \frac{5}{n} < 0,01$$

ha  $n > 500$ .**2.28.****P**  $\implies$  **Q**, mert a legkisebb tag alsó korlát, a legnagyobb pedig felső korlát.**Q**  $\not\Rightarrow$  **P**, mert például az  $a_n = \frac{1}{n}$  sorozat korlátos, de nincs legkisebb eleme.**2.29.**

(b) igaz, a többi nem igaz.

**2.40.**

$$\begin{aligned} \lim_{n \rightarrow \infty} \frac{2n^6 + 3n^5}{7n^6 - 2} &= \frac{2}{7} \\ \left| \frac{2n^6 + 3n^5}{7n^6 - 2} - \frac{2}{7} \right| &= \frac{7(2n^6 + 3n^5) - 2(7n^6 - 2)}{7(7n^6 - 2)} = \frac{21n^5 + 4}{7(7n^6 - 2)} < \\ &< \frac{21n^5 + 4n^5}{7(7n^6 - 2n^6)} = \frac{25}{35} \cdot \frac{1}{n} < \frac{1}{n} < \varepsilon. \end{aligned}$$

Ez utóbbi egyenlőtlenség biztosan teljesül, ha  $n > \frac{1}{\varepsilon}$ , és így küszöbindexnek megfelel a

$$n_0 = \left\lceil \frac{1}{\varepsilon} \right\rceil + 1$$

**2.47.**  $\lim_{n \rightarrow \infty} (\sqrt{n^2 + 1} - n) = \lim_{n \rightarrow \infty} (\sqrt{n^2 - 1} - n) = 0$ , ezért  $\lim_{n \rightarrow \infty} (\sqrt{n^2 + 1} + \sqrt{n^2 - 1} - 2n) = 0$ .

Keressünk küszöbindexet  $\frac{\varepsilon}{2}$ -höz külön az  $a_n = \sqrt{n^2 + 1} - n$  és a  $b_n = \sqrt{n^2 - 1} - n$  sorozathoz.

$$|a_n| = \sqrt{n^2 + 1} - n = \frac{1}{\sqrt{n^2 + 1} + n} < \frac{1}{n} < \frac{\varepsilon}{2}$$

teljesül, ha  $n > \frac{2}{\varepsilon}$ .

$$|b_n| = n - \sqrt{n^2 - 1} = \frac{1}{n + \sqrt{n^2 - 1}} < \frac{1}{n} < \frac{\varepsilon}{2}.$$

Ez is teljesül, ha  $n > \frac{2}{\varepsilon}$ , tehát az  $n_0 = \left\lceil \frac{2}{\varepsilon} \right\rceil$  megfelel küszöbindexnek:

$$\begin{aligned} \left| \sqrt{n^2 + 1} + \sqrt{n^2 - 1} - 2n \right| &\leq \left| \sqrt{n^2 + 1} - n \right| + \left| \sqrt{n^2 - 1} - n \right| < \\ &< \frac{\varepsilon}{2} + \frac{\varepsilon}{2} = \varepsilon \end{aligned}$$

ha  $n > n_0$ .

- 2.49.**
- (a) Az  $(a_n)$  sorozat oszcillálva divergens.
  - (b) Az  $(a_n)$  sorozat konvergens,  $a_n \rightarrow 4$ .
  - (c) Az  $(a_n)$  sorozat divergens,  $a_n \rightarrow \infty$ .
  - (d) Az  $(a_n)$  sorozat oszcillálva divergens.

**2.55.** Legyen például  $a_n = \frac{1}{n}$ ,  $b_n = \frac{1}{n^2}$ .

**2.58.** Mivel  $a > 0$ , ezért az  $(a_n)$  sorozatnak csak véges sok tagja lehet negatív, így valahonnan kezdve  $\sqrt{a_n}$  értelmes.

$$\left| \sqrt{a_n} - \sqrt{a} \right| = \frac{|a_n - a|}{\sqrt{a_n} + \sqrt{a}} \leq \frac{|a_n - a|}{\sqrt{a}}$$

Mivel  $a_n \rightarrow a$ , választhatunk olyan  $n_0$  küszöbindexet, hogy  $n > n_0$  esetén  $|a_n - a| < \varepsilon \cdot \sqrt{a}$  legyen. Ez az  $n_0$  megfelel a keresett küszöbindexnek:

$$|\sqrt{a_n} - \sqrt{a}| \leq \frac{|a_n - a|}{\sqrt{a}} < \frac{\varepsilon \cdot a}{\sqrt{a}} = \varepsilon,$$

ha  $n > n_0$ .

**2.61.** Mindegyik állítás igaz. Egyedül a **(d)** állítás jelenti azt, hogy  $a_n \rightarrow \infty$ .

**2.66.** A sorozat nem tarthat  $\infty$ -hez, de tarthat  $-\infty$ -hez vagy egy valós számhoz.

**2.69.** A sorozat nem tarthat  $-\infty$ -hez, de a többi eset lehetséges.

**2.74.**

$$\begin{aligned} \frac{\sqrt{1} + \sqrt{2} + \dots + \sqrt{n}}{n} &> \frac{\sqrt{\lfloor \frac{n}{2} \rfloor} + \dots + \sqrt{n}}{n} > \frac{1}{n} \cdot \frac{n}{2} \cdot \sqrt{\lfloor \frac{n}{2} \rfloor} > \\ &> \frac{1}{n} \cdot \frac{n}{2} \cdot \sqrt{\frac{n}{2} - 1} > K \end{aligned}$$

ha  $n > 8K^2 + 2$ . Tehát megfelelő küszöbindex az  $n_0 = [8K^2 + 2] + 1$ .

**2.81.** A feltétel szerint van olyan  $N$  szám, hogy  $n > N$  esetén

$$a_{n+1} - a_n > d = \frac{c}{2} > 0.$$

Teljes indukcióval könnyen látható, hogy  $n > N$  esetén

$$a_n > a_N + d \cdot (n - N).$$

Mivel  $\lim_{n \rightarrow \infty} (a_N + d \cdot (n - N)) = \infty$ , ezért a rendőr-szabály szerint  $\lim_{n \rightarrow \infty} a_n = \infty$ .

## 2.2 A határérték tulajdonságai

**2.84.** Mivel  $\frac{1}{n} \rightarrow 0$  és  $\frac{2}{n} \rightarrow 0$ , ezért a rendőr-szabály szerint  $b_n \rightarrow 0$ .

**2.89.** Semmit sem lehet mondani a  $(b_n)$  viselkedéséről, tarthat bárhova és lehet oszcillálva divergens is.

**2.91.** Elég megmutatni, hogy  $a_{2n}$  és  $a_{2n+1}$  ugyanoda tart, mert a két részsorozatra kapott küszöbindexek közül a nagyobbik az egész sorozatra is megfelel.

Az  $a_{6n}$  közös részsorozata  $a_{2n}$ -nek és  $a_{3n}$ -nek, ezért

$$\lim_{n \rightarrow \infty} a_{2n} = \lim_{n \rightarrow \infty} a_{3n}.$$

Másrészt az  $a_{6n+3}$  közös részsorozata  $a_{2n+1}$ -nek és  $a_{3n}$ -nek, ezért

$$\lim_{n \rightarrow \infty} a_{2n+1} = \lim_{n \rightarrow \infty} a_{3n}.$$

**2.95.** Mivel  $a > 0$ , valahonnan kezdve  $\frac{a}{2} < a_n < 2a$ , és ezért

$$\sqrt[n]{\frac{a}{2}} < \sqrt[n]{a_n} < \sqrt[n]{2a}.$$

Mivel tetszőleges  $c \in \mathbb{R}^+$  esetén  $\sqrt[n]{c} \rightarrow 1$ , ezért a rendőr-szabály szerint  $\sqrt[n]{a_n} \rightarrow 1$ .

**2.100.**

$$b_n = \frac{a_n - 1}{a_n + 1} = \frac{a_n + 1 - 2}{a_n + 1} = 1 - \frac{2}{a_n + 1} \rightarrow 0$$

Fejlesztjük ki  $a_n$ -t  $b_n$  segítségével:

$$\frac{2}{a_n + 1} = 1 - b_n, \quad a_n + 1 = \frac{2}{1 - b_n}, \quad a_n = \frac{2}{1 - b_n} - 1$$

A határérték műveleti szabályait alkalmazva kapjuk, hogy  $a_n \rightarrow 1$ .

**2.102.** Valahonnan kezdve  $0 \leq \sqrt[n]{a_n} < 0,5$ , és ezért  $0 \leq a_n < 0,5^n \rightarrow 0$ .

**2.107.**  $\mathbf{P} \not\Rightarrow \mathbf{Q}$ : legyen például  $a_n = \frac{1}{\sqrt{n}}$

$\mathbf{Q} \Rightarrow \mathbf{P}$ : Legyen  $\lim_{n \rightarrow \infty} a_n = a > 0$ .

Első eset:  $a = \infty$ . Ekkor van olyan  $N$  küszöbindex, hogy  $n > N$  esetén

$$a_n > 1 \geq \frac{1}{n}.$$



Második eset:  $0 < a < \infty$ : Válasszunk az  $\varepsilon = \frac{a}{2}$ -höz egy  $N$  küszöbindexet, amelyre

$$|a_n - a| < \varepsilon \quad \text{és} \quad \frac{1}{n} < \varepsilon.$$

ha  $n > N$ . De akkor

$$\frac{1}{n} < \varepsilon = \frac{a}{2} = a - \varepsilon < a_n.$$

**2.111.** Az állításból következik, hogy  $a_n \rightarrow \infty$ , „rendőr-szabály a végtelenre”: Legyen ugyanis  $K \in \mathbb{R}$  tetszőleges. Mivel  $b_n \rightarrow \infty$ , ezért van olyan  $N$  küszöbindex, hogy  $n > N$  esetén  $K < b_n$ . De a feltétel szerint ezekre az  $n$ -ekre  $K < a_n$  is igaz.

**2.114.** Semmi sem következik:  
az  $(a_n)$  sorozat lehet konvergens, például ha  $a_n = 0$ ,  
tarthat  $\infty$ -hez, például ha  $a_n = b_n - 1$   
vagy  $-\infty$ -hez, például ha  $a_n = -n$ ,  
de lehet oszcillálva divergens is, például ha  $a_n = (-1)^n$ .

**2.118.** Korlátos, mert konvergens,

$$\lim_{n \rightarrow \infty} \frac{\sqrt{1} + \sqrt{2} + \cdots + \sqrt{n}}{n^2} = 0,$$

ugyanis

$$0 < \frac{\sqrt{1} + \sqrt{2} + \cdots + \sqrt{n}}{n^2} \leq \frac{\sqrt{n} + \sqrt{n} + \cdots + \sqrt{n}}{n^2} = \frac{n\sqrt{n}}{n^2} = \frac{1}{\sqrt{n}} \rightarrow 0.$$

**2.120.** Mivel valahonnan kezdve  $2^n < \frac{1}{2}3^n$ , ezért

$$\frac{3}{\sqrt[n]{2}} = \sqrt[n]{3^n - \frac{1}{2}3^n} < \sqrt[n]{3^n - 2^n} < \sqrt[n]{3^n} = 3,$$

ha  $n$  elég nagy. Az egyenlőtlenség baloldala  $\frac{3}{\sqrt[n]{2}} \rightarrow 3$ , és ezért a **rendőr-szabály** szerint

$$\sqrt[n]{3^n - 2^n} \rightarrow 3.$$

**2.125.** Hozzuk egyszerűbb alakra a sorozat tagjait:

$$\begin{aligned} a_n &= \frac{1 - 2 + 3 - \dots - 2n}{\sqrt{n^2 + 1}} = \frac{(1 - 2) + (3 - 4) + \dots + (2n - 1 - 2n)}{\sqrt{n^2 + 1}} = \\ &= -\frac{n}{\sqrt{n^2 + 1}} \end{aligned}$$

Végig osztva a számlálót és a nevezőt a nevező nagyságrendjével,  $n$ -nel, kapjuk, hogy

$$a_n = -\frac{n}{\sqrt{n^2 + 1}} = -\frac{1}{\sqrt{1 + \frac{1}{n^2}}} \rightarrow -1.$$

**2.131.** A 2.181. feladat szerint  $\left(1 + \frac{1}{n}\right)^n$  monoton növekvő sorozat, és ezért

$$\left(1 + \frac{1}{n}\right)^n \geq 2.$$

$$a_n = \left(1 + \frac{1}{n}\right)^{n^2} = \left[\left(1 + \frac{1}{n}\right)^n\right]^n \geq 2^n \rightarrow \infty.$$

**2.140.** Ennél a törtnél a nevező „nagyságrendje”  $7^n$ , de a váltakozó előjel problémát okoz. Megmutatjuk, hogy  $a_n = \frac{2^n + 3^n}{4^n + (-7)^n} \rightarrow 0$ . Ehhez elég azt megmutatni, hogy  $|a_n| \rightarrow 0$ .

$$|a_n| = \left| \frac{2^n + 3^n}{4^n + (-7)^n} \right| \leq \frac{2^n + 3^n}{7^n - 4^n} = \frac{\left(\frac{2}{7}\right)^n + \left(\frac{3}{7}\right)^n}{1 - \left(\frac{4}{7}\right)^n} \rightarrow 0.$$

**2.146.**  $\mathbf{P} \Rightarrow \mathbf{Q}$ : legyen

$$a_n = \begin{cases} 1 & \text{ha } n \text{ páros} \\ 1/n & \text{ha } n \text{ páratlan} \end{cases}, \quad b_n = \begin{cases} 1/n & \text{ha } n \text{ páros} \\ 1 & \text{ha } n \text{ páratlan} \end{cases}$$

$$\mathbf{Q} \Rightarrow \mathbf{P}: \text{ legyen } a_n = \frac{1}{n}, \quad b_n = n$$

Megjegyzés: Ha az egyik sorozat 0-hoz tart, a másik pedig korlátos, akkor igaz, hogy  $a_n \cdot b_n$  tart 0-hoz.

- 2.152.**
- (a)  $\frac{a_n}{b_n}$  konvergens és  $\lim_{n \rightarrow \infty} \frac{a_n}{b_n} > 0$ :  $a_n = n, \quad b_n = n + 1.$
- (b)  $\frac{a_n}{b_n}$  konvergens és  $\lim_{n \rightarrow \infty} \frac{a_n}{b_n} = 0$ :  $a_n = n, \quad b_n = n^2.$
- (c)  $\frac{a_n}{b_n}$  divergens és  $\lim_{n \rightarrow \infty} \frac{a_n}{b_n} = \infty$ :  $a_n = n^2, \quad b_n = n.$
- (d)  $\frac{a_n}{b_n}$  oszcillálva divergens: 
$$a_n = \begin{cases} n & \text{ha } n \text{ páros} \\ n^2 & \text{ha } n \text{ páratlan} \end{cases},$$
  

$$b_n = \begin{cases} n^2 & \text{ha } n \text{ páros} \\ n & \text{ha } n \text{ páratlan} \end{cases}.$$

**2.155.**  $P \not\Rightarrow Q$ : legyen például  $a_n = n + 1, \quad b_n = n.$

$Q \Rightarrow P$ : Mivel  $b_n \rightarrow \infty$  ezért  $\frac{1}{b_n} \rightarrow 0$  és így  $\frac{a_n - b_n}{b_n} = \frac{a_n}{b_n} - 1 \rightarrow 0.$

## 2.3 Monoton sorozatok

- 2.159.**
- Két pozitív tagú monoton növä/csökkenő sorozat szorzata monoton nö/csökken.
  - Két negatív tagú monoton növä/csökkenő sorozat szorzata monoton csökken/nö.
  - Egy pozitív tagú monoton növä és egy negatív tagú monoton csökkenő sorozat szorzata monoton csökken.
  - Egy pozitív tagú monoton csökkenő és egy negatív tagú monoton növä sorozat szorzata monoton nö.

Más esetekben nem állíthatjuk biztosan, hogy a szorzat monoton.

**2.164.** Teljes indukcióval könnyen bizonyítható, hogy  $a_n > a_1 \cdot (1, 1)^{n-1}$ . Elég tehát találnunk egy olyan  $n$ -et, amelyre  $1, 1^{n-1} > \frac{10^6}{a_1}$ . A Bernoulli-egyenlőtlenség szerint

$$1, 1^{n-1} = (1 + 0, 1)^{n-1} \geq 1 + (n-1) \cdot 0, 1 > (n-1) \cdot 0, 1 > \frac{10^6}{a_1}.$$

Ez biztosan teljesül, ha  $n-1 > \frac{10^7}{a_1}$ , azaz ha  $n > \frac{10^7}{a_1} + 1.$

**2.168.** Első lépésként belátjuk, hogy a sorozat minden tagja pozitív, de ez teljes indukcióval nyilvánvaló. Most már jobb alsó becslést is mondhatunk a sorozat tagjaira: a (két tagú) számtani és mértani közepek közötti egyenlőtlenség szerint

$$a_{n+1} = \frac{1}{2} \left( a_n + \frac{a}{a_n} \right) \geq \sqrt{a_n \cdot \frac{a}{a_n}} = \sqrt{a}.$$

Belátjuk, hogy  $n = 2$ -től kezdve az  $(a_n)$  sorozat monoton csökken. Felhasználva, hogy  $a_n > 0$

$$\frac{1}{2} \left( a_n + \frac{a}{a_n} \right) \leq a_n \iff a_n^2 + a \leq 2a_n^2 \iff a_n^2 \geq a \iff a_n \geq \sqrt{a}.$$

De az előbb már beláttuk, hogy minden  $n \geq 2$  esetén  $a_n \geq \sqrt{a}$ , tehát a sorozat monoton csökken és (alulról) korlátos, de akkor konvergens. Legyen  $\lim_{n \rightarrow \infty} a_n = b$ , és persze  $b \geq \sqrt{a}$ . De akkor  $\lim_{n \rightarrow \infty} a_{n+1} = b$  is igaz. Másrészt

$$a_{n+1} = \frac{1}{2} \left( a_n + \frac{a}{a_n} \right) \rightarrow \frac{1}{2} \left( b + \frac{a}{b} \right).$$

Tehát

$$\frac{1}{2} \left( b + \frac{a}{b} \right) = b \iff b = \sqrt{a}.$$

**2.173.** A rekurzív képletből könnyű kiolvasni, hogy  $a_n \geq 0$  (sőt azt is, hogy  $a_n \geq \sqrt{2}$ , ha  $n > 1$ ). Másrészt teljes indukcióval bizonyítjuk, hogy  $a_n < 2$ .

$n = 1$  re ez igaz. Tegyük fel, hogy  $n$ -re igaz, hogy  $a_n < 2$ .

$$a_{n+1} = \sqrt{2 + a_n} < \sqrt{2 + 2} = 2.$$

Megmutatjuk, hogy a sorozat monoton nő. Oldjuk meg a  $\sqrt{2+x} \geq x$  egyenlőtlenséget a nemnegatív számok körében:

$$\sqrt{2+x} \geq x \iff 2+x \geq x^2 \iff x^2 - x - 2 \leq 0 \iff 0 \leq x \leq 2.$$

Mivel már beláttuk, hogy  $0 \leq a_n < 2$ , ezért  $x$  helyébe írhatunk  $a_n$ -et, és így  $a_{n+1} \geq a_n$ . Tehát  $(a_n)$  monoton nő és (felülről) korlátos, ezért konvergens. Legyen  $a = \lim_{n \rightarrow \infty} a_n$ . Mivel a sorozat tagjai nemnegatívak, ezért  $a \geq 0$ . A határérték műveleti szabályai és a rekurzív képlet miatt

$$a = \sqrt{2+a} \iff a = 2.$$

**2.180.**  $a_1 > 0$  és ha  $a_n > 0$ , akkor  $a_{n+1} = a_n + \frac{1}{a_n^3 + 1} > 0$ , ezért minden  $n$ -re  $a_n > 1$ . A rekurzív képlet szerint

$$a_{n+1} - a_n = \frac{1}{a_n^3 + 1} > 0,$$

tehát a sorozat (szigorúan) monoton nő. Indirekt módon megmutatjuk, hogy a sorozat nem konvergens és ezért nem is korlátos. Ha  $\lim_{n \rightarrow \infty} a_n = a$ , akkor  $a \geq 0$ , mert  $a_n \geq 0$ , és ezért  $a^3 + 1 \neq 0$ .

$$a = a + \frac{1}{a^3 + 1}.$$

De ennek az egyenletnek nincs megoldása! Tehát  $(a_n)$  monoton nő és nem korlátos, ezért  $a_n \rightarrow \infty$ .

**2.181.** Megmutatjuk, hogy a sorozat szigorúan monoton nő. Felhasználva az  $n + 1$  tagú számtani és mértani közepek egyenlőtlenségét

$$\left(1 + \frac{1}{n}\right)^n = 1 \cdot \left(1 + \frac{1}{n}\right)^n < \left(\frac{1 + n \cdot \left(1 + \frac{1}{n}\right)}{n + 1}\right)^{n+1} = \left(1 + \frac{1}{n+1}\right)^{n+1}.$$

Most belátjuk, hogy

$$\left(1 + \frac{1}{n}\right)^n < 4 \iff \frac{1}{4} \left(1 + \frac{1}{n}\right)^n < 1.$$

Most  $n + 2$  tagra használva a számtani és mértani közepek egyenlőtlenségét

$$\frac{1}{4} \left(1 + \frac{1}{n}\right)^n = \frac{1}{2} \cdot \frac{1}{2} \left(1 + \frac{1}{n}\right)^n < \left(\frac{\frac{1}{2} + \frac{1}{2} + n \cdot \left(1 + \frac{1}{n}\right)}{n + 2}\right)^{n+2} = 1.$$

Tehát az  $\left(1 + \frac{1}{n}\right)^n$  sorozat konvergens. A sorozat határértékét **Euler-konstansnak** nevezzük és  $e$ -vel jelöljük. Belátható, hogy  $2 < e < 3$ ,  $e$  irracionális (sőt transzcendens) és  $e = 2,71\dots$

## 2.4 A Bolzano-Weierstrass-tétel és a Cauchy-kritérium

**2.186.**  $\mathbf{P} \not\Rightarrow \mathbf{Q}$ : legyen  $a_n = (-1)^n$   
 $\mathbf{Q} \Rightarrow \mathbf{P}$ : Ha  $(a_n)$  konvergens, akkor minden részsorozata is konvergens (és ugyanoda tart).

**2.189.** Ez a feltétel nem elég (viszont szükséges) a konvergenciához. Ha például  $a_n = \sqrt{n}$ , akkor  $\sqrt{n+1} - \sqrt{n} \rightarrow 0$  de  $\sqrt{n} \rightarrow \infty$ .

**2.195.** Az  $(a_n)$  sorozatnak pontosan akkor nincs konvergens részsorozata a Bolzano-Weierstrass-tétel szerint, ha nincs korlátos részsorozata.

Ez akkor igaz, ha minden  $K > 0$  valós számra csak véges sok tagja van a sorozatnak a  $[-K, K]$  intervallumban, azaz véges sok  $n$  kivételével  $|a_n| > K$ .

Ez pedig éppen azt jelenti, hogy  $|a_n| \rightarrow \infty$ .

**2.198.** Belátjuk, hogy a sorozatra teljesül a Cauchy-kritérium. Legyen  $\varepsilon > 0$  tetszőleges, továbbá  $n < m$ .

$$\begin{aligned} |a_n - a_m| &= |(a_{n+1} - a_n) + (a_{n+2} - a_{n+1}) + \cdots + (a_m - a_{m-1})| \leq \\ &\leq |a_{n+1} - a_n| + |a_{n+2} - a_{n+1}| + \cdots + |a_m - a_{m-1}| \leq \\ &\leq 2^{-n} + 2^{-(n+1)} + \cdots + 2^{-(m-1)} = \\ &= 2^{-n} \cdot 2 \cdot (1 - 2^{-(m-n)}) < 2^{-(n-1)}. \end{aligned}$$

Mivel  $2^{-(n-1)} \rightarrow 0$ , ezért valahonnan kezdve

$$|a_n - a_m| < 2^{-(n-1)} < \varepsilon.$$

## 2.5 Sorozatok nagyságrendje

**2.203.**

$$n^n \sim n! + n^n, \quad \sqrt{n} \sim \sqrt{n+1}.$$

Más aszimptotikusan egyenlő pár nincs a sorozatok között. Habár  $\frac{\sqrt[n]{2}}{\sqrt[n]{n}} \rightarrow 1$ , de ezek a sorozatok nem tartanak  $\infty$ -hez.

**2.210.**

$$\frac{3,01^n}{2^n + 3^n} = \frac{\left(\frac{3,1}{3}\right)^n}{\left(\frac{2}{3}\right)^n + 1}.$$

Itt a számláló  $\infty$ -hez tart, mert  $\frac{3,1}{3} > 1$ , a nevező pedig 1-hez, mert  $\frac{2}{3} < 1$ . Tehát

$$\lim_{n \rightarrow \infty} \frac{3,01^n}{2^n + 3^n} = \infty.$$

**2.216.**

A nevező nagyságrendje  $2^n$ .

$$\frac{n! - 3^n}{n^{10} - 2^n} = \frac{\frac{n!}{2^n} - \left(\frac{3}{2}\right)^n}{\frac{n^{10}}{2^n} - 1}.$$

Mivel  $\frac{n^{10}}{2^n} \rightarrow 0$ , ezért a nevező  $-1$ -hez tart. Viszont a számláló még mindig kritikus, két végtelenhez tartó sorozat különbsége. Felhasználva, hogy  $n! > \left(\frac{n}{4}\right)^n$ ,

$$\begin{aligned} \frac{n!}{2^n} - \left(\frac{3}{2}\right)^n &> \left(\frac{n}{8}\right)^n - \left(\frac{3}{2}\right)^n > \left(\frac{24}{8}\right)^n - \left(\frac{3}{2}\right)^n > \\ &> 2 \cdot \left(\frac{3}{2}\right)^n - \left(\frac{3}{2}\right)^n = \left(\frac{3}{2}\right)^n, \end{aligned}$$

ha  $n \geq 24$ . Így tehát a számláló  $\infty$ -hez tart és

$$\frac{n! - 3^n}{n^{10} - 2^n} \rightarrow -\infty.$$

## 2.6 Vegyes feladatok

**2.222.**

A sorozat nem áll elő az  $(1/n)$  sorozat **véges sok** tagú összegeként, hiszen az  $a_n$ -ben szereplő összeg tagjainak a száma tart végtelenhez. Tehát az első okoskodás a hibás.

**2.225.**  $a_n \rightarrow 0$ .

Ugyanis van olyan  $N$  küszöbindex, hogy  $n > N$  esetén

$$0 < \sqrt[n]{a_n} < \frac{2}{3} \iff 0 < a_n < \left(\frac{2}{3}\right)^n$$

Mivel  $\left(\frac{2}{3}\right)^n \rightarrow 0$ , ezért a rendőr-szabály szerint  $a_n \rightarrow 0$ .

**2.228.**  $a_n^n \rightarrow 0$ .

Ugyanis van olyan  $N$  küszöbindex, hogy  $n > N$  esetén

$$0 < a_n < \frac{2}{3}, \iff 0 < a_n^n < \left(\frac{2}{3}\right)^n$$

Mivel  $\left(\frac{2}{3}\right)^n \rightarrow 0$ , ezért a rendőr-szabály szerint  $a_n^n \rightarrow 0$ .

**2.232.** Legyen például  $a_n = \frac{1}{n}$ .



## Valós függvények határértéke, folytonossága

### 3.1 Függvények globális tulajdonságai

**3.3.** Igen, függvény. A neve **Dirichlet-függvény**.

**3.8.**  $-\infty < x < 0$ .

**3.11.** Írjuk fel a függvények értelmezési tartományát és a függvény formulát egyszerűbb alakban:

$$\text{(a)} \quad f_1(x) = x, \quad D_{f_1} = (-\infty, \infty) \qquad \text{(b)} \quad f_2(x) = \sqrt{x^2} = |x|, \quad D_{f_2} = (-\infty, \infty)$$

$$\text{(c)} \quad f_3(x) = (\sqrt{x})^2 = x, \quad D_{f_3} = [0, \infty) \qquad \text{(d)} \quad f_4(x) = \ln e^x = x, \quad D_{f_4} = (-\infty, \infty)$$

$$\text{(e)} \quad f_5(x) = e^{\ln x} = x, \quad D_{f_5} = (0, \infty) \qquad \text{(f)} \quad f_6(x) = (\sqrt{-x})^2 = -x, \quad D_{f_6} = (-\infty, 0]$$

Mivel két függvény pontosan akkor egyezik meg, ha megegyezik az értelmezési tartományuk és minden helyen ugyanazt az értéket veszik fel, ezért csak az  $f_1$  és az  $f_4$  függvények egyeznek meg egymással.

**3.14.** Páratlan.

**3.19.** Páros.

**3.22.** Páros is és páratlan is.

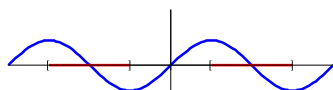
**3.25.** Se nem páros, se nem páratlan.

**3.28.** Igaz.

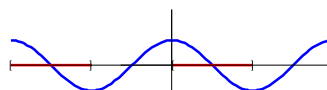
**3.29.** Nem igaz, például  $f(x) = \begin{cases} x & \text{ha } x \neq -5 \\ 5 & \text{ha } x = -5 \end{cases}$

**3.34.** A  $\text{ctg } x$  és az  $\frac{1}{x}$  függvény az egész értelmezési tartományán (szigorúan) csökken, a többinek vannak monoton növekvő szakaszai.

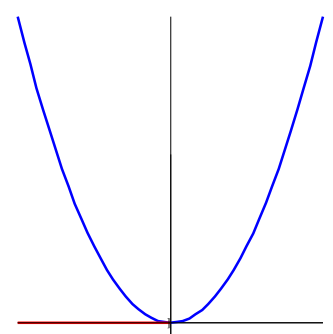
(a)



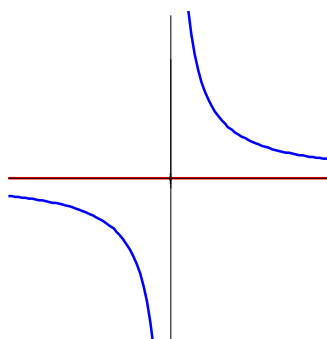
(b)



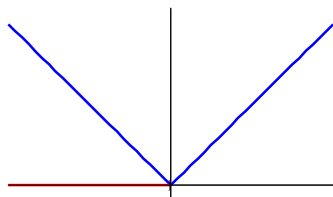
(c)



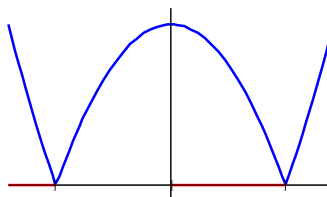
(d)



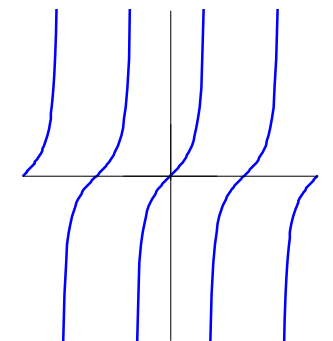
(e)



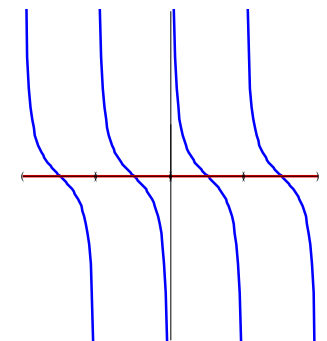
(f)



(g)



(h)



**3.38.**

Igaz. Két szigorúan monoton csökkenő (növvő) függvény összege szigorúan monoton csökken (nő).

**3.39.** Általában nem igaz, például ha  $f(x) = g(x) = -x$ , akkor  $f(x) \cdot g(x) = x^2$  nem (mindenütt) csökken.

Ha viszont mindkét függvény pozitív és szigorúan monoton csökken (nő), akkor a szorzatuk is szigorúan monoton csökken (nő).

**3.43.** Alulról korlátos, legnagyobb alsó korlát a 0. Felülről nem korlátos.

**3.47.** Alulról korlátos, legnagyobb alsó korlát a 0. Felülről is korlátos, legkisebb felső korlát az 1.

**3.51.**  $\forall x \in \mathbb{R} (f(x) \leq f(3))$ . Például  $f(x) = -(x-3)^2$ .

**3.54.**  $\forall x \in \mathbb{R} \exists y \in \mathbb{R} (f(y) < f(x))$ . Például  $f(x) = x$ .

**3.57.**  $m = 0$ ,  $M$  nem létezik. **3.60.**  $m = -1$ ,  $M = 1$ .

**3.63.**  $m = -1$ ,  $M = 0$ . **3.66.** Például  $\arctg x$ .

**3.68.** Például  $f(x) = \begin{cases} x & \text{ha } -1 < x < 1 \\ 0 & \text{ha } x = -1 \text{ vagy } x = 1 \end{cases}$

**3.74.**  $2\pi$  **3.76.**  $4\pi$

**3.78.**  $2\pi$  **3.79.**  $2\pi$

**3.82.** A Dirichlet-függvénynek minden nem nulla racionális szám periódusa, ezért nincs legkisebb periódusa.

**3.86.** A  $\sqrt{x}$  függvény (szigorúan) konkáv a  $(0, \infty)$  félegyenesen. Elég belátni, hogy minden  $0 < a < x < b$  esetén

$$\sqrt{x} > \frac{\sqrt{b} - \sqrt{a}}{b - a}(x - a) + \sqrt{a}$$

azaz

$$\frac{\sqrt{x} - \sqrt{a}}{x - a} > \frac{\sqrt{b} - \sqrt{a}}{b - a}.$$

Átalakítás után

$$\frac{1}{\sqrt{x} + \sqrt{a}} > \frac{1}{\sqrt{b} + \sqrt{a}} \iff \sqrt{b} + \sqrt{a} > \sqrt{x} + \sqrt{a} \iff \sqrt{b} > \sqrt{x}.$$

Mivel a feltevés szerint  $0 < x < b$ , ezért az utolsó egyenlőtlenség igaz.

**3.92.**  $\mathbf{P} \not\Rightarrow \mathbf{Q}$ : Például  $f(x) = \sin \pi x$

$\mathbf{Q} \Rightarrow \mathbf{P}$ : Ha az  $f(x)$  függvény konvex  $(-1, 3)$ -on, akkor minden  $-1 < a < b < 3$  és  $0 < t < 1$  esetén

$$f(ta + (1-t)b) \leq tf(a) + (1-t)f(b).$$

Az  $a = 0$ ,  $b = 2$ ,  $t = \frac{1}{2}$  választással épp a  $\mathbf{P}$ -ben szereplő egyenlőtlenséget kapjuk.

**3.96.** A húr egyenlete

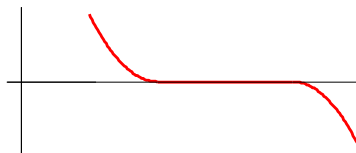
$$h(x) = \frac{\log_7 4 - \log_7 2}{4 - 2}(x - 2) + \log_7 2 = \frac{\log_7 2}{2}x.$$

Írjunk  $x$  helyébe 3-at. Mivel  $\log_7 x$  konkáv, ezért

$$\log_7 3 \geq h(3) = \frac{3 \log_7 2}{2} = \frac{\log_7 8}{2} = \frac{\log_7 2 + \log_7 4}{2}.$$

**3.100.** Mivel a függvény a  $[2, 4]$  intervallumon egyszerre konvex és konkáv, ezért itt csak lineáris kifejezés lehet. Legyen például

$$f(x) = \begin{cases} (x-2)^2 & \text{ha } 1 \leq x \leq 2 \\ 0 & \text{ha } 2 < x \leq 4 \\ -(x-4)^2 & \text{ha } 4 < x \leq 5 \end{cases}$$



**3.112.** Az  $x$ ,  $x^3$ ,  $\sqrt[3]{x}$  és az  $f(x) = \begin{cases} 1/x & \text{ha } x \neq 0 \\ 0 & \text{ha } x = 0 \end{cases}$  függvények bijekciók, a többi nem az.

**3.114.**  $f(x) = x^2$  invertálható  $[0, \infty)$ -en, itt  $f^{-1}(x) = \sqrt{x}$  és  $(-\infty, 0]$ -n, itt  $f^{-1}(x) = \sqrt{-x}$ .

**3.116.**  $f(x) = \sin x$  tetszőleges  $n \in \mathbb{Z}$  esetén invertálható a  $[-\pi/2 + n\pi, \pi/2 + n\pi]$  intervallumon. Az inverz függvény minden esetben a  $[-1, 1]$  zárt

intervallumon van értelmezve. Ha  $\arcsin x$  jelöli a  $\sin x$  inverzét a  $[-\pi/2, \pi/2]$  intervallumon, akkor a  $[-\pi/2 + n\pi, \pi/2 + n\pi]$  intervallumon

$$f^{-1}(x) = \begin{cases} n\pi + \arcsin x & \text{ha } n \text{ páros} \\ n\pi - \arcsin x & \text{ha } n \text{ páratlan} \end{cases}$$

vagy másképp felírva

$$f^{-1}(x) = n\pi + (-1)^n \arcsin x.$$

**3.122.** (a) Van ilyen, de csak egy, az azonosan nulla függvény.

Az, hogy egy függvény grafikonja szimmetrikus az  $x$  tengelyre, pontosan akkor teljesül, ha minden  $x \in D_f$  esetén  $f(x) = -f(x)$ .

(b) Van, például az  $f(x) = x^2$  függvény.

Az, hogy egy függvény grafikonja szimmetrikus az  $y$  tengelyre, pontosan akkor teljesül, ha minden  $x \in D_f$  esetén  $f(-x) = f(x)$ , azaz a függvény páros.

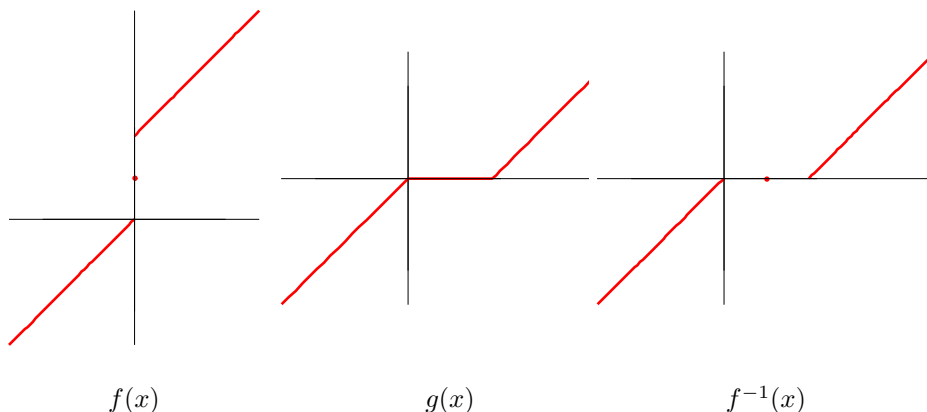
**3.125.** Belátjuk, hogy az  $f(x)$  függvénynek a 4 periódusa. Előbb fejezzük ki  $f(x+2)$ -t  $f(x)$  segítségével:

$$f(x+2) = \frac{1+f(x+1)}{1-f(x+1)} = \frac{1+\frac{1+f(x)}{1-f(x)}}{1-\frac{1+f(x)}{1-f(x)}} = -\frac{1}{f(x)}.$$

Mivel ez minden  $x$ -re igaz,

$$f(x+4) = -\frac{1}{f(x+2)} = -\frac{1}{-\frac{1}{f(x)}} = f(x).$$

**3.128.** A  $h = g \circ f$  függvény mindenütt értelmezve van és  $h(x) = g(f(x)) = x$ . A  $g(x)$  függvény mégsem az  $f$  függvény inverze, mert értelmezési tartománya bővebb mint  $f$  értékkészlete.



### 3.2 A határérték

**3.130.**

(a)  $\lim_{x \rightarrow -2} f(x) = 0$       (b)  $\lim_{x \rightarrow -1} f(x) = -1$       (c)  $\lim_{x \rightarrow 0} f(x)$  nem létezik.

**3.133.**

Igazak: (b), (d), (e), (f).

Hamisak: (a), (c), (g), (h), (i), (j), (k), (l).

**3.136.**

$$\lim_{x \rightarrow 3} 5x = 5 \cdot \lim_{x \rightarrow 3} x = 5 \cdot 3 = 15$$

**3.139.**

$$\lim_{x \rightarrow 1} \frac{-2}{7x-3} = \frac{-2}{7 \cdot 1 - 3} = -\frac{1}{2}$$

**3.142.**

$$\lim_{x \rightarrow \pi/2} x \sin x = \frac{\pi}{2} \sin \frac{\pi}{2} = \frac{\pi}{2}$$

**3.148.**

$$\frac{t^2 + t - 2}{t^2 - 1} = \frac{(t-1)(t+2)}{(t-1)(t+1)} = \frac{t+2}{t+1} \xrightarrow{t \rightarrow 1} = \frac{3}{2}$$

**3.149.**

$$\frac{t^2 + 3t + 2}{t^2 - t - 2} = \frac{(t+1)(t+2)}{(t+1)(t-2)} = \frac{t+2}{t-2} \xrightarrow{t \rightarrow -1} = -\frac{1}{3}$$

**3.154.**

Bővítsük a törtet  $\sqrt{x} + 1$ -gyel (a számláló „gyöktelenítése”).

$$\frac{\sqrt{x} - 1}{x - 1} = \frac{(\sqrt{x} - 1)(\sqrt{x} + 1)}{(x - 1)(\sqrt{x} + 1)} = \frac{x - 1}{(x - 1)(\sqrt{x} + 1)} = \frac{1}{\sqrt{x} + 1} \xrightarrow{x \rightarrow 1} \frac{1}{2}$$

**3.155.** A  $t = 1 + x^2$  helyettesítést elvégezve és az előző feladat eredményét felhasználva:

$$\lim_{x \rightarrow 0} \frac{\sqrt{1+x^2} - 1}{x^2} = \lim_{t \rightarrow 1} \frac{\sqrt{t} - 1}{t - 1} = \frac{1}{2}$$

Helyettesítés nélkül, „gyöktelenítéssel”:

$$\begin{aligned} \frac{\sqrt{1+x^2} - 1}{x^2} &= \frac{\sqrt{1+x^2} - 1}{x^2} \cdot \frac{\sqrt{1+x^2} + 1}{\sqrt{1+x^2} + 1} = \frac{x^2}{x^2(\sqrt{1+x^2} + 1)} = \\ &= \frac{1}{\sqrt{1+x^2} + 1} \xrightarrow{x \rightarrow 0} \frac{1}{2} \end{aligned}$$

**3.156.** Mivel a  $\sin x$  páratlan függvény, ezért elég a „jobboldali” határértéket kiszámolni. Ha  $0 < x < \frac{\pi}{2}$ , akkor

$$0 < \sin x < x < \operatorname{tg} x$$

Osszuk el az egyenlőtlenségeket a pozitív  $\sin x$ -szel:

$$1 < \frac{x}{\sin x} < \frac{1}{\cos x}$$

Mivel a szereplő kifejezések mind pozitívak, vehetjük az egyenlőtlenségek reciprokait:

$$\cos x < \frac{\sin x}{x} < 1$$

Tudjuk, hogy  $\lim_{x \rightarrow 0} \cos x = 1$ , mert a  $\cos x$  függvény folytonos a 0-ban. Ezért alkalmazható a rendőr-szabály:

$$\lim_{x \rightarrow 0} \frac{\sin x}{x} = 1.$$

**3.157.** Bővítsük a törtet  $1 + \cos x$ -szel:

$$\frac{1 - \cos x}{x^2} = \frac{(1 - \cos x)(1 + \cos x)}{x^2(1 + \cos x)} = \frac{\sin^2 x}{x^2} \cdot \frac{1}{1 + \cos x} \rightarrow \frac{1}{2}$$

**3.162.**  $\frac{\operatorname{tg} 2x}{x} = \frac{\operatorname{tg} 2x}{2x} \cdot 2 = \frac{\sin 2x}{2x} \cdot \frac{2}{\cos 2x} = \frac{\sin t}{t} \cdot \frac{2}{\cos t} \xrightarrow{t \rightarrow 0} 2.$

Itt felhasználtuk, hogy  $t = 2x \rightarrow 0$  ha  $x \rightarrow 0$ .



**3.167.** Osszuk el a számlálót és a nevezőt a nevező nagyságrendjével,  $x$ -szel. Ezzel megszüntetjük a határérték „kritikusságát”, a  $\frac{\infty}{\infty}$  esetet. Ha  $x > 0$ , akkor

$$\frac{2x^2 - 7x + 1}{\sqrt{x^2 + 1} + 1} = \frac{2x - 7 + \frac{1}{x}}{\sqrt{1 + \frac{1}{x^2}} + \frac{1}{x}} \rightarrow \infty, \text{ ha } x \rightarrow \infty.$$

A  $-\infty$ -ben ugyanezt a határértéket kapjuk, ha negatív  $x$  esetén „nagy-ságrendnek” a  $|x|$ -szet választjuk.

**3.172.** 
$$\frac{2\sqrt{x} + x^{-1}}{3x - 7} = \frac{2\frac{\sqrt{x}}{x} + \frac{1}{x^2}}{3 - \frac{7}{x}} \rightarrow \frac{0 + 0}{3 - 0} = 0$$

**3.176.** 
$$\frac{2x^2 - 7x + 1}{\sqrt{x^4 + 1} + 1} = \frac{2 - \frac{7}{x} + \frac{1}{x^2}}{\sqrt{1 + \frac{1}{x^4}} + \frac{1}{x^2}} \rightarrow 2$$

**3.180.** 
$$\lim_{x \rightarrow 2^-} \frac{3}{x - 2} = \frac{3}{0^-} = -\infty, \quad \lim_{x \rightarrow 2^+} \frac{3}{x - 2} = \infty.$$

**3.184.** 
$$\lim_{x \rightarrow 7^+} \frac{4}{(x - 7)^2} = \lim_{x \rightarrow 7^-} \frac{4}{(x - 7)^2} = \infty$$

**3.190.** Legyen  $a = \sqrt[k]{e} > 1$ .

$$\frac{x^k}{e^x} = \left(\frac{x}{a^x}\right)^k \rightarrow 0.$$

Ez az eredmény általánosabban azt jelenti, hogy az exponenciális függvény minden polinomnál gyorsabban tart a végtelenbe.

**3.191.** Vezessük be a  $t = \ln x$  helyettesítést. Ekkor

$$\sqrt[k]{x} = \sqrt[k]{e^t} = (\sqrt[k]{e})^t = a^t,$$

és ezért

$$\lim_{x \rightarrow \infty} \frac{\ln x}{\sqrt[k]{x}} = \lim_{t \rightarrow \infty} \frac{t}{a^t} = 0.$$

Eszerint tehát a logaritmus-függvény minden gyökös kifejezésnél lassabban tart a végtelenbe.



**3.196.** Legyen például

$$f(x) = \begin{cases} x^2 & \text{ha } x \in \mathbb{Q} \\ 1 & \text{ha } x \notin \mathbb{Q} \end{cases}$$

Ennek a függvénynek az  $x = -1$ -ben és az  $x = 1$ -ben van határértéke, de másutt nincs.

**3.198.** Legyen  $p > 0$  egy (pozitív) periódus,  $a$  és  $b$  pedig két olyan valós szám, amelyre  $f(a) \neq f(b)$ . Ekkor

$$x_n = a + n \cdot p \rightarrow \infty, f(a) = f(x_n) \rightarrow f(a),$$

$$y_n = b + n \cdot p \rightarrow \infty, f(b) = f(y_n) \rightarrow f(b).$$

Az átviteli elv szerint  $\lim_{x \rightarrow \infty} f(x)$  nem létezik.

**3.203.**  $\mathbf{P} \implies \mathbf{Q}$ : A szorzási szabály szerint

$$\lim_{x \rightarrow \infty} f^2(x) = \left( \lim_{x \rightarrow \infty} f(x) \right) \cdot \left( \lim_{x \rightarrow \infty} f(x) \right) = 5 \cdot 5 = 25.$$

$\mathbf{Q} \not\Rightarrow \mathbf{P}$ : Legyen például  $f(x) = -5$ .

**3.206.** (a)  $a_n = \sin(n\pi) = 0 \rightarrow 0$ .

(b) Az  $f(x) = \sin x$  függvény nem konstans periodikus függvény, ezért nincs határértéke a végtelenben (lásd a 3.198. feladatot).

(c)  $a_n = \left[ \frac{1}{n} \right] = 0$ , ha  $n > 1$ , ezért  $a_n \rightarrow 0$ .

(d) Mivel  $\lim_{x \rightarrow 0^+} [x] = 0 \neq -1 = \lim_{x \rightarrow 0^-} [x]$ , ezért az  $f(x) = [x]$  ( $x$  egész-része) függvénynek nincs határértéke a 0-ban.

**3.208.**  $\mathbf{P} \not\Rightarrow \mathbf{Q}$ : Legyen például  $f(x) = \begin{cases} 5 & \text{ha valamely } n\text{-re } x = 1/n \\ 0 & \text{különben} \end{cases}$ .

Ennek a függvénynek nincs határértéke 0-ban, de  $f\left(\frac{1}{n}\right) = 5 \rightarrow 5$ .

$\mathbf{Q} \implies \mathbf{P}$ : Az átviteli elv szerint, mivel  $\frac{1}{n} \rightarrow 0$  és  $\lim_{x \rightarrow 0} f(x) = 5$ , ezért  $f\left(\frac{1}{n}\right) \rightarrow 5$ .

**3.212.**  $P \implies Q$ : Az átviteli elv szerint ez tetszőleges függvény esetén is igaz.  $Q \implies P$ ? Ha az  $f$  függvény monoton ((c) eset), akkor van (véges vagy végtelen) határértéke a végtelenben és akkor az átviteli elv miatt ez csak 0 lehet. A többi esetben nem igaz a következtetés: legyen  $f(x) = \sin(\pi x)$ . Ez egy folytonos és korlátos (nem konstans) periodikus függvény és nincs határértéke a végtelenben. De minden  $n$ -re  $f(n) = 0$ .

### 3.3 Folytonos függvények

**3.216.** (a) Ez a függvény a  $D(x)$  Dirichlet-függvény, sehol sem folytonos, sőt határértéke sincs. Ugyanis tetszőleges  $a \in \mathbb{R}$  esetén van olyan  $x_n \in \mathbb{Q}$  és  $y_n \notin \mathbb{Q}$  sorozat, amelyre  $a \neq x_n$ ,  $a \neq y_n$ ,  $x_n \rightarrow a$  és  $y_n \rightarrow a$ . De így  $D(x_n) \rightarrow 1$  és  $D(y_n) \rightarrow 0$ . Az átviteli elv miatt ezért  $a$ -ban nincs határértéke a  $D(x)$  függvénynek.

(b)  $f(x)$  folytonos a 0-ban (de másutt nem). Legyen ugyanis  $\varepsilon > 0$  tetszőleges.  $\delta = \varepsilon$ .

$$\text{Ha } |x - 0| = |x| < \delta, \text{ akkor } |f(x) - f(0)| = |f(x)| = |x| < \varepsilon = \delta.$$

**3.221.** (a) A  $h = f + g$  függvény nem folytonos 3-ban. Indirekt módon, ha az lenne, akkor a műveleti szabályok miatt a  $g = h - f$  is folytonos lenne.

(b)  $f \cdot g$  lehet folytonos 3-ban, de csak úgy, ha  $f(3) = 0$ . Legyen például  $f(x) = 0$  és  $g(x) = D(x)$  a Dirichlet-függvény.

**3.224.** Az  $\frac{x^2 - 4}{x + 2}$  függvény az  $x = -2$  kivételével mindenütt folytonos. Az  $x = -2$ -ben megszüntethető szakadása van,  $\lim_{x \rightarrow -2} \frac{x^2 - 4}{x + 2} = -4$ .

**3.226.** Az  $\sqrt{x}$  függvény folytonos, ha  $x > 0$ . A 0-ban jobbról folytonos.

**3.229.** Az  $f(x) = \begin{cases} x^2 + 2 & \text{ha } x \geq 0 \\ mx + c & \text{ha } x < 0 \end{cases}$  függvény pontosan akkor folytonos a 0-ban, ha balról is és jobbról is folytonos. Az  $f(x)$  „jobbról”, azaz  $x \geq 0$  esetén megegyezik az  $x^2 + 2$  függvénnyel, amelyik mindenütt, tehát 0-ban is folytonos.

Az  $f(x)$  függvény  $x < 0$  esetén megegyezik az  $mx + c$  függvénnyel, amelynek „baloldali” határértéke 0-ban  $c$ . Ezért tehát az  $f$  függvény pontosan akkor folytonos 0-ban, ha

$$2 = f(0) = c.$$

**3.230.** Az  $f(x) = \begin{cases} \frac{\sin x}{x} & \text{ha } x \neq 0 \\ c & \text{ha } x = 0 \end{cases}$  függvény pontosan akkor folytonos a 0-ban, ha itt van határértéke és az megegyezik a helyettesítési értékkel.

$$\lim_{x \rightarrow 0} f(x) = \lim_{x \rightarrow 0} \frac{\sin x}{x} = 1 \text{ és } f(0) = c.$$

Így tehát a  $c = 1$  esetben lesz a függvény folytonos a 0-ban.

**3.233.** Legyen  $p(x)$  tetszőleges harmadfokú polinom. Elég azt az esetet vizsgálni, amikor  $p(x)$  főegyütthatója (az  $x^3$ -ös tag együtthatója) pozitív. De akkor

$$\lim_{x \rightarrow \infty} p(x) = \infty, \quad \lim_{x \rightarrow -\infty} p(x) = -\infty.$$

Ezért a  $p(x)$  függvény biztosan felvesz pozitív értéket is (valahonnan kezdve  $p(x) > 0$ ) és negatív értéket is. De akkor a [Bolzano-tétel](#) szerint a 0-t is felveszi értéként.

**3.236.** Legyen  $h(x) = f(x) - g(x)$ . A  $h$  függvény folytonos  $[a, b]$ -ben,  $h(a) \geq 0$ ,  $h(b) \leq 0$ . A [Bolzano-tétel](#) szerint van olyan  $c \in [a, b]$ , amelyre  $h(c) = f(c) - g(c) = 0$ .

**3.237.** Legyen most  $h(x) = g(x) - f(x)$ . Ez a  $h(x)$  függvény pozitív és folytonos  $[a, b]$ -n. A [Weierstrass-tétel](#) szerint a  $h(x)$ -nek van minimuma, azaz van olyan  $c \in [a, b]$ , hogy minden  $x \in [a, b]$  esetén

$$0 < m = h(c) \leq h(x) = g(x) - f(x).$$

**3.242.**  $\mathbf{P} \not\Rightarrow \mathbf{Q}$ : Legyen például  $f(x) = \begin{cases} x^2 & \text{ha } x \in (1, 2) \\ 2 & \text{ha } x = 1 \text{ vagy } x = 2 \end{cases}$

$\mathbf{Q} \Rightarrow \mathbf{P}$ : Az  $f$  függvény maximuma felső korlát, minimuma pedig alsó korlát.

**3.245.** Igen, például az  $f(x) = x$  függvény.

**3.249.** Az  $[x]$  függvény monoton növekvő, ezért minden korlátos zárt intervallumon van maximuma, a jobb végpontban felvett érték. Tehát

$$\max \{[x] : x \in [77, 888]\} = [888] = 888.$$

**3.250.** Az  $f(x) = \{x\}$  függvénynek nincs maximuma egyetlen olyan  $[a, b]$  intervallumon sem, amelynek a hossza legalább 1, ugyanis

$$\begin{aligned} \sup \{f(x) : x \in [a, b]\} &= \sup \{f(x) : x \in [a, a+1]\} = \\ &= \sup \{f(x) : x \in [0, 1]\} = 1, \end{aligned}$$

mivel a törtrész  $x$  függvény 1 szerint periodikus. Másrészt  $f(x) = \{x\} \neq 1$ .

**3.254.** Van ilyen függvény, még folytonos is:

$$f(x) = \begin{cases} 0 & \text{ha } 0 < x < 1/3 \\ 3x - 1 & \text{ha } 1/3 \leq x \leq 2/3 \\ 1 & \text{ha } 2/3 < x < 1 \end{cases}$$

**3.257.** Van ilyen függvény. A 3.254. feladat megoldásában szereplő függvény folytonos.

**3.258.** Nincs ilyen függvény. Indirekt módon tegyük fel, hogy  $f(x)$  folytonos a  $[0, 1]$  zárt intervallumon és értékkészlete a  $(0, 1)$  nyílt intervallum. A Weierstrass-tétel szerint az  $f(x)$  függvénynek van maximuma. Legyen ez a maximum  $M$ . A feltevés miatt  $M < 1$  és mivel  $M$  maximális érték, ezért  $f(x) \notin (M, 1)$ .

Ez az állítás sokkal általánosabban is bizonyítható, lásd a 3.260. feladatot.

**3.260.** Legyen az  $f$  függvény folytonos az  $[a, b]$  intervallumon. A Weierstrass-tétel szerint  $f$ -nek van minimuma, legyen ez  $m$  és maximuma, legyen ez  $M$ . Eszerint  $R(f) \subset [m, M]$ .

Másrészt a Bolzano-tétel szerint az  $f$  függvény  $m$  és  $M$  között minden értéket felvesz, azaz  $R(f) \supset [m, M]$ .

**3.263.** Legyen  $x_n = \frac{\pi}{2} + 2\pi n$ ,  $y_n = \frac{3\pi}{2} + 2\pi n$ . Ha  $n > 100$ , akkor

$$x_n \sin x_n = x_n > 2\pi n > 100 \quad \text{és} \quad y_n \sin y_n = -y_n < -100.$$

A Bolzano-tétel szerint minden  $n > 100$  esetén van olyan  $z_n \in [x_n, y_n]$ , amelyre

$$z_n \sin z_n = 100.$$

Mivel az  $[x_n, y_n]$  intervallumok diszjunktak, ezért a  $z_n$  gyökök különböznek.

**3.271.** Az  $f(x) = \frac{1}{x}$  függvény

- (a) nem egyenletesen folytonos  $(0, \infty)$ -en. Megmutatjuk, hogy az  $\varepsilon = 1$ -hez nincs „jó”  $\delta > 0$ . Tetszőleges  $\delta > 0$  esetén válasszunk olyan  $n \in \mathbb{N}^+$  pozitív egész számot, amelyre

$$\frac{1}{n} - \frac{1}{n+1} < \delta.$$

Ekkor

$$\left| f\left(\frac{1}{n}\right) - f\left(\frac{1}{n+1}\right) \right| = 1 \not< \varepsilon.$$

- (b) egyenletesen folytonos  $[1, 2]$ -n a [Heine-Borel tétel](#) szerint.  
(c) egyenletesen folytonos  $(1, 2)$ -n, mivel a bővebb  $[1, 2]$  halmazon is egyenletesen folytonos.  
(d) egyenletesen folytonos  $[1, \infty)$ -en. Legyen  $\varepsilon > 0$  tetszőleges,  $\delta = \varepsilon$ .  
Ha  $x, y \geq 1$  és  $|x - y| < \delta$ , akkor

$$|f(x) - f(y)| = \left| \frac{1}{x} - \frac{1}{y} \right| = \frac{|x - y|}{xy} \leq |x - y| < \delta = \varepsilon.$$

## A differenciálszámítás és alkalmazásai

### 4.1 A derivált fogalma

**4.2.** Ha  $\lim_{x \rightarrow 3} \frac{f(x) - f(3)}{x - 3} = 4$ , akkor a derivált definíciója szerint az  $f(x)$  függvény deriválható 3-ban és  $f'(3) = 4$ . A 4.2. állítás szerint tehát  $f(x)$  folytonos 3-ban.

**4.3.** Nem következik, például ha  $f(x) = |x - 3|$ .

**4.5.** Ez a határérték a  $\sqrt{x}$  függvény deriváltját adja meg tetszőleges  $x > 0$  pontban.

$$\frac{\sqrt{x+h} - \sqrt{x}}{h} = \frac{\sqrt{x+h} - \sqrt{x}}{h} \cdot \frac{\sqrt{x+h} + \sqrt{x}}{\sqrt{x+h} + \sqrt{x}} = \frac{1}{\sqrt{x+h} + \sqrt{x}} \xrightarrow{h \rightarrow 0} \frac{1}{2\sqrt{x}}$$

**4.10.** Legyen  $x_0 \neq 0$  tetszőleges.

$$\frac{1/x - 1/x_0}{x - x_0} = \frac{x_0 - x}{xx_0(x - x_0)} = -\frac{1}{xx_0} \xrightarrow{x \rightarrow x_0} -\frac{1}{x_0^2}$$

Tehát az  $\frac{1}{x}$  függvény deriváltja  $-\frac{1}{x^2}$ .

**4.14.** Az  $f(x) = |x^2 - 1|$  függvény mindenütt folytonos, az 1 és a  $-1$  kivételével deriválható, mert „ilyenekből van összerakva”, azaz alkalmazhatjuk a megfelelő műveleti szabályokat. Megmutatjuk, hogy 1-ben a differenciáhányadosnak balról más a határértéke, mint jobbról, és ezért nem deriválható. A következő kifejezésekben feltesszük, hogy  $x > 0$ . (Miért tehető fel?)

$$\begin{aligned} \frac{f(x) - f(1)}{x - 1} &= \frac{|x^2 - 1|}{x - 1} = (x + 1) \frac{|x - 1|}{x - 1} = \\ &= (x + 1) \operatorname{sgn}(x - 1) \rightarrow \begin{cases} 2 & \text{ha } x \rightarrow 1^+ \\ -2 & \text{ha } x \rightarrow 1^- \end{cases} \end{aligned}$$

Mivel a függvény páros, ezért  $-1$ -ben sem deriválható.

**4.18.** Előbb megvizsgáljuk, hogy milyen  $b$  és  $c$  esetén lesz folytonos a

$$h(x) = \begin{cases} (1-x)(2-x) & \text{ha } x \geq -3 \\ bx + c & \text{ha } x < -3 \end{cases}$$



függvény  $-3$ -ban.

$$\lim_{x \rightarrow -3^+} h(x) = \lim_{x \rightarrow -3} (1-x)(2-x) = 20,$$

$$\lim_{x \rightarrow -3^-} h(x) = \lim_{x \rightarrow -3} (bx+c) = -3b+c$$

Így tehát a függvény pontosan akkor folytonos  $-3$ -ban, ha

$$-3b+c=20$$

A  $h(x)$  függvény akkor deriválható  $-3$ -ban, ha itt a differenciáhányados bal és jobboldali határértéke megegyezik. Mivel a  $h_1(x) = (1-x)(2-x)$  és a  $h_2(x) = bx+c$  függvény deriválható  $-3$ -ban, ez akkor teljesül, ha  $h'_1(-3) = h'_2(-3)$ .

$$h'_1(x) = ((1-x)(2-x))' = -(2-x) - (1-x) = 2x-3, \quad h'_1(-3) = -9,$$

$$h'_2(x) = (bx+c)' = b$$

Tehát a  $h(x)$  függvény pontosan akkor deriválható  $-3$ -ban, ha folytonos, azaz  $-3b+c=20$  és  $b=-9$ . A két egyenletből

$$b=-9, \quad c=-7$$

**Megjegyzés:** A feladat valójában azt kérdezi, hogy melyik egyenessel „folytatható balra” deriválható módon a  $h_1(x) = (1-x)(2-x)$  függvény a  $-3$ -ban. Az érintőegyenes definíciója szerint ez az egyenes csak az érintő lehet, azaz

$$bx+c \equiv h'_1(-3)(x+3) + h_1(-3)$$

**4.19.**

Az  $x=0$ -át kivéve  $f(x)$  deriválható és  $f'(x)$  folytonos, mert alkalmazhatjuk a műveleti szabályokat. Mivel  $0$  körül  $f(x)$  egy  $0$ -hoz tartó és egy korlátos függvény szorzata, ezért  $\lim_{x \rightarrow 0} f(x) = 0 = f(0)$  (lásd 3.2.).

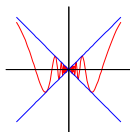
Így tehát 3.3. szerint  $f(x)$  folytonos  $0$ -ban is.

Az  $f(x)$  függvény  $0$ -ban nem deriválható, ugyanis a

$$g(x) = \frac{f(x) - f(0)}{x} = \sin \frac{1}{x}$$

differenciáhányadosnak nincs határértéke  $0$ -ban.

Az ábrán jól látható, hogy a  $g(x) = \sin \frac{1}{x}$  függvényt „beszorítottuk” az  $x$  és  $-x$  egyenesek közé.



**4.20.** Az  $f(x)$  függvény mindenütt deriválható. Az  $x = 0$ -át kivéve ez nyilvánvaló. Megmutatjuk, hogy  $x = 0$ -ban a differenciahányados határértéke 0.

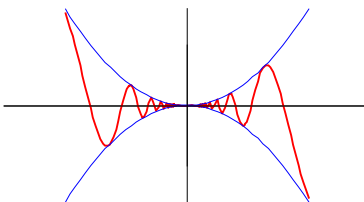
$$\lim_{x \rightarrow 0} \frac{f(x) - f(0)}{x} = \lim_{x \rightarrow 0} x \sin \frac{1}{x} = 0,$$

mivel a  $g(x) = x \sin \frac{1}{x}$  függvény 0 körül egy 0-hoz tartó és egy korlátos függvény szorzata (lásd 3.2. ). A deriváltfüggvény

$$f'(x) = \begin{cases} 2x \sin \frac{1}{x} - \cos \frac{1}{x} & \text{ha } x \neq 0 \\ 0 & \text{ha } x = 0 \end{cases}$$

folytonos, ha  $x \neq 0$ , de nincs határértéke és ezért nem is folytonos 0-ban.

Az ábrán jól látható, hogy a  $g(x) = \sin \frac{1}{x}$  függvényt „beszorítottuk” az  $x^2$  és  $-x^2$  parabolák közé.



**4.25.** Az  $f(x)$  függvény az 1 és a 2 kivételével folytonosan deriválható. Mindkét kivételes pontban folytonos. Számoljuk ki a „középső rész”, a  $g(x) = (1-x)(2-x) = x^2 - 3x + 2$  deriváltját és érintőegyeneseit az 1-ben és 2-ben:

$$g'(x) = 2x - 3, \quad g'(1) = -1, \quad g'(2) = 1$$

$$e_1(x) = 1 - x, \quad e_2(x) = x - 2 = -(2 - x).$$



Mivel mindkét pontban a  $g(x)$  függvény az érintővel „folytatódik”, ezért ezeken a helyeken is folytonosan deriválható az  $f(x)$  függvény.



**4.31.** Ha  $f(x) = \sin x$ , akkor

$$f'(x) = \cos x, f''(x) = -\sin x, f^{(n)}(x) = \begin{cases} \sin x & \text{ha } n = 4k \\ \cos x & \text{ha } n = 4k + 1 \\ -\sin x & \text{ha } n = 4k + 2 \\ -\cos x & \text{ha } n = 4k + 3 \end{cases}$$

**4.32.** Ha  $f(x) = \cos x$ , akkor

$$f'(x) = -\sin x, f''(x) = -\cos x, f^{(n)}(x) = \begin{cases} \cos x & \text{ha } n = 4k \\ -\sin x & \text{ha } n = 4k + 1 \\ -\cos x & \text{ha } n = 4k + 2 \\ \sin x & \text{ha } n = 4k + 3 \end{cases}$$

## 4.2 Deriválási szabályok

**4.33.** **P**  $\implies$  **Q**: Mivel  $f(x) = f(-x)$ , ezért  $f'(x) = f'(-x) \cdot (-1) = -f'(-x)$ .

**Q**  $\implies$  **P**: Legyen  $g(x) = f(-x)$ . Mivel  $f'(x) = -f'(-x)$ , ezért  $g'(x) = -f'(-x) = f'(x)$ . Eszerint  $f$  és  $g$  deriváltja mindenütt megegyezik, ezért az **integrálszámítás alaptétele** szerint van olyan  $c \in \mathbb{R}$ , amelyre

$$g(x) = f(x) + c, \text{ azaz } f(-x) = f(x) + c.$$

Mivel ez minden  $x$ -re teljesül, ezért  $x = 0$ -ra alkalmazva

$$f(0) = f(0) + c \iff c = 0.$$

**4.34.** **P**  $\implies$  **Q**: Mivel  $f(x) = -f(-x)$ , ezért  $f'(x) = -f'(-x) \cdot (-1) = f'(-x)$ .

**Q**  $\not\Rightarrow$  **P**: Legyen például  $f(x) = x + 1$ .

Ha még azt is feltesszük, hogy  $f(0) = 0$ , akkor már igaz, hogy  $f$  páratlan:

Legyen  $g(x) = -f(-x)$ . Mivel  $f'(x) = f'(-x)$ , ezért  $g'(x) = f'(-x) = f'(x)$ . Eszerint  $f$  és  $g$  deriváltja mindenütt megegyezik, ezért az [integrálszámítás alaptétele](#) szerint van olyan  $c \in \mathbb{R}$ , amelyre

$$g(x) = f(x) + c, \text{ azaz } -f(-x) = f(x) + c.$$

Mivel ez minden  $x$ -re teljesül, ezért  $x = 0$ -ra alkalmazva

$$0 = f(0) = f(0) + c \iff c = 0.$$

**4.38.**  $\mathbf{P} \implies \mathbf{Q}$ :

$$\begin{aligned} \lim_{h \rightarrow 0} \frac{f(a+h) - f(a-h)}{2h} &= \\ &= \frac{1}{2} \lim_{h \rightarrow 0} \left( \frac{f(a+h) - f(a)}{h} + \frac{f(a) - f(a-h)}{h} \right) = \\ &= \frac{1}{2} \lim_{h \rightarrow 0} \frac{f(a+h) - f(a)}{h} + \lim_{h \rightarrow 0} \frac{f(a) - f(a-h)}{h} = \\ &= \frac{1}{2} (f'(a) + f'(a)) = f'(a). \end{aligned}$$

$\mathbf{Q} \not\Rightarrow \mathbf{P}$ : Legyen például  $a = 0$ ,  $f(x) = |x|$ .

**4.42.** Ellenőrizzük, hogy az adott pont rajta van-e a görbén! Ehhez az kell, hogy a függvény értéke az 1 helyen éppen 6 legyen:  $f(1) = 1^3 - 2 \cdot 1^2 + 3 \cdot 1 + 4 = 6$ .

Az érintőegyenest  $y = m(x - x_0) + y_0$ , ahol most  $x_0 = 1$ ,  $y_0 = 6$  és  $m = f'(1)$ .

A függvény deriváltja  $f'(x) = 3x^2 - 4x + 3$ . Innen  $m = f'(1) = 2$ . Tehát az érintő egyenlete az adott pontban:

$$y = 2(x - 1) + 6, \text{ vagy másképp felírva } y = 2x + 4.$$

**4.56.** Legyen  $f(x) = \sqrt{x\sqrt{x\sqrt{x}}}$ . Ekkor  $D_f = [0, \infty)$  és  $D_{f'} = (0, \infty)$ . Írjuk fel az  $f(x)$  függvényt „törtkitevős” alakban:

$$\begin{aligned} f(x) &= \sqrt{x\sqrt{x\sqrt{x}}} = \left( x \cdot \left( x \cdot (x)^{1/2} \right)^{1/2} \right)^{1/2} = \\ &= \left( x \cdot \left( x^{3/2} \right)^{1/2} \right)^{1/2} = \left( x^{7/4} \right)^{1/2} = x^{7/8} \end{aligned}$$



Így tehát

$$f'(x) = \frac{7}{8}x^{-1/8} = \frac{7}{8\sqrt[8]{x}}$$

**4.57.** Legyen  $f(x) = \sqrt{x + \sqrt{x + \sqrt{x}}}$ . Ekkor  $D_f = [0, \infty)$  és  $D_{f'} = (0, \infty)$ .

$$f'(x) = \frac{1}{2\sqrt{x + \sqrt{x + \sqrt{x}}}} \left( 1 + \frac{1}{2\sqrt{x + \sqrt{x}}} \left( 1 + \frac{1}{2\sqrt{x}} \right) \right)$$

**4.62.** Legyen  $f(x) = \frac{\sin x - x \cos x}{\cos x + x \sin x}$ . Az értelmezési tartomány

$$D_f = \{x : \cos x + x \sin x \neq 0\} = \{x : \operatorname{ctg} x \neq -x\}.$$

Alkalmazzuk a hányados deriválási szabályát:

$$f'(x) = \frac{(\sin x - x \cos x)'(\cos x + x \sin x) - (\sin x - x \cos x)(\cos x + x \sin x)'}{(\cos x + x \sin x)^2}.$$

Kiszámítjuk a számlálóban szereplő deriváltakat az összeg és a szorzat deriválási szabályát felhasználva:

$$(\sin x - x \cos x)' = \cos x - \cos x + x \sin x = x \sin x$$

$$(\cos x + x \sin x)' = -\sin x + \sin x + x \cos x = x \cos x$$

Ezeket behelyettesítve:

$$f'(x) = \frac{x \sin x (\cos x + x \sin x) - (\sin x - x \cos x) x \cos x}{(\cos x + x \sin x)^2} = \frac{x^2}{(\cos x + x \sin x)^2}$$

A deriváltfüggvény értelmezési tartománya  $D_{f'} = D_f$ .

**4.63.** Legyen  $f(x) = 4x^3 \operatorname{tg}(x^2 + 1)$ . Az értelmezési tartomány

$$D_f = \left\{ x : x^2 + 1 \neq (2n + 1)\frac{\pi}{2} \right\} = \mathbb{R} \setminus \left\{ \pm \sqrt{(2n - 1)\frac{\pi}{2}} - 1 : n \in \mathbb{N} \right\}.$$

$$f'(x) = 12x^2 \operatorname{tg}(x^2 + 1) + 4x^3 (\operatorname{tg}(x^2 + 1))'$$

A láncszabály szerint

$$(\operatorname{tg}(x^2 + 1))' = \frac{1}{\cos^2(x^2 + 1)} \cdot 2x = \frac{2x}{\cos^2(x^2 + 1)}.$$

Így tehát

$$f'(x) = 12x^2 \operatorname{tg}(x^2 + 1) + \frac{2x}{\cos^2(x^2 + 1)}.$$

A deriváltfüggvény értelmezési tartománya  $D_{f'} = D_f$ .

**4.68.**  $f(x) = x^x = e^{x \ln x}, \quad D_f = D_{f'} = (0, \infty).$

$$f'(x) = (x^x)' = (e^{x \ln x})' = e^{x \ln x} (\ln x + 1) = x^x (\ln x + 1).$$

**4.69.**  $f(x) = \sqrt[x]{x} = x^{1/x} = e^{\frac{\ln x}{x}}, \quad D_f = D_{f'} = (0, \infty).$

$$f'(x) = (\sqrt[x]{x})' = \left(e^{\frac{\ln x}{x}}\right)' = \frac{1 - \ln x}{x^2} \sqrt[x]{x}$$

**4.74.**  $f(x) = \log_4 x = \frac{\ln x}{\ln 4}, \quad D_f = D_{f'} = (0, \infty).$

$$f'(x) = (\log_4 x)' = \left(\frac{\ln x}{\ln 4}\right)' = \frac{1}{x \ln 4}$$

**4.75.**  $f(x) = \log_x 4 = \frac{\ln 4}{\ln x}, \quad D_f = D_{f'} = (0, 1) \cup (1, \infty).$

$$f'(x) = (\log_x 4)' = \left(\frac{\ln 4}{\ln x}\right)' = -\frac{\ln 4}{x \ln^2 x}$$

**4.84.** Legyen  $f(x) = \frac{\operatorname{sh} x - x \operatorname{ch} x}{\operatorname{ch} x + x \operatorname{sh} x}$ . Mivel a nevező sehol sem 0,  $D_f = \mathbb{R}$ .

Alkalmazzuk a hányados deriválási szabályát:

$$f'(x) = \frac{(\operatorname{sh} x - x \operatorname{ch} x)'(\operatorname{ch} x + x \operatorname{sh} x) - (\operatorname{sh} x - x \operatorname{ch} x)(\operatorname{ch} x + x \operatorname{sh} x)'}{(\operatorname{ch} x + x \operatorname{sh} x)^2}.$$

Kiszámítjuk a számlálóban szereplő deriváltakat az összeg és a szorzat deriválási szabályát felhasználva:

$$(\operatorname{sh} x - x \operatorname{ch} x)' = \operatorname{ch} x - \operatorname{ch} x - x \operatorname{sh} x = -x \operatorname{sh} x$$

$$(\operatorname{ch} x + x \operatorname{sh} x)' = \operatorname{sh} x + \operatorname{sh} x + x \operatorname{ch} x = 2 \operatorname{sh} x + x \operatorname{ch} x$$

Ezeket behelyettesítve:

$$\begin{aligned} f'(x) &= \frac{-x \operatorname{sh} x (\operatorname{ch} x + x \operatorname{sh} x) - (\operatorname{sh} x - x \operatorname{ch} x)(2 \operatorname{sh} x + x \operatorname{ch} x)}{(\operatorname{ch} x + x \operatorname{sh} x)^2} = \\ &= \frac{x^2 - 2 \operatorname{sh}^2 x}{(\operatorname{ch} x + x \operatorname{sh} x)^2} \end{aligned}$$

A deriváltfüggvény értelmezési tartománya  $D_{f'} = D_f = \mathbb{R}$ .

**4.85.** Legyen  $f(x) = 4x^3 \operatorname{th}(x^2 + 1)$ . Az értelmezési tartomány  $D_f = \mathbb{R}$ , mert  $\operatorname{ch} x$  sehol sem 0.

$$f'(x) = 12x^2 \operatorname{th}(x^2 + 1) + 4x^3 (\operatorname{th}(x^2 + 1))'$$

A láncszabály szerint

$$(\operatorname{th}(x^2 + 1))' = \frac{1}{\operatorname{ch}^2(x^2 + 1)} \cdot 2x = \frac{2x}{\operatorname{ch}^2(x^2 + 1)}.$$

Így tehát

$$f'(x) = 12x^2 \operatorname{th}(x^2 + 1) + \frac{2x}{\operatorname{ch}^2(x^2 + 1)}.$$

A deriváltfüggvény értelmezési tartománya  $D_{f'} = D_f = \mathbb{R}$ .

**4.90.**  $f(x) = \log_3 x \cdot \cos x$ ,  $D_f = D_{f'} = (0, \infty)$ .

$$f'(x) = \frac{\cos x}{x \ln 3} - \log_3 x \cdot \sin x$$

**4.91.**  $f(x) = \frac{\sin x + 2 \ln x}{\sqrt{x} + 1}$ ,  $D_f = D_{f'} = (0, \infty)$ .

$$f'(x) = \frac{\left(\cos x + \frac{2}{x}\right) \cdot (\sqrt{x} + 1) - \frac{\sin x + 2 \ln x}{2\sqrt{x}}}{(\sqrt{x} + 1)^2}$$

**4.96.**  $f(x) = \ln(\sin x)$ ,  $D_f = D_{f'} = \{x : \sin x > 0\}$ .

$$f'(x) = \frac{\cos x}{\sin x} = \operatorname{ctg} x$$

**4.97.**  $f(x) = x^{\operatorname{tg} x} = e^{\ln x \cdot \operatorname{tg} x}, \quad D_f = D_{f'} = \left\{ x : x \neq (2n+1)\frac{\pi}{2}, \operatorname{tg} x > 0 \right\}.$

$$f'(x) = (x^{\operatorname{tg} x})' = (e^{\ln x \cdot \operatorname{tg} x})' = x^{\operatorname{tg} x} \left( \frac{\operatorname{tg} x}{x} + \frac{\ln x}{\cos^2 x} \right)$$

**4.100.** Első lépésként keressük meg azt a  $c$  helyet, ahol a függvény értéke  $a = 2$ , azaz az inverz függvény értékét a  $a = 2$  helyen. Ezt próbálgatással kaphatjuk:  $c = 1$ . Mivel a  $(0, \infty)$  félegyenesen az  $f(x)$  szigorúan nő, mert a derivált pozitív, ezért csak ezen a helyen lesz a függvény értéke 2. Az inverz függvény deriváltjáról szóló képlet szerint

$$(f^{-1})'(2) = \frac{1}{f'(1)}.$$

A függvény deriváltja  $f'(x) = 5x^4 + 2x$  és így  $f'(1) = 7$ . Tehát

$$(f^{-1})'(2) = \frac{1}{7}.$$

*Megjegyzés:* Meg kell azt is vizsgálni, hogy van-e inverze az adott függvénynek. A deriváltfüggvény vizsgálatából kiderül, hogy az egész számggyenesen nem invertálható  $f(x)$ , hiszen  $\sqrt[3]{-2/5}$ -ben lokális szigorú maximuma, 0-ban minimuma van, ezért nem szigorúan monoton. Mivel mínusz végtelenben végtelenhez tart a függvény, 0-ban pedig  $0 = f(0) < 2$ , ezért  $f(x) = 2$  valahol  $-\infty$  és 0 között. Viszont az 1-et tartalmazó  $(0, \infty)$  félegyenesen  $f(x)$  szigorúan monoton növekvő, ezért itt invertálható.

**4.104.** Mivel  $\arctg x$  a  $\operatorname{tg} x$  függvény inverze, ezért

$$(\arctg x)' = \frac{1}{\operatorname{tg}'(\arctg x)} = \cos^2(\arctg x) = \frac{1}{1 + \operatorname{tg}^2(\arctg x)}.$$

Mivel  $\operatorname{tg}(\arctg x) = x$ , ezért

$$(\arctg x)' = \frac{1}{1 + x^2}$$

**4.108.**  $f(x) = \arctg(\sin x), \quad D_{f'} = \mathbb{R}.$

$$f'(x) = \frac{1}{1 + \sin^2 x} \cdot \cos x = \frac{\cos x}{1 + \sin^2 x}$$

**4.109.**  $f(x) = \operatorname{tg}(\arcsin x), \quad D_{f'} = (-1, 1).$

$$\begin{aligned} f'(x) &= \frac{1}{\cos^2(\arcsin x)} \cdot \frac{1}{\sqrt{1-x^2}} = \frac{1}{1-\sin^2(\arcsin x)} \cdot \frac{1}{\sqrt{1-x^2}} = \\ &= \frac{1}{(1-x^2)\sqrt{1-x^2}} \end{aligned}$$

**4.114.**

$$\frac{2 \sin x - 1}{6x - \pi} = \frac{2}{6} \cdot \frac{\sin x - \frac{1}{2}}{x - \frac{\pi}{6}} = \frac{2}{6} \cdot \frac{\sin x - \sin \frac{\pi}{6}}{x - \frac{\pi}{6}} \rightarrow \frac{2}{6} \cos \frac{\pi}{6} = \frac{\sqrt{3}}{6}$$

**4.119.**

$$\lim_{n \rightarrow \infty} n \left( \cos \frac{1}{n} - 1 \right) = \lim_{n \rightarrow \infty} \frac{\cos \frac{1}{n} - \cos 0}{1/n} = -\sin 0 = 0$$

**4.123.**

$$\begin{aligned} (e^{\sin x})' &= \cos x \cdot e^{\sin x} \\ (e^{\sin x})'' &= (\cos x \cdot e^{\sin x})' = (\cos^2 x - \sin x) e^{\sin x} \end{aligned}$$

### 4.3 Közéértéktételek, L'Hospital szabály

**4.128.** Ha  $f(x) = \operatorname{arctg} x, \quad g(x) = \operatorname{arctg} \frac{1+x}{1-x}$  és  $h(x) = f(x) - g(x)$ , akkor

$$\begin{aligned} \left( \frac{1+x}{1-x} \right)' &= \frac{(1-x) - (1+x)(-1)}{(1-x)^2} = \frac{2}{(1-x)^2}, \\ g'(x) &= \left( \operatorname{arctg} \frac{1+x}{1-x} \right)' = \frac{1}{1 + \frac{(1+x)^2}{(1-x)^2}} \cdot \frac{2}{(1-x)^2} = \\ &= \frac{2}{(1-x)^2 + (1+x)^2} = \frac{1}{1+x^2}. \end{aligned}$$

Ezért  $h'(x) = 0$  mindenütt, ahol  $h(x)$  deriválható! De mivel  $g(x)$  1-ben nem értelmes, ezért  $h(x)$  sem, és így  $h(x)$  nem is deriválható 1-ben.

$$h(0) = \operatorname{arctg} 0 - \operatorname{arctg} 1 = -\frac{\pi}{4},$$

$$\lim_{x \rightarrow \infty} h(x) = \lim_{x \rightarrow \infty} \operatorname{arctg} x - \lim_{x \rightarrow \infty} \operatorname{arctg} \frac{1+x}{1-x} = \frac{\pi}{2} + \frac{\pi}{4} = \frac{3\pi}{4}.$$

Tehát  $h(x)$  nem konstans, mert  $h(0) \neq h(\infty) = \lim_{x \rightarrow \infty} h(x)$ . Viszont az [integrálszámítás alaptétele](#) alkalmazható a  $(-\infty, 1)$  és  $(1, \infty)$  félegyenesekre.

**4.129.** Legyen  $h(x) = f(x) - g(x)$ . Ekkor  $h(x)$  folytonos  $[0, \infty)$ -n,  $h'(x) > 0$ , ha  $x > 0$ , ezért a [4.8. tétel](#) szerint szigorúan monoton nő  $[0, \infty)$ -en. Így tehát

$$0 \leq h(0) = f(0) - g(0) < h(x) = f(x) - g(x), \text{ ha } x > 0.$$

**4.131.** Keressük meg az  $f(x) = x^5 - 5x + 2$  függvény monoton szakaszait.

$$f'(x) = 5(x^4 - 1) = 5(x^2 + 1)(x^2 - 1),$$

$$f'(x) > 0, \text{ ha } x \in (-\infty, -1) \cup (1, \infty), \text{ és } f'(x) < 0, \text{ ha } x \in (-1, 1).$$

Eszerint a függvény  $-1$ -től balra és  $1$ -től jobbra szigorúan nő,  $(-1, 1)$ -ben pedig szigorúan csökken.

$$\lim_{x \rightarrow -\infty} f(x) = -\infty, f(-1) = 6 > 0, f(1) = -2 < 0, \lim_{x \rightarrow \infty} f(x) = \infty$$

A [Bolzano tétel](#) szerint  $f(x)$ -nek van gyöke a három diszjunkt nyílt intervallumon. A szigorú monotonitás miatt mindegyik intervallumon pontosan egy gyök van, tehát összesen három.

**4.138.** Mivel a határérték  $\infty/\infty$  alakú, ezért alkalmazhatjuk a [L'Hospital szabályt](#).

$$\lim_{x \rightarrow 0^+} \frac{(\ln x)'}{(\operatorname{ctg} x)'} = \lim_{x \rightarrow 0^+} \frac{\frac{1}{x}}{-\frac{1}{\sin^2 x}} = - \lim_{x \rightarrow 0^+} \frac{\sin x}{x} \cdot \sin x = 0.$$

$$\text{Tehát } \lim_{x \rightarrow 0^+} \frac{\ln x}{\operatorname{ctg} x} = 0.$$

**4.143.** A  $\lim_{x \rightarrow 0} \left( \operatorname{ctg} x - \frac{1}{x} \right)$  határérték kritikus  $(\infty - \infty)$  alakú. Írjuk fel a különbséget hányados alakban:

$$\operatorname{ctg} x - \frac{1}{x} = \frac{\cos x}{\sin x} - \frac{1}{x} = \frac{x \cos x - \sin x}{x \sin x}.$$





Erre a hányadosra alkalmazhatjuk a **L'Hospital szabályt** mert  $0/0$  alakú.

$$\begin{aligned}\lim_{x \rightarrow 0} \frac{(x \cos x - \sin x)'}{(x \sin x)'} &= \lim_{x \rightarrow 0} \frac{\cos x - x \sin x - \cos x}{\sin x + x \cos x} = \\ &= - \lim_{x \rightarrow 0} \frac{\sin x}{\frac{\sin x}{x} + \cos x} = 0.\end{aligned}$$

$$\text{Tehát } \lim_{x \rightarrow 0} \left( \operatorname{ctg} x - \frac{1}{x} \right) = 0.$$

**4.144.** Hozzuk az exponenciális kifejezést  $e$  alapúra:

$$(1+x)^{\frac{1}{x}} = \left( e^{\ln(1+x)} \right)^{\frac{1}{x}} = e^{\frac{\ln(1+x)}{x}}.$$

Mivel  $\lim_{x \rightarrow 0} \frac{\ln(1+x)}{x} = 1$  és az  $e^x$  függvény folytonos, ezért

$$\lim_{x \rightarrow 0} (1+x)^{\frac{1}{x}} = e^1 = e.$$

**4.145.** A  $\lim_{x \rightarrow 0} \left( \frac{\sin x}{x} \right)^{1/x^2}$  határérték kritikus, mert  $1^\infty$  alakú. Alakítsuk át a kifejezést úgy, hogy alkalmazhassuk a  $\lim_{x \rightarrow 0} (1+x)^{1/x} = e$  nevezetes határértéket (lásd a **4.144. feladatot**):

$$\left( \frac{\sin x}{x} \right)^{\frac{1}{x^2}} = \left[ \left( 1 + \frac{\sin x - x}{x} \right)^{\frac{x}{\sin x - x}} \right]^{\frac{\sin x - x}{x^3}}$$

Ez az exponenciális kifejezés már nem kritikus, mert az „új” alap  $e$ -hez tart. (Miért?) Számoljuk ki az „új” kitevő határértékét a **L'Hospital szabály** segítségével ( $0/0$  alakú):

$$\lim_{x \rightarrow 0} \frac{(\sin x - x)'}{(x^3)'} = \frac{1}{3} \lim_{x \rightarrow 0} \frac{\cos x - 1}{x^2} = -\frac{1}{6}.$$

Tehát  $\lim_{x \rightarrow 0} \frac{\sin x - x}{x^3} = -\frac{1}{6}$ , és ezért

$$\lim_{x \rightarrow 0} \left( \frac{\sin x}{x} \right)^{\frac{1}{x^2}} = e^{-1/6} = \frac{1}{\sqrt[6]{e}}.$$

**4.148.** A határérték  $\infty/\infty$ , alakú, ezért alkalmazhatjuk a L'Hospital szabályt.

$$\lim_{x \rightarrow \infty} \frac{(\ln x)'}{(\sqrt{x})'} = \lim_{x \rightarrow \infty} \frac{\frac{1}{x}}{\frac{1}{2\sqrt{x}}} = \lim_{x \rightarrow \infty} \frac{2\sqrt{x}}{x} = \lim_{x \rightarrow \infty} \frac{2}{\sqrt{x}} = 0.$$

Tehát  $\lim_{x \rightarrow \infty} \frac{\ln x}{\sqrt{x}} = 0.$

#### 4.4 Szélsőértékkeresés

**4.155.** Legyen  $f(x) = x^3 - 12x$ . Az  $f(x)$  függvénynek ott lehet abszolút szélsőértéke (maximuma vagy minimuma) ahol a derivált nulla, vagy pedig a zárt intervallum végpontjaiban. Keressük meg a derivált gyökeit:

$$f'(x) = (x^3 - 12x)' = 3x^2 - 12 = 0$$

A két gyök:

$$x_1 = -2 \text{ és } x_2 = 2.$$

A  $[-10; 3]$  intervallum esetén:

$$f(-10) = -880, \quad f(-2) = 16, \quad f(2) = -16, \quad f(3) = -9$$

Így tehát a  $[-10; 3]$  intervallumon az  $f(x) = x^3 - 12x$  függvény abszolút minimuma  $-880$  az  $x = -10$  pontban, abszolút maximuma pedig  $16$  az  $x = -2$  pontban.

A  $[0; 3]$  intervallum esetén:

$$f(0) = 0, \quad f(2) = -16, \quad f(3) = -9.$$

(Mivel a  $-2$  nem esik bele a vizsgált intervallumba, ezért az itt felvett függvényértéket nem vesszük számításba!)

Így tehát a  $[0; 3]$  intervallumon az  $f(x) = x^3 - 12x$  függvény abszolút minimuma  $-16$  az  $x = 2$  pontban, abszolút maximuma pedig  $0$  az  $x = 0$  pontban.

**4.159.** Mivel csak a téglalap alakjára (oldalainak arányára) vagyunk kíváncsiak, feltehetjük, hogy a befoglaló derékszögű háromszög átfogója  $2$ . Az ábra jelöléseit használva, fejezzük ki  $x$  segítségével a keresett téglalap  $T(x)$  területét illetve  $k(x)$  kerületét.

$$y = 1 - x,$$

$$T(x) = 2xy = 2x(1 - x), \quad k(x) = 2(2x + y) = 2(1 + x).$$



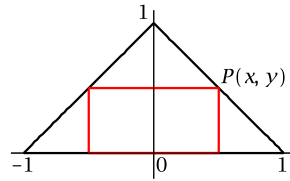
A feltételek szerint  $0 \leq x \leq 1$ . Mivel  $k(x)$  monoton növekvő függvény, ezért maximumát az  $x = 1$  esetben veszi fel, ami egy elfajult téglalap ( $y = 0$ ).

A  $T(x)$  folytonos függvény maximuma (lásd [Weierstrass-tétel](#)) nincs a széleken, mert  $T(0) = T(1) = 0$ , ezért a maximum lokális maximum is, tehát itt  $T'(x) = 0$  (lásd a [4.9. tételt](#)).

$$T'(x) = 2[(1-x) - x] = 2 - 4x = 0,$$

$$x = \frac{1}{2},$$

azaz a téglalap egyik (az ábra szerint vízszintes) oldala kétszerese a másiknak.



**Megjegyzés:** Az  $f(x) = \frac{T(x)}{2} = x(1-x)$  függvény maximuma a számtani és mértani közepek közötti egyenlőtlenség szerint a  $(0, 1)$  intervallumon akkor van, ha  $x = 1 - x$ , azaz  $x = \frac{1}{2}$ .

**4.163.**

Jelölje  $x$  a háromszög egyik befogóját és  $y$  a másikat,  $z$  pedig az átfogót. Akkor az átfogó  $z = 10 - x$ , és a másik befogó

$$y = \sqrt{(10-x)^2 - x^2} = \sqrt{100 - 20x} = 2\sqrt{25 - 5x},$$

a háromszög területe pedig

$$T(x) = \frac{1}{2}xy = x\sqrt{25 - 5x}.$$

Itt  $0 \leq x \leq 5$  lehet, ezért a feladatunk az, hogy megkeressük a  $T(x)$  folytonos függvény abszolút maximumát a  $[0, 5]$  zárt intervallumon. A [Weierstrass-tétel](#) szerint van maximum. Mivel  $T(x) \geq 0$ ,  $T(0) = T(5) = 0$ , ezért a maximumot a  $(0, 5)$  nyílt intervallumon veszi fel a  $T(x)$  függvény. De akkor ez a maximum lokális maximum is, ezért a [4.9. tétel](#) szerint itt a derivált nulla. Keressük meg a  $T'(x)$  gyökeit:

$$T'(x) = \sqrt{25 - 5x} - \frac{5x}{2\sqrt{25 - 5x}} = 0$$

$$\sqrt{25 - 5x} = \frac{5x}{2\sqrt{25 - 5x}} \iff 2(25 - 5x) = 5x \iff x = \frac{10}{3}$$

Mivel a deriváltak pontosan egy gyöke van, ezért a (lokális) maximum csak itt lehet. Így tehát

$$\max T = T\left(\frac{10}{3}\right) = \frac{10}{3} \sqrt{25 - \frac{50}{3}} = \frac{50}{3\sqrt{3}}.$$

Tehát a terület akkor maximális, ha

$$x = \frac{10}{3}, \quad y = \frac{10}{\sqrt{3}} = x\sqrt{3}, \quad z = \frac{20}{3} = 2x.$$

Eszerint az adott feltétel mellett annak a derékszögű háromszögnek a területe maximális, amelyiknek a nagyobbik hegyesszöge  $\frac{\pi}{3} = 60^\circ$ , azaz a szabályos háromszög fele.

**Megjegyzés:** A  $T(x)$  függvénynek ugyanott van a maximuma, mint a  $f(x) = T^2(x) = x^2(25 - 5x)$  függvénynek. Ennek a függvénynek a maximumát deriválás nélkül is kiszámolhatjuk, ha „ügyesen” alkalmazzuk a számtani és mértani közepek közötti egyenlőtlenséget. Tekintsük ugyanis az

$$\left(\frac{5}{2}x\right)^2 (25 - 5x)$$

háromtényezős szorzatot a  $(0, 5)$  intervallumon. Itt mindegyik tényező pozitív, összegük pedig 25, nem függ  $x$ -től. Ezért a szorzat akkor maximális, ha a tényezők megegyeznek, azaz

$$\frac{5}{2}x = 25 - 5x \iff 15x = 50 \iff x = \frac{10}{3}.$$

**4.168.** A henger felszíne és térfogata

$$F = 2\pi R^2 + 2\pi mR, \quad V = mR^2\pi.$$

A térfogat képletéből fejezzük ki  $m$ -et és helyettesítsük be a felszín képletébe:

$$m = \frac{V}{\pi R^2}, \quad F(R) = 2\pi R^2 + \frac{2V}{R}.$$

Az  $F(R)$  függvény a  $(0, \infty)$  nyílt félegyenesen van értelmezve, és itt végig pozitív, 0-hoz közeli (kicsi), illetve  $\infty$ -hez közeli (nagy)  $R$ -ek esetén  $F(R)$  értéke „nagy”, ezért a keresett abszolút minimum egyben lokális minimum is. Keressük meg tehát az  $F(R)$  függvény deriváltjának a gyökeit:

$$F'(R) = 4\pi R - \frac{2V}{R^2} = 0, \text{ azaz } 2\pi R = \frac{V}{R^2}, \quad R = \sqrt[3]{\frac{V}{2\pi}}.$$



Tehát az adott  $V$  térfogatú egyenes körhenger felszíne akkor minimális, ha

$$R = \sqrt[3]{\frac{V}{2\pi}}.$$

Számoljuk ki az ehhez a sugárhoz tartozó magasságot, illetve a magasság és az átmérő arányát:

$$m = \frac{V}{\pi R^2} = \sqrt[3]{\frac{4V}{\pi}}, \quad \frac{m}{2R} = 1.$$

Tehát annak a hengernek a felszíne minimális, amelynek az átmérője megegyezik a magassággal!

**Megjegyzés:** Annak belátása, hogy az  $F(R)$  függvénynek van abszolút minimuma még hátra van, az erről szóló fenti „okoskodás” semmiképp sem tekinthető bizonyításnak. Lássunk tehát egy korrekt bizonyítást:

Legyen  $F_0 = F(1) = 2\pi + 2V$ . Mivel  $\lim_{R \rightarrow 0^+} F(R) = \lim_{R \rightarrow \infty} F(R) = \infty$ , ezért megadható egy  $0 < a < 1$ , és egy  $1 < b$  úgy, hogy  $R \in (0, a]$ , illetve  $R \in [b, \infty)$  esetén  $F(R) > F_0$ . A **Weierstrass-tétel** szerint az  $F(R)$  függvénynek van minimuma az  $[a, b]$  zárt intervallumon. Az  $a$  és  $b$  megválasztása miatt ez a minimum az egész  $(0, \infty)$  félegyenesen is minimum.

Mivel ez a minimumhely nem lehet az  $[a, b]$  intervallum egyik végpontja sem, ezért ez egyben lokális minimum is. Itt tehát a **4.9. tétel** szerint a derivált nulla. Ilyen  $R$  azonban az egész félegyenesen csak egy van, tehát ez a keresett minimumhoz tartozó sugár.

**4.171.**

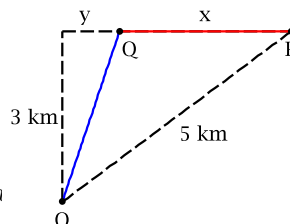
Használjuk az ábra jelöléseit. A feladat tehát az  $O$  pontból eljutni a  $P$  pontba (a faluba) a  $Q$  ponton keresztül a lehető legrövidebb idő alatt.

A partvonal teljes hossza  $x + y = \sqrt{25 - 9} = 4$ , és így

$$y(x) = 4 - x.$$

Fejezzük ki  $x$  segítségével az  $O$  és  $Q$  pont, illetve a  $Q$  és  $P$  pont távolságát:

$$\overline{OQ} = \sqrt{9 + y^2} = \sqrt{9 + (4 - x)^2}, \quad \overline{QP} = a$$



A távolságok megtételéhez szükséges idő órában mérve:

$$t(x) = t_f(x) + t_b(x) = \frac{x}{5} + \frac{1}{2}\sqrt{9 + (4 - x)^2}.$$

A  $t(x)$  függvény minimumát keressük 0 és 4 között. Ez vagy a végpontok valamelyikén felvett érték, vagy lokális minimum, ahol tehát a derivált nulla (lásd 4.9. ).

$$t'(x) = \frac{1}{5} - \frac{1}{2} \frac{4-x}{\sqrt{9+(4-x)^2}} = 0$$

$$25(4-x)^2 = 4(9+(4-x)^2), \quad 16(4-x)^2 = 36$$

$$y = 4-x = \frac{3}{2}, \quad x = \frac{5}{2}.$$

A monotonitás vizsgálatával megmutatjuk, hogy a  $t(x)$  függvénynek az  $x_0 = \frac{5}{2}$  pontban abszolút minimuma van.

$$t'(0) = \frac{1}{5} - \frac{2}{5} = -\frac{1}{5} < 0, \quad t'(4) = \frac{1}{5} > 0.$$

Mivel a deriváltaknak csak az  $x_0$ -ban van gyöke, ezért a [Darboux-tétel](#) miatt a  $(0, x_0)$  intervallumon  $t'(x) < 0$ , és így itt  $t(x)$  szigorúan csökken. Hasonlóan kapjuk, hogy  $t(x)$  szigorúan növekvő  $(x_0, 4)$ -en.

## 4.5 Függvényvizsgálat

**4.175.**  $\mathbf{P} \iff \mathbf{Q}$ : lásd a 4.8. tételt.

**4.179.**  $\mathbf{P} \not\Rightarrow \mathbf{Q}$ : Legyen például  $f(x) = x^4$ ,  $a = 0$ .

$\mathbf{Q} \implies \mathbf{P}$ : Lásd a [konvexitásról és derivált](#) kapcsolatáról szóló tételket.

**4.185.** Keressük meg  $f'(x)$  gyökeit:

$$f'(x) = 4x^3 - 12x^2 + 8x = 4x(x^2 - 3x + 2) = 4x(x-1)(x-2) = 0,$$

$$x_1 = 0, \quad x_2 = 1, \quad x_3 = 2.$$

A derivált tényezőinek az előjele, és így a derivált előjele könnyen kapható az egész számegegyenesen:

- Ha  $x < 0$ , akkor  $f'(x) < 0$ , és ezért  $f(x)$  szigorúan csökken  $(-\infty, 0)$ -ban.
- Ha  $0 < x < 1$ , akkor  $f'(x) > 0$ , és ezért  $f(x)$  szigorúan nő  $(0, 1)$ -ben.



- Ha  $1 < x < 2$ , akkor  $f'(x) < 0$ , és ezért  $f(x)$  szigorúan csökken  $(1, 2)$ -ben.
- Ha  $2 < x$ , akkor  $f'(x) > 0$ , és ezért  $f(x)$  szigorúan nő  $(2, \infty)$ -ben.

A monoton szakaszok találkozásánál lokális szigorú szélsőérték van, mégpedig

- 0-ban minimum,
- 1-ben maximum,
- 2-ben minimum.

**4.189.**  $y' = e^{-x} + xe^{-x}(-1) = (1-x)e^{-x}$ .

Keressük meg a derivált gyökeit. Az  $(1-x)e^{-x} = 0$  egyenletből kapjuk, hogy  $x = 1$ , ezért a függvénynek csak a  $c = 1$ -ben lehet lokális szélsőértéke.

Mivel  $y'(x) > 0$ , ha  $x < 1$ , és  $y'(x) < 0$ , ha  $x > 1$ , ezért a függvénynek *lokális szigorú maximuma* van és itt az érték  $e^{-1}$ . A függvény további vizsgálatából az is kiderül, hogy ez egyben abszolút maximuma is a függvénynek.

**4.197.** Az  $f(x) = \frac{x+1}{1+x^2}$  értelmezési tartománya  $\mathbb{R}$ , mindenütt akárhányszor deriválható.

$$\lim_{x \rightarrow -\infty} \frac{x+1}{1+x^2} = \lim_{x \rightarrow \infty} \frac{x+1}{1+x^2} = 0.$$

$$f'(x) = \frac{1+x^2-2x(x+1)}{(1+x^2)^2} = \frac{1-2x-x^2}{(1+x^2)^2} = -\frac{(x-x_1)(x-x_2)}{(1+x^2)^2}$$

ahol  $x_1 = -1 - \sqrt{2}$  és  $x_2 = -1 + \sqrt{2}$  a számláló gyökei.

$$\begin{aligned} f''(x) &= \frac{(-2-2x)(1+x^2)^2 - 4x(1-2x-x^2)(1+x^2)}{(1+x^2)^4} = \\ &= -2 \frac{(1+x)(1+x^2) + 2x(1-2x-x^2)}{(1+x^2)^3} = \\ &= 2 \frac{x^3 + 3x^2 - 3x - 1}{(1+x^2)^3} = \\ &= 2 \frac{(x-X_1)(x-X_2)(x-X_3)}{(1+x^2)^3} \end{aligned}$$

ahol  $X_1 = -2 - \sqrt{3}$ ,  $X_2 = -2 + \sqrt{3}$ ,  $X_3 = 1$  a számláló gyökei növekvő sorrendben. Az első derivált előjelének vizsgálatával kapjuk, hogy

- $f(x)$  szigorúan csökken  $(-\infty, x_1)$ -ben,
- $x_1$ -ben szigorú minimum van,
- $f(x)$  szigorúan nő  $(x_1, x_2)$ -ben,
- $x_2$ -ben szigorú maximum van,
- $f(x)$  szigorúan csökken  $(x_2, \infty)$ -ben.

A második derivált előjének vizsgálatával kapjuk, hogy

- $f(x)$  szigorúan konkáv  $(-\infty, X_1)$ -ben,
- $f(x)$  szigorúan konvex  $(X_1, X_2)$ -ben,
- $f(x)$  szigorúan konkáv  $(X_2, X_3)$ -ban,
- $f(x)$  szigorúan konvex  $(X_3, \infty)$ -ben,
- $X_1$ ,  $X_2$  és  $X_3$ -ban inflexió van.

**4.206.**

Az  $f(x) = 1 - 9x - 6x^2 - x^3$  függvény egy harmadfokú polinom, akárhányszor deriválható  $\mathbb{R}$ -en. Mivel a főegyüttható negatív,

$$\lim_{x \rightarrow -\infty} 1 - 9x - 6x^2 - x^3 = \infty, \quad \lim_{x \rightarrow \infty} 1 - 9x - 6x^2 - x^3 = -\infty$$

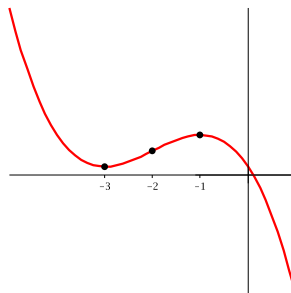
Számoljuk ki az első és a második derivált gyökeit:

$$f'(x) = -9 - 12x - 3x^2 = 0,$$

$$x_1 = -3, \quad x_2 = -1.$$

$$f''(x) = -12 - 6x = 0, \quad X_1 = -2.$$

Az ábrából kiolvasható, a deriváltak vizsgálatával pedig bizonyítható, hogy  $x_1$ -ben minimum,  $x_2$ -ben maximum,  $X_1$ -ben pedig inflexió van,  $(-\infty, -3]$ -ben csökken,  $[-3, -1]$ -ben nő,  $[-1, \infty)$ -ben csökken,  $(-\infty, -2]$ -ben konvex, és  $(-2, \infty)$ -ben konkáv a függvény.



## 4.6 Elemi függvények

**4.227.**

$$2^{\frac{\ln 100}{\ln 2}} = 2^{\log_2 100} = 100.$$

**4.229.**

$$\arcsin \frac{\sqrt{3}}{2} = \frac{\pi}{3} (= 60^\circ).$$



**4.231.**  $\arccos(\cos(9\pi)) = \pi$  (és nem  $9\pi$ ).

**4.233.**  $\operatorname{tg}(\operatorname{arctg} 100) = 100$ .

**4.238.** Az  $f(x) = \cos \frac{x}{2} + \operatorname{tg} \frac{x}{3}$  periódusa például a  $p = 12\pi$ , mert  $\cos \frac{x}{2}$ -nek a  $4\pi$ ,  $\operatorname{tg} \frac{x}{3}$ -nek pedig a  $3\pi$  periódusa.

## Az egyváltozós Riemann-integrál

### 5.1 Határozatlan integrál

<b>5.1.</b>	$f(x) = x^3 - 4x,$	$f(x) : (2),$	$f'(x) : (E).$
	$f(x) = x^3,$	$f(x) : (4),$	$f'(x) : (C).$
	$f(x) = x + \sin x,$	$f(x) : (5),$	$f'(x) : (A).$
	$f(x) = \operatorname{tg} x,$	$f(x) : (4),$	$f'(x) : (D).$
	$f(x) = e^{-x},$	$f(x) : (1),$	$f'(x) : (B).$

**5.5.** Előbb alakítsuk át az integrandust:

$$\begin{aligned}(\sin x + \cos x)^2 &= \sin^2 x + 2 \sin x \cos x + \cos^2 x = \\ &= 1 + 2 \sin x \cos x = 1 + \sin 2x.\end{aligned}$$

$$\begin{aligned}\int (\sin x + \cos x)^2 dx &= \int (1 + \sin 2x) dx = \int dx + \int \sin 2x dx = \\ &= x - \frac{\cos 2x}{2} + C\end{aligned}$$

**5.8.**  $\int x^{3/2} dx = \frac{2}{5} x^{5/2} + C$

**5.10.**  $\int \frac{-5}{x-7} dx = -5 \ln(x-7) + C$

**5.12.**  $\int \sin 2x + 3 \cos x dx = -\frac{\cos 2x}{2} + 3 \sin x + C$

**5.14.**  $\int e^{2x-3} dx = \frac{1}{2} e^{2x-3} + C$

**5.16.**  $\int \frac{x^2}{x^3+1} dx = \frac{1}{3} \int \frac{3x^2}{x^3+1} dx = \frac{1}{3} \int \frac{(x^3+1)'}{x^3+1} dx =$   
 $= \frac{1}{3} \ln(x^3+1) + C$

**5.20.**  $\int \frac{x}{\sqrt{x^2+1}} dx = \frac{1}{2} \int \frac{2x}{\sqrt{x^2+1}} dx = \frac{1}{2} \int \frac{(x^2+1)'}{\sqrt{x^2+1}} dx =$   
 $\sqrt{x^2+1} + C$

$$\mathbf{5.24.} \quad \int \frac{1}{2+x^2} dx = \frac{1}{2} \int \frac{1}{1 + \left(\frac{x}{\sqrt{2}}\right)^2} dx = \frac{1}{\sqrt{2}} \operatorname{arctg} \left( \frac{x}{\sqrt{2}} \right) + C$$

**5.28.** Bontsuk parciális törtekre az integrandust:

$$\frac{3}{(x+3)(x+2)} = \frac{A}{x+2} + \frac{B}{x+3}$$

Szorozzuk be mindkét oldalt a baloldal nevezőjével:

$$3 = A(x+3) + B(x+2)$$

Az együtthatók összehasonlításával lineáris egyenletrendszert kapunk  $A$ -ra és  $B$ -re:

$$\begin{aligned} 3A + 2B &= 3 \\ A + B &= 0 \\ A = 3, \quad B &= -3 \end{aligned}$$

Így tehát

$$\int \frac{3}{(x+3)(x+2)} dx = \int \frac{3}{x+2} dx - \int \frac{3}{x+3} dx = 3 \ln \frac{x+2}{x+3} + C$$

**5.32.** Az integrandus nevezőjének nincs valós gyöke. Első lépésként szabaduljunk meg a számlálóban az „ $x$ ”-es tagtól a nevező deriváltjának a „becsempészésével”:

$$\begin{aligned} \int \frac{x-2}{x^2-2x+6} dx &= \frac{1}{2} \int \frac{(2x-2)-2}{x^2-2x+6} dx = \\ &= \frac{1}{2} \int \frac{2x-2}{x^2-2x+6} dx - \int \frac{1}{x^2-2x+6} dx \end{aligned}$$

A jobboldalon az első integrál  $f'/f$  alakú, és a nevező pozitív, ezért

$$\int \frac{2x-2}{x^2-2x+6} dx = \ln(x^2-2x+6) + C.$$

A második integrált visszavezetjük az  $\int \frac{1}{1+t^2} dt$  alapintegrálra a teljes négyzetté kiegészítés módszerével:

$$\begin{aligned} \int \frac{1}{x^2-2x+6} dx &= \int \frac{1}{(x-1)^2+5} dx = \frac{1}{5} \int \frac{1}{\left(\frac{x}{\sqrt{5}} - \frac{1}{\sqrt{5}}\right)^2 + 1} dx = \\ &= \frac{1}{\sqrt{5}} \operatorname{arctg} \left( \frac{x}{\sqrt{5}} - \frac{1}{\sqrt{5}} \right) + C. \end{aligned}$$

Így tehát

$$\int \frac{x-2}{x^2-2x+6} dx = \frac{1}{2} \ln(x^2-2x+6) - \frac{1}{\sqrt{5}} \operatorname{arctg} \left( \frac{x}{\sqrt{5}} - \frac{1}{\sqrt{5}} \right) + C.$$

**5.36.**

Írjuk fel az integrandust egy polinom és egy *valódi* (számláló foka kisebb a nevező foknál) racionális függvény összegeként a polinomok maradékos osztásának segítségével:

$$\frac{3x^3+2x-1}{x^2-x-6} = 3x+3 + \frac{23x+17}{x^2-x-6} = 3x+3 + \frac{23x+17}{(x-3)(x+2)}$$

$$\int \frac{3x^3+2x-1}{x^2-x-6} dx = \int (3x+3) dx + \int \frac{23x+17}{(x-3)(x+2)} dx$$

A jobboldal második integráljában szereplő racionális függvényt bontsuk fel parciális törtek összegére:

$$\frac{23x+17}{(x-3)(x+2)} = \frac{A}{x-3} + \frac{B}{x+2}$$

$$23x+17 = A(x+2) + B(x-3)$$

$$\begin{aligned} A + B &= 23 \\ 2A - 3B &= 17 \end{aligned}$$

Az első egyenlet háromszorosát a másodikhoz adva:

$$5A = 86$$

$$A = \frac{86}{5}, \quad B = \frac{29}{5}$$

$$\int \frac{3x^3+2x-1}{x^2-x-6} dx = \int (3x+3) dx + \frac{86}{5} \int \frac{1}{x-3} dx + \frac{29}{5} \int \frac{1}{x+2} dx =$$

$$= \frac{3}{2}x^2 + 3x + \frac{86}{5} \ln|x-3| + \frac{29}{5} \ln|x+2| + C$$

**5.40.**

Bontsuk parciális törtekre az integrandust:

$$\frac{1}{x^3+x^2} = \frac{A}{x} + \frac{B}{x^2} + \frac{C}{x+1}$$

$$1 = Ax(x+1) + B(x+1) + Cx^2$$

Ha  $x$  helyébe  $0$ -át helyettesítünk, megkapjuk  $B$ -t,  $-1$ -et helyettesítve pedig megkapjuk  $C$ -t. Ezek segítségével pedig  $A$ -t:

$$A = -1, \quad B = 1, \quad C = 1$$

$$\int \frac{1}{x^3 + x^2} dx = - \int \frac{1}{x} dx + \int \frac{1}{x^2} dx + \int \frac{1}{x+1} dx = \ln \left| \frac{x+1}{x} \right| - \frac{1}{x} + C$$

**5.44.**

$$\begin{aligned} \int \frac{x+2}{x-1} dx &= \int \frac{(x-1)+3}{x-1} dx = \int dx + 3 \int \frac{1}{x-1} dx = \\ &= x + 3 \ln |x-1| + C \end{aligned}$$

**5.48.**

$$\begin{aligned} \int \frac{x+2}{x^2+2x+2} dx &= \frac{1}{2} \int \frac{(2x+2)+2}{x^2+2x+2} dx = \\ &= \frac{1}{2} \ln(x^2+2x+2) + \int \frac{1}{x^2+2x+2} dx = \\ &= \frac{1}{2} \ln(x^2+2x+2) + \int \frac{1}{(x+1)^2+1} dx = \\ &= \frac{1}{2} \ln(x^2+2x+2) + \operatorname{arctg}(x+1) + C \end{aligned}$$

**5.50.**

$$\int \sin^2 x dx = \int \frac{1 - \cos 2x}{2} dx = \frac{x}{2} - \frac{\sin 2x}{4} + C$$

**5.54.**

$$\int \frac{5}{\cos^2(1-x)} dx = -5 \operatorname{tg}(1-x) + C$$

**5.58.**

$$\int \frac{\sin^2 2x + 1}{\cos^2 x} dx = \int \frac{4 \sin^2 x \cos^2 x + 1}{\cos^2 x} dx = 2x - \sin 2x + \operatorname{tg} x + C$$

Itt felhasználtuk az 5.50. feladat eredményét.

**5.60.** Legyen  $f(x) = x$ ,  $g'(x) = \cos x$ . Ezzel a szereposztással

$$\int x \cos x \, dx = x \sin x - \int \sin x \, dx = x \sin x + \cos x + C.$$

**5.64.**

$$\begin{aligned} \int \operatorname{arctg} x \, dx &= \int 1 \cdot \operatorname{arctg} x \, dx = x \operatorname{arctg} x - \int \frac{x}{1+x^2} = \\ &= x \operatorname{arctg} x - \frac{1}{2} \int \frac{2x}{1+x^2} \, dx = \\ &= x \operatorname{arctg} x - \frac{1}{2} \ln(1+x^2) + C \end{aligned}$$

**5.68.**

$$\begin{aligned} \int x \ln \frac{1+x}{1-x} \, dx &= \frac{1}{2} x^2 \ln \frac{1+x}{1-x} - \frac{1}{2} \int \frac{x^2}{\frac{1+x}{1-x}} \cdot \frac{2}{(1-x)^2} \, dx = \\ &= \frac{1}{2} x^2 \ln \frac{1+x}{1-x} - \int \frac{x^2}{1-x^2} \, dx \\ &= \int \frac{x^2}{1-x^2} \, dx = \int \frac{1-x^2-1}{1-x^2} \, dx = x - \int \frac{1}{1-x^2} \, dx \\ \int \frac{1}{1-x^2} \, dx &= \frac{1}{2} \int \left( \frac{1}{1-x} + \frac{1}{1+x} \right) \, dx = \frac{1}{2} \ln \frac{1+x}{1-x} + C \end{aligned}$$

Felhasználtuk, hogy az eredeti integrandus csak  $\frac{1+x}{1-x} > 0$  esetén értelmes. Így tehát

$$\int x \ln \frac{1+x}{1-x} \, dx = \frac{1}{2} x^2 \ln \frac{1+x}{1-x} + x - \frac{1}{2} \ln \frac{1+x}{1-x} + C$$

**5.71.**

$$t = x^2, \quad dt = 2x \, dx$$

$$\int x e^{x^2} \, dx = \frac{1}{2} \int 2x e^{x^2} \, dx = \frac{1}{2} \int e^t \, dt = \frac{1}{2} e^t + C = \frac{1}{2} e^{x^2} + C$$

**5.75.**

$$\begin{aligned}
 t &= \cos x, & dt &= -\sin x \, dx \\
 \int \frac{1}{\sin x} \, dx &= \int \frac{\sin x}{\sin^2 x} \, dx = - \int \frac{-\sin x}{1 - \cos^2 x} \, dx = \\
 &= - \int \frac{1}{1 - t^2} \, dt = \frac{1}{2} \ln \frac{1-t}{1+t} + C = \frac{1}{2} \ln \frac{1 - \cos x}{1 + \cos x} + C
 \end{aligned}$$

Itt felhasználtuk az 5.68. feladat egy részeredményét és azt, hogy  $|t| < 1$  miatt  $\frac{1-t}{1+t} > 0$ .

**5.79.**

$$\begin{aligned}
 x &= \sin t, & dx &= \cos t \, dt, & t &= \arcsin x \\
 \int \frac{1}{(1-x^2)\sqrt{1-x^2}} \, dx &= \int \frac{1}{(1-\sin^2 t)\cos t} \cos t \, dt = \\
 &= \int \frac{1}{\cos^2 t} \, dt = \operatorname{tg} t + C = \\
 &= \frac{\sin t}{\sqrt{1-\sin^2 t}} + C = \frac{x}{\sqrt{1-x^2}} + C
 \end{aligned}$$

**5.83.**

$$\begin{aligned}
 t &= x^2 + x + 1, & dt &= 2x + 1 \\
 \int (2x + 1)e^{x^2+x+1} \, dx &= \int e^t \, dt = e^t + C = e^{x^2+x+1} + C
 \end{aligned}$$

**5.87.**

$$\begin{aligned}
 t &= e^x, & x &= \ln t, & dx &= \frac{dt}{t} \\
 \int \frac{e^x + 2}{e^x + e^{2x}} \, dx &= \int \frac{t + 2}{t + t^2} \cdot \frac{dt}{t} = \int \frac{t + 2}{t^2(t + 1)} \, dt
 \end{aligned}$$

Bontsuk parciális törtre az integrandust:

$$\begin{aligned}
 \frac{t + 2}{t^2(t + 1)} &= \frac{A}{t} + \frac{B}{t^2} + \frac{C}{t + 1} \\
 t + 2 &= At(t + 1) + B(t + 1) + Ct^2 \\
 A &= -1, & B &= 2, & C &= 1 \\
 \int \frac{t + 2}{t^2(t + 1)} \, dt &= \int \left( -\frac{1}{t} + \frac{2}{t^2} + \frac{1}{t + 1} \right) \, dt = -\frac{2}{t} + \ln \frac{t + 1}{t} + C
 \end{aligned}$$

Felhasználtuk, hogy  $\frac{t+1}{t} > 0$ . Elvégezve a visszahelyettesítést

$$\int \frac{e^x + 2}{e^x + e^{2x}} dx = -\frac{2}{e^x} + \ln \frac{e^x + 1}{e^x} + C = -2e^{-x} + \ln(1 + e^{-x}) + C$$

**5.91.**

$$\int \frac{1}{(x+2)(x-1)} dx = \frac{1}{3} \int \left( \frac{1}{x-1} - \frac{1}{x+2} \right) dx = \frac{1}{3} \ln \left| \frac{x-1}{x+2} \right| + C$$

**5.95.**

$$\int \frac{1}{e^x + e^{-x}} dx = \frac{1}{2} \int \frac{dx}{\operatorname{ch} x} = \frac{1}{2} \int \frac{\operatorname{ch} x}{1 + \operatorname{sh}^2 x} dx = \frac{1}{2} \operatorname{arctg} \operatorname{sh} x + C$$

**5.99.**

$$\begin{aligned} \int \ln(x^2 + 1) dx &= \int 1 \cdot \ln(x^2 + 1) dx = x \ln(x^2 + 1) - 2 \int \frac{x^2}{x^2 + 1} dx \\ \int \frac{x^2}{x^2 + 1} dx &= \int \frac{(x^2 + 1) - 1}{x^2 + 1} dx = x - \operatorname{arctg} x + C \\ \int \ln(x^2 + 1) dx &= x \ln(x^2 + 1) - 2x + 2 \operatorname{arctg} x + C \end{aligned}$$

**5.103.**

$$\int 2x \sin(x^2 + 1) dx = \int (x^2 + 1)' \sin(x^2 + 1) dx = -\cos(x^2 + 1) + C$$

**5.107.**

$$\int \frac{e^{2x}}{1 + e^x} dx = \int \frac{e^x}{e^x + 1} e^x dx = \int \frac{t}{t + 1} dt = t - \ln(t + 1) + C$$

ahol  $t = e^x$ .

$$\int \frac{e^{2x}}{1 + e^x} dx = e^x - \ln(e^x + 1) + C$$



**5.111.**

$$\begin{aligned}\int (x^2 + x) \ln x \, dx &= \left(\frac{x^3}{3} + \frac{x^2}{2}\right) \ln x - \int \left(\frac{x^2}{3} + \frac{x}{2}\right) dx = \\ &= \left(\frac{x^3}{3} + \frac{x^2}{2}\right) \ln x - \frac{x^3}{9} - \frac{x^2}{4} + C\end{aligned}$$

**5.115.**

$$\int 3^{-2x} \, dx = \int e^{(-2 \ln 3)x} \, dx = -\frac{1}{2 \ln 3} e^{(-2 \ln 3)x} + C = -\frac{1}{2 \ln 3} 3^{-2x} + C$$

**5.119.**

$$\begin{aligned}t = \operatorname{tg} x, \quad dt &= \frac{1}{\cos^2 x} \, dx, \quad \cos^2 x = \frac{1}{1+t^2}, \quad \sin^2 x = \frac{t^2}{1+t^2} \\ \int \frac{1}{\sin^2 x \cos^4 x} \, dx &= \int \frac{1}{\sin^2 x \cos^2 x} \cdot \frac{1}{\cos^2 x} \, dx = \int \frac{(t^2+1)^2}{t^2} \, dt = \\ &= \int \left(t^2 + 2 + \frac{1}{t^2}\right) \, dt = \frac{t^3}{3} + 2t - \frac{1}{t} + C = \\ &= \frac{\operatorname{tg}^3 x}{3} + 2 \operatorname{tg} x - \operatorname{ctg} x + C\end{aligned}$$

## 5.2 Határozott integrál

**5.124.**

- (a) A  $\Phi$  finomítása az  $F$  felosztásnak.  
 (b) A  $\Phi$  nem finomítása  $F$ -nek, mert 1, 5 nem szerepel a  $\Phi$  osztópontjai között.  
 Az  $F$  sem finomítása  $\Phi$ -nek, mert  $-1$  nem szerepel az  $F$  osztópontjai között.

**5.125.**

$$S_{\Phi} = 6, \quad s_{\Phi} = 0$$

**5.128.**

$$S_{\Phi} = -1 \cdot 1 + 0 \cdot 1 + 4 \cdot 4 = 15, \quad s_{\Phi} = -2 \cdot 1 - 1 \cdot 1 + 0 \cdot 4 = -3$$

**5.131.** Igen, mert  $f(x)$  folytonos (és monoton).

**5.135.** Nem, mert  $f(x)$  nem korlátos  $[0, 1]$ -en.

**5.140.** Legyen  $f(x) = \frac{1}{x^2 + e^x}$ . Ekkor  $x \in [1, 2]$  esetén  $0 < f(x) < 1$ , és így a 5.138. feladat szerint

$$0 = 0 \cdot (2 - 1) \leq \int_1^2 \frac{1}{x^2 + e^x} dx \leq 1 \cdot (2 - 1) = 1$$

**5.144.** Mivel minden integrálfüggvény folytonos,  $\operatorname{sgn} x$  pedig 0-ban nem folytonos, ezért  $\operatorname{sgn} x$  nem lehet integrálfüggvény  $[-1, 1]$ -en.

A Darboux-tétel szerint  $\operatorname{sgn} x$ -nek nincs primitív függvénye  $(-1, 1)$ -en.

**5.146.** A  $\sigma_n = \frac{\sin \frac{1}{n} + \sin \frac{2}{n} + \dots + \sin \frac{n}{n}}{n}$  integrálközelítő összege az integrálható  $\sin x$  függvénynek a  $[0, 1]$  intervallum egyenletes felosztásán, ezért

$$\sigma_n = \frac{\sin \frac{1}{n} + \sin \frac{2}{n} + \dots + \sin \frac{n}{n}}{n} \rightarrow \int_0^1 \sin x dx = 1 - \cos 1$$

**5.150.**

$$n \sum_{i=1}^n \frac{i}{n^2 + i^2} = \sum_{i=1}^n \frac{\frac{i}{n}}{1 + \left(\frac{i}{n}\right)^2} \rightarrow \int_0^1 \frac{x}{1 + x^2} dx = \left[ \frac{1}{2} \ln(1 + x^2) \right]_0^1 = \frac{\ln 2}{2}$$

**5.154.**

$$g(x) = G'(x) = \begin{cases} 2x \sin \frac{1}{x} - \cos \frac{1}{x} & \text{ha } x \neq 0 \\ 0 & \text{ha } x = 0 \end{cases}$$

Mivel

$$h(x) = f(x) + g(x) = \begin{cases} 2x \sin \frac{1}{x} & \text{ha } x \neq 0 \\ 0 & \text{ha } x = 0 \end{cases}$$

folytonos mindenütt, ezért van primitív függvénye, de akkor az  $f(x) = h(x) - g(x)$  függvénynek is van primitív függvénye.

**5.156.**

$$H(x) = \int_2^x \frac{1}{\ln t} dt, \quad H'(x) = \frac{1}{\ln x}$$

**5.158.**

Mivel  $\lim_{x \rightarrow \infty} \frac{x}{\ln x} = \infty$  és  $\lim_{x \rightarrow \infty} \int_2^x \frac{1}{\ln t} dt = \infty$ , ezért az

$$\frac{\ln x}{x} \int_2^x \frac{1}{\ln t} dt = \frac{\int_2^x \frac{1}{\ln t} dt}{\frac{x}{\ln x}}$$

hányadosra alkalmazhatjuk a L'Hospital szabályt:

$$\lim_{x \rightarrow \infty} \frac{\ln x}{x} \int_2^x \frac{1}{\ln t} dt = \lim_{x \rightarrow \infty} \frac{\frac{1}{\ln x}}{\frac{\ln x - 1}{\ln^2 x}} = \lim_{x \rightarrow \infty} \frac{\ln x}{\ln x - 1} = 1$$

**5.162.**

$$\int_2^3 x^2 dx = \left[ \frac{x^3}{3} \right]_2^3 = 9 - \frac{8}{3}$$

**5.166.**

$$\int_{-2\pi}^0 \sin^2 x dx = \int_{-2\pi}^0 \frac{1 - \cos 2x}{2} dx = \left[ \frac{x}{2} - \frac{\sin 2x}{4} \right]_{-2\pi}^0 = \pi$$

**5.168.**

$$x = \sin t, \quad dx = \cos t dt, \quad \frac{1}{2} = \sin \frac{\pi}{6}, \quad \frac{\sqrt{3}}{2} = \sin \frac{\pi}{3}$$

$$\begin{aligned} \int_{1/2}^{\sqrt{3}/2} \frac{x^2}{\sqrt{1-x^2}} dx &= \int_{\pi/6}^{\pi/3} \frac{\sin^2 t}{\sqrt{1-\sin^2 t}} \cos t dt = \\ &= \int_{\pi/6}^{\pi/3} \sin^2 t dt = \left[ \frac{t}{2} - \frac{\sin 2t}{4} \right]_{\pi/6}^{\pi/3} = \frac{\pi}{12} \end{aligned}$$

(lásd az 5.50. feladatot).

**5.172.**

$$t = \operatorname{tg} x, \quad x = \operatorname{arctg} t, \quad dx = \frac{1}{dt}, \quad \operatorname{tg} \frac{\pi}{6} = \frac{\sqrt{3}}{3}, \quad \operatorname{tg} \frac{\pi}{2} = \infty$$

$$\begin{aligned} \int_{\pi/6}^{\pi/2} \frac{1}{1+\operatorname{tg} x} dx &= \int_{\sqrt{3}/3}^{\infty} \frac{1}{(1+t)(1+t^2)} dt = \frac{1}{2} \int_{\sqrt{3}/3}^{\infty} \left( \frac{1}{t+1} + \frac{1-t}{1+t^2} \right) dt = \\ &= \frac{1}{2} \left[ \ln \frac{1+t}{\sqrt{1+t^2}} + \operatorname{arctg} t \right]_{\sqrt{3}/3}^{\infty} = -\frac{1}{2} \ln \frac{1+\sqrt{3}}{2} + \frac{\pi}{6} \end{aligned}$$

### 5.3 A határozott integrál alkalmazásai

**5.177.**

Számoljuk ki a parabola és az egyenes két metszéspontját:

$$x^2 = -x + 2, \quad x_1 = -2, \quad x_2 = 1$$

A két metszéspont között a  $-x + 2$  egyenes a „nagyobb”

$$T = \int_{-2}^1 (-x+2-x^2) dx = \int_{-2}^1 (2-x-x^2) dx = \left[ 2x - \frac{x^2}{2} - \frac{x^3}{3} \right]_{-2}^1 = 6 + \frac{3}{2} + \frac{7}{3}$$

**5.181.**

$$T = \int_1^e \ln x dx = [x \ln x - x]_1^e = 1$$

**5.185.** A két metszéspont:

$$\frac{1}{1+x^2} = \frac{x^2}{2}, \quad x^4 + x^2 - 2 = 0, \quad x_1 = -1, \quad x_2 = 1$$

$$T = \int_{-1}^1 \left( \frac{1}{1+x^2} - \frac{x^2}{2} \right) dx = \left[ \operatorname{arctg} x - \frac{x^3}{6} \right]_{-1}^1 = \frac{\pi}{2} - \frac{1}{3}$$

**5.189.** Egy ilyen parabolaszéletet kapunk, ha tekintjük az  $y = m \left( 1 - \frac{4}{h^2} x^2 \right)$  parabola és az  $x$  tengely által határolt síkidom területét.

$$T = \int_{-h/2}^{h/2} m \left( 1 - \frac{4}{h^2} x^2 \right) dx = m \left[ x - \frac{4}{3h^2} x^3 \right]_{-h/2}^{h/2} = m \left( h - \frac{h}{3} \right) = \frac{2}{3} m h$$

**5.192.** Itt  $-\frac{\pi}{6} \leq \varphi \leq \frac{\pi}{6}$ .

$$T = \frac{1}{2} \int_{-\pi/6}^{\pi/6} \cos^2 3\varphi \, d\varphi = \frac{1}{2} \left[ \frac{\varphi}{2} + \frac{\sin 6\varphi}{6} \right]_{-\pi/6}^{\pi/6} = \frac{\pi}{12}$$

**5.196.**

$$V = \pi \int_0^{\pi} \sin^2 x \, dx = \pi \left[ \frac{x}{2} - \frac{\sin 2x}{4} \right]_0^{\pi} = \frac{\pi^2}{2}$$

**5.200.**

$$V = \pi \int_0^1 \arcsin^2 y \, dy = \pi \int_0^{\pi/2} x^2 \cos x \, dx$$

Számoljuk ki kétszeres parciális integrálással a  $\int x^2 \cos x \, dx$  határozatlan integrált:

$$\begin{aligned} \int x^2 \cos x \, dx &= x^2 \sin x - 2 \int x \sin x \, dx = \\ &= x^2 \sin x + 2x \cos x - 2 \int \cos x \, dx = \\ &= x^2 \sin x + 2x \cos x - 2 \sin x + C. \end{aligned}$$

Ezt felhasználva

$$V = \pi \int_0^{\pi/2} x^2 \cos x \, dx = \pi [x^2 \sin x + 2x \cos x - 2 \sin x]_0^{\pi/2} = \frac{\pi^3}{4} - 2\pi.$$

**5.204.**

$$V = \pi \int_1^2 \left( e^{2x} - \frac{1}{x^2} \right) dx = \pi \left[ \frac{e^{2x}}{2} + \frac{1}{x} \right]_1^2 = \pi \left( \frac{e^2(e^2 - 1)}{2} - \frac{1}{2} \right)$$

**5.208.**

$$L = \int_{-1}^1 \sqrt{1 + \operatorname{sh}^2 x} \, dx = \int_{-1}^1 \operatorname{ch} x \, dx = [\operatorname{sh} x]_{-1}^1 = 2 \operatorname{sh} 1$$

## 5.4 Impropius integrál

**5.220.** Ha  $c \neq 1$ , akkor

$$\int_1^{\infty} \frac{1}{x^c} dx = \left[ \frac{1}{1-c} \cdot \frac{1}{x^{c-1}} \right]_1^{\infty} = \begin{cases} \frac{1}{c-1} & \text{ha } c > 1 \\ \infty & \text{ha } c < 1 \end{cases}$$

Ha pedig  $c = 1$ , akkor

$$\int_1^{\infty} \frac{1}{x} dx = [\ln x]_1^{\infty} = \infty.$$

Tehát az  $\int_1^{\infty} \frac{1}{x^c} dx$  impropius integrál akkor és csak akkor konvergens, ha  $c > 1$ .

**5.223.**

$$\int_3^{\infty} 2^{-x} dx = \left[ -\frac{2^{-x}}{\ln 2} \right]_3^{\infty} = \frac{1}{8 \ln 2}$$

**5.227.** Az 5.220. feladat megoldása szerint  $\int_1^{\infty} \frac{dx}{\sqrt{x}}$  divergens.

**5.231.**

$$\int_{\frac{1}{2}}^1 \frac{dx}{x \ln x} = [\ln |\ln x|]_{\frac{1}{2}}^{1^-} = -\infty$$

**5.235.**

$$\int_0^1 \frac{dx}{\sqrt{1-x^2}} = [\arcsin x]_0^{1^-} = \frac{\pi}{2}$$

**5.239.**

$$\int_1^{\infty} \frac{dx}{\sqrt{x} + x^2} < \int_1^{\infty} \frac{dx}{x^2} < \infty$$

(lásd a 5.220. feladatot).

**5.243.** Az  $\frac{x^2}{x^4 - x^2 + 1}$  függvény Riemann-integrálható  $[0, 1]$ -en (mert a nevező

nem nulla), ezért elég megmutatni, hogy az  $\int_1^{+\infty} \frac{x^2}{x^4 - x^2 + 1} dx$  improprius integrál konvergens.

Mivel az  $f(x) = \frac{x^2}{x^4 - x^2 + 1}$  és a  $g(x) = \frac{1}{x^2}$  függvény nagyságrendje

azonos (a két függvény hányadosa tart 1-hez a  $\infty$ -ben),  $\int_1^{\infty} \frac{dx}{x^2}$  pedig

konvergens, ezért a **nagyságrendi kritérium** szerint  $\int_1^{+\infty} \frac{x^2}{x^4 - x^2 + 1} dx$

is konvergens.

**5.247.** Mivel  $\sin x \sim x$  a 0-ban,  $\int_0^{\pi/2} \frac{dx}{x}$  pedig divergens, ezért  $\int_0^{\pi/2} \frac{dx}{\sin x}$  divergens.

**5.251.**

$$\int_0^{\infty} x e^{-x^2} dx = -\frac{1}{2} \left[ e^{-x^2} \right]_0^{\infty} = \frac{1}{2}$$



## Numerikus sorok

### 6.1 Numerikus sorok konvergenciája

**6.1.** A véges geometriai sor összegképletét használva

$$s_n = 1 + \frac{1}{2} + \frac{1}{4} + \dots + \frac{1}{2^n} = \sum_{k=0}^n \left(\frac{1}{2}\right)^k = \frac{1 - \left(\frac{1}{2}\right)^{n+1}}{\frac{1}{2}} = 2 \left(1 - \frac{1}{2^{n+1}}\right) \rightarrow 2$$

**6.5.**

$$\begin{aligned} \frac{1}{k(k+3)} &= \frac{1}{3} \left( \frac{1}{k} - \frac{1}{k+3} \right) \\ s_n &= \sum_{k=1}^n \frac{1}{k(k+3)} = \frac{1}{3} \sum_{k=1}^n \left( \frac{1}{k} - \frac{1}{k+3} \right) = \\ &= \frac{1}{3} \left( 1 + \frac{1}{2} + \frac{1}{3} - \frac{1}{n+1} - \frac{1}{n+2} - \frac{1}{n+3} \right) \rightarrow \frac{1}{3} \left( 1 + \frac{1}{2} + \frac{1}{3} \right) = \frac{11}{18} \end{aligned}$$

**6.8.**

$$\sum_{n=1}^{\infty} \frac{4^n + 5^n}{9^n} = \sum_{n=1}^{\infty} \left(\frac{4}{9}\right)^n + \sum_{n=1}^{\infty} \left(\frac{5}{9}\right)^n = \frac{4}{9} \frac{1}{1 - \frac{4}{9}} + \frac{5}{9} \frac{1}{1 - \frac{5}{9}} = \frac{4}{5} + \frac{5}{4}$$

**6.13.** Mivel a tagok nem tartanak 0-hoz, ezért a sor divergens (lásd a [tagok 0-hoz tartásáról](#) szóló konvergencia kritériumot).

**6.15.** Ha  $A$  jelöli a végtelen sor összegét  $s_n$  pedig az első  $n$  tag összegét, akkor

$$s_n \rightarrow A, \quad s_{n-1} \rightarrow A, \quad a_n = s_n - s_{n-1} \rightarrow 0.$$

**6.16.** Megmutatjuk, hogy a harmonikus sor nem teljesíti a [Cauchy-kritériumot](#), mert az  $\varepsilon = \frac{1}{2}$  esetén nem található „jó” küszöbindex:

$$s_{2n} - s_n = \frac{1}{n+1} + \frac{1}{n+2} + \dots + \frac{1}{2n} > \frac{1}{2n} + \frac{1}{2n} + \dots + \frac{1}{2n} = n \cdot \frac{1}{2n} = \frac{1}{2}$$

**6.21.** Nem, például a **harmonikus sor** divergens, de tagjai 0-hoz tartanak.

**6.27.** A  $\sum_{n=1}^{\infty} \frac{1}{n+n^2} = \sum_{n=1}^{\infty} \frac{1}{n(n+1)}$  sor részletösszegei úgynevezett **teleszkopikus összegek**:

$$s_n = \sum_{k=1}^n \frac{1}{k(k+1)} = \sum_{k=1}^n \left( \frac{1}{k} - \frac{1}{k+1} \right) = 1 - \frac{1}{n+1} \rightarrow 1.$$

**6.31.** Mivel az  $\int_1^{\infty} \frac{dx}{\sqrt[3]{x}}$  improprius integrál divergens, ezért az **integrálkritérium** szerint a  $\sum_{n=1}^{\infty} \frac{1}{\sqrt[3]{n}}$  sor is divergens.

Használhatjuk a **majoráns-kritériumot** is, mivel  $\frac{1}{\sqrt[3]{n}} \geq \frac{1}{n}$ .

**6.35.**

$$\sum_{n=1}^{\infty} \sin(n\pi) = \sum_{n=1}^{\infty} 0 = 0$$

**6.40.** Nem, legyen például  $b_n = 0$ ,  $a_n = -1$ .

Ha viszont feltesszük azt is, hogy  $a_n > 0$ , akkor a **majoráns-kritérium** „kontra-pozitív” verziója szerint  $\sum_{n=1}^{\infty} b_n$  divergens.

## 6.2 Pozitív tagú sorok konvergenciakritériumai

**6.43.** Mivel az **integrálkritérium** szerint (az  $\frac{1}{x^2}$ -re alkalmazva) a  $\sum_{n=1}^{\infty} \frac{1}{n^2}$  sor konvergens **majoránsa** a  $\sum_{n=1}^{\infty} \frac{1}{n^2+4}$  sornak, ezért a  $\sum_{n=1}^{\infty} \frac{1}{n^2+4}$  sor is konvergens.

**6.45.** Lásd a **hányadoskritériumot**.

**6.48.**

$$\frac{a_{n+1}}{a_n} = \frac{3^{n+1}(n+1)!}{(n+1)^{n+1}} \cdot \frac{n^n}{3^n n!} = \frac{3}{(1+1/n)^n} \rightarrow \frac{3}{e} > 1.$$

Ezért a  $\sum_{n=1}^{\infty} \frac{3^n n!}{n^n}$  sor divergens.

**6.50.**

Lásd a gyökkritériumot.

**6.53.**

$$\sqrt[n]{a_n} = \sqrt[n]{\left(\frac{1}{2} + \frac{1}{n}\right)^n} = \frac{1}{2} + \frac{1}{n} \rightarrow \frac{1}{2} < 1.$$

A  $\sum_{n=1}^{\infty} \left(\frac{1}{2} + \frac{1}{n}\right)^n$  sor konvergens.

**6.58.**

A  $\sum_{n=1}^{\infty} \frac{n^2 + 4}{n^4 + 3n}$  sor nagyságrendje  $\frac{1}{n^2}$ :

$$\frac{n^2 + 4}{n^4 + 3n} : \frac{1}{n^2} = \frac{(n^2 + 4)n^1}{n^4 + 3n} \rightarrow 1,$$

és a  $\sum_{n=1}^{\infty} \frac{1}{n^2}$  sor konvergens, ezért a  $\sum_{n=1}^{\infty} \frac{n^2 + 4}{n^4 + 3n}$  sor is konvergens.

**6.62.**

Nem, még akkor sem, ha  $f(x)$  monoton csökken. Legyen például  $f(x) = 5e^{-x+1}$ . Ekkor

$$\int_1^{\infty} 5e^{-x+1} dx = [-5e^{-x+1}]_1^{\infty} = 5, \quad \sum_{n=1}^{\infty} 5e^{-n+1} = 5 \frac{1}{1-1/e} = 5 \frac{e}{e-1} \neq 5$$

**6.66.**

Az  $f(x) = \frac{1}{x \ln x}$  függvény deriváltja  $f'(x) = -\frac{\ln x + 1}{x^2 \ln^2 x} < 0$ , ha  $x \geq 2$ , tehát  $f(x)$  monoton csökken és pozitív az  $[2, \infty)$  félegyenesen. Alkalmazhatjuk erre a függvényre az integráلكritériumot:

$$\int_2^{\infty} \frac{1}{x \ln x} dx = [\ln \ln x]_2^{\infty} = \infty,$$

ezért a  $\sum_{n=2}^{\infty} \frac{1}{n \ln n}$  sor divergens.

**6.68.**

$$\sum_{n=1}^{\infty} \frac{1}{n + \sqrt{n}} > \sum_{n=1}^{\infty} \frac{1}{2n} = \frac{1}{2} \sum_{n=1}^{\infty} \frac{1}{n} = \infty,$$

tehát  $\sum_{n=1}^{\infty} \frac{1}{n + \sqrt{n}}$  divergens (majoráns-kritérium).

**6.74.**

$$\sqrt[n]{\frac{n^2}{2^n}} = \frac{(\sqrt[n]{n})^2}{2} \rightarrow \frac{1}{2} < 1,$$

tehát  $\sum_{n=1}^{\infty} \frac{n^2}{2^n}$  konvergens (gyökkritérium).

**6.80.**

$\frac{n^{10}}{3^n - 2^n} < \frac{2n^{10}}{3^n}$ , ha  $2^n < \frac{1}{2}3^n$ , ami valahonnan kezdve igaz. A  $\sum_{n=1}^{\infty} \frac{2n^{10}}{3^n}$  sorra alkalmazva a gyökkritériumot

$$\sqrt[n]{\frac{2n^{10}}{3^n}} = \frac{\sqrt[n]{2} (\sqrt[n]{n})^{10}}{3} \rightarrow \frac{1}{3} < 1,$$

ezért a  $\sum_{n=1}^{\infty} \frac{n^{10}}{3^n - 2^n}$  sor konvergens.

**6.86.**

$$\sum_{n=1}^{\infty} \frac{2^n + 3^n}{5^n} = \sum_{n=1}^{\infty} \left(\frac{2}{5}\right)^n + \sum_{n=1}^{\infty} \left(\frac{3}{5}\right)^n = \frac{2}{3} + \frac{3}{2} < \infty$$

**6.92.**

A sor tagjai nem tartanak 0-hoz (konvergencia kritériumok):

$$1 + \frac{1}{n} \rightarrow 1 \neq 0,$$

tehát a  $\sum_{n=1}^{\infty} \left(1 + \frac{1}{n}\right)$  sor divergens.

### 6.3 Feltételes és abszolút konvergencia

**6.99.** Nem igaz, például legyen  $a_n = (-1)^n$ .

**6.104.** Az  $1 - \frac{1}{2} + \frac{1}{3} - \frac{1}{4} + \dots = \sum_{n=1}^{\infty} (-1)^{n+1} \frac{1}{n}$  Leibniz-sor, mert  $\frac{1}{n}$  monoton csökkenően tart 0-hoz, tehát a sor konvergens (de nem abszolút konvergens).

**6.108.** A  $1 - \frac{1}{\sqrt{2}} + \frac{1}{\sqrt[3]{3}} - \frac{1}{\sqrt[4]{4}} + \dots = \sum_{n=1}^{\infty} (-1)^n \frac{1}{\sqrt[n]{n}}$  sor ugyan váltakozó előjelű, de tagjai nem tartanak 0-hoz ( $|a_n| \rightarrow 1$ ), ezért a sor divergens.

**6.114.** A  $\sum_{n=1}^{\infty} (-1)^n \frac{1}{2n+1}$  sor konvergens, mert Leibniz-típusú, de nem abszolút konvergens.

**6.120.** A  $\sum_{n=1}^{\infty} \frac{\sin n}{n^2}$  sor abszolút konvergens, mert  $\left| \frac{\sin n}{n^2} \right| \leq \frac{1}{n^2}$ .

## Függvénysorozatok és sorok

### 7.1 Pontonkénti és egyenletes konvergencia

**7.1.** Az  $f_n(x) = x^n$  függvénysorozat a  $(-1, 1]$  intervallum pontjaiban konvergens, másutt divergens.

$$\lim_{n \rightarrow \infty} x^n = \begin{cases} 0 & \text{ha } |x| < 1 \\ 1 & \text{ha } x = 1 \end{cases}$$

Minden  $-1 < a < b < 1$  esetén az  $[a, b]$  intervallumon egyenletes a konvergencia, mert

$$\max \{|x^n| : x \in [a, b]\} = (\max \{|a|, |b|\})^n \rightarrow 0.$$

Mivel a limesz-függvény nem folytonos (balról 1-ben) a  $(-1, 1]$ -ben ezért a 7.1. tétel szerint a konvergencia nem egyenletes az egész konvergenctartományban.

**7.5.** Az  $f_n(x) = \sqrt[n]{1 + x^{2n}}$  sorozat pontonként tart az egész számegegyenesen a konstans 1 függvényhez. Minden korlátos  $[a, b]$  intervallumon egyenletes a konvergencia, mivel  $1 + x^{2n}$  korlátos  $[a, b]$ -n. Mivel minden  $n \in \mathbb{N}$  esetén

$$\lim_{x \rightarrow \infty} f_n(x) = \lim_{x \rightarrow \infty} \sqrt[n]{1 + x^{2n}} = \infty,$$

azaz  $f_n$  nem korlátos, ezért  $f_n$  nem egyenletesen tart a korlátos  $f(x) \equiv 1$  függvényhez  $\mathbb{R}$ -en illetve  $[0, \infty)$ -en. Az  $f_n(x)$  függvények párosak, ezért a konvergencia a  $(-\infty, 0]$  félegyenesen sem egyenletes.

**7.11.** Minden  $x \in \mathbb{R}$  esetén  $\lim_{n \rightarrow \infty} f_n(x) = 0$ . Ez a konvergencia egyenletes minden olyan intervallumon vagy félegyenesen, amelyik csak véges sok  $\frac{1}{n}$  alakú pontot tartalmaz, de minden  $b > 0$  esetén a  $(0, b)$  intervallumon (és minden ilyenél bővebb intervallumon) nem egyenletes a konvergencia, mert az  $\varepsilon = 1/b$ -hez nincs jó küszöbindex.

**7.18.** Igen, legyen például  $g_n(x) = f_n(x) + 5$ , ahol  $f_n$  a 7.11. feladatban szereplő függvény.

**7.23.** (a)  $f'(0) = \lim_{x \rightarrow 0} \frac{f_n(x) - f_n(0)}{x} = \lim_{x \rightarrow 0} \frac{\sqrt{x^2 + \frac{1}{n}} - \sqrt{\frac{1}{n}}}{x} =$



$$= \lim_{x \rightarrow 0} \frac{x}{\sqrt{x^2 + \frac{1}{n}} + \sqrt{\frac{1}{n}}} = 0.$$

$$(b) \lim_{n \rightarrow \infty} f_n(x) = \lim_{n \rightarrow \infty} \sqrt{x^2 + \frac{1}{n}} = \sqrt{x^2} = |x|.$$

$$(c) |f_n(x) - |x|| = \sqrt{x^2 + \frac{1}{n}} - |x| = \frac{\frac{1}{n}}{\sqrt{x^2 + \frac{1}{n}} + |x|} \leq \sqrt{\frac{1}{n}} \rightarrow 0.$$

(d) Mivel a bal- és jobboldali deriváltja nem egyezik meg ( $-1$  illetve  $1$ ),  $|x|$  nem deriválható  $0$ -ban.

**7.25.**

$$|f_n(x)| = \frac{1}{n^2 + n^4 x^{2n}} \leq \frac{1}{n^2}, \quad \sum_{n=1}^{\infty} \frac{1}{n^2 + n^4 x^{2n}} \leq \sum_{n=1}^{\infty} \frac{1}{n^2} < \infty.$$

**7.29.**

A  $\sum_{n=1}^{\infty} \frac{(-1)^n}{x^4 + 2^n}$  sor egyenletesen konvergens a Weierstrass-kritérium szerint, mert

$$\left| \frac{(-1)^n}{x^4 + 2^n} \right| \leq \frac{1}{2^n}, \quad \sum_{n=1}^{\infty} \frac{1}{2^n} < \infty.$$

**7.35.**

A Weierstrass-kritérium szerint  $\sum_{n=1}^{\infty} \frac{\cos nx}{n! + 2^n}$  egyenletesen konvergens  $\mathbb{R}$ -en, mert

$$\left| \frac{\cos nx}{n! + 2^n} \right| \leq \frac{1}{n! + 2^n} \leq \frac{1}{n!}, \quad \sum_{n=1}^{\infty} \frac{1}{n!} < \infty.$$

## 7.2 Hatványsorok, Taylor-sor

**7.42.**

Számoljuk ki a  $\sum_{n=0}^{\infty} \frac{n!}{n^n} x^n$  hatványsor  $R$  konvergenciasugarát. A 7.3. tételt használjuk:

$$\frac{a_{n+1}}{a_n} = \frac{(n+1)!}{(n+1)^{n+1}} \cdot \frac{n^n}{n!} = \frac{1}{\left(1 + \frac{1}{n}\right)^n} \rightarrow \frac{1}{e}, \quad R = e.$$

Ismert (Stirling-formula), hogy elég nagy  $n$ -re  $n! > \left(\frac{n}{e}\right)^n$ , és ezért a konvergenciatartomány végpontjaiban,  $e$ -ben és  $-e$ -ben a sor tagjai nem tartanak 0-hoz:

$$\frac{n!}{n^n} e^n = n! \cdot \left(\frac{e}{n}\right)^n > 1,$$

ha  $n$  elég nagy.

**7.48.**  $\sqrt[n]{|a_n|} = \sqrt[n]{n^2} = (\sqrt[n]{n})^2 \rightarrow 1$ ,  $R = 1$ . A végpontokban divergens, mert nem tartanak 0-hoz a tagok.

**7.54.**  $\sqrt[n]{\frac{1}{n2^n}} = \frac{1}{2\sqrt[n]{n}} \rightarrow \frac{1}{2}$ ,  $R = 2$ . Tehát a konvergenciatartomány belseje a  $(-7, -3)$  intervallum. A jobb végpontban divergens (harmonikus sor), a bal végpontban Leibniz-sor.

**7.60.**  $\sqrt[n]{\frac{1}{n3^n}} = \frac{1}{3\sqrt[n]{n}} \rightarrow \frac{1}{3}$ ,  $R = 3$ . Tehát a konvergenciatartomány belseje a  $(-3, 3)$  intervallum. A jobb végpontban divergens (harmonikus sor), a bal végpontban Leibniz-sor.

**7.64.**  $\frac{|a_{n+1}|}{|a_n|} = \frac{((n+1)!)^2 \cdot (2n)!}{(2n+2)! \cdot (n!)^2} = \frac{(n+1)^2}{(2n+1)(2n+2)} \rightarrow \frac{1}{4}$ . Ezért  $R = 4$ .

**7.66.** A  $\sum_{n=0}^{\infty} x^n$  hatványsor konvergenciasugara 1, ezért a **tagonkénti integrálásról** szóló tétel szerint igaz az állítás.

**7.72.** A  $x + \frac{x^2}{2} + \frac{x^3}{3} + \dots = \sum_{n=1}^{\infty} \frac{x^n}{n}$  hatványsor konvergencia sugara 1. Jelölje  $f(x)$  a hatványsor összegfüggvényét a  $(-1, 1)$  intervallumon. A **tagonkénti deriválásról** szóló tétel szerint

$$f'(x) = \sum_{n=1}^{\infty} \frac{n \cdot x^{n-1}}{n} = \sum_{n=1}^{\infty} x^{n-1} = \sum_{k=0}^{\infty} x^k = \frac{1}{1-x},$$

így tehát  $f(x)$  primitív függvénye az  $\frac{1}{1-x}$  függvénynek, és  $f(0) = 0$ , ezért

$$f(x) = -\ln(1-x), \quad -1 < x < 1.$$

**Megjegyzés:** Mivel  $-1$ -ben a sor konvergens (Leibniz-sor), ezért az úgy nevezett *Abel-kritérium* segítségével belátható, hogy a fenti képlet  $-1$ -ben is érvényes.



**7.76.** Felhasználva a geometriai sor összegfüggvényét

$$\sum_{n=0}^{\infty} (\sin x)^n = \frac{1}{1 - \sin x}, \quad \text{ha } |\sin x| \neq 1, \text{ azaz } x \neq \frac{\pi}{2} + k\pi, k \in \mathbb{Z}$$

**7.80.**  $\sqrt[n]{\frac{1}{n(n+1)}} \rightarrow 1$ , tehát  $R = 1$ .

Legyen  $g(x) = x \cdot f(x) = \sum_{n=1}^{\infty} \frac{x^{n+1}}{n(n+1)}$ . Tagonkénti deriválással  $g'(x) = \sum_{n=1}^{\infty} \frac{x^n}{n}$ .

Újabb deriválással  $g''(x) = \sum_{n=1}^{\infty} x^{n-1} = \sum_{k=0}^{\infty} x^k = \frac{1}{1-x}$ .

Ezért  $g'(x) = \int \frac{1}{1-x} dx = -\ln(1-x)$ ,  $g(x) = -\int \ln(1-x) dx = x + (1-x) \ln(1-x)$ .

Így tehát  $f(x) = 1 + \frac{1-x}{x} \ln(1-x)$ , ha  $|x| < 1$ .

**7.82.**  $\sqrt[n]{n} \rightarrow 1$ , tehát  $R = 1$ .

Legyen  $g(x) = \frac{f(x)}{x} = \sum_{n=1}^{\infty} nx^{n-1}$ .

Legyen  $h(x)$  az a primitív függvénye  $g(x)$ -nek, amelyre  $h(0) = 0$ . Ezt a függvényt a hatványsor tagonkénti integrálásával kaphatjuk meg:

$h(x) = \sum_{n=1}^{\infty} x^n = \frac{1}{1-x} - 1 = \frac{x}{1-x}$ . Így tehát  $g(x) = h'(x) = \frac{1}{(1-x)^2}$ , ezért

$$f(x) = x \cdot g(x) = \frac{x}{(1-x)^2}.$$

**7.84.**  $\sqrt[n]{n(n+1)} \rightarrow 1$ , tehát  $R = 1$ .

Legyen  $g(x)$  az a primitív függvénye  $f(x)$ -nek, amelyre  $g(0) = 0$ . Ezt a függvényt a hatványsor tagonkénti integrálásával kaphatjuk meg:

$$g(x) = \sum_{n=1}^{\infty} nx^{n+1} = x \sum_{n=1}^{\infty} nx^n. \text{ Az előző feladat eredményét felhasználva}$$

$$\text{va } g(x) = \frac{x^2}{(1-x)^2}.$$

Innen már könnyen kapjuk  $f(x)$ -et:

$$f(x) = g'(x) = \frac{2x(1-x)^2 + 2x^2(1-x)}{(1-x)^4} = 2 \frac{x(1-x) + x^2}{(1-x)^3} = 2 \frac{x}{(1-x)^3}$$

**7.87.** Helyettesítsünk az  $e^x$  Taylor-sorában  $x$  helyébe  $2x$ -et (nevezetes Taylor-sorok).

$$e^{2x} = \sum_{n=0}^{\infty} \frac{(2x)^n}{n!} = \sum_{n=0}^{\infty} \frac{2^n}{n!} x^n, \quad x \in \mathbb{R}.$$

**7.93.**

$$\frac{1}{1+x} = \frac{1}{1-(-x)} = \sum_{n=0}^{\infty} (-x)^n = \sum_{n=0}^{\infty} (-1)^n x^n, \quad |x| < 1.$$

**7.96.** Legyen  $f(x) = \ln(1+x)$ . Ekkor a 7.93. feladat szerint

$$f'(x) = \frac{1}{1+x} = \sum_{n=0}^{\infty} (-1)^n x^n, \quad \text{ha } |x| < 1.$$

$$f(x) = \int_0^x \frac{1}{1+t} dt = \sum_{n=0}^{\infty} (-1)^n \int_0^x t^n dt = \sum_{n=0}^{\infty} (-1)^n \frac{x^{n+1}}{n+1} = \sum_{n=1}^{\infty} (-1)^n \frac{x^n}{n}$$

**7.99.** Bővítsük a függvényt  $1-x$ -szel:

$$f(x) = \frac{1-x}{(1+x+x^2)(1-x)} = \frac{1-x}{1-x^3}.$$

Felhasználva a geometriai sor összegfüggvényét,  $x$  helyébe  $x^3$ -öt írva

$$\frac{1}{1-x^3} = \sum_{n=0}^{\infty} x^{3n}, \quad |x| < 1.$$

Ezért

$$f(x) = \frac{1}{1-x^3} - x \frac{1}{1-x^3} = \sum_{n=0}^{\infty} x^{3n} - \sum_{n=0}^{\infty} x^{3n+1} = \sum_{k=0}^{\infty} a_k x^k,$$



ahol

$$a_k = \begin{cases} 1 & \text{ha } k = 3n \\ -1 & \text{ha } k = 3n + 1 \\ 0 & \text{ha } k = 3n + 2 \end{cases}$$

**7.105.**

$$\begin{aligned} \cos^2 x &= \frac{1}{2} + \frac{1}{2} \cos 2x = \frac{1}{2} + \frac{1}{2} \sum_{n=0}^{\infty} (-1)^n \frac{(2x)^{2n}}{(2n)!} = \\ &= 1 + \sum_{n=1}^{\infty} (-1)^n 2^{2n-1} \frac{x^{2n}}{(2n)!}, \quad x \in \mathbb{R}. \end{aligned}$$

**7.111.**

A Lagrange-maradék segítségével becsüljük meg a függvényérték és egy Taylor-polinom eltérését.

Az  $f(x) = \sin x$  függvény esetén valamilyen  $d \in [0, 1]$ -re

$$\begin{aligned} |\sin 1 - T_{2n}(1)| &= \left| \sin 1 - \sum_{k=0}^{n-1} (-1)^k \frac{1}{(2k+1)!} \right| = \\ &= \frac{d^{2n+1}}{(2n+1)!} \leq \frac{1}{(2n+1)!} < 10^{-2}, \end{aligned}$$

ha  $n \geq 2$ . Ezért

$$|\sin 1 - T_4(1)| = \left| \sin 1 - 1 + \frac{1}{3!} \right| = \left| \sin 1 - \frac{5}{6} \right| < 10^{-2}.$$

Az  $f(x) = e^x$  függvény esetén valamilyen  $d \in [0, 1]$ -re

$$|e^1 - T_n(1)| = e - T_n(1) = \frac{e^d d^{n+1}}{(n+1)!} \leq \frac{e}{(n+1)!} < 10^{-2},$$

ha  $n \geq 5$ . Ezért

$$\begin{aligned} e - T_5(1) &= e - \left( 1 + 1 + \frac{1}{2} + \frac{1}{6} + \frac{1}{24} + \frac{1}{120} \right) = \\ &= e - \left( 2 + \frac{43}{60} \right) \sim e - 2.716666667 < 10^{-2} \end{aligned}$$

**7.117.**

A keresett derivált az  $f(x) = e^{x^2}$  függvény 0 körüli Taylor-sorában az  $x^{136}$  hatványhoz tartozó együttható és  $136!$  szorzata.

$$f(x) = e^{x^2} = \sum_{n=0}^{\infty} \frac{1}{n!} x^{2n}, \quad f^{(136)}(0) = \frac{136!}{68!}$$

**7.120.**  $f'(x) = (\operatorname{tg} x)' = \frac{1}{\cos^2 x}$

$$f''(x) = (\operatorname{tg} x)'' = \left( \frac{1}{\cos^2 x} \right)' = 2 \frac{\sin x}{\cos^3 x}$$

$$f'''(x) = (\operatorname{tg} x)''' = \left( 2 \frac{\sin x}{\cos^3 x} \right)' = 2 \frac{\cos^4 x + 3 \sin^2 x \cos^2 x}{\cos^6 x} =$$

$$= 2 \frac{\cos^2 x + 3 \sin^2 x}{\cos^4 x} = 2 \frac{1 + 2 \sin^2 x}{\cos^4 x}$$

Tehát  $f(0) = 0$ ,  $f'(0) = 1$ ,  $f''(0) = 0$ ,  $f'''(0) = 2$ . Tehát a 3-adik Taylor-polinom

$$t_3(x) = x + \frac{x^3}{3}.$$

Mivel  $\operatorname{tg} x$  páratlan függvény, ezért a negyedik deriváltja a 0-ban 0. Tehát a fenti polinom egyben a negyedik Taylor-polinom is,  $t_3(x) = t_4(x)$ .

**7.125.** (a)  $\frac{1}{2+x} = \frac{1}{2} \frac{1}{1 - \frac{-x}{2}} = \sum_{n=0}^{\infty} (-1)^n \frac{1}{2^{n+1}} x^n, \quad |x| < 2$

(b)  $\frac{1}{2+x} = \frac{1}{3+(x-1)} = \frac{1}{3} \frac{1}{1 - \frac{-(x-1)}{3}} =$

$$= \sum_{n=0}^{\infty} (-1)^n \frac{1}{3^{n+1}} (x-1)^n, \quad |x-1| < 3$$

### 7.3 Trigonometrikus sorok, Fourier-sor

**7.126.**  $\sin^2 x = \frac{1}{2} - \frac{1}{2} \cos 2x$

**7.128.** Mivel  $\operatorname{sgn} x$  páratlan, ezért minden  $a_n = 0$ .

$$b_n = \frac{1}{\pi} \int_{-\pi}^{\pi} \operatorname{sgn} x \sin nx \, dx = \frac{2}{\pi} \int_0^{\pi} \sin nx \, dx = -\frac{2}{\pi n} [\cos nx]_0^{\pi} =$$

$$= \begin{cases} \frac{4}{\pi n} & \text{ha } n \text{ páratlan} \\ 0 & \text{ha } n \text{ páros} \end{cases}$$



Mivel a  $\operatorname{sgn} x$  függvény szakaszonként folytonosan deriválható és 0-ban az érték a két „féloldali” határérték számtani közepe, ezért a Fourier-sora előállítja a  $(-\pi, \pi)$  intervallumon.

$$\operatorname{sgn} x = \frac{4}{\pi} \sum_{k=0}^{\infty} \frac{\sin(2k+1)x}{2k+1} \quad \text{ha } -\pi < x < \pi.$$

**7.134.**

(a) Ez a függvény páratlan függvény, azaz  $f(-x) = -f(x)$ , ezért minden  $a_n = 0$ .

$$\begin{aligned} \int_0^{2\pi} \frac{\pi-x}{2} \sin nx \, dx &= \left[ -\frac{\pi-x}{2} \cdot \frac{1}{n} \cos nx \right]_0^{2\pi} - \frac{1}{2n} \int_0^{2\pi} \cos nx \, dx = \\ &= \left[ \frac{x-\pi}{2n} \cos nx \right]_0^{2\pi} = \frac{\pi}{n} \end{aligned}$$

Így tehát

$$b_n = \frac{1}{\pi} \int_0^{2\pi} \frac{\pi-x}{2} \sin nx \, dx = \frac{1}{n}.$$

Mivel az  $f(x)$  függvény szakaszonként folytonosan deriválható, azért  $(0, 2\pi)$ -n, a folytonossági helyein a függvényt előállítja a Fourier-sora.

$$\frac{\pi-x}{2} = \sum_{n=1}^{\infty} \frac{\sin nx}{n}, \quad \text{ha } 0 < x < 2\pi.$$

(b) Az előző Fourier-sorfejtésben írjunk  $x$  helyébe  $\frac{\pi}{2}$ -t.

$$\text{Mivel } \sin\left(k\frac{\pi}{2}\right) = \begin{cases} (-1)^n & \text{ha } k = 2n+1 \\ 0 & \text{ha } k = 2n \end{cases}, \text{ ezért}$$

$$\frac{\pi}{4} = \sum_{n=0}^{\infty} (-1)^n \frac{1}{2n+1}.$$

**7.135.**

(a) Mivel  $f$  páros függvény,

$$b_n = \frac{1}{\pi} \int_{-\pi}^{\pi} x^2 \sin nx \, dx = 0, \text{ azaz a } b_n\text{-ek mind nullák.}$$

$$a_0 = \frac{1}{2\pi} \int_{-\pi}^{\pi} x^2 dx = \frac{1}{2\pi} \left[ \frac{x^3}{3} \right]_{-\pi}^{\pi} = \frac{\pi^2}{3}$$

ha  $n > 0$ , kétszer parciálisan integrálva kapjuk, hogy

$$\begin{aligned} \int_{-\pi}^{\pi} x^2 \cos nx dx &= \left[ \frac{1}{n} x^2 \sin nx \right]_{-\pi}^{\pi} - \frac{2}{n} \int_{-\pi}^{\pi} x \sin x dx = \\ &= \frac{2}{n^2} [x \cos nx]_{-\pi}^{\pi} - \frac{2}{n^2} \int_{-\pi}^{\pi} \cos nx dx = (-1)^n \frac{4\pi}{n^2} - \frac{2}{n^3} [\sin nx]_{-\pi}^{\pi} = \\ &= (-1)^n \frac{4\pi}{n^2}. \end{aligned}$$

Így tehát  $n > 0$  esetén

$$a_n = \frac{1}{\pi} \int_{-\pi}^{\pi} x^2 \cos nx dx = (-1)^n \frac{4}{n^2}.$$

Mivel  $\sum \frac{1}{n^2}$  konvergens, ezért  $f$  Fourier-sora egyenletesen konvergens a Weierstrass-kritérium szerint, és mivel  $f$  folytonos, a Fourier-sora előállítja a függvényt.

$$x^2 = \frac{\pi^2}{3} + 4 \cdot \sum_{n=1}^{\infty} (-1)^n \frac{\cos nx}{n^2}, \quad \text{ha } -\pi \leq x \leq \pi.$$

- (b) Ha az előző Fourier-sorban  $x$  helyébe  $\pi$ -t írunk, és felhasználjuk, hogy  $\cos n\pi = (-1)^n$  kapjuk, hogy

$$\pi^2 = \frac{\pi^2}{3} + 4 \cdot \sum_{n=1}^{\infty} \frac{1}{n^2}.$$

Átrendezés után pedig

$$\sum_{n=1}^{\infty} \frac{1}{n^2} = \frac{\pi^2}{6}.$$

**7.142.**

$$e^x = a_0 + \sum_{n=1}^{\infty} (a_n \cos nx + b_n \sin nx)$$

Kétszer parciálisan integrálva kapjuk, hogy

$$\int e^x \cos nx dx = \frac{\cos nx + n \sin nx}{n^2 + 1} e^x + C,$$

$$\int e^x \sin nx \, dx = \frac{\sin nx - n \cos nx}{n^2 + 1} e^x + C$$

Ezt felhasználva

$$a_0 = \frac{1}{2\pi} \int_{-\pi}^{\pi} e^x \, dx = \frac{1}{2} \cdot \frac{e^{\pi} - e^{-\pi}}{\pi},$$

$$a_n = \frac{1}{\pi} \int_{-\pi}^{\pi} e^x \cos nx \, dx = (-1)^n \frac{1}{n^2 + 1} \cdot \frac{e^{\pi} - e^{-\pi}}{\pi},$$

$$b_n = \frac{1}{\pi} \int_{-\pi}^{\pi} e^x \sin nx \, dx = (-1)^{n+1} \frac{n}{n^2 + 1} \cdot \frac{e^{\pi} - e^{-\pi}}{\pi}$$

Behelyettesítés után

$$e^x = \frac{e^{\pi} - e^{-\pi}}{\pi} \left( \frac{1}{2} + \sum_{n=1}^{\infty} \frac{(-1)^n}{n^2 + 1} (\cos nx - n \sin nx) \right), \quad -\pi < x < \pi$$



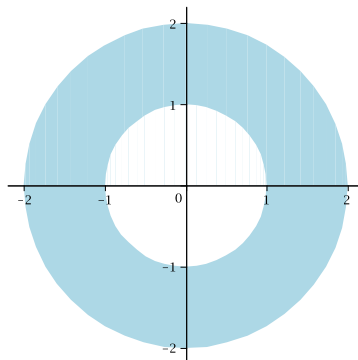
## Többváltozós függvények differenciálása

### 8.1 Topológiai alapfogalmak

**8.2.**  $|\mathbf{p} - \mathbf{q}| = \sqrt{(-1 - 5)^2 + (3 - (-4))^2 + (5 - 0)^2} = \sqrt{36 + 49 + 25} = \sqrt{110}$

**8.5.**  $k = 1: x^2 < r^2$   
 $k = 2: x^2 + y^2 < r^2$   
 $k = 3: x^2 + y^2 + z^2 < r^2$   
 $k = n: x_1^2 + x_2^2 + \dots + x_n^2 < r^2$

**8.8.** Ez a halmaz az ábrán látható nyílt körgyűrű. Nyílt és korlátos halmaz, határpontjai az  $x^2 + y^2 = 1$  és az  $x^2 + y^2 = 4$  körvonal pontjai.



**8.14.**  $H = \{x : 0 < x < 1\} \subset \mathbb{R}$  nyílt (nyílt intervallum), mert ha  $x \in H$ ,  $r = \min\{x, 1 - x\}$ , akkor  $\{y : |x - y| < r\} \subset H$ .

**8.15.** Ha  $H = \{(x, 0) : 0 < x < 1\} \subset \mathbb{R}^2$ , akkor  $\partial H = \{(x, 0) : 0 \leq x \leq 1\}$ . A 8.1. tétel szerint  $H$  nem nyílt, mert  $H \cap \partial H \neq \emptyset$ , és nem zárt, mert  $\partial H \not\subset H$ .

**8.22.** Ha  $H = \{(x, y) : x \in \mathbb{Q}, y \in \mathbb{Q}\} \subset \mathbb{R}^2$ , akkor  $\partial H = \mathbb{R}^2$ , és ezért a 8.1. tétel szerint  $H$  se nem nyílt, se nem zárt.

**8.23.** A  $H = \{(x, y) : 0 < x < 1, 0 < y < 1\} \subset \mathbb{R}^2$  halmaz nyílt (nyílt téglalap), mert  $p = (x, y) \in H$ ,  $r = \min\{x, 1 - x, y, 1 - y\} > 0$  esetén

$$B(p; r) = \{q \in \mathbb{R}^2 : |p - q| < r\} \subset H.$$



**8.29.**

$$H = \{(x, y, z) : x^2 + y^2 + z^2 \leq 1\}, \quad \text{int } H = \{(x, y, z) : x^2 + y^2 + z^2 < 1\},$$

$$\text{ext } H = \{(x, y, z) : x^2 + y^2 + z^2 > 1\}, \quad \partial H = \{(x, y, z) : x^2 + y^2 + z^2 = 1\}$$

**8.32.**

- (a) Nem igaz, például  $H = \{\mathbf{0}\}$ ,  $x = \mathbf{0}$ .
- (b) Igaz, mert  $\text{int } H \subset H$ .
- (c) Nem igaz, például  $H = \{\mathbf{0}\}$ .
- (d) Nem igaz, például  $H = \{p \in \mathbb{R}^n : |p| < 1\}$ ,  $x = (1, 0, \dots, 0)$ .
- (e) Igaz, például  $H = \mathbb{Q}^n$ .
- (f) Igaz, például  $H = \{p \in \mathbb{R}^n : |p| < 1\}$ .
- (g) Igaz, például  $H = \{p \in \mathbb{R}^n : |p| = 1\}$ .

## 8.2 Többváltozós függvények grafikonja

**8.33.**

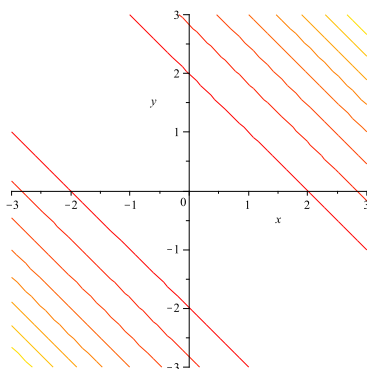
$$f(\mathbf{p}) = f(2, 3) = 2 + 3^2 = 11.$$

**8.38.**

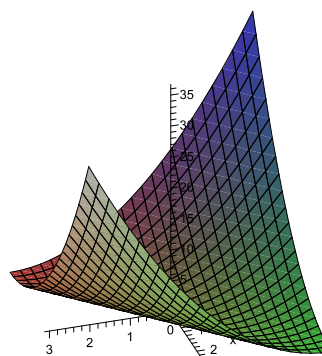
$$f(x, y) = x - y, \quad f(x, x) = 0, \quad f(x, x^2) = x - x^2.$$

**8.41.**

- (a) — (B), (b) — (D), (c) — (C), (d) — (F), (e) — (A), (f) — (E)

**8.43.**

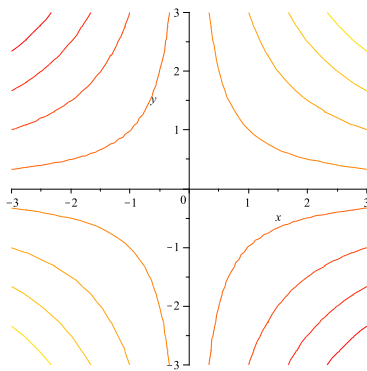
szintvonalak



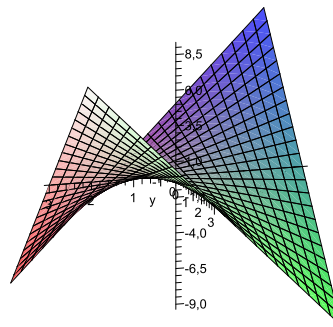
grafikon



8.45.

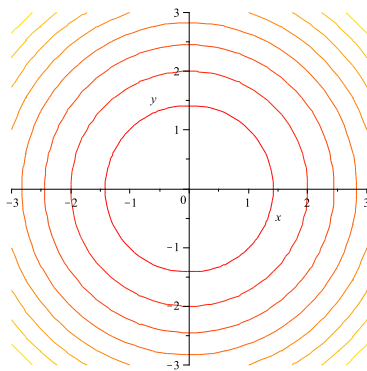


szintvonalak

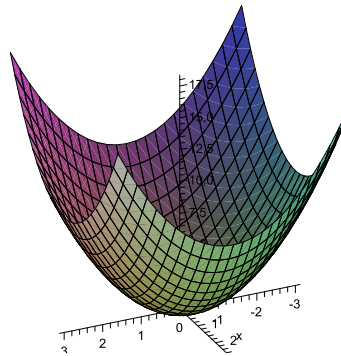


grafikon

8.47.



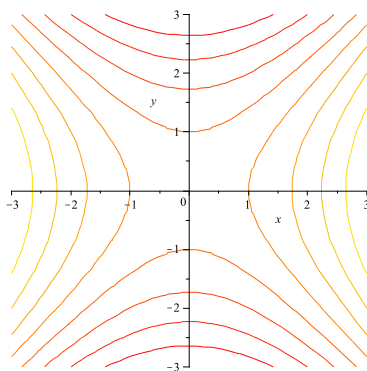
szintvonalak



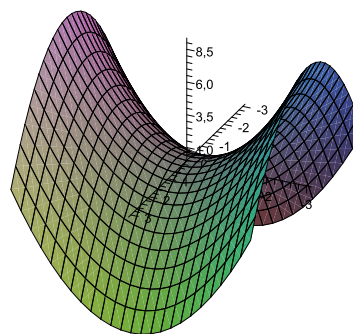
grafikon



8.49.



szintvonalak



grafikon

8.61.  $f(x, y) = \frac{x + y}{x - y}, \quad D_f = \{(x, y) \in \mathbb{R}^2 : x \neq y\}.$

### 8.3 Többváltozós határérték, folytonosság

8.67.  $f(x, y) = 7, \quad \lim_{(x, y) \rightarrow (0, 0)} f(x, y) = \lim_{(x, y) \rightarrow (0, 0)} 7 = 7.$  A függvény mindeütt folytonos.

8.73. Az  $f(x, y) = \frac{\sin x - \sin y}{e^x - e^y}$  függvény nincs értelmezve ha  $x = y$ , és így nincs értelmezve az origó egy pontozott környezetében. Az origóban ezért nincs határérték. Az  $f(x, y)$  függvény folytonos az  $\{(x, y) : x \neq y\}$  értelmezési tartomány minden pontjában.

8.79.

$$f(x, y) = \begin{cases} x, & \text{ha } x = y \\ 0, & \text{egyébként} \end{cases}$$

A függvény mindenütt folytonos, kivéve a  $H = \{(x, x) : x \neq 0\}$  halmaz pontjait. Ezért  $(0, 0)$ -ban is és  $(0, 1)$ -ben is van határérték, mégpedig a helyettesítési érték:

$$\lim_{(x, y) \rightarrow (0, 0)} f(x, y) = f(0, 0) = 0, \quad \lim_{(x, y) \rightarrow (0, 1)} f(x, y) = f(0, 1) = 0.$$



## 8.4 Parciális és totális derivált

**8.85.** Legyen például  $f(x, y) = \begin{cases} \frac{2xy}{x^2 + y^2} & \text{ha } x^2 + y^2 > 0 \\ 0 & \text{ha } x^2 + y^2 = 0 \end{cases}$ .

Mivel  $f(x, 0) \equiv 0 \equiv f(0, y)$ , ezért az origóban mindkét parciális derivált létezik és nulla. De mivel  $f(x, x) \equiv 1 \neq 0$ , ezért még határértéke sincs  $f$ -nek az origóban.

**8.90.** Ha  $x \neq y^2$ , akkor az  $f(x, y) = \frac{x+y}{x-y^2}$  függvény (parciálisan) deriválható, és

$$f'_x(x, y) = \frac{(x-y^2) - (x+y)}{(x-y^2)^2} = -\frac{y^2+y}{(x-y^2)^2},$$

$$f'_y(x, y) = \frac{(x-y^2) + (x+y) \cdot 2y}{(x-y^2)^2} = \frac{x+y^2+2xy}{(x-y^2)^2}.$$

**8.96.** A  $g(x, y, z) = x^{y^z}$  függvény értelmezési tartománya a  $\{(x, y, z) \in \mathbb{R}^3 : x > 0, y > 0\}$  térnegyed. Ennek pontjaiban deriválható, és

$$\frac{\partial}{\partial x} (x^{y^z}) = x^{(y^z)-1} \cdot y^z, \quad \frac{\partial}{\partial y} (x^{y^z}) = x^{y^z} \cdot \ln x \cdot z \cdot y^{z-1},$$

$$\frac{\partial}{\partial z} (x^{y^z}) = x^{y^z} \cdot \ln x \cdot \ln y \cdot y^z$$

**8.102.** Egyik parciális derivált sem létezik az origóban, mert az  $f(x, 0) = |x|$ , illetve  $f(0, y) = |y|$  egyváltozós függvények nem deriválhatók 0-ban.

**8.108.**

$$g(x, y, z) = 2 + x + y^2 + z^3,$$

$$g'_x(x, y, z) = 1, \quad g'_y(x, y, z) = 2y, \quad g'_z(x, y, z) = 3z^2, \quad g''_{xx}(x, y, z) = 0,$$

$$g''_{xy}(x, y, z) = g''_{yx}(x, y, z) = 0, \quad g''_{xz}(x, y, z) = g''_{zx}(x, y, z) = 0,$$

$$g''_{yy}(x, y, z) = 2, \quad g''_{yz}(x, y, z) = g''_{zy}(x, y, z) = 0,$$

$$g''_{zz}(x, y, z) = 6z$$



**8.112.** A  $\mathbf{v} = (-4, 3)$  vektor hossza  $|\mathbf{v}| = 5$ . Mivel az  $f(x, y) = e^{x+y} \cdot \ln y$  függvény a  $\mathbf{p} = (0, 1)$  pontban deriválható ezért ebben a pontban minden irányban deriválható (lásd a 8.5. tételt), és

$$\frac{\partial}{\partial \mathbf{v}} f(0, 1) = \frac{1}{5} \left( -4 \frac{\partial}{\partial x} f(0, 1) + 3 \frac{\partial}{\partial y} f(0, 1) \right).$$

$$\frac{\partial}{\partial x} (e^{x+y} \cdot \ln y) = e^{x+y} \cdot \ln y, \quad \frac{\partial}{\partial y} (e^{x+y} \cdot \ln y) = e^{x+y} \cdot \left( \ln y + \frac{1}{y} \right)$$

$$\text{Behelyettesítés után } \frac{\partial}{\partial \mathbf{v}} f(0, 1) = \frac{3e}{5}.$$

**8.119.** Egy (sima) felület tetszőleges pontjában az iránymenti deriváltak abszolút értékben a gradiens irányában maximálisak (lásd a 8.5. tételt), és ezért a golyó ebben az irányban lefelé indul el.

$$f'_x(x, y) = 3x^2 - 9y, \quad f'_y(x, y) = 3y^2 - 9x$$

$$\text{grad } f(1, 2) = (-15, 3), \quad \text{grad } f(2, 1) = (3, -15),$$

$$\text{grad } f(2, 0) = (12, -18), \quad \text{grad } f(-2, 1) = (3, 21)$$

**8.127.**

$$f(x, y) = \begin{cases} xy \frac{x^2 - y^2}{x^2 + y^2}, & \text{ha } x^2 + y^2 \neq 0 \\ 0, & \text{ha } x^2 + y^2 = 0 \end{cases}$$

Ha  $x^2 + y^2 \neq 0$

$$\begin{aligned} f'_x(x, y) &= y \frac{x^2 - y^2}{x^2 + y^2} + xy \frac{2x(x^2 + y^2) - 2x(x^2 - y^2)}{(x^2 + y^2)^2} = \\ &= y \frac{x^2 - y^2}{x^2 + y^2} + xy \frac{4xy^2}{(x^2 + y^2)^2} \\ f'_y(x, y) &= x \frac{x^2 - y^2}{x^2 + y^2} + xy \frac{-2y(x^2 + y^2) - 2y(x^2 - y^2)}{(x^2 + y^2)^2} = \\ &= x \frac{x^2 - y^2}{x^2 + y^2} - xy \frac{4x^2 y}{(x^2 + y^2)^2} \end{aligned}$$

$$\text{(a) } f(x, 0) = f(0, y) = 0, \quad f'_x(0, 0) = f'_y(0, 0) = 0$$

$$\text{(b) } f'_x(0, y) = -y, \quad f'_y(x, 0) = x$$



- (c)  $f''_{xy}(0,0) = -1$ ,  $f''_{yx}(0,0) = 1$   
 (d) Mert a másodrendű parciális deriváltak nem folytonosak az origóban.  
 (e) Belátjuk, hogy  $f$  nem deriválható kétszer, mert  $f'_x$  nem deriválható az origóban. Az eddigi eredményeket felhasználva

$$f'_x(0,0) = 0, \quad f''_{xx}(0,0) = 0, \quad f''_{xy}(0,0) = -1$$

$$\frac{f'_x(x,y) - [f''_{xx}(0,0)x + f''_{xy}(0,0)y + f'_x(0,0)]}{\sqrt{x^2 + y^2}} = \frac{f'_x(x,y) + y}{\sqrt{x^2 + y^2}}$$

Megmutatjuk, hogy ez a kifejezés nem tart 0-hoz  $(0,0)$ -ban már az  $y = x$  egyenes mentén sem.

$$\frac{f'_x(x,x) + x}{\sqrt{x^2 + x^2}} = \frac{2x}{\sqrt{2}x} = \sqrt{2}$$

**8.129.** Igen, például az  $f(x,y) = x \sin y$  megfelel.

**8.131.** Ha  $x > 0$ , akkor

$$\text{grad } f(x,y) = (yx^{y-1}, x^y \ln x), \quad \text{grad } f(2,3) = (12, 8 \ln 2).$$

Az érintő sík egyenlete

$$z = 8 + 12(x - 2) + 8 \ln 2 \cdot (y - 3).$$

**8.134.**

$$y = n! + \sum_{k=1}^n \frac{n!}{k} (x_k - k)$$

**8.140.** Itt  $h = g \circ f : \mathbb{R}^2 \rightarrow \mathbb{R}$ ,  $h(u,v) = g(f(u,v)) = g(f_1(u,v), f_2(u,v))$  ahol

$$f_1(u,v) = u^2 v^2, \quad f_2(u,v) = \frac{1}{uv}.$$

$$\begin{aligned} h'_u(u,v) &= g'_x(f(u,v))(f_1)'_u(u,v) + g'_y(f(u,v))(f_2)'_u(u,v) = \\ &= \frac{1}{u^2 v^2} \cdot 2uv^2 + uv \cdot \left(-\frac{1}{u^2 v}\right) = \frac{1}{u} \end{aligned}$$

$$\begin{aligned} h'_v(u,v) &= g'_x(f(u,v))(f_1)'_v(u,v) + g'_y(f(u,v))(f_2)'_v(u,v) = \\ &= \frac{1}{u^2 v^2} \cdot 2u^2 v + uv \cdot \left(-\frac{1}{uv^2}\right) = \frac{1}{v} \end{aligned}$$

$$J = (h'_u(u, v), h'_v(u, v)) = \left( \frac{1}{u}, \frac{1}{v} \right)$$

Ellenőrizzük ezt az eredményt úgy, hogy kiszámoljuk a  $h(u, v)$  függvényt, majd deriváljuk.

$$h(u, v) = \ln(u^2v^2) + \ln\left(\frac{1}{uv}\right) = 2 \ln u + 2 \ln v - \ln u - \ln v = \ln u + \ln v$$

**8.146.** Jelölje  $t$  az  $\mathbf{r}$  síkgörbe változóját.  $\mathbf{r}(t) = (x(t), y(t))$

$$h = f \circ \mathbf{r}, \quad h(t) = f(\mathbf{r}(t)) = x(t) + y(t),$$

$$h'(t) = h'(\mathbf{r}(t)) \cdot \mathbf{r}'(t) = x'(t) + y'(t)$$

## 8.5 Többváltozós szélsőérték

**8.152.** Az  $f(x, y) = x^2 + e^y \sin(x^3y^2)$  függvény folytonos a kompakt (korlátos és zárt)

$$H = \{(x, y) : x^2 + y^2 \leq 1\}$$

halmazon, ezért a [Weierstrass-tétel](#) szerint van abszolút maximuma és minimuma  $H$ -n.

**8.157.** Az  $f(x, y) = x^3y^2(1 - x - y)$  függvény mindenütt folytonos, a korlátos és zárt

$$H = \{(x, y) : 0 \leq x, 0 \leq y, x + y \leq 1\}$$

halmazon (zárt háromszög)  $f$  nem negatív. A háromszög peremén (határán)  $f(x, y) = 0$ , a belsejében pedig  $f(x, y) > 0$ . Ezért az  $f$  függvény maximuma a háromszög belsejében van, és így ez lokális maximum is. Számoljuk ki az  $f$  függvény stacionárius pontjait, azaz a derivált gyökeket ([8.7. tétel](#)), ha  $x, y > 0$ ,  $x + y < 1$ .

$$f'_x(x, y) = 3x^2y^2(1 - x - y) - x^3y^2 = 0, \quad 4x + 3y = 3$$

$$f'_y(x, y) = 2x^3y(1 - x - y) - x^3y^2 = 0, \quad 2x + 3y = 2$$

$$x = \frac{1}{2}, \quad y = \frac{1}{3}$$

Mivel csak egy gyököt kaptunk, ezért ez a maximumhely.



**8.163.** Az  $f(x, y) = 3x^2 + 5y^2$  függvény sehol sem negatív, és az origót kivéve minden pontban szigorúan monoton a koordináta-tengelyek mentén, ezért egyetlen szélsőértéke az origóban van, mégpedig minimum. Ellenőrizzük ezt a tényt a derivált vizsgálatával (8.7. tétel).

$$f'_x(x, y) = 6x = 0, \quad x = 0$$

$$f'_y(x, y) = 10y = 0, \quad y = 0$$

Tehát az origó az egyetlen stacionárius pont.

**8.169.** Keressük meg az  $f(x, y) = -y^2 + \sin x$  függvény stacionárius pontjait.

$$f'_x(x, y) = \cos x = 0, \quad x = (2n + 1)\frac{\pi}{2}, \quad n \in \mathbb{Z}$$

$$f'_y(x, y) = -2y = 0, \quad y = 0$$

Tehát a függvény stacionárius pontjai az  $x$ -tengelyen a  $\{\mathbf{p}_n = ((2n + 1)\frac{\pi}{2}, 0) : n \in \mathbb{Z}\}$  pontok. Vizsgáljuk meg a megfelelő kvadratikus alakok definittségét (8.7. tétel).

$$f''_{xx}(x, y) = -\sin x, \quad f''_{xy}(x, y) = f''_{yx}(x, y) = 0, \quad f''_{yy}(x, y) = -2$$

A Hesse-mátrixok ezekben a pontokban

$$H_n = \begin{pmatrix} (-1)^{n+1} & 0 \\ 0 & -2 \end{pmatrix}$$

A  $H_n$  mátrix determinánsa negatív ha  $n$  páratlan, ezért ezekben a pontokban nincs szélsőérték.

Ha  $n$  páros, akkor  $f$ -nek a  $\mathbf{p}_n$ -ben maximuma van, mert  $f''_{xx} < 0$  ezekben a pontokban.

**8.176.** Írjuk fel a két egyenes egy-egy tetszőleges pontjának a távolságát

$$d(\mathbf{p}(t), \mathbf{q}(s)) = \sqrt{(2t - 3s)^2 + (t - s)^2 + (2 - t - 2s)^2}, \quad t, s \in \mathbb{R}.$$

A távolságok minimuma ugyanott van, ahol a távolságok négyzetének a minimuma. Keressük tehát az

$$f(t, s) = (2t - 3s)^2 + (t - s)^2 + (2 - t - 2s)^2 = 6t^2 - 10ts + 14s^2 - 4t - 8s + 4$$

kétváltozós függvény minimumát a síkon.

$$f'_t(t, s) = 12t - 10s - 4 = 0, \quad 6t - 5s = 2$$





$$f'_s(t, s) = -10t + 28s - 8 = 0, \quad -5t + 14s = 4$$

$$t = \frac{48}{59}, \quad s = \frac{34}{59}, \quad \min \{f(t, s) : t, s \in \mathbb{R}\} = \frac{4}{59}$$

Tehát a két egyenes távolsága  $\frac{2}{\sqrt{59}}$ .

**8.182.**

$$f(x, y) = (x + y)^2, \quad f'_x(x, y) = f'_y(x, y) = 2(x + y)$$

Tehát az  $x + y = 0$  egyenes összes pontja kritikus pont. Ezekben a pontokban a függvény értéke nulla, másutt pozitív, tehát  $f$ -nek minimuma van az  $x + y = 0$  pontjaiban. Megjegyezzük, hogy ezekben a pontokban nem tudunk dönteni a második parciális deriváltak segítségével, mert a kvadratikus alak szemidefinit:

$$f''_{xx} = f''_{xy} = f''_{yy} = 2, \quad D = \begin{vmatrix} 2 & 2 \\ 2 & 2 \end{vmatrix} = 0.$$

**8.190.**

$$f(x, y, z) = xyz + x^2 + y^2 + z^2$$

$$f'_x(x, y, z) = yz + 2x = 0, \quad f'_y(x, y, z) = xz + 2y = 0,$$

$$f'_z(x, y, z) = xy + 2z = 0$$

Az egyenletek átalakítása után

$$xyz + 2x^2 = 0, \quad xyz + 2y^2 = 0, \quad xyz + 2z^2 = 0$$

Innen  $x^2 = y^2 = z^2$ . Könnyen látható, hogy ha az egyik változó nulla, akkor a másik kettő is. Az egyik kritikus pont tehát az

$$\mathbf{a} = (0, 0, 0) \text{ (origó).}$$

A többi esetet nézve  $xyz$  negatív kell, hogy legyen, ezért vagy mindhárom negatív, és akkor

$$\mathbf{b} = (-2, -2, -2)$$

megoldás, vagy az egyik negatív, a másik kettő pozitív, és akkor a

$$\mathbf{c}_1 = (-2, 2, 2), \quad \mathbf{c}_2 = (2, -2, 2), \quad \mathbf{c}_3 = (2, 2, -2)$$

a további három kritikus pont. Mivel a függvény változóinak szerepe felcserélhető, ezért elég a három utolsó gyök közül az egyiket megvizsgálni.

$$f''_{xx} = 2, \quad f''_{xy} = f''_{yx} = z, \quad f''_{xz} = f''_{zx} = y, \quad f''_{yz} = f''_{zy} = x,$$



$$f''_{yy} = 2, \quad f''_{zz} = 2$$

A Hesse-mátrix **a**-ban

$$H_a = \begin{pmatrix} 2 & 0 & 0 \\ 0 & 2 & 0 \\ 0 & 0 & 2 \end{pmatrix}.$$

Mivel a sarok-determinánsok pozitívak, ezért az origóban minimum van.

A Hesse-mátrix **b**-ben

$$H_b = \begin{pmatrix} 2 & -2 & -2 \\ -2 & 2 & -2 \\ -2 & -2 & 2 \end{pmatrix}.$$

A kvadratikus alak indefinit, mivel van negatív ( $-2$ ) és pozitív ( $4$ ) sajátértéke is. Tehát a  $\mathbf{q} = (-2, -2, -2)$  pontban nincs szélsőérték. Ezt beláthatjuk úgy is, hogy megmutatjuk, hogy a  $\mathbf{q}$  ponthoz akármilyen közel az  $f$  felvesz  $f(-2, -2, -2) = 4$ -nél nagyobb és kisebb értéket is. Ugyanis a  $g(x) = f(x, x, x) = x^3 + 3x^2$  függvénynek szigorú lokális maximuma van  $-2$ -ben, a  $h(x) = f(x, -2, -2) = x^2 + 4x + 8$  függvénynek pedig szigorú minimuma.

Végül pedig például  $\mathbf{c}_1$ -ben nincs szélsőérték, mert a  $g(x) = f(x, -x, -x) = x^3 + 3x^2$  függvénynek szigorú lokális maximuma van  $-2$ -ben, a  $h(x) = f(x, 2, 2) = x^2 + 4x + 8$ -nek pedig szigorú minimuma.

**8.197.**

A Lagrange-multiplikátor módszer szerint keressük az

$$L(x, y) = 30 - \frac{x^2}{100} - \frac{y^2}{100} + \lambda(4x^2 + 9y^2 - 36)$$

kritikus pontjait a  $4x^2 + 9y^2 = 36$  feltétel mellett.

$$L'_x(x, y) = -\frac{x}{50} + 8\lambda x = \left(8\lambda - \frac{1}{50}\right)x = 0$$

$$L'_y(x, y) = -\frac{y}{50} + 18\lambda y = \left(18\lambda - \frac{1}{50}\right)y = 0$$

$$4x^2 + 9y^2 = 36$$

A háromismeretlenes egyenletrendszer megoldásai

$$x_1 = 0, \quad y_1 = 2, \quad \lambda_1 = \frac{1}{18 \cdot 50}$$



$$x_2 = 3, \quad y_2 = 0, \quad \lambda_2 = \frac{1}{8 \cdot 50}$$

Mivel a feltételt kielégítő pontok egy kompakt halmaz (zárt körvonal) pontjai, ezért itt  $F$ -nek van maximuma és minimuma is. Mivel a zárt körvonalnak nincs „pereme”, ezért a szélsőértékek a fenti két pontban vannak, lokális szélsőértékek.

$$F(0, 2) = 30 - \frac{4}{100}, \quad F(3, 0) = 30 - \frac{9}{100}, \quad F(0, 2) > f(3, 0)$$

Tehát az ösvény legmagasabb pontja  $(0, 2)$  felett, legalacsonyabb pontja pedig  $(3, 0)$  felett van.

**8.202.**

Mivel  $f(x, y, z)$  minden változójában páratlan, ezért a minimum értékek a maximumok negáltjai. Elég tehát az  $xyz$  függvény maximumát keresni az

$$x > 0, \quad y > 0, \quad z > 0, \quad x^2 + y^2 + z^2 = 3$$

feltételek mellett. A mértani és a négyzetes közepek közötti egyenlőséget használva

$$xyz \leq \left( \sqrt{\frac{x^2 + y^2 + z^2}{3}} \right)^3 = 1$$

és egyenlőség pontosan akkor van, ha  $x = y = z$ . De akkor  $x = y = z = 1$ .

**8.208.**

Ha a téglá térfogata  $V$ , akkor tehát keressük a

$$F(x, y, z) = 2(xy + xz + yz)$$

függvény minimumát az

$$xyz = V, \quad x > 0, \quad y > 0, \quad z > 0$$

feltételek mellett. Ez nyilván ugyanott van ahol az  $f(x, y, z) = xy + xz + yz$  függvénynek. A **Lagrange-multiplikátor** módszer szerint keressük az

$$L(x, y, z) = xy + xz + yz + \lambda(xyz - V)$$

függvény kritikus pontjait.

$$L'_x(x, y, z) = y + z + \lambda yz = 0$$

$$L'_y(x, y, z) = x + z + \lambda xz = 0$$

$$L'_z(x, y, z) = x + y + \lambda xy = 0$$

Az első egyenletet  $yz$ -vel, a másodikat  $xz$ -vel, a harmadikat  $xy$ -nal osztva kapjuk, hogy

$$\frac{1}{z} + \frac{1}{y} = \frac{1}{z} + \frac{1}{x} = \frac{1}{y} + \frac{1}{x} = -\lambda,$$

ahonnan  $x = y = z = \sqrt[3]{V}$ .

## Többváltozós Riemann-integrál

### 9.1 Jordan-mérték

**9.1.**  $H = \{(x, y) : 0 \leq x < 1, 0 < y \leq 1\}$ ,  $t(H) = 1$ .

**9.2.**

$$H = \{(x, y) : x \in \mathbb{Q}, y \in \mathbb{Q}, 0 \leq x \leq 1, 0 \leq y \leq 1\},$$

$$\text{int } H = \emptyset, \quad \overline{H} = N = [0, 1] \times [0, 1].$$

Az 9.1. tétel szerint  $b(H) = 0 \neq 1 = k(H)$ , és így  $H$  nem Jordan-mérhető.

**9.8.** Lásd a 9.2. feladatot.

**9.12.**  $H = \{(x, y, z) : x \in \mathbb{Q}, y \in \mathbb{Q}, z \in \mathbb{Q}, 0 \leq x \leq 1, 0 \leq y \leq 1, 0 \leq z \leq 1\}$   
Hasonlóan a 9.2. feladathoz  $b(H) = 0$ ,  $k(H) = 1$ .

**9.18.** Nem, lásd a 9.2. feladatot.

**9.24.** Minden  $n \in \mathbb{N}^+$  esetén a  $K_n = \left\{ \mathbf{p} \in \mathbb{R}^2 : |\mathbf{p}| = \frac{1}{n} \right\}$  körvonal null-mértékű. Megmutatjuk, hogy a  $H = \bigcup_{n=1}^{\infty} K_n$  halmaz is mérhető és null-mértékű. Ehhez elég megmutatni, hogy  $H$  külső mértéke nulla. Legyen  $\varepsilon > 0$  tetszőleges,  $r > 0$  esetén  $G_r = \{ \mathbf{p} \in \mathbb{R}^2 : |\mathbf{p}| < r \}$  az origó középpontú  $r$  sugarú nyílt körlap,

$$H_r = G_r \cup \bigcup \left\{ K_n : r \leq \frac{1}{n} \right\}.$$

Ekkor  $H_r$  véges sok mérhető halmaz diszjunkt uniója, ezért mérhető. Mivel minden  $r > 0$  esetén  $H \subset H_r$ , ezért

$$k(H) \leq k(H_r) = t(H_r) = t(G_r) = \pi r^2 < \varepsilon,$$

ha  $r$  elég kicsi.

**9.30.** Felhasználjuk, hogy minden (nem elfajuló) téglá tartalmaz gömböt, és minden gömb tartalmaz (nem elfajuló) téglát. Legyen tehát  $A \subset \mathbb{R}^n$  tetszőleges korlátos halmaz.

$b(A) = 0$  akkor és csak akkor, ha  $A$  nem tartalmaz téglát,  
 akkor és csak akkor, ha  $A$  nem tartalmaz gömböt,  
 akkor és csak akkor, ha  $\text{int}(A) = \emptyset$ .

## 9.2 Többváltozós Riemann-integrál

**9.34.**

$$f(x, y) = \begin{cases} |x|, & \text{ha } y \in \mathbb{Q} \\ 0, & \text{ha } y \notin \mathbb{Q} \end{cases}$$

$$g(y) = \int_{-1}^1 f(x, y) dx = 0, \quad \int_0^1 \left( \int_{-1}^1 f(x, y) dx \right) dy = \int_0^1 g(y) dy = 0.$$

Bontsuk ketté a  $H$  halmazt:

$H_1 = \{(x, y) \in H : x \leq 0\}$  és

$H_2 = \{(x, y) \in H : x > 0\}$ .

Ekkor  $H_1$ -en minden felső összeg nulla, és  $H_2$ -n minden felső összeg legalább  $1/2$ , és így

$$\overline{\int}_H f \geq \overline{\int}_{H_1} f + \overline{\int}_{H_2} f \geq \frac{1}{2}.$$

Mivel  $H$ -n minden alsó összeg nulla, ezért a Darboux-integrálok nem egyeznek meg,

$$\underline{\int}_H f = 0 < \frac{1}{2} \leq \overline{\int}_H f,$$

tehát  $f$  nem integrálható  $H$ -n.

**9.40.**

Legyen  $A = \left\{ (x, y) \in N : x \geq \frac{1}{2} \right\}$ ,  $B = N \setminus A = \left\{ (x, y) \in N : x < \frac{1}{2} \right\}$ .

Mindkét halmaz mérhető (téglalapok), és rajtuk az

$$f(x, y) = \begin{cases} 1, & \text{ha } x \geq 1/2 \\ 2, & \text{ha } x < 1/2 \end{cases}$$

függvény konstans. Így tehát  $f$  integrálható  $N$ -en, és

$$\iint_N f(x, y) dx dy = \iint_A 1 dx dy + \iint_B 2 dx dy = \frac{1}{2} + 1 = \frac{3}{2}$$

**9.43.** Mivel  $f(x, y)$  nem korlátos, ezért nem integrálható. Másrészt minden vízszintes és függőleges egyenesen a függvény véges sok hely kivételével nulla.

**Megjegyzés:** Megadható korlátos példa is. Legyen ugyanis

$$H = \left\{ (x, y) \in N : x, y \in \mathbb{Q}, x = \frac{p_x}{q}, y = \frac{p_y}{q}, (p_x, q) = (p_y, q) = 1 \right\}.$$

Kissé pongyola módon,  $H$  azon racionális pontpárokból áll, amelyeknek „közös a nevezőjük” (egyszerűsítés után).

Legyen  $f(x, y)$  a  $H$  halmaz karakterisztikus függvénye, azaz

$$f(x, y) = \chi_H(x, y) = \begin{cases} 1 & \text{ha } (x, y) \in H \\ 0 & \text{egyébként} \end{cases}.$$

**9.46.**

$$\begin{aligned} \iint_N \sin(x + y) \, dx \, dy &= \int_0^1 \left( \int_0^1 \sin(x + y) \, dx \right) dy = \\ &= \int_0^1 [-\cos(x + y)]_{x=0}^1 dy = \\ &= \int_0^1 (\cos y - \cos(1 + y)) \, dy = [\sin y - \sin(1 + y)]_0^1 = \\ &= 2 \sin 1 - \sin 2 \end{aligned}$$

**9.52.**

$$\iint_N e^{x+2y} \, dx \, dy = \left( \int_0^1 e^x \, dx \right) \cdot \left( \int_0^1 e^{2y} \, dy \right) = (e - 1) \frac{e^2 - 1}{2}$$

**9.58.**

$$\begin{aligned} \iiint_T (x + y) \, dx \, dy &= \int_1^3 \left( \int_0^1 (x + y) \, dx \right) dy = \int_1^3 \left[ \frac{x^2}{2} + xy \right]_{x=0}^1 dy = \\ &= \int_1^3 \left( \frac{1}{2} + y \right) dy = \left[ \frac{y}{2} + \frac{y^2}{2} \right]_{y=1}^3 = 5 \end{aligned}$$

**9.60.**

$$\begin{aligned} \iint_T e^{x+y} dx dy &= \left( \int_0^1 e^x dx \right) \cdot \left( \int_0^1 e^y dy \right) = \left( \int_0^1 e^x dx \right)^2 = \\ &= [e^x]_0^1 = (e - 1)^2 \end{aligned}$$

**9.69.**

Alkalmazzuk a körlapokra vonatkozó transzformációs képletet:

$$\begin{aligned} \iint_T xy dx dy &= \int_0^2 \left( \int_0^{2\pi} r(r \cos \varphi + 1)(r \sin \varphi - 1) d\varphi \right) dr = \\ &= \int_0^2 \left( \int_0^{2\pi} \left( \frac{r^3 \sin(2\varphi)}{2} + r^2(\sin \varphi - \cos \varphi) - r \right) d\varphi \right) dr = \\ &= \left( \int_0^2 \frac{r^3}{2} dr \right) \left( \int_0^{2\pi} \sin(2\varphi) d\varphi \right) + \\ &+ \left( \int_0^2 r^2 dr \right) \left( \int_0^{2\pi} (\sin \varphi - \cos \varphi) d\varphi \right) - \\ &- \left( \int_0^2 r dr \right) \left( \int_0^{2\pi} 1 d\varphi \right) = \\ &= - \left( \int_0^2 r dr \right) \left( \int_0^{2\pi} 1 d\varphi \right) = -4\pi \end{aligned}$$

Felhasználtuk, hogy a  $\sin(2\varphi)$  és a  $(\sin \varphi - \cos \varphi)$  függvények primitív függvényei  $2\pi$  szerint periodikusak, ezért megváltozásuk a  $[0, 2\pi]$  intervallumon 0.





9.74.

$$\begin{aligned}
\iiint_T (x + y + z) \, dx \, dy \, dz &= \int_0^3 \left( \int_0^2 \left( \int_0^1 (x + y + z) \, dx \right) dy \right) dz = \\
&= \int_0^3 \left( \int_0^2 \left[ \frac{x^2}{2} + xy + xz \right]_{x=0}^1 dy \right) dz = \\
&= \int_0^3 \left( \int_0^2 \left( \frac{1}{2} + y + z \right) dy \right) dz = \\
&= \int_0^3 \left[ \frac{y}{2} + \frac{y^2}{2} + yz \right]_{y=0}^2 dz = \int_0^3 (3 + 2z) \, dz = [3z + z^2]_0^3 = 18
\end{aligned}$$

9.82.

Jelölje  $H$  az  $y = x^2$ ,  $y = 2x^2$ ,  $xy = 1$ ,  $xy = 2$  görbék által határolt síkidomot. Tekintsük azt a


$$\Psi: \mathbb{R}^2 \rightarrow \mathbb{R}^2, \quad \Psi(u, v) = (x(u, v), y(u, v))$$

transzformációt, amelyet az

$$y = ux^2, \quad xy = v$$

egyenletrendszer határoz meg, azaz

$$x = u^{-1/3}v^{1/3}, \quad y = u^{1/3}v^{2/3}.$$

A  $H$  síkidom

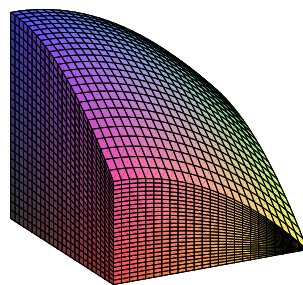
Erre a  $\Psi$  transzformációra teljesülnek az integráltranszformációról szóló tétel feltételei. A  $H$  halmaz a  $T = [1, 2] \times [1, 2]$  négyzet transzformáltja,  $H = \Psi(T)$ . Számoljuk ki a  $\Psi$  Jacobi-determinánsát.

$$\Psi'(u, v) = \begin{pmatrix} -\frac{1}{3}u^{-4/3}v^{1/3} & \frac{1}{3}u^{-1/3}v^{-2/3} \\ \frac{1}{3}u^{-2/3}v^{2/3} & \frac{2}{3}u^{1/3}v^{-1/3} \end{pmatrix}, \quad J = -\frac{1}{3u}, \quad |J| = \frac{1}{3u}$$

$$t(H) = \iint_H dx \, dy = \iint_T \frac{1}{3u} \, du \, dv = \frac{1}{3} \left( \int_1^2 \frac{1}{u} \, du \right) \left( \int_1^2 dv \right) = \frac{\ln 2}{3}$$

**9.88.**  $f(x, y) = 1 - \frac{x^2}{2} - \frac{y^2}{2}$ ,  $H = [0, 1] \times [0, 1]$ ,  
 $N = \{(x, y, z) : (x, y) \in H, 0 \leq z \leq f(x, y)\}$

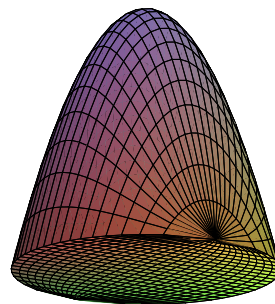
$$\begin{aligned} t(N) &= \iiint_N dx dy dz = \\ &= \iint_H \left( \int_0^{f(x,y)} dz \right) dx dy = \\ &= \iint_H \left( 1 - \frac{x^2}{2} - \frac{y^2}{2} \right) dx dy = \\ &= \int_0^1 \left( \int_0^1 \left( 1 - \frac{x^2}{2} - \frac{y^2}{2} \right) dx \right) dy = \\ &= \int_0^1 \left( \frac{5}{6} - \frac{y^2}{2} \right) dy = \frac{2}{3} \end{aligned}$$



$1 - \frac{x^2}{2} - \frac{y^2}{2}$  alatti test.

**9.94.**  $H = \{(x, y, z) : x^2 + y^2 \leq 1, 0 \leq z \leq 1 - x^2 - y^2\}$ .

$$\begin{aligned} t(H) &= \iiint_H dx dy dz = \\ &= \iint_{x^2+y^2 \leq 1} \left( \int_0^{1-x^2-y^2} dz \right) dx dy = \\ &= \iint_{x^2+y^2 \leq 1} (1 - x^2 - y^2) dx dy = \\ &= \int_0^1 \left( \int_0^{2\pi} r(1 - r^2) d\varphi \right) dr = \\ &= 2\pi \left[ \frac{r^2}{2} - \frac{r^3}{3} \right]_0^1 = \frac{\pi}{3} \end{aligned}$$



$1 - x^2 - y^2$  alatti test.



**9.100.**  $\varrho(x, y) = x^2$ ,  $H = [0, 1] \times [0, 1]$

$$M = \iint_H \varrho(x, y) dx dy = \int_0^1 \left( \int_0^1 x^2 dx \right) dy = \frac{1}{3}$$

$$S_x = 3 \int_0^1 \left( \int_0^1 x^3 dx \right) dy = \frac{3}{4}, \quad S_y = 3 \int_0^1 \left( \int_0^1 x^2 y dx \right) dy = \frac{1}{2}$$

**9.106.** Az  $y = 0$ ,  $x = 2$ ,  $y = 1$ ,  $y = x$  egyenesek által határolt  $H$  síkidom egy trapéz, amelyik egy normáltartomány az  $y$ -tengely mentén.

$$H = \{(x, y) : 0 \leq y \leq 1, y \leq x \leq 2\}$$

Ha  $\varrho(x, y) = y$ , akkor

$$M = \iint_H y dx dy = \int_0^1 \left( \int_y^2 y dx \right) dy = \int_0^1 y(2 - y) dy = \frac{2}{3}$$

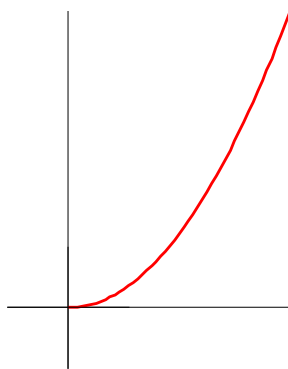
$$\begin{aligned} S_x &= \frac{3}{2} \iint_H xy dx dy = \frac{3}{2} \int_0^1 \left( \int_y^2 xy dx \right) dy = \\ &= \frac{3}{2} \int_0^1 y \left( 2 - \frac{y^2}{2} \right) dy = \frac{3}{2} \cdot \frac{7}{8} = \frac{21}{16} \end{aligned}$$

$$\begin{aligned} S_y &= \frac{3}{2} \iint_H y^2 dx dy = \frac{3}{2} \int_0^1 \left( \int_y^2 y^2 dx \right) dy = \\ &= \frac{3}{2} \int_0^1 y^2 (2 - y) dy = \frac{3}{2} \left( \frac{2}{3} - \frac{1}{4} \right) = \frac{5}{8} \end{aligned}$$

## Vonalintegrál és primitív függvény

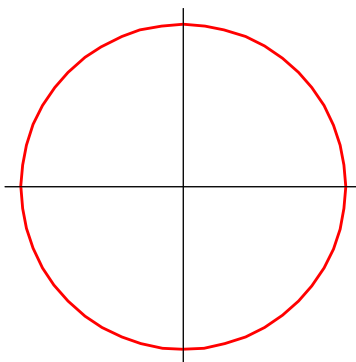
### 10.1 Sík és térgörbék

10.1.



$$\mathbf{r} = t \cdot \mathbf{i} + t^2 \cdot \mathbf{j}$$
$$t \in [0, 4]$$

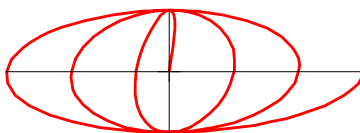
10.7.



$$\mathbf{r} = \cos t \cdot \mathbf{i} + \sin t \cdot \mathbf{j}$$
$$t \in [0, 2\pi]$$




10.13.



$$\mathbf{r} = t \cos t \cdot \mathbf{i} + \sin t \cdot \mathbf{j}$$

$$t \in [0, 6\pi]$$

10.19.



$$\mathbf{r} = 2 \sin t \cdot \mathbf{i} - t^2 \cdot \mathbf{j} + \cos t \cdot \mathbf{k}$$

$$t \in [2, 6\pi]$$

10.25.

A  $x^2 - xy^3 + y^5 = 17$  síkgörbe a  $P(5, 2)$  pont körül meghatároz egy implicit  $y(x)$  függvényt. Ennek a függvénynek keressük az érintőegyenését a  $P$  pontban. Az implicit egyenlet deriválásával megkapjuk az érintő meredekségét:

$$2x - y^3 - 3xy^2y' + 5y^4y' = 0, \quad y' = \frac{y^3 - 2x}{5y^4 - 3xy^2} = \frac{8 - 10}{80 - 60} = -\frac{1}{10}.$$

Így tehát az érintő egyenlete a  $P(5, 2)$  pontban

$$y = -\frac{1}{10}(x - 5) + 2, \text{ vagy normál alakban } x + 10y = 25.$$



**10.27.** Számoljuk ki az érintőegyenes  $\mathbf{v}$  irányvektorát, azaz a görbe deriváltvektorát a  $t = 2$  paraméterérték esetén:

$$\mathbf{r}(t) = (t - 3)\mathbf{i} + (t^2 + 1)\mathbf{j} + t^2\mathbf{k}$$

$$\dot{\mathbf{r}}(t) = \mathbf{i} + 2t\mathbf{j} + 2t\mathbf{k}$$

Az irányvektor:  $\mathbf{v} = \dot{\mathbf{r}}(2) = \mathbf{i} + 4\mathbf{j} + 4\mathbf{k}$ .

Az érintési pont:  $\mathbf{r}_0 = \mathbf{r}(2) = -\mathbf{i} + 5\mathbf{j} + 4\mathbf{k}$ .

Az érintő irányvektoros alakja:

$$\mathbf{r}_0 + \mathbf{v}t = (t - 1)\mathbf{i} + (4t + 5)\mathbf{j} + (4t + 4)\mathbf{k}.$$

**10.29.** Az 10.2. képletek szerint a ciklois ívhossza

$$\begin{aligned} L &= \int_0^{2\pi} \sqrt{\dot{x}^2 + \dot{y}^2} dt = \int_0^{2\pi} \sqrt{r^2(1 - \cos t)^2 + r^2 \sin^2 t} dt = \\ &= r \int_0^{2\pi} \sqrt{2 - 2\cos t} dt = r \int_0^{2\pi} \sqrt{4 \sin^2 \frac{t}{2}} dt = \\ &= 2r \int_0^{2\pi} \sin \frac{t}{2} dt = 4r \left[ -\cos \frac{t}{2} \right]_0^{2\pi} = 8r. \end{aligned}$$

## 10.2 Skalár-, és vektormezők, differenciáloperátorok

**10.35.** Legyen például

$$\begin{aligned} f(x, y) &= \cos(2\pi x) \cdot \mathbf{i} + \sin(2\pi x) \cdot \mathbf{j}, \\ (x, y) &\in H = \{(x, y) : 0 < x \leq 1, y = 0\}. \end{aligned}$$

Ekkor  $R_f = K = \{(x, y) : x^2 + y^2 = 1\}$ .

**10.39.**  $f(x, y) = x^4 - 6x^2y^2 + y^4$ ,  
 $\text{grad } f = \frac{\partial}{\partial x} f \cdot \mathbf{i} + \frac{\partial}{\partial y} f \cdot \mathbf{j} = (4x^3 - 12xy^2) \cdot \mathbf{i} + (4y^3 - 12x^2y) \cdot \mathbf{j}$

**10.43.**  $f(x, y, z) = x + xy^2 + x^2z^3$ ,  $\mathbf{p} = (2, -1, 1)$

$$\text{grad } f(x, y, z) = (1 + y^2 + 2xz^3) \cdot \mathbf{i} + 2xy \cdot \mathbf{j} + 3x^2z^2 \cdot \mathbf{k}$$

$$\text{grad } f(2, -1, 1) = 6\mathbf{i} - 4\mathbf{j} + 12\mathbf{k}$$

**10.47.**

$$\text{grad } U(\mathbf{r}) = \nabla U(\mathbf{r}) = \nabla \left( \mathbf{r}^2 + \frac{1}{\mathbf{r}^2} \right) = 2 \left( 1 - \frac{1}{\mathbf{r}^4} \right) \mathbf{r}$$

**10.50.**

A  $z = f(x, y) = x^2 + y^2$  függvény grafikonjának érintősíkja az  $x = 1$ ,  $y = 2$  pont felett

$$z = f(x_0, y_0) + f'_x(x_0, y_0)(x - x_0) + f'_y(x_0, y_0)(y - y_0) = 5 + 2(x - 1) + 4(y - 2)$$

**10.51.**

$$\mathbf{r} = u \cos v \cdot \mathbf{i} + u \sin v \cdot \mathbf{j} + u \cdot \mathbf{k}, \quad A = [0, 1] \times [0, \pi]$$

$$\mathbf{r}'_u = \cos v \cdot \mathbf{i} + \sin v \cdot \mathbf{j} + \mathbf{k}, \quad \mathbf{r}'_v = -u \sin v \cdot \mathbf{i} + u \cos v \cdot \mathbf{j}$$

$$\mathbf{r}'_u \times \mathbf{r}'_v = \begin{vmatrix} \mathbf{i} & \mathbf{j} & \mathbf{k} \\ \cos v & \sin v & 1 \\ -u \sin v & u \cos v & 0 \end{vmatrix} = -u \cos v \cdot \mathbf{i} - u \sin v \cdot \mathbf{j} + u \cdot \mathbf{k}$$

$$|\mathbf{r}'_u \times \mathbf{r}'_v| = \sqrt{u^2 \cos^2 v + u^2 \sin^2 v + u^2} = u\sqrt{2}$$

A felszín kiszámolásáról szóló tétel szerint

$$S = \iint_A |\mathbf{r}'_u \times \mathbf{r}'_v| \, du \, dv = \sqrt{2} \int_0^\pi \left( \int_0^1 u \, du \right) \, dv = \frac{\sqrt{2}}{2} \pi.$$

### 10.3 Vonalintegrál

**10.55.**

A vonalintegrál kiszámolásáról szóló tétel szerint

$$\begin{aligned} & \int_{\Gamma} (x + y) \, dx + (x - y) \, dy = \\ &= \int_0^\pi [(\cos t + \sin t)(-\sin t) + (\cos t - \sin t) \cos t] \, dt = \\ &= \int_0^\pi (\cos 2t - \sin 2t) \, dt = \left[ \frac{\sin 2t}{2} + \frac{\cos 2t}{2} \right]_0^\pi = 0 \end{aligned}$$

**Megjegyzés:**

Mivel a  $\mathbf{v} = (x + y) \cdot \mathbf{i} + (x - y) \cdot \mathbf{j}$  vektormező egy primitív függvénye  $U(x, y) = \frac{x^2}{2} + xy - \frac{y^2}{2}$ , ezért a konzervatív erőter integrálja a primitív függvény megváltozása:

$$\int_{\Gamma} \mathbf{v} \, d\mathbf{r} = U(-1, 0) - U(1, 0) = 0$$

**10.61.** A  $\Gamma_1$  görbe egy parametrizálása  $x = t$ ,  $y = t$ , a  $\Gamma_2$  görbének pedig  $x = t$ ,  $y = t^2$ , ahol  $0 \leq t \leq 1$ . A  $\mathbf{v} = y \cdot \mathbf{i} + x \cdot \mathbf{j}$  vektormező integráljai

$$\int_{\Gamma_1} y \, dx + x \, dy = \int_0^1 2t \, dt = 1, \quad \int_{\Gamma_2} y \, dx + x \, dy = \int_0^1 3t^2 \, dt = 1.$$

**Megjegyzés:**

A  $\mathbf{v} = y \cdot \mathbf{i} + x \cdot \mathbf{j}$  vektormező konzervatív  $U(x, y) = xy$  primitív függvénnyel.

**10.67.** A vonalintegrál nem létezik, mert  $\mathbf{v}$  nincs értelmezve az origóban, a  $\Gamma$  görbe pedig átmegy az origón.

**10.70.**

$$\begin{aligned} & \int_{\Gamma} (x + y) \, dx + (y + z) \, dy + (z + x) \, dz = \\ & = \int_0^{\pi} [(\cos t + \sin t)(-\sin t) + (\sin t + t) \cos t + (t + \cos t)] \, dt = \\ & = \int_0^{\pi} (-\sin^2 t + t \cos t + t + \cos t) \, dt = \\ & = \left[ -\frac{t}{2} + \frac{\cos 2t}{4} + t \sin t + \cos t + \frac{t^2}{2} + \sin t \right]_0^{\pi} = \\ & = -\frac{\pi}{2} + 0 + 0 - 2 + \frac{\pi^2}{2} + 0 = \frac{\pi^2}{2} - \frac{\pi}{2} - 2 \end{aligned}$$





**10.77.** A  $\Gamma$  görbe paraméteres alakja:

$$\mathbf{r}(t) = t \cdot \mathbf{i} + t^2 \cdot \mathbf{j}, \quad -1 \leq t \leq 1$$

azaz

$$x = t, \quad y = t^2, \quad dx = \dot{x}(t) = 1, \quad dy = \dot{y}(t) = 2t, \quad -1 \leq t \leq 1.$$

A vonalintegrál kiszámolásáról szóló képlet szerint

$$\begin{aligned} & \int_{\Gamma} (x^2 - 2xy) dx + (y^2 - 2xy) dy = \\ &= \int_{-1}^1 [(t^2 - 2t^3) \cdot 1 + (t^4 - 2t^3) \cdot 2t] dt = \\ &= \int_{-1}^1 (t^2 - 2t^3 - 4t^4 + 2t^5) dt = \left[ \frac{t^3}{3} - \frac{2t^4}{4} - \frac{4t^5}{5} + \frac{2t^6}{6} \right]_{t=-1}^1 = \\ &= \frac{2}{3} - \frac{8}{5} = -\frac{14}{15} \end{aligned}$$

**10.78.** Az ellipszis természetes paraméterezéseként válasszuk az

$$x = a \cos t, \quad y = b \sin t, \quad 0 \leq t \leq 2\pi$$

paraméterezést. Ekkor  $dx$ , illetve  $dy$  helyébe

$$dx = -a \sin t, \quad dy = b \cos t$$

kerül. Így az integrál visszavezethető egyváltozós Riemann-integrálra:

$$\begin{aligned} & \oint_{\Gamma} (x + y) dx + (x - y) dy = \\ &= \int_0^{2\pi} [-a(a \cos t + b \sin t) \sin t + b(a \cos t - b \sin t) \cos t] dt = \\ &= \int_0^{2\pi} (-ab \sin^2 t + ab \cos^2 t - a^2 \sin t \cos t - b^2 \sin t \cos t) dt = \\ &= \int_0^{2\pi} (ab \cos 2t - \frac{a^2 + b^2}{2} \sin 2t) dt = 0 \end{aligned}$$

**Megjegyzés:**

Könnyen látható, hogy az  $U(x, y) = \frac{x^2}{2} + xy - \frac{y^2}{2}$  függvény primitív függvénye az integrandusnak, ezért a körintegrál értéke 0.

**10.84.** Igen, a  $\mathbf{v} = (x + y) \cdot \mathbf{i} + (x - y) \cdot \mathbf{j}$  vektormező primitív függvényei:

$$U(x, y) = \frac{x^2}{2} + xy - \frac{y^2}{2} + C.$$

**10.90.** Nincs primitív függvény, mivel a keresztbe vett deriváltak nem egyeznek meg:

$$\frac{\partial}{\partial y}(\cos xy) = -x \sin xy \neq \frac{\partial}{\partial x}(\sin xy) = y \cos xy$$

**10.95.** A  $\mathbf{v} = \frac{y}{x^2 + y^2} \cdot \mathbf{i} - \frac{x}{x^2 + y^2} \cdot \mathbf{j}$  vektormező keresztbe vett deriváltjai megegyeznek:

$$\frac{\partial}{\partial y} \left( \frac{y}{x^2 + y^2} \right) = \frac{x^2 - y^2}{(x^2 + y^2)^2}, \quad \frac{\partial}{\partial x} \left( -\frac{x}{x^2 + y^2} \right) = \frac{x^2 - y^2}{(x^2 + y^2)^2}.$$

Mégsincs primitív függvény, mert ha  $\Gamma : x = \cos t, y = \sin t, 0 \leq t \leq 2\pi$  a zárt egység-körvonal, akkor

$$\oint_{\Gamma} \frac{y}{x^2 + y^2} dx - \frac{x}{x^2 + y^2} dy = \int_0^{2\pi} (-\sin^2 t - \cos^2 t) dt = -2\pi \neq 0.$$

A problémát az okozza, hogy  $\mathbf{v}$  nincs értelmezve az origóban, a  $\Gamma$  görbe pedig megkerüli az origót.

**10.101.** Az  $\mathbf{E} = (y + x) \cdot \mathbf{i} + x \cdot \mathbf{j}$  erőter konzervatív, primitív függvénye

$$U(x, y) = \frac{x^2}{2} + xy, \text{ potenciálja } \Phi(x, y) = -U(x, y) = -\frac{x^2}{2} - xy.$$

**10.107.** Mivel nincs értelmezve az origóban, ezért nincs potenciálfüggvénye az egész síkon. Viszont a pontozott síkon,  $\mathbb{R}^2 \setminus \{\mathbf{0}\}$ -n már van:

$$\Phi(x, y) = \frac{1}{(x^2 + y^2)^{1/2}}.$$



**10.108.** A  $\mathbf{v} = yz \cdot \mathbf{i} + xz \cdot \mathbf{j} + xy \cdot \mathbf{k}$  vektormező rotációja nulla a tér minden pontjában,

$$\frac{\partial}{\partial y}(yz) = \frac{\partial}{\partial x}(xz) = z, \quad \frac{\partial}{\partial z}(yz) = \frac{\partial}{\partial x}(xy) = y, \quad \frac{\partial}{\partial z}(xz) = \frac{\partial}{\partial y}(xy) = x,$$

ezért van primitív függvénye,  $U(x, y, z)$ . Mivel  $U'_x = yz$ , ezért

$$U(x, y, z) = \int yz \, dx = xyz + f(y, z).$$

$$U'_y = \frac{\partial}{\partial y}(xyz + f(y, z)) = xz + f'_y(y, z) = xz.$$

Innen  $f'_y(y, z) = 0$ , azaz  $f(y, z)$  nem függ  $y$ -től,  $f(y, z) = g(z)$ .

$$U'_z = \frac{\partial}{\partial z}(xyz + g(z)) = xy + g'(z) = xy,$$

és így  $g'(z) = 0$ , azaz a  $g$  függvény konstans. Tehát  $U(x, y, z) = xyz + C$ , ahol  $C$  tetszőleges konstans lehet.

Persze az  $xyz$  primitív függvényt minden számolás nélkül is elég könnyű megtalálni.

**10.113.** A  $\mathbf{v} = 3xy^3z^4 \cdot \mathbf{i} + 3x^2y^2z^4 \cdot \mathbf{j} + x^2y^3z^3 \cdot \mathbf{k}$  vektormezőnek nincs primitív függvénye, mivel például

$$\frac{\partial}{\partial y}(3xy^3z^4) = 9xy^2z^4 \neq \frac{\partial}{\partial x}(3x^2y^2z^4) = 6xy^2z^4.$$

**10.118.** Keressünk egy olyan  $z(x, y)$  kétváltozós függvényt, amelyre

$$z'_x(x, y) = p(x, y) = x^2 + 2xy - y^2, \quad z'_y(x, y) = q(x, y) = x^2 - 2xy - y^2$$

$$z(x, y) = \int p(x, y) \, dx = \int (x^2 + 2xy - y^2) \, dx = \frac{x^3}{3} + x^2y - xy^2 + g(y)$$

Itt  $g(y)$  egyelőre ismeretlen (deriválható) függvénye  $y$ -nak. Erre a  $z(x, y)$  függvényre teljesülnie kell, hogy

$$z'_y(x, y) = x^2 - 2xy + g'(y) = q(x, y) = x^2 - 2xy - y^2.$$

Ebből az egyenletből

$$g'(y) = -y^2, \text{ ezért } g(y) = -\frac{y^3}{3} + C.$$

Így tehát az összes primitív függvény

$$z(x, y) = \frac{x^3}{3} + x^2y - xy^2 - \frac{y^3}{3} + C.$$

**10.123.**

$$u'_x(x, y, z) = \frac{x + y}{x^2 + y^2 + z^2 + 2xy},$$

$$\begin{aligned} u(x, y, z) &= \int \frac{x + y}{x^2 + y^2 + z^2 + 2xy} dx = \\ &= \frac{1}{2} \ln |x^2 + y^2 + z^2 + 2xy| + f(y, z) \end{aligned}$$

$$u'_y(x, y, z) = \frac{x + y}{x^2 + y^2 + z^2 + 2xy} + f'_y(y, z) = \frac{x + y}{x^2 + y^2 + z^2 + 2xy},$$

tehát  $f(y, z) = g(z)$ .

$$u'_z(x, y, z) = \frac{z}{x^2 + y^2 + z^2 + 2xy} + g'(z) = \frac{z}{x^2 + y^2 + z^2 + 2xy},$$

ezért  $g'(z) = 0$ ,  $g$  konstans.

$$u(x, y, z) = \frac{1}{2} \ln |x^2 + y^2 + z^2 + 2xy| + C$$

az összes primitív függvény.

## Komplex függvények

**11.3.**  $z^2 = (x^2 - y^2) + 2xyi$ , tehát  $u_x = v_y = 2x$  és  $v_x = -u_y = 2y$ .

**11.6.**

$$\begin{aligned} \frac{1}{z^2 + 1} &= \frac{1}{x^2 - y^2 + 1 + 2xyi} = \frac{x^2 - y^2 + 1 - 2xyi}{(x^2 - y^2 + 1)^2 + 4x^2y^2} = \\ &= \frac{x^2 - y^2 + 1 - 2xyi}{(x^2 - y^2 + 1)^2 + 4x^2y^2}. \end{aligned}$$

$$u(x, y) = \frac{x^2 - y^2 + 1}{(x^2 - y^2 + 1)^2 + 4x^2y^2}, \quad v(x, y) = -\frac{2xy}{(x^2 - y^2 + 1)^2 + 4x^2y^2}$$

A parciális deriváltak kiszámolása után látható, hogy teljesülnek a **Cauchy-Riemann differenciálegyenletek**, ha  $z^2 + 1 \neq 0$ .

**11.7.**

$$\operatorname{Re} f(z) = u(x, y) = \sqrt{|xy|}, \quad \operatorname{Im} f(z) = v(x, y) = 0$$

Mivel  $u(x, 0) = 0 = v(0, y)$  és  $u(0, y) = 0 = v(x, 0)$ , ezért  $u'_x(0, 0) = 0 = v'_y(0, 0)$  és  $u'_y(0, 0) = 0 = v'_x(0, 0)$ , ezért  $u_x(0, 0) = u_y(0, 0) = 0$ , tehát a **Cauchy-Riemann differenciálegyenletek** teljesülnek  $z = 0$ -ban. Ugyanakkor az  $y = x$  egyenes mentén  $f(z) = (|x|)^2$ , tehát az  $f(z)$  függvény az origóban nem differenciálható.

**11.8.**

$$u(x, y) = 2x^2 + 3y^2 + xy + 2x, \quad v(x, y) = 4xy + 5y.$$

A **Cauchy-Riemann differenciálegyenletek** szerint

$$4x + y + 2 = 4x + 5, \quad \text{és} \quad 6y + x = -4y$$

minden olyan pontban, ahol  $f$  deriválható. Az egyenletrendszer csak  $x = -30$ ,  $y = 3$  esetén teljesül, tehát a függvény máshol nem differenciálható.

**11.9.**

$$\frac{\partial}{\partial x}(xy) = y, \quad \frac{\partial}{\partial y}(y) = 1, \quad \frac{\partial}{\partial y}(xy) = x, \quad \frac{\partial}{\partial x}(y) = 0$$

Ezért a **Cauchy-Riemann differenciálegyenletek** csak a  $z = i$  pontban teljesülnek.

**11.10.** Írjuk fel a Cauchy-Riemann differenciálegyenleteket:

$$\frac{\partial u}{\partial x} = 4x = 2y = \frac{\partial v}{\partial y}$$

pontosan akkor, ha  $y = 2x$ , továbbá

$$\frac{\partial u}{\partial y} = -1 = -2x = -\frac{\partial v}{\partial x}$$

pontosan akkor, ha  $x = \frac{1}{2}$ . Ezért a függvény egyedül az  $\frac{1}{2} + i$  pontban differenciálható.

**11.11.** A Cauchy-Riemann differenciálegyenleteknek teljesülniük kell, ezért

$$v'_y(x, y) = u'_x(x, y) = 2x + y, \quad v(x, y) = \int (2x + y) dy = 2xy + \frac{y^2}{2} + g(x)$$

$$v'_x(x, y) = 2y + g'(x) = -u'_y(x, y) = 2y - x,$$

$$g'(x) = -x, \quad g(x) = -\frac{x^2}{2} + C$$

$$f(z) = (x^2 - y^2 + xy) + i \left( 2xy - \frac{x^2}{2} + \frac{y^2}{2} + C \right)$$

Mivel  $f(0) = 0$ , ezért  $C = 0$

$$f(z) = (x^2 - y^2 + xy) + i \left( 2xy - \frac{x^2}{2} + \frac{y^2}{2} \right)$$

**11.13.**  $R = 1$

**11.14.**  $R = \frac{1}{2}$

**11.15.**  $\lim_{n \rightarrow \infty} \sqrt[n]{n^2} = 1$ , így  $R = 1$

**11.20.** A gyökkritérium felhasználásával:

$$\lim_{n \rightarrow \infty} \sqrt[n]{\left| \left( \frac{in}{n+1} \right)^{n^2} \right|} = \lim_{n \rightarrow \infty} \left( 1 + \frac{1}{n} \right)^{-n} = \frac{1}{e}, \quad \text{így } R = e.$$

$$\mathbf{11.21.} \quad \sum_{n=1}^{\infty} z^n = \frac{z}{1-z}, \quad R = 1$$

**11.22.** A gyökkritérium felhasználásával:  $\lim_{n \rightarrow \infty} \sqrt[n]{|i^n|} = 1$ , így  $R = 1$ .

$$\sum_{n=0}^{\infty} i^n z^n = \sum_{n=0}^{\infty} (iz)^n = \frac{1}{1-iz}$$

$$\mathbf{11.23.} \quad \sum_{n=0}^{\infty} (n+1)z^n = \left( \frac{1}{1-z} \right)' = \frac{1}{(1-z)^2}, \quad R = 1$$

$$\mathbf{11.24.} \quad \sum_{n=0}^{\infty} (n+2)(n+1)z^n = \left( \frac{1}{1-z} \right)'' = \frac{2}{(1-z)^3}, \quad R = 1$$

**11.29.** Használjuk fel az  $e^{x+iy} = e^x \cdot e^{iy} = e^x \cdot (\cos y + i \sin y)$  összefüggést!

$$\mathbf{11.31.} \quad \int_{\Gamma} f(x+iy) dz = i\pi \quad \mathbf{11.32.} \quad \int_{\Gamma} f(x+iy) dz = -\pi$$

$$\mathbf{11.33.} \quad \int_{\Gamma} f(x+iy) dz = 2i\pi \quad \mathbf{11.34.} \quad \int_{\Gamma} f(x+iy) dz = 0$$

**11.35.** Paraméterezzük a görbét:  $z(t) = e^{it}$ ,  $t \in [0, 2\pi]$ . Ekkor  $\frac{dz}{dt} = ie^{it}$ . Így

$$\int_{\Gamma} \frac{1}{z} dz = \int_0^{2\pi} \frac{ie^{it}}{e^{it}} dt = i \int_0^{2\pi} dt = 2\pi i$$

**11.36.**

$$\int_{\Gamma} \frac{1}{z^2} dz = \int_0^{2\pi} \frac{ie^{it}}{e^{2it}} dt = \int_0^{2\pi} ie^{-it} dt = [-e^{-it}]_0^{2\pi} = -1 - (-1) = 0$$

$$\mathbf{11.37.} \quad \int_{\pi}^{3\pi/2} |e^{-it}| (-i)e^{-it} dt = i \cdot \mathbf{11.38.} \quad \int_{-1}^0 |t| dt + \int_0^1 |it| dt = 0$$

$$\mathbf{11.39.} \quad \int_{(1,1)}^{(3,2)} (x^2 - y^2) dx - 2xy dy = \left[ \frac{x^3}{3} - xy^2 \right]_{(1,1)}^{(3,2)} = -\frac{7}{3}$$

$$\mathbf{11.40.} \quad \int_{\frac{1+i}{7}}^{\frac{3+2i}{3}} (x^2 - y^2) dx - 2xy dy = \operatorname{Re} \int_{1+i}^{\frac{3+2i}{3}} z^2 dz = \operatorname{Re} \left( \frac{(3+2i)^3}{3} - \frac{(1+i)^3}{3} \right) =$$

$$\mathbf{11.41.} \quad \int_{\Gamma} 3z^2 dz = [z^3]_1^{1+i} = -3 \quad \mathbf{11.42.} \quad \int_1^{1+i} \frac{1}{z} dz = [\operatorname{Log} z]_1^{1+i} = \frac{1}{2} \ln 2 + i \frac{\pi}{4}$$

$$\mathbf{11.43.} \quad \int_1^{1+i} e^z dz = [e^z]_1^{1+i} \quad \mathbf{11.44.} \quad \int_1^{1+i} ze^{z^2} dz = \left[ \frac{e^{z^2}}{2} \right]_1^{1+i}$$

$$\mathbf{11.65.} \quad \text{Alkalmazzuk a reziduúmtételt: } \oint_{|z|=4} f(z) dz = 2\pi \cdot i \cdot \operatorname{Res} \left( \frac{e^z \cos z}{z - \pi}, \pi \right) =$$

$$2\pi \cdot i \cdot e^{\pi} \cos \pi.$$

$$\mathbf{11.67.} \quad \int_{\Gamma} z^2 dz = \left[ \frac{z^3}{3} \right]_0^{1+i} = \frac{(1+i)^3}{3}$$

$$\mathbf{11.68.} \quad \int_0^{1+i} e^z dz = [e^z]_0^{1+i} = e^{1+i} - 1$$

**11.73.** Legyen  $g(z) = 10 - 6z$ ,  $f(z) = z^6 - 6z + 10$ . Ha  $z$  az egységkörvonal tetszőleges pontja, azaz  $|z| = 1$ , akkor

$$|f(z) - g(z)| = |z^6| = 1, \quad |g(z)| = |10 - 6z| \geq 10 - 6 = 4,$$

teljesülnek a **Rouché tétel** feltételei. Mivel a  $g(z) = 10 - 6z$  függvénynek nincs gyöke az egységkörben, ezért az  $f(z) = z^6 - 6z + 10$  függvénynek sincs.

**11.75.** A keresett  $\int_{-\infty}^{\infty} \frac{1}{(x^2 + 1)^2} dx$  konvergens, ezért

$$\int_{-\infty}^{\infty} \frac{1}{(x^2 + 1)^2} dx = \lim_{R \rightarrow \infty} \int_{-R}^R \frac{1}{(x^2 + 1)^2} dx.$$

Legyen  $\Gamma_R = \Phi_R + \Psi_R$  az a zárt görbe, amelyre  $\Phi_R$  a valós tengely  $[-R, R]$  szakasza,  $\Psi_R$  pedig az  $R$  sugarú, origó középpontú körvonal



felső félsíkba eső része. Ha  $f(z) = \frac{1}{(z^2 + 1)^2}$ , akkor a **residuum tétel** szerint

$$\begin{aligned} \oint_{\Gamma_R} f(z) dz &= \oint_{\Gamma_R} \frac{dz}{(z^2 + 1)^2} = 2\pi i \operatorname{Res}(f, i) = \oint_{|z-i|=1} \frac{dz}{(z^2 + 1)^2} = \\ &= \oint_{|z-i|=1} \frac{1}{(z+i)^2} \cdot \frac{dz}{(z-i)^2} = 2\pi i \cdot g'(i) = -4\pi i \frac{1}{(2i)^3} = \frac{\pi}{2}. \end{aligned}$$

Itt a **Cauchy integrálformulát** használtuk az  $i$ -ben reguláris  $g(z) = \frac{1}{(z+i)^2}$  függvényre. A felső félkörön  $|f(z)| < \frac{1}{R^2}$ , ha  $R$  elég nagy, ezért  $\lim_{R \rightarrow \infty} \int_{\Psi_R} \frac{1}{(z^2 + 1)^2} dz = 0$ .

$$\begin{aligned} \frac{\pi}{2} &= \lim_{R \rightarrow \infty} \int_{\Gamma_R} \frac{dz}{(z^2 + 1)^2} = \lim_{R \rightarrow \infty} \int_{\Phi_R} \frac{dz}{(z^2 + 1)^2} + \lim_{R \rightarrow \infty} \int_{\Psi_R} \frac{dz}{(z^2 + 1)^2} = \\ &= \int_{-\infty}^{\infty} \frac{1}{(x^2 + 1)^2} dx \end{aligned}$$

# Ajánlott irodalom

Laczkovich Miklós – T. Sós Vera: *Analízis I. és II.*, Nemzeti Tankönyvkiadó, 2007.

Laczkovich Miklós – T. Sós Vera: *Valós Analízis*, TypoTex Kiadó, 2012–2013.

Urbán János: *Matematikai logika*, Műszaki Kiadó Kft., 2006.

Urbán János: *Határértékszámítás*, Műszaki Kiadó Kft., 2009.

Gyemidovics: *Matematikai analízis*, Tankönyvkiadó Vállalat, 1974. – Typo-  
Tex Kiadó (reprint)

Thomas-féle kalkulus I., II., III., TypoTex Kiadó, 2008.

Bárczy Barnabás: *Differenciálszámítás*, Műszaki Kiadó, 2005.

Bárczy Barnabás: *Integrálszámítás*, Műszaki Kiadó, 2003.