

## 1. feladat (13 pont)

Oldja meg az

$$y''' - 2y'' - 3y' = 16e^{-x}$$

differenciál-egyenletet!

$$(H): \lambda^3 - 2\lambda^2 - 3\lambda = \lambda(\lambda^2 - 2\lambda - 3) = \lambda(\lambda+1)(\lambda-3) = 0$$

$$\lambda_1 = 0, \lambda_2 = -1, \lambda_3 = 3$$

$$y_H = C_1 + C_2 e^{-x} + C_3 e^{3x} \quad (5) \quad C_i \in \mathbb{R}$$

$$(I): y_{ip} = Ax e^{-x} \quad (2) \quad (\text{külső rezonancia})$$

$$y'_{ip} = Ae^{-x} - Ax e^{-x}$$

$$y''_{ip} = \underbrace{-Ae^{-x} - Ae^{-x}}_{-2Ae^{-x}} + Ax e^{-x}$$

$$y'''_{ip} = 2Ae^{-x} + Ae^{-x} - Ax e^{-x}$$

$$x e^{-x} (\underbrace{3A - 2A - A}_{=0}) + e^{-x} (-3A + 4A + 3A) = 16e^{-x}$$

$$4A = 16 \Rightarrow A = 4$$

$$y_{ip} = 4x e^{-x} \quad (4)$$

$$y_{ca} = y_H + y_{ip} = \dots \quad (2)$$

## 2. feladat (12 pont)

Adja meg a következő függvények  $x_0 = 4$  körüli Taylor-sorát, és annak konvergenciasugarát!

a)  $f(x) = e^{2x}$ ;

b)  $g(x) = \frac{2}{x-2}$ .

$$\boxed{6} \quad a.) f(x) = e^{2x} = e^{2(x-4)+8} = e^8 e^{2(x-4)} =$$

$$= e^8 \sum_{n=0}^{\infty} \frac{u^n}{n!} \Big|_{u=2(x-4)} = e^8 \sum_{n=0}^{\infty} \frac{2^n}{n!} (x-4)^n \quad (5)$$

$$R_f = \infty \quad (1)$$

an20120614(1).

b.) 
$$g(x) = \frac{2}{x-2} = \frac{2}{(x-4)+2} = \frac{2}{2} \frac{1}{1 - \frac{-(x-4)}{2}} =$$

$$= \sum_{n=0}^{\infty} \left( \frac{-(x-4)}{2} \right)^n = \sum_{n=0}^{\infty} \left( -\frac{1}{2} \right)^n (x-4)^n \quad (4)$$

$$|q| = \left| -\frac{x-4}{2} \right| = \frac{|x-4|}{2} < 1 \Rightarrow |x-4| < 2 \Rightarrow R_g = 2 \quad (2)$$

### 3. feladat (14 pont)

Legyen

$$f(x, y) = \begin{cases} \frac{xy}{x^4 + y^2}, & \text{ha } (x, y) \neq (0, 0) \\ 0, & \text{ha } (x, y) = (0, 0) \end{cases}$$

- a) Létezik-e határértéke  $f$ -nek az origóban?  
 b)  $f'_x(x, y) = ?$  (Az origóban is!)  
 c) Totálisan deriválható-e  $f$  az origóban?

a.) 
$$\lim_{x \rightarrow 0} f(x, mx) = \lim_{x \rightarrow 0} \frac{x \cdot mx}{x^4 + m^2 x^2} =$$

$$= \lim_{x \rightarrow 0} \frac{x^2}{x^2} \frac{m}{x^2 + m^2} = \frac{1}{m} \quad (m \neq 0)$$

Függ  $m$ -től  $\Rightarrow$  a határérték  $\nexists$

b.)  $(x, y) \neq (0, 0)$ :

$$f'_x = \frac{y(x^4 + y^2) - xy \cdot 4x^3}{(x^4 + y^2)^2} \quad (2)$$

$$f'_x(0, 0) = \lim_{h \rightarrow 0} \frac{f(0+h, 0) - f(0, 0)}{h} =$$

$$= \lim_{h \rightarrow 0} \frac{\frac{0}{h^4} - 0}{h} = \lim_{h \rightarrow 0} \frac{0}{h} = 0 \quad (4)$$

d.) a.) miatt  $f$  nem folytonos  $(0, 0)$ -ban  $\Rightarrow$   
 $f$  nem tot. deriválható  $(0, 0)$ -ban.

an20120614/2.

4. feladat (19 pont)

a) A többváltozós függvény totálisan deriválható az  $\underline{a}$  pontban. Mit tud a parciális deriváltjairól? Mondja ki és bizonyítsa be a tanult tételt!

b)

$$f(x, y, z) = x^2(y+1) + x^z, \quad P_0(1, 0, 2)$$

$$\text{grad} f(P_0) = ?$$

$$\min \left. \frac{df}{d\underline{e}} \right|_{P_0} = ? \quad \text{Milyen irányban kapjuk? } (\underline{e} = ?)$$

a.)  
8

(T)

Legyen  $\underline{a}$  a  $D_f$  értelmezési tartomány belső pontja!

Ha  $f$  az  $\underline{a}$ -ban totálisan deriválható

$\implies$  mindegyik változója szerinti parciális deriváltja  $\exists$ .

(2)

(Tehát a totális deriválhatóság szükséges feltétele a parciális deriváltak létezése.)

(B) Speciális  $\underline{h}$ -ra felírjuk a totális deriválhatóság definícióját:  $\underline{h} := (0, 0, \dots, 0, h_k, 0, \dots, 0)$

$$\Delta f = f(\underline{a} + \underline{h}) - f(\underline{a}) =$$

$$= f(a_1, \dots, a_{k-1}, a_k + h_k, a_{k+1}, \dots, a_m) - f(a_1, \dots, a_m) = A_k \cdot h_k + \varepsilon_k(\underline{h}) \cdot h_k$$

$$\implies \frac{f(a_1, \dots, a_k + h_k, \dots, a_m) - f(a_1, \dots, a_k, \dots, a_m)}{h_k} = A_k + \varepsilon_k(\underline{h})$$

és ebből  $h_k \rightarrow 0$  ( $\implies \underline{h} \rightarrow \underline{0}$ ) esetén  $f'_{x_k}(\underline{a}) = A_k$  adódik.

Tehát  $\text{grad} f|_{\underline{a}} = \underline{A} = [f'_{x_1}, \dots, f'_{x_m}]$

(6)

b.)  
11

$$f'_x = 2x(y+1) + z x^{z-1} \quad (2)$$

$$f'_y = x^2 \quad (1)$$

$$f'_z = x^z \cdot \ln x \quad (2)$$

$$(2) \text{ grad} f(P_0) = f'_x(P_0)\underline{i} + f'_y(P_0)\underline{j} + f'_z(P_0)\underline{k} = 4\underline{i} + \underline{j} + 0 \cdot \underline{k}$$

$$(2) \min \left. \frac{df}{d\underline{e}} \right|_{P_0} = -|\text{grad} f(P_0)| = -\sqrt{16+1} = -\sqrt{17}$$

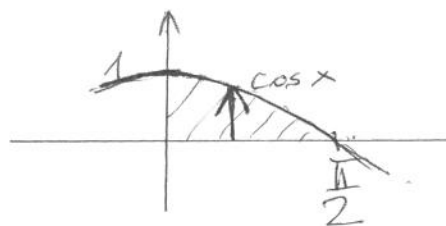
$$(2) \underline{e} = -\frac{\text{grad} f(P_0)}{|\text{grad} f(P_0)|} = -\frac{4}{\sqrt{17}}\underline{i} - \frac{1}{\sqrt{17}}\underline{j}$$

an20-120614/3.

5. feladat (8 pont)\* Legyen  $T$  az origót a  $(\frac{\pi}{2}, 0)$  ponttal összekötő szakasz, az  $y$  tengely és a  $\cos(x)$  görbe által határolt korlátos tartomány!  
Határozza meg az alábbi integrál értékét!

$$\iint_T y \sin x \, dT$$

$$\int_{x=0}^{\pi/2} \int_{y=0}^{\cos x} y \sin x \, dy \, dx = \quad (3)$$



$$= \int_0^{\pi/2} \left. \frac{y^2}{2} \right|_0^{\cos x} \sin x \, dx = \frac{1}{2} (-1) \int_0^{\pi/2} (-\sin x) \cos^2 x \, dx = \quad (2)$$

$$= -\frac{1}{2} \frac{\cos^3 x}{3} \Big|_0^{\pi/2} = -\frac{1}{6} (\underbrace{\cos^3 \frac{\pi}{2}}_{=0} - \underbrace{\cos^3 0}_{=1}) = \frac{1}{6} \quad (3)$$

6. feladat (10 pont)\*

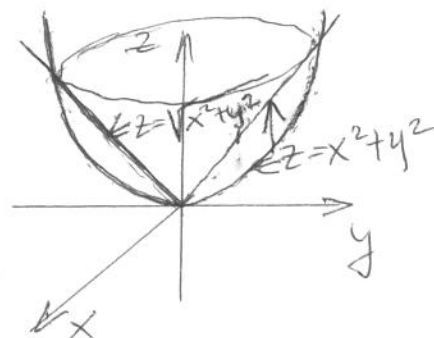
Számolja ki a  $z = x^2 + y^2$  és a  $z = \sqrt{x^2 + y^2}$  felületek által határolt korlátos térrész térfogatát!

$$(M) \quad x^2 + y^2 \leq 1 \text{ esetén } x^2 + y^2 \leq \sqrt{x^2 + y^2}$$

Metszésvonal:

$$x^2 + y^2 = \sqrt{x^2 + y^2} \Rightarrow x^2 + y^2 = 1 \quad (z=1 \text{ síkban})$$

$$x^2 + y^2 \leq z \leq \sqrt{x^2 + y^2} \text{ és } x^2 + y^2 \leq 1: \text{ a térrész}$$



$$\text{terf} = \iiint_V 1 \, dV = \iint_{x^2+y^2 \leq 1} \left( \int_{z=x^2+y^2}^{\sqrt{x^2+y^2}} 1 \, dz \right) dT = \iint_{x^2+y^2 \leq 1} (\sqrt{x^2+y^2} - (x^2+y^2)) \, dT \quad (3)$$

Polártranszformáció:

$$x = r \cos \varphi \quad |J| = r \quad 0 \leq r \leq 1$$

$$y = r \sin \varphi \quad 0 \leq \varphi \leq 2\pi$$

$$\text{terf} = \int_{r=0}^1 \int_{\varphi=0}^{2\pi} (r - r^2) r \, d\varphi \, dr = (2\pi - 0) \int_0^1 (r^2 - r^3) \, dr = \quad (4) \quad (1)$$

$$= 2\pi \left( \frac{r^3}{3} - \frac{r^4}{4} \right) \Big|_0^1 = 2\pi \left( \frac{1}{3} - \frac{1}{4} \right) \quad (2)$$

(M) Lehetett volna hengerkoordinátával is.

an20120614/4.

7. feladat (7 pont)\* Adja meg a következő komplex számok képzetes részét!

a)  $w_1 = \sin(3 - 3i)$

b)  $w_2 = \ln(3 - 3i)$

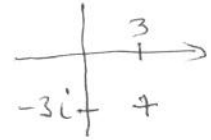
c)  $w_3 = e^{3-3i}$

$$w_1 = \sin 3 \cdot \cos 3i - \cos 3 \cdot \sin 3i = \sin 3 \operatorname{ch} 3 - i \cos 3 \operatorname{sh} 3$$

$$\operatorname{Im} w_1 = -\cos 3 \operatorname{sh} 3 \quad (2)$$

$$w_2 = \ln |3 - 3i| + i \operatorname{arc}(3 - 3i) =$$

$$= \ln \sqrt{18} + i \left(-\frac{\sqrt{2}}{4}\right)$$



$$\operatorname{Im} w_2 = -\frac{\sqrt{2}}{4} \quad (3)$$

$$\begin{cases} |3-3i| = \sqrt{9+9} = \sqrt{18} \\ \operatorname{arc}(3-3i) = -\frac{\sqrt{2}}{4} \end{cases}$$

$$w_3 = e^3 (\cos(-3) + i(\sin(-3))) = e^3 \cos 3 - i e^3 \sin 3$$

$$\operatorname{Im} w_3 = -e^3 \sin 3 \quad (2)$$

8. feladat (17 pont)\*

a) Mondja ki az  $f(x+iy) = u(x, y) + i v(x, y)$  komplex függvény differenciálhatóságának elégséges feltételét!

b) Hol deriválható, és hol reguláris az

$$f(x + jy) = 2x^3 + y^2 + i(3xy^2)$$

függvény?

c) Mutassa meg, hogy az  $u(x, y) = e^x \cos y$  függvény harmonikus az egész síkon!

a) (T) Elégséges tétel  $f'(z_0)$  létezésére:

3

- Ha  $u$  és  $v$  parciális deriváltjai léteznek  $K_{(x_0, y_0)}$ -ban és itt folytonosak

- és a C-R egyenletek teljesülnek  $(x_0, y_0)$ -ban, akkor  $\exists f'(z_0)$ .

b.)  $u(x, y) = 2x^3 + y^2$  ;  $v(x, y) = 3xy^2$  : parciálisok mindenütt léteznek és folytonosak (1)

10

$$u_x' = 6x^2 ; u_y' = 2y ; v_y' = 6xy ; v_x' = 3y^2 \quad (2)$$

$$C-R : u_x' = v_y' \therefore 6x^2 = 6xy \Rightarrow 6x(x-y) = 0$$

$$\Rightarrow (x=0 \text{ vagy } x=y) \left. \vphantom{\begin{matrix} u_x' = v_y' \\ u_y' = -v_x' \end{matrix}} \right\} \text{és}$$

$$(3) \quad u_y' = -v_x' : 2y = -3y^2 \Rightarrow (y=0 \text{ vagy } y=-\frac{2}{3})$$

$\Rightarrow z_1=0, z_2=-\frac{2}{3} + i(-\frac{2}{3}), z_3=0 + i(-\frac{2}{3})$  pontokban deriválható (3) és sehol sem reg. (1)

c.)  $u_x' = e^x \cos y$ ;  $u_{xx}'' = e^x \cos y$ ;  $u_y' = -e^x \sin y$ ;  $u_{yy}'' = -e^x \cos y$   
 $\Delta u = u_{xx}'' + u_{yy}'' = e^x \cos y - e^x \cos y = 0 \Rightarrow u$  harmonikus mindenütt

9. feladat (8 pont) Oldja meg a

$$y' = \frac{xy}{\ln y} \quad (y > 1)$$

differenciálegyenletet! (Elég a megoldást implicit alakban megadni.)

$$\int \frac{1}{y} \ln y \, dy = \int x \, dx \quad (3)$$

$$\frac{(\ln y)^2}{2} = \frac{x^2}{2} + C$$

10. feladat (12 pont)

Írja fel az

$$f(x) = \frac{1}{\sqrt{1-5x^2}}$$

függvény  $x_0 = 0$  pontra támaszkodó Taylor sorát és adja meg annak konvergenciasugarát!

Írja fel a sor első négy nem nulla tagját elemi műveletekkel!

$f^{(12)}(0) = ?$

$$f(x) = (1 + (-5x^2))^{-1/2} = \sum_{n=0}^{\infty} \binom{-1/2}{n} (-5x^2)^n = \sum_{n=0}^{\infty} \binom{-1/2}{n} (-5)^n x^{2n} =$$

$$= 1 + \frac{-1/2}{1} (-5)x^2 + \frac{(-1/2)(-3/2)}{1 \cdot 2} (-5)^2 x^4 + \frac{(-1/2)(-3/2)(-5/2)}{1 \cdot 2 \cdot 3} (-5)^3 x^6 + \dots$$

$$|-5x^2| = 5|x|^2 < 1 \Rightarrow |x| < \frac{1}{\sqrt{5}} \Rightarrow R = \frac{1}{\sqrt{5}} \quad (2)$$

$$f^{(12)}(0) = 12! \cdot a_{12} = 12! \cdot \binom{-1/2}{6} (-5)^6 \quad (3)$$

$x^{12}$  együtthatója

an20-12061416.