

Valószínűségszámítás
6. RÉSZ
Zárthelyi és vizsga feladatok gyűjteménye

Vetier András

2020. január 31.

Tartalomjegyzék

1. Első zárthelyi (2017. szeptember 1. előtt)	4
1.1. Első zárthelyi, 2016-10-10, 8 óra	4
1.2. Első zárthelyi, 2016-10-10, 9 óra	5
1.3. Első zárthelyi, 2016-10-26, pótzh	6
1.4. Első zárthelyi, 2016-12-14, pótpótzh	7
1.5. Első zárthelyi, 2017-03-22	8
1.6. Első zárthelyi, 2017-03-22. <i>Megoldások és válaszok</i>	9
1.7. Első zárthelyi, 2017-05-03, pótzh	11
1.8. Első zárthelyi, 2017-05-03, pótzh. <i>Megoldások és válaszok</i>	12
2. Második zárthelyi (2017. szeptember 1. előtt)	14
2.1. Második zárthelyi, 2016-11-14, 8 óra	14
2.2. Második zárthelyi, 2016-11-14, 8 óra. <i>Megoldások és válaszok</i>	15
2.3. Második zárthelyi, 2016-11-14, 9 óra	16
2.4. Második zárthelyi, 2016-11-23, pótzh	17
2.5. Második zárthelyi, 2016-12-14, pótpótzh	18
2.6. Második zárthelyi, 2017-04-19	19
2.7. Második zárthelyi, 2017-04-19. <i>Megoldások és válaszok</i>	20
2.8. Második zárthelyi, 2017-05-03, pótzh	22
2.9. Második zárthelyi, 2017-05-03, pótzh. <i>Megoldások és válaszok</i>	23
3. Zárthelyi (2017. szeptember 1. után)	25
3.1. Zárthelyi, 2017-11-13, 8 óra	25
3.2. Zárthelyi, 2017-11-13, 8 óra. <i>Megoldások és válaszok</i>	26
3.3. Zárthelyi, 2017-11-13, 9 óra	28
3.4. Zárthelyi, 2017-11-13, 9 óra. <i>Megoldások és válaszok</i>	29
3.5. Zárthelyi, 2017-11-20, pótzh	31
3.6. Zárthelyi, 2018-05-03	32
3.7. Zárthelyi, 2018-05-14, pótzh	33
3.8. Zárthelyi, 2018-05-23, pótpótzh	34

4. Félév végi vizsgák	35
4.1. Félév végi vizsga, 2016-12-19	35
4.2. Félév végi vizsga, 2016-12-19. <i>Megoldások és válaszok</i>	36
4.3. Félév végi vizsga, 2017-01-09	39
4.4. Félév végi vizsga, 2017-01-09. <i>Megoldások és válaszok</i>	40
4.5. Félév végi vizsga, 2017-01-16	43
4.6. Félév végi vizsga, 2017-01-16. <i>Megoldások és válaszok</i>	44
4.7. Félév végi vizsga, 2017-01-23	46
4.8. Félév végi vizsga, 2017-01-23. <i>Megoldások és válaszok</i>	47
4.9. Félév végi vizsga, 2017-05-22	49
4.10. Félév végi vizsga, 2017-05-22. <i>Megoldások és válaszok</i>	50
4.11. Félév végi vizsga, 2017-06-06	53
4.12. Félév végi vizsga, 2017-06-06. <i>Megoldások és válaszok</i>	55
4.13. Félév végi vizsga, 2017-06-12	59
4.14. Félév végi vizsga, 2017-06-12. <i>Megoldások és válaszok</i>	60
4.15. Félév végi vizsga, 2017-06-19	63
4.16. Félév végi vizsga, 2017-06-19. <i>Megoldások és válaszok</i>	65
4.17. Félév végi vizsga, 2017-12-13	67
4.18. Félév végi vizsga, 2017-12-13. <i>Megoldások és válaszok</i>	69
4.19. Félév végi vizsga, 2017-12-18	71
4.20. Félév végi vizsga, 2018-01-08	73
4.21. Félév végi vizsga, 2018-01-15	75
4.22. Félév végi vizsga, 2018-01-22	76
4.23. Félév végi vizsga, 2018-06-04	77
4.24. Félév végi vizsga, 2018-06-11	78
4.25. Félév végi vizsga, 2018-06-18	80
4.26. Félév végi vizsga, 2018-01-25	81
4.27. Félév végi vizsga, 2019-05-27	82
4.28. Félév végi vizsga, 2019-05-27. <i>Megoldások és válaszok</i>	84
4.29. Félév végi vizsga, 2019-06-03	87
4.30. Félév végi vizsga, 2019-06-17	88
4.31. Félév végi vizsga, 2019-06-24	90
4.32. Félév végi vizsga, 2019-12-17	91
4.33. Félév végi vizsga, 2019-01-06	92
4.34. Félév végi vizsga, 2019-01-13	93
4.35. Félév végi vizsga, 2019-01-20	95
4.36. Félév végi vizsga, 2019-01-27	97

Tisztelt Hallgatók!

Kérem, hogy a jegyzetben talált hibákat a **vetier@math.bme.hu** email címen jelezzék nekem. A levél tárgya legyen: **Hibát találtam**. Egy hatékony módszer a hibák rögzítésére, ha valaki a számítógépen olvassa a jegyzetet:

- nyom egy PRINT SCREEN-t
- behívja a PAINT programot
- nyom egy PASTE (ctrl-V) utasítást
- pirossal bekarikázza a hibát, esetleg valamit oda ír
- elmenti a JPG fájlt, a fájl neve legyen a hiba helyének az oldalszáma, vagy a nevében legyen benne az oldalszám
- a JPG fájlokat csatolt fájlként a fent megadott címre

Természetesen minden más módszerrel küldött hibajelzést is köszönök.

Eredményes, örömteli, jó tanulást kívánok! Üdvözlettel,

2017. augusztus 21.

Vetier András

Vetier András – Valószínűségszámítás – 4. rész. Zárthelyi és vizsga feladatok gyűjtemény

1. Első zárthelyik (2017. szeptember 1. előtt)

1.1. Első zárthelyi, 2016-10-10, 8 óra

- (a) Az egész értékeket felvevő X valószínűségi változó (baloldali) eloszlásfüggvénye a 7 helyen 0.13 -mal egyenlő. Magyarázza el ennek a ténynek a jelentését a valószínűség fogalma segítségével!
 - (b) Írja le azt a képletet, mely az eloszlásfüggvényt a súlyfüggvénnyel kifejezve adja meg!
 - (c) Írja le azt a képletet, mely az eloszlásfüggvény segítségével adja meg az $\{A, A + 1, A + 2; \dots, B\}$ intervallum valószínűségét! (A, B egész számok.)
- Egy erdőben ismeretlen számú vaddisznó él. A vaddisznók számának becslése céljából 80 vaddisznót piros festékkel megjelöltek, majd néhány hét eltelte után megszámlálták, hogy 50 véletlenszerűen választott vaddisznó között hány pirossal megjelölt akad. Tegyük fel, hogy 39.
 - (a) Adjon becslést az erdőben élő vaddisznók számára egyetlen szám formájában!
Meg kell magyarázni, hogy honnan, hogyan jön ki ez a szám.
 - (b) Adja meg a $P(39 \text{ piros})$ valószínűséget matematikai képlettel a megfelelő paraméterek segítségével!
 - (c) Adja meg a $P(39 \text{ piros})$ valószínűséget Excel képlettel a megfelelő paraméterek segítségével!
 - (d) Az lentebbi táblázatban a hegységben élő vaddisznók ismeretlen számának függvényében megadtuk a $P(39 \text{ piros})$ valószínűséget.
Az (a) kérdésre adott válaszát egészítse ki egy-egy értelmes alsó- és felső becsléssel!
Indokolja meg, miért gondolja értelmesnek az Ön által választott alsó- és felső becsléseket!

vaddisznók száma az erdőben	80	85	90	95	100	105	110	115	120	125	130	135
$P(39 \text{ piros})$.000	.000	.000	.050	.175	.167	.091	.038	.013	.004	.001	.000

- Tekintünk egy gyufaszálat. Párhuzamos egyeneseket húzunk egy nagy papírra egymástól gyufahossznyi távolságra. A gyufát elég magasról hetykén leejtjük. Mi a valószínűsége annak, hogy a gyufa metszi valamelyik egyenest?
- Egy városban az évi 3 lakástűz eset fele akkora valószínűségű, mint a 2.
 - (a) Milyen eloszlást követ az évi lakástűz esetek száma? Miért?
Korrekt indoklást kérünk.
 - (b) Mi a valószínűsége annak, hogy egy évben nincs lakástűz eset?
 - (c) Egy év alatt hány lakástűz eset a legvalószínűbb?
- Extra feladat iMSc diákoknak.** Párhuzamos egyeneseket húzunk egy nagy papírra egymástól 10 cm távolságra. Az egyenesekre merőlegesen újabb párhuzamos egyeneseket húzunk 20 cm távolságra. Egy 5 cm hosszú gyufát elég magasról hetykén leejtünk. Mi a valószínűsége annak, hogy a gyufa nem metsz semmilyen egyenest sem?

1.2. Első zárthelyi, 2016-10-10, 9 óra

1. (a) A B eseménynek az A eseményre vonatkozó feltételes relatív gyakorisága mit jelent?
Egy ügyes példán keresztül magyarázza el!
 - (b) Mi köze van a feltételes relatív gyakoriságnak a feltételes valószínűséghez?
Magyarázza el röviden és világosan!
 - (c) Hogyan lehet a feltételes valószínűséget feltétel nélküliekből kiszámolni?
Adja meg a formulát!
2. Tegyük fel, hogy egy teremben, ahol egy ünnepi fogadást rendeznek, 100 hely van a vendégek számára. Gondolván, hogy néhány meghívott vendég betegség vagy valami más ok miatt távolmarad a fogadástól, 105 vendéget hívnak meg. Feltéve, hogy minden vendég a többitől függetlenül $p = 0.07$ valószínűséggel nem jön el a fogadásra, mi annak a valószínűsége, hogy gubanc támad, vagyis a fogadáson 100-nál több vendég jelenik meg?
- (a) Írja fel a valószínűséget matematikai képlettel!
 - (b) Írja fel a valószínűséget Excel képlettel!
 - (c) Hány vendég megjelenése a legvalószínűbb?
 - (d) Hogyan lehet Excel segítségével meghatározni azt, hogy $p = 0.2$ esetén hány vendéget lehet meghívni, ha a gubanc valószínűségét $0,01$ alatt akarjuk tartani?
3. Tekintünk egy gyufaszálat. Párhuzamos egyeneseket húzunk egy nagy papírra egymástól két gyufahossznyi távolságra. A gyufaszálat elég magasról hetykén leejtjük. Mi a valószínűsége annak, hogy a gyufa metszi valamelyik egyenest úgy, hogy az egyenessel bezárt szöge kisebb 45 foknál?
4. Egy országban az évi 2 hármásiker ugyanolyan valószínű, mint a 4.
- (a) Milyen eloszlást követ az évi hármásikrek száma? Miért?
Korrekt indoklást kérünk.
 - (b) Mi a valószínűsége annak, hogy egy évben nincs hármásiker?
 - (c) Egy év alatt hány hármásiker a legvalószínűbb?

1.3. Első zárthelyi, 2016-10-26, pótzh

1. (a) Egerész Professzor akadémiai székfoglalójának vázlatában 10 éves kislány meglátta, hogy egy mama-egér kölykeinek száma olyan valószínűségi változó, melynek az 5 helyen a baloldali eloszlásfüggvénye $1/10$, a jobboldali eloszlásfüggvénye $9/10$. A kislány elcsodálkozott: Hát még itt is a politikáról van szó! Egerész Professzor érthetően elmagyarázta, hogy ezek a sok éves kutatáson alapuló komoly eredmények mit jelentenek. Ön is így magyarázza el!
Egy 10 éves gyerek általában nem tudja, mit jelent a "valószínűség", ezért ezt a fogalmat most itt nem szabad használni!
- (b) Magyarázza el "egyetemi szinten" is, hogy mit jelentenek a fenti tények!
- (c) Számolja ki annak a valószínűségét, hogy egy mama-egér kölykeinek száma pontosan 5?
2. Tegyük fel, hogy a kóbor macskák 5 százaléka színvak. Valaki a kóbor macskákat vizsgálja egy (kissé vacak) macska-tesztel, hogy a macska színvak-e vagy sem. Tegyük fel, hogy a teszt mindkét irányban tévedhet: színeket látó kóbor macska esetén 0.9, színvak kóbor macska esetén 0.8 a valószínűsége annak, hogy a teszt helyes eredményt ad. Ha egy kóbor macskával kapcsolatban 3 független vizsgálat közül az első azt jelzi, hogy a macska látja a színeket, de a második és a harmadik azt jelzi, hogy színvak, akkor mi a valószínűsége annak, hogy a macska színvak?
3. Egerész Professzor reggelente busszal és metróval megy az egyetemre. Mindegyikre a végállomásán száll fel. A busz minden egész órákor indul a végállomásról, és utána szabályosan 12 percnként. A metró is minden egész órákor indul a végállomásról, és utána szabályosan 6 percnként.
 - (a) Egészítse ki a szöveget Egerész Professzor olyan szokásaival és/vagy olyan körülményekkel, hogy jogos legyen feltételezni azt, hogy a várakozási idő a buszra és a várakozási idő a metróra független, egyenletes eloszlású valószínűségi változók!
Ne sokat írjon, hanem okosat! Olyan szokásokat és/vagy körülményeket találjon ki, ami alátámasztja azt, hogy bár a járművek pontos menetrend szerint indulnak, mégis:
 - felbukkan a véletlen,
 - az egyenletes eloszlás mindkét szer jogos,
 - a függetlenség elfogadható!
 - (b) Mi a valószínűsége, hogy Egerész Professzornak többet kell várnia a metróra, mint a buszra, és a várakozással eltöltött összes ideje több, mint 6 perc?
A (b) kérdés egyetlen kérdés!
4. A "Fussunk együtt!" mozgalom keretében tegnapelőtt futóversenyt rendeztek a Pilisben. A kérdőívek tegnapi elemzése után a Bölcs Statisztikus kijelentette, hogy egy emberben a 2 kullancs valószínűsége kétszer akkora, mint a 4 kullancs valószínűsége.
 - (a) Holnap én is végigfutom a pályát. Mi a valószínűsége annak, hogy megúszom kullancs nélkül?
A Bölcs Statisztikus kijelentésére támaszkodva képlettel adja meg a valószínűség numerikus értékét!
 - (b) Az erőpróba után bennem hány kullancs a legvalószínűbb?
Ne csak az eredményt közölje! Látszódjon, hogy honnan veszi a választ!
 - (c) Indokolja meg, miért éppen azt az eloszlást használta, aminek segítségével válaszolt az (a) és (b) kérdésekre! *Korrekt indoklást kérünk.*
5. **Extra feladat iMSc diákoknak.** Párhuzamos egyeneseket húzunk egy nagy papírra egymástól 5 cm távolságra. Az egyenesekre merőlegesen újabb párhuzamos egyeneseket húzunk 20 cm távolságra. Egy 10 cm hosszú gyufát elég magasról hetykén leejtünk. Mi a valószínűsége annak, hogy a gyufa nem metsz semmilyen egyenest sem?

1.4. Első zárthelyi, 2016-12-14, pótpótz

- A kóbor macskák 5 százaléka színvak. Valaki a kóbor macskákat vizsgálja egy (kissé vacak) macska-teszttel, hogy a macska színvak-e vagy sem. Tegyük fel, hogy a teszt mindkét irányban tévedhet: színeket látó kóbor macska esetén 0.9, színvak kóbor macska esetén 0.8 a valószínűsége annak, hogy a teszt helyes eredményt ad.
 - Ha egy kóbor macskával kapcsolatban egy vizsgálat azt jelzi, hogy a macska színvak, akkor mi a valószínűsége annak, hogy a macska tényleg színvak?
 - Ha egy kóbor macskával kapcsolatban 2 független vizsgálat mindegyike azt jelzi, hogy a macska színvak, akkor mi a valószínűsége annak, hogy a macska tényleg színvak?
(A válaszokat elég egy-egy korrekt numerikus képlettel megadni.)
- A valószínűségi számítás jegyzet oldalainak csak kb. 10 százaléka mentes a sajtóhibáktól.
 - Egy oldalon hány hiba a legvalószínűbb?
 - Összesen hány hiba a legvalószínűbb öt egymást követő oldalon?
(A megoldásban használt **eloszlás jogosságát** indokolni kell. A válaszokat elég egy-egy korrekt numerikus képlettel és rövid korrekt indoklással megadni.)
- 45 darab golyó van egy dobozban. Közülük 10 darab piros, 15 darab kék, 20 darab fehér. Kiveszünk 8 darab golyót visszatevés nélkül. Legyen X = a pirosak, Y = a kékek száma a kivettek között. (X, Y) eloszlását (3 tizedesre való kerekítéssel) megadjuk táblázattal:

y										
8	0.000									
7	0.001	0.000								
6	0.004	0.005	0.001							
5	0.016	0.026	0.013	0.002						
4	0.0317	0.072	0.054	0.015	0.001					
3	0.033	0.102	0.108	0.048	0.009	0.001				
2	0.019	0.0756	0.106	0.067	0.019	0.002	0.000			
1	0.005	0.027	0.049	0.040	0.017	0.003	0.000	0.000		
0	0.001	0.004	0.008	0.009	0.005	0.001	0.000	0.000	0.000	
	0	1	2	3	4	5	6	7	8	x

- Adjon meg olyan matematikai formulát, amivel a táblázat közepén található 0.015 értéket megkaphatjuk!
(Matematikailag egzakt formulát kérünk!)
 - Ha sok kísérletet végeznénk, akkor a kísérletek kb. hány százalékában lenne $X + Y = 5$? (A táblázat adatai alapján számoljon!)
4. (Az előző feladat folytatása)
- Ha nagyon sok kísérletet végeznénk, és csak azokat a kísérleti eredményeket tartanánk meg, melyekre $X + Y = 3$, akkor az ilyen kísérletekhez tartozó XY szorzatoknak kb. mennyi lenne az átlaga? (A táblázat adatai alapján számoljon! A választ elég egy korrekt numerikus képlettel megadni.)
 - Írja le szavakkal, hogy X -nek az $Y = 3$ feltétel melletti feltételes várható értékét hogyan lehet a táblázatból kiszámolni! (Rövid, világos megfogalmazást kérünk!)

1.5. Első zárthelyi, 2017-03-22

1. Az egyetem hajókirándulást szervez a legjobb eredményeket elérő diákok számára. A hajón 200 hely van az utasok számára. Gondolván, hogy néhányan nem mennek majd el, 210 diákot hívnak meg a hajóra. Feltéve, hogy minden diák a többitől függetlenül 0.06 valószínűséggel nem megy el, mi annak a valószínűsége, hogy mégis 200-nál több diák jelenik meg? **a)** Írja fel a valószínűséget matematikai vagy Excel képlettel! **b)** Hány diák megjelenése a legvalószínűbb?

2. Vadász barátom hétköznapokon (hétfőtől péntekig) a rosszabbik puskáját használja. Ezzel a puskával minden lövése a többitől függetlenül csak 0.05 valószínűséggel teríti le a célba vett nyulat. Hétfégén (szombaton és vasárnap) a jobb puskájával lövöldöz. Ezzel a puskával minden lövése a többitől függetlenül 0.4 valószínűséggel teríti le a célba vett nyulat. Minden nap addig lövöldöz a nyulakra, míg sikerül egyet leterítenie. Azt mesélik, hogy egy bizonyos napon, melyről nem tudjuk, hogy a hét melyik napja volt, csak 2 lövést adott le a nyúl vadászaton, hogy teljesítse az napi feladatát. Mi a valószínűsége annak, hogy ez a sikeres nap hétköznap volt?

3. Sok éves tapasztalatunk szerint hétköznap délelőtt a tanszékünkre átlagosan kb. 15 percenként jön egy-egy telefonhívás. **a)** Mi a valószínűsége annak, hogy 10:30 és 10:50 között pontosan 2 hívás érkezik? **b)** Milyen eloszlást követ a hívások száma 10:30 és 10:50 között, és MIÉRT? *Korrekt indoklást kérünk.*

4. Két szabályos dobókockával dobunk. X -szel jelöljük a dobott számok kisebbikét, Y -nal a nagyobbikat. Ha a dobott számok egyenlőek, akkor természetesen $X = Y$. **a)** Számolja ki X várható értékét, és *sok kísérleti eredményre hivatkozva* magyarázza el hogy a valóságban mit jelent a várható érték fogalma! **b)** Mi a valószínűsége annak, hogy $X = 4$, feltéve, hogy $Y = 4$? **c)** Számolja ki X feltételes várható értékét az $Y = 4$ feltétel mellett, és *sok kísérleti eredményre hivatkozva* magyarázza el hogy a valóságban mit jelent a feltételes várható érték fogalma!

1.6. Első zárthelyi, 2017-03-22. Megoldások és válaszok

1.

a)

A jegyzet "Binomiális eloszlás és társai" c. alfejezetében olvasható "Vajon mindenki le tud ülni?" c. példa mintájára – annak a valószínűsége, hogy 200 vagy kevesebb diák jelenik meg, Excel képlettel:

$$\text{BINOM.ELOSZLÁS} (200 ; 210 ; 0.94 ; \text{IGAZ}) = 0.86$$

Matematikai képlettel:

$$\sum_{x=0}^{200} \binom{210}{x} 0.94^x (1 - 0.94)^{210-x}$$

Ezért annak a valószínűsége, hogy 200-nál több diák jelenik meg, Excel képlettel:

$$1 - \text{BINOM.ELOSZLÁS} (200 ; 210 ; 0.94 ; \text{IGAZ}) = 0.86$$

Matematikai képlettel:

$$\sum_{x=201}^{210} \binom{210}{x} 0.94^x (1 - 0.94)^{210-x}$$

b)

$$(n + 1) \cdot p = 211 \cdot 0.94 = 198.3 \text{ alsó egész része, ami } 198.$$

2.

A feladat és a megoldás a jegyzet "Geometriai eloszlások és társaik" c. alfejezetének elején található.

3.

a)

A feladat (b) részében felsorolt tények alapján Poisson eloszlással dolgozhatunk. Átlagosan $20/15 = 4/3 = 1.33$ hívás várható, ezért a várható érték $\lambda = 4/3$ ($= 1.33$)

$$P(2 \text{ hívás}) = \frac{(4/3)^2}{2!} e^{-4/3} (= 0.23)$$

b)

Sok ember mindegyike a többitől függetlenül kis valószínűséggel telefonál a megadott időintervallumban.

4.

a)

Két kockával dobva 36 egyformán valószínű kimenetel van.

- $P(X = 1) = 11/36$, hiszen az $X = 1$ esemény számára 11 kedvező kimenetel van:

$$11 \ 12 \ 13 \ 14 \ 15 \ 16 \ 21 \ 31 \ 41 \ 51 \ 61$$

- $P(X = 2) = 9/36$, hiszen az $X = 2$ esemény számára 9 kedvező kimenetel van:

$$22 \ 23 \ 24 \ 25 \ 26 \ 32 \ 42 \ 52 \ 62$$

- $P(X = 3) = 7/36$, hiszen az $X = 3$ esemény számára 7 kedvező kimenetel van:

$$33 \ 34 \ 35 \ 36 \ 43 \ 53 \ 63$$

- $P(X = 4) = 5/36$, hiszen az $X = 4$ esemény számára 5 kedvező kimenetel van:

44 45 46 54 64

- $P(X = 5) = 3/36$, hiszen az $X = 5$ esemény számára 3 kedvező kimenetel van:

55 56 65

- $P(X = 6) = 1/36$, hiszen az $X = 6$ esemény számára 1 kedvező kimenetel van:

66

Ebből a várható érték:

$$1 \cdot 11/36 + 2 \cdot 9/36 + 3 \cdot 7/36 + 4 \cdot 5/36 + 5 \cdot 3/36 + 6 \cdot 1/36 = 2.53$$

Ha sok kísérletet végzünk, akkor a kísérleti eredmények átlaga közel lesz a várható értékhez. Ha sokszor feldobjuk a két dobókockát, és minden esetben felírjuk a kisebbik számot, akkor a felírt számok átlaga – nagy kísérletszám esetén – közel lesz 2.53 -hoz.

b)

Az $Y = 4$ esemény számára 7 (egyforma valószínűségű) kedvező kimenetel van:

14 24 34 44 41 42 43

Ezek között egyetlen kedvez az $X = 4$ esemény számára. Ezért $P(X = 4|Y = 4) = 1/7$. **(1 pont)**

c)

- $P(X = 1|Y = 4) = 2/7$, hiszen az $Y = 4$ feltétel mellett az $X = 1$ esemény számára 2 kedvező eset van:

14 41

- $P(X = 2|Y = 4) = 2/7$, hiszen az $Y = 4$ feltétel mellett az $X = 2$ esemény számára 2 kedvező eset van:

24 42

- $P(X = 3|Y = 4) = 2/7$, hiszen az $Y = 4$ feltétel mellett az $X = 3$ esemény számára 2 kedvező eset van:

34 43

- $P(X = 4|Y = 4) = 1/7$, hiszen az $Y = 4$ feltétel mellett az $X = 4$ esemény számára 1 kedvező eset van:

44

Ebből a feltételes várható érték:

$$1 \cdot 2/7 + 2 \cdot 2/7 + 3 \cdot 2/7 + 4 \cdot 1/7 = 2.29$$

Ha sok kísérletet végzünk, és csak azokat az X értékeket tartjuk meg, amikor a feltétel teljesül Y -ra, akkor a megtartott X értékek átlaga közel lesz a feltételes várható értékhez. Ha sokszor feldobjuk a két dobókockát, és csak akkor írjuk fel a kisebbik számot, amikor a nagyobbik 4 - gyel egyenlő, akkor a felírt számok átlaga közel lesz 2.29 -hez.

1.7. Első zárthelyi, 2017-05-03, pótzh

1. 130 hallgató mindegyike egymástól függetlenül 0.2 valószínűséggel jár órára. A teremben 30 kényelmes szék van, a többi kényelmetlen. Mi a valószínűsége annak, hogy aki elmegy órára, mind kényelmes székre tud ülni? **(a)** Írja fel a valószínűséget matematikai vagy Excel képlettel! **(b)** Hány diák megjelenése a legvalószínűbb?
2. Blicc úr minden nap villamossal megy dolgozni, de nincs bérlete, sem jegye. A villamosra minden nap 0.2 valószínűséggel száll fel ellenőr, és ilyenkor 0.95 valószínűséggel elkapja Blicc urat. (Az ellenőr minden nap az addigiaktól függetlenül dönti el, ellenőrzi-e aznap Blicc úr villamosát.) **(a)** Mennyi a valószínűsége, hogy Blicc úrnak "szerencsés hete" van, azaz az 5 munkanap egyikén sem kell büntetést fizetnie? **(b)** Mennyi a valószínűsége, hogy pontosan kétszer kapják el egy hét munkanapjai alatt?
3. A dél-floridai Everglades National Park-ban nem azt szokás számolni, hogy hány szúnyog csíp meg, hanem azt, hogy hányat nyelsz le. Egy iskola diákjait elvitték a parkba. A diákok közül 200-an nyeltek le egyet, 50-en pedig kettőt. **(a)** Kb. hány diák jár az iskolába? **(b)** Átlagosan hány szúnyogot nyeltek a diákok? (A *használt eloszlás jogosságát indokolni kell!*)
4. **(a)** Definiálja két diszkrét eloszlás konvolúciójának fogalmát! **(b)** Én hatoldalú, barátom nyolcoldalú szabályos dobókockával dob. Határozza meg a dobott számok összegének az eloszlását!

Vetier András – Valószínűségszámítás – 4. rész. Zárthelyi és vizsga feladatok gyűjteménye

1.8. Első zárthelyi, 2017-05-03, pótzh. Megoldások és válaszok

1. (a)

Annak a valószínűsége, hogy 30 vagy kevesebb diák jelenik meg, Excel képlettel:

$$\text{BINOM.ELOSZLÁS} (30 ; 130 ; 0.2 ; \text{IGAZ}) = 0.83$$

Matematikai képlettel:

$$\sum_{x=0}^{30} \binom{130}{x} 0.2^x (1 - 0.2)^{130-x}$$

(b)

A válasz: $(n + 1) \cdot p = 131 \cdot 0.2 = 26.2$ alsó egész része, ami 26. .

2. (a)

Egyrészt

$$\begin{aligned} P(\text{egy nap elkapják}) &= \\ &= P(\text{jön ellenőr}) \cdot P(\text{elkapják} | \text{jön ellenőr}) = 0.2 \cdot 0.95 \end{aligned}$$

Másrészt

$$\begin{aligned} P(5 \text{ nap szerencsés}) &= (P(\text{egy nap szerencsés}))^5 = \\ &= (1 - P(\text{egy nap elkapják}))^5 = (1 - 0.2 \cdot 0.95)^5 \quad (= 0.35) \end{aligned}$$

(b)

Excel képlettel:

$$\text{BINOM.ELOSZLÁS} (2 ; 5 ; 0.2 \cdot 0.95 ; \text{HAMIS}) = 0.19$$

Matematikai képlettel:

$$\binom{5}{2} (0.2 \cdot 0.95)^2 \cdot (1 - 0.2 \cdot 0.95)^{5-2} \quad (= 0.19)$$

3. Az, hogy egy kiszemelt diák, hány szúnyog nyel le, valószínűségi változó. Mivel a sok szúnyog mindegyikét – a többitől függetlenül – kis valószínűséggel nyeli le, ez a valószínűségi változó Poisson eloszlást követ valamilyen λ paraméterrel. Ezért annak a valószínűsége, hogy 1 szúnyogot nyel le, $\lambda e^{-\lambda}$. A 2 szúnyog valószínűsége pedig $\frac{\lambda^2}{2} e^{-\lambda}$. Ha a diákok számát N -nel jelöljük, és a valószínűségeket relatív gyakoriságokkal helyettesítjük, akkor a nagy számok törvénye szerint alábbi közelítések igazak:

$$\frac{200}{N} \approx \lambda e^{-\lambda} \qquad \frac{50}{N} \approx \frac{\lambda^2}{2} e^{-\lambda}$$

A közelítéseket egyenlőséggel helyettesítve egy egyenletrendszert kapunk, aminek megoldása:

$$\lambda = 0.5 \qquad N = 659.4$$

Tehát kb. 660 diák jár az iskolába, és átlagosan kb. $\lambda = 0.5$ szúnyogot nyel le egy-egy diák.

4. (a)

- Két eloszlás konvolúcióját úgy kapjuk meg, hogy a direkt szorzatukat a $z = x + y$ transzformációval a számeqyenesre transzformáljuk,

illetve

- két olyan független valószínűségi változó összegének eloszlása, amelyek eloszlásai az adott eloszlások,

avagy képlettel:

$$\bullet r(z) = \sum_{(x,y): x+y=z} p_1(x) \cdot p_2(y)$$

vagy

$$\bullet r(z) = \sum_x p_1(x) \cdot p_2(z-x)$$

vagy

$$\bullet r(z) = \sum_y p_1(z-y) \cdot p_2(y)$$

(b)

A 6-oldalú dobókockával az 1, 2, 3, 4, 5, 6 számokat, a 8-oldalú dobókockával az 1, 2, 3, 4, 5, 6, 7, 8 számokat dobhatjuk. A lehetséges 48 darab

(1, 8)	(2, 8)	(3, 8)	(4, 8)	(5, 8)	(6, 8)
(1, 7)	(2, 7)	(3, 7)	(4, 7)	(5, 7)	(6, 7)
(1, 6)	(2, 6)	(3, 6)	(4, 6)	(5, 6)	(6, 6)
(1, 5)	(2, 5)	(3, 5)	(4, 5)	(5, 5)	(6, 5)
(1, 4)	(2, 4)	(3, 4)	(4, 4)	(5, 4)	(6, 4)
(1, 3)	(2, 3)	(3, 3)	(4, 3)	(5, 3)	(6, 3)
(1, 2)	(2, 2)	(3, 2)	(4, 2)	(5, 2)	(6, 2)
(1, 1)	(2, 1)	(3, 1)	(4, 1)	(5, 1)	(6, 1)

számpár mindegyikének $\frac{1}{48}$ a valószínűsége. A számpárok helyére a számok összegét írhatjuk:

9	10	11	12	6	14
8	9	10	11	12	13
7	8	9	10	11	12
6	7	8	9	10	11
5	6	7	8	9	10
4	5	6	7	8	9
3	4	5	6	7	8
2	3	4	5	6	7

Látjuk, hogy

- a 2 és a 14 1-szer,
- a 3 és a 13 2-szer,
- a 4 és a 12 3-szor,
- az 5 és a 11 4-szer,
- a 6 és a 10 5-ször,
- a 7, a 8, és a 9 6-szor

szerepel, ezért a dobott számok összegének az eloszlása:

2	3	4	5	6	7	8	9	10	11	12	13	14
$\frac{1}{48}$	$\frac{2}{48}$	$\frac{3}{48}$	$\frac{4}{48}$	$\frac{5}{48}$	$\frac{6}{48}$	$\frac{6}{48}$	$\frac{5}{48}$	$\frac{4}{48}$	$\frac{3}{48}$	$\frac{2}{48}$	$\frac{1}{48}$	

2. Második zárthelyik (2017. szeptember 1. előtt)

2.1. Második zárthelyi, 2016-11-14, 8 óra

- Vezesse le két független 0 és 1 között folytonos egyenletes eloszlású random szám szorzata
 - eloszlásfüggvényének a képletét;
 - sűrűségfüggvényének a képletét!
 - A két random szorzatának a várható értéke $\frac{1}{4}$. Magyarozza el kísérleti eredményekkel megfogalmazva, hogy mit jelent a gyakorlatban ez a tény! *Ez a magyarázat lehet Excelre hivatkozva is, Excel nélkül is.*
- Tegyük fel, hogy egy alkatrész (években mért) élettartama exponenciális eloszlást követ 2.5 paraméterrel. Határozza meg, hogy mennyi az az időtartam, amennyit egy ilyen alkatrész
 - 0.9 valószínűséggel túlél?
 - 0.9 valószínűséggel túlél, feltéve, hogy az alkatrész legalább 1 évig élni fog?
- Tegyük fel, hogy egy svéd szigeten december elején a déli hőmérséklet normális eloszlást követ 2°C várható értékkel. A szórást nem ismerjük, de tudjuk, hogy 0.25 a valószínűsége annak, hogy a hőmérséklet 0°C alatt van.
 - Mennyi a hőmérséklet szórása?
 - Mennyi a valószínűsége annak, hogy hőmérséklet nagyobb 3°C -nál?
 - Mennyi a valószínűsége annak, hogy a hőmérséklet 4 független mérési eredményének az átlaga nagyobb 3°C -nál?
- Egy kétdimenziós (X, Y) valószínűségi változó sűrűségfüggvénye a $(2, 3)$ pontban 4 -gyel egyenlő. Mit jelent ez a tény?
 - Magyarázza el a "valószínűség" fogalma segítségével!
 - Magyarázza el a "relatív gyakoriság" fogalma segítségével!

Standard normális eloszlásfüggvény
(két tizedes pontossággal)

x	$\Phi(x)$	x	$\Phi(x)$	x	$\Phi(x)$	x	$\Phi(x)$	x	$\Phi(x)$	x	$\Phi(x)$
0,0	0,50	0,5	0,69	1,0	0,84	1,5	0,93	2,0	0,98	2,5	0,99
0,1	0,54	0,6	0,73	1,1	0,86	1,6	0,95	2,1	0,98	2,6	1,00
0,2	0,58	0,7	0,76	1,2	0,88	1,7	0,96	2,2	0,99		
0,3	0,62	0,8	0,79	1,3	0,90	1,8	0,96	2,3	0,99		
0,4	0,66	0,9	0,82	1,4	0,92	1,9	0,97	2,4	0,99		

2.2. Második zárthelyi, 2016-11-14, 8 óra. Megoldások és válaszok

- (a) A levezetés a jegyzet 2. részében a "Random számok transzformációi" című 3. fejezetében található.
(b) A levezetés a jegyzet 2. részében a "Random számok transzformációi" című 3. fejezetében található.
(c) Ha 1000 cellába beírjuk a $=\text{RAND}() * \text{RAND}()$ utasítást, akkor a kapott 1000 szám átlaga közel lesz $\frac{1}{4}$ -hez.

- (a) A keresett x időtartamnak eleget kell tenni az

$$0.9 = P(X > x) = e^{-2.5x}$$

egyenletnek, ahonnan

$$x = \frac{\ln(0.9)}{(-2.5)} \quad (= 0.04 \text{ év})$$

- (b) Az exponenciális eloszlás örökifjú tulajdonsága miatt a válasz

$$x = 1 + \frac{\ln(0.9)}{(-2.5)} \quad (= 1.04 \text{ év})$$

- (a) A feladat szövege szerint az X hőmérsékletre igaz, hogy

$$0.25 = P(X < 0) = F(0) = \Phi\left(\frac{0-2}{\sigma}\right)$$

A táblázat szerint $\Phi(0.7) \approx 0.75$, ezért

$$\Phi(-0.7) = 1 - \Phi(0.7) \approx 0.25$$

Így

$$\frac{0-2}{\sigma} \approx -0.7$$

vagyis

$$\sigma \approx \frac{2}{0.7} \quad (\approx 2.9 \text{ } ^\circ\text{C})$$

- (b)

$$P(X > 3) = 1 - \Phi\left(\frac{3-2}{\left(\frac{2}{0.7}\right)}\right) \quad (\approx 0.36)$$

- (c) A 4 független mérési eredmény átlagának szórását úgy kapjuk, hogy az eredeti szórást elosztjuk 4 négyzetgyökével, vagyis a 4 független mérési eredmény átlagának szórása

$$\frac{\left(\frac{2}{0.7}\right)}{\sqrt{4}}$$

ezért

$$P\left(\frac{X_1 + X_2 + X_3 + X_4}{4} > 3\right) = 1 - \Phi\left(\frac{3-2}{\frac{\left(\frac{2}{0.7}\right)}{\sqrt{4}}}\right) \quad (\approx 0.24)$$

- (a) A (2, 3) pont körüli kis területű tartomány valószínűsége körülbelül egyenlő a tartomány területének 4-szeresével.
(b) Ha sok kísérletet végzünk, és megszámloljuk, hogy a kísérleti eredményeknek hányad része esik egy (2, 3) pont körüli kis területű tartományba, akkor ez a relatív gyakoriság körülbelül egyenlő a tartomány területének 4-szeresével.

2.3. Második zárthelyi, 2016-11-14, 9 óra

- Vezesse le két független 0 és 1 között folytonos egyenletes eloszlású random szám hányadosa
 - eloszlásfüggvényének a képletét;
 - sűrűségfüggvényének a képletét!
 - A két random szám hányadosának a várható értéke végtelen. Magyarozza el kísérleti eredményekkel megfogalmazva, hogy mit jelent a gyakorlatban ez a tény! *Ez a magyarázat lehet Excelre hivatkozva is, Excel nélkül is.*
- Tegyük fel, hogy egy alkatrész (években mért) élettartama exponenciális eloszlást követ, és hogy a várható értéke 2 év. Mi a valószínűsége annak, hogy egy ilyen alkatrész
 - legalább 4 évig élni fog?
 - legalább 4 évig élni fog, feltéve, hogy az alkatrész legalább 1 évig élni fog?
- Tegyük fel, hogy egy norvég szigeten december elején a déli hőmérséklet Celsius fokokban mérve normális eloszlást követ 4 fok szórással. A várható értéket nem ismerjük. Annak a valószínűsége, hogy hőmérséklet 2 fok alatt van, 0.25 -tel egyenlő.
 - A hőmérsékletnek mennyi a várható értéke?
 - Mi a valószínűsége annak, hogy a hőmérséklet negatív?
 - Mi a valószínűsége annak, hogy 4 független mérési eredmény átlaga negatív?
- Egy kétdimenziós (X, Y) valószínűségi változó eloszlásfüggvénye a $(2, 3)$ pontban $1/4$ -del egyenlő. Mit jelent ez a tény?
 - Magyarázza el a "valószínűség" fogalma segítségével!
 - Magyarázza el a "relatív gyakoriság" fogalma segítségével!
- Extra feladat iMSc diákoknak.** A kétdimenziós béta eloszlás sűrűségfüggvénye képletének levezetésekor mi-ért írtuk az $\frac{n!}{(i-1)!(j-i-1)!(n-j)!}$ konstans (esetleg más alakban írva) a hatványok szorzata elé? *Írja le a levezetésnek ezt a lépését!*

Standard normális eloszlásfüggvény
(két tizedes pontossággal)

x	$\Phi(x)$	x	$\Phi(x)$	x	$\Phi(x)$	x	$\Phi(x)$	x	$\Phi(x)$	x	$\Phi(x)$
0,0	0,50	0,5	0,69	1,0	0,84	1,5	0,93	2,0	0,98	2,5	0,99
0,1	0,54	0,6	0,73	1,1	0,86	1,6	0,95	2,1	0,98	2,6	1,00
0,2	0,58	0,7	0,76	1,2	0,88	1,7	0,96	2,2	0,99		
0,3	0,62	0,8	0,79	1,3	0,90	1,8	0,96	2,3	0,99		
0,4	0,66	0,9	0,82	1,4	0,92	1,9	0,97	2,4	0,99		

2.4. Második zárthelyi, 2016-11-23, pótz

- Vezesse le egy 0 és 0.5 között folytonos egyenletes eloszlású valószínűségi változó szám reciproka
 - eloszlásfüggvényének a képletét! (A képlet érvényességi tartományát is meg kell adni!)
 - Számolja ki a mediánját!
 - Magyarázza el **kísérleti eredményekkel megfogalmazva**, hogy mit jelent az, hogy a medián annyi, amennyi kijött! (A magyarázat történhet Excelre hivatkozva is, Excel nélkül is.)
- Tegyük fel, hogy egy alkatrész (években mért) élettartama exponenciális eloszlást követ, és hogy a várható értéke 3 év. Mi a valószínűsége annak, hogy egy ilyen alkatrész
 - legalább 5 évig él, feltéve, hogy legalább 4 évig él?
 - legalább 3 évig él, feltéve, hogy legfeljebb 4 évig él?
- Tegyük fel, hogy egy finn szigeten december elején a déli hőmérséklet normális eloszlást követ ismeretlen várható értékkel és szórással. Tudjuk, hogy 0.18 a valószínűsége annak, hogy a hőmérséklet 0°C alatt van, és 0.14 a valószínűsége annak, hogy a hőmérséklet 10°C felett van. A lentebbi táblázat segítségével adja meg a válaszokat numerikusan!
 - Mennyi a hőmérséklet szórása? (Segítség: Állítson fel egyenleteket úgy, hogy azokból a szórást meg lehessen határozni!)
 - Mennyi a valószínűsége annak, hogy hőmérséklet a várható értéktől 1°C -nál többel eltér?
 - Mennyi a valószínűsége annak, hogy a hőmérséklet 4 független mérési eredményének az átlaga a várható értéktől 1°C -nál többel eltér?
- Egy kétdimenziós (X, Y) valószínűségi változó
 - sűrűségfüggvénye a $(2, 3)$ pontban 0.3 -del egyenlő,
 - eloszlásfüggvénye a $(4, 5)$ pontban 0.4 -del egyenlő.Mit jelentenek ezek a tények? Magyarázza el a valószínűség fogalma segítségével!

Standard normális eloszlásfüggvény
(két tizedes pontossággal)

x	$\Phi(x)$	x	$\Phi(x)$	x	$\Phi(x)$	x	$\Phi(x)$	x	$\Phi(x)$	x	$\Phi(x)$
0,0	0,50	0,5	0,69	1,0	0,84	1,5	0,93	2,0	0,98	2,5	0,99
0,1	0,54	0,6	0,73	1,1	0,86	1,6	0,95	2,1	0,98	2,6	1,00
0,2	0,58	0,7	0,76	1,2	0,88	1,7	0,96	2,2	0,99		
0,3	0,62	0,8	0,79	1,3	0,90	1,8	0,96	2,3	0,99		
0,4	0,66	0,9	0,82	1,4	0,92	1,9	0,97	2,4	0,99		

2.5. Második zárthelyi, 2016-12-14, pótpótz

- Jancsi és Juliska egymástól függetlenül érkeznek a menzára 12^h és $\frac{3}{4} 1^h$ között (folytonos!) egyenletes eloszlás szerint. Aki előbb odaér, megvárja a másikat. Amikor találkoznak, örömkömben nagyot kiáltanak. Határozza meg a kiáltás időpontjának
 - eloszlásfüggvényét! (*Ne feldje megadni a képlet értelmezési tartományát!*)
 - várható értékét!
- Egy bizonyos alkatrész (években mért) élettartama exponenciális eloszlást követ. Csak kb. minden tizedik alkatrész éli túl az 5 évet.
 - Mennyi az ilyen alkatrészek élettartamának a várható értéke?
 - Mi a valószínűsége annak, hogy egy ilyen alkatrész túléli a 6 évet, feltéve, hogy túléli a 4 évet?(*A válaszokat elég egy-egy korrekt numerikus képlettel megadni.*)
- Ha a gyufaszálak hossza normális eloszlást követ 4 cm várható értékkel és 0.2 cm szórással, akkor
 - mennyi a valószínűsége annak, hogy 2 egymástól független gyufaszál mindegyike 4.4 cm -nél rövidebb?
 - Ha 9 független gyufaszálat egymáshoz fűzve lerakunk az asztalra, akkor mennyi a valószínűsége annak, hogy a keletkező "kígyó" hossza (= a 9 gyufa összhossza) 35 cm -nél nagyobb?(*A válaszokat elég egy-egy korrekt numerikus képlettel megadni.*)
- Adja meg az arkusz-szinusz eloszlás sűrűségfüggvényének és eloszlásfüggvényének a képletét! Rajzolja le a sűrűségfüggvény grafikonját!
(*Pontos képleteket és értelmezési tartományokat, valamint gondos rajzot kérünk.*)
 - Mondjon példát az életből olyan valószínűségi változóra, ami arkusz-szinusz eloszlás követ!
(*Itt szimulációnak nincs helye.*)

Standard normális eloszlásfüggvény
(két tizedes pontossággal)

x	$\Phi(x)$	x	$\Phi(x)$	x	$\Phi(x)$	x	$\Phi(x)$	x	$\Phi(x)$	x	$\Phi(x)$
0,0	0,50	0,5	0,69	1,0	0,84	1,5	0,93	2,0	0,98	2,5	0,99
0,1	0,54	0,6	0,73	1,1	0,86	1,6	0,95	2,1	0,98	2,6	1,00
0,2	0,58	0,7	0,76	1,2	0,88	1,7	0,96	2,2	0,99		
0,3	0,62	0,8	0,79	1,3	0,90	1,8	0,96	2,3	0,99		
0,4	0,66	0,9	0,82	1,4	0,92	1,9	0,97	2,4	0,99		

2.6. Második zárthelyi, 2017-04-19

1. Egy városban a közlekedési "piros-sárga-zöld" lámpák élettartama (a zavartalan működés időtartama) exponenciális eloszlást követ. Az élettartam mediánja 7.5 hónap. **(a)** Mennyi a várható érték? **(b)** Kísérleti eredményekből hogyan közelíthetjük az élettartam négyzetének a várható értékét?
2. **(a)** Vezesse le két független 0 és 1 között folytonos egyenletes eloszlású random szám hányadosa sűrűségfüggvényének a képletét! **(b)** A hányados várható értéke végtelen. Magyarázza el kísérleti eredményekkel megfogalmazva, hogy mit jelent a gyakorlatban ez a tény! *Ez a magyarázat lehet Excelre hivatkozva is, Excel nélkül is.*
3. A λ paraméterű exponenciális eloszlást az $y = x^2$ transzformációval transzformáljuk. **(a)** Határozza meg a kapott eloszlás jobboldali eloszlásfüggvényének a képletét! **(b)** Mutassa meg a jobboldali eloszlásfüggvény felhasználásával, hogy ha egy Y élettartam ezt az eloszlást követi, akkor igaz rá a

$$P(Y > s + t | Y > t) > P(Y > s) \quad (s, t > 0)$$

fiatalodó tulajdonság! **(c)** A képlettel megadott tulajdonságot miért jogos *fiatalodó tulajdonság*nak nevezni?

4. A szépséges Zöld Mezőn a fűszálak hossza normális eloszlást követ. A fűszálaknak kb. 7 százaléka hosszabb 40 cm -nél, és kb. 10 százaléka rövidebb 20 cm -nél. **(a)** Mennyi a fűhossz várható értéke? **(b)** Kb. hány fűszál esetén teljesül 92 százalékos biztonsággal, hogy a fűszálak átlagos hossza 1 cm -es pontosságon belül közelíti a várható értéket?

Standard normális eloszlásfüggvény
(két tizedes pontossággal)

x	$\Phi(x)$	x	$\Phi(x)$	x	$\Phi(x)$	x	$\Phi(x)$	x	$\Phi(x)$	x	$\Phi(x)$
0,0	0,50	0,5	0,69	1,0	0,84	1,5	0,93	2,0	0,98	2,5	0,99
0,1	0,54	0,6	0,73	1,1	0,86	1,6	0,95	2,1	0,98	2,6	1,00
0,2	0,58	0,7	0,76	1,2	0,88	1,7	0,96	2,2	0,99		
0,3	0,62	0,8	0,79	1,3	0,90	1,8	0,96	2,3	0,99		
0,4	0,66	0,9	0,82	1,4	0,92	1,9	0,97	2,4	0,99		

2.7. Második zárthelyi, 2017-04-19. Megoldások és válaszok

1. (a)

A mediánt az $F(x) = \frac{1}{2}$ egyenletet definiálja.

Exponenciális eloszlás esetén $F(x) = 1 - e^{-\lambda x}$, de λ -t egyelőre nem ismerjük.

A medián $x = 7.5$, ezért $1 - e^{-\lambda \cdot 7.5} = \frac{1}{2}$, ahonnan $\lambda = \frac{\ln(2)}{7.5}$.

Exponenciális eloszlás esetén a várható érték $\frac{1}{\lambda}$.

Ezért a várható érték $\lambda = \frac{7.5}{\ln(2)}$ (= 10.8 hónap).

(b)

A nagy számok törvénye szerint: sok lámpa esetén az élettartamok négyzeteinek a tapasztalati átlaga közelíti az élettartam négyzetének az elméleti várható értékét.

2. (a)

A feladat és a megoldás a jegyzet "Random számok transzformációi" fejezetében olvasható.

(b)

A nagy számok törvénye szerint: ilyenkor – sok kísérlet esetén – a kísérleti eredmények átlaga nagy lesz. A kísérletszám növekedtével az átlag minden határon túl nő.

3. (a)

Mint tudjuk, az új $G(y)$ eloszlásfüggvény a régi $F(x)$ eloszlásfüggvényből és az $y = t(x)$ transzformáció $x = t^{-1}(y)$ inverzéből összetett függvényként adódik:

$$G(y) = F(t^{-1}(y)) = 1 - e^{-\lambda \sqrt{y}}$$

Ezért a keresett jobboldali eloszlásfüggvény:

$$T(y) = 1 - G(y) = 1 - (1 - e^{-\lambda \sqrt{y}}) = e^{-\lambda \sqrt{y}}$$

(b)

Igazolandó, hogy

$$\frac{P(Y > s + t)}{P(Y > t)} > P(Y > s)$$

Tehát igazolandó, hogy

$$\frac{T(s + t)}{T(t)} > T(s)$$

azaz

$$T(s + t) > T(s) \cdot T(t)$$

vagyis

$$e^{-\lambda \sqrt{s+t}} > e^{-\lambda \sqrt{s}} \cdot e^{-\lambda \sqrt{t}}$$

Minkét oldal logaritmusát vesszük:

$$-\lambda \sqrt{s+t} > -\lambda \sqrt{s} - \lambda \sqrt{t}$$

$(-\lambda)$ -val osztunk:

$$\sqrt{s+t} < \sqrt{s} + \sqrt{t}$$

Négyzetre emelünk:

$$s + t < s + t + 2\sqrt{s}\sqrt{t}$$

A kapott egyenlőtlenség nyilván igaz, hiszen

$$0 < 2\sqrt{s}\sqrt{t}$$

(c)

A baloldali feltételes valószínűség azt fejezi ki, hogy egy t időt meghaladó élettartam milyen eséllyel halad meg további s időtartamot. A képlet szerint ez az esély nagyobb, mintha az élettartam 0-ból indulna. Tehát egy már leélt időtartam növeli a jövőre vonatkozó esélyeket. Ezt joggal nevezhetjük fiatalodásnak!

4. (a)

Jelöljük a fűszál hosszát X -szel, a várható értéket μ -vel, a szórást σ -val. Mivel $P(X > 40) = 0.07$, ezért

$$P(X < 40) = \Phi\left(\frac{40 - \mu}{\sigma}\right) = 0.93$$

A Φ függvény táblázata alapján:

$$\frac{40 - \mu}{\sigma} = 1.5$$

Másrészt

$$P(X < 20) = \Phi\left(\frac{20 - \mu}{\sigma}\right) = 0.10$$

Mivel a Φ függvény táblázata alapján $\Phi(1.3) = 0.90$, ezért $\Phi(-1.3) = 0.10$, így:

$$\frac{20 - \mu}{\sigma} = -1.3$$

μ -re és σ -ra két egyenletet kaptunk. Az egyenletrendszer megoldása:

$$\sigma = \frac{20}{2.8} \qquad \mu = 40 - \frac{30}{2.8}$$

Tehát a fűhossz várható értéke $\mu = 40 - \frac{30}{2.8}$ ($= 29.28$).

(b)

A "Várható érték közelítése átlaggal" c. fejezetben kijött (a gondolatmenetet lásd ott), hogy ha a kísérletszám nagyobb, mint

$$\sigma^2 \frac{[\phi^{-1}\left(\frac{1+q}{2}\right)]^2}{\epsilon^2}$$

akkor az átlag q biztonság mellett ϵ -nál kisebb hibával közelíti a várható értéket. Ebbe a képletbe kell behelyettesíteni a $q = 0.9$, $\epsilon = 1$ és a fenti σ értéket, ami azt adja, hogy 139 fűszálra van szükség.

2.8. Második zárthelyi, 2017-05-03, pótzh

1. Egy városban az úttest felett elhelyezett lámpák élettartama (a zavartalan működés időtartama hónapokban mérve) azt az eloszlást követi, melynek eloszlásfüggvénye $F(x) = 1 - \frac{1}{x^5}$ ($x > 1$). **(a)** Az élettartam négyzetének mennyi a várható értéke? **(b)** Kísérleti eredményekből hogyan közelíthetjük az élettartam négyzetének a várható értékét?
2. **(a)** Vezesse le két független 0 és 1 között folytonos egyenletes eloszlású random szám szorzata sűrűségfüggvényének a képletét! **(b)** Mennyi a szorzat várható értéke? **(c)** Magyarázza el kísérleti eredményekkel megfogalmazva, hogy mit jelent a gyakorlatban az a tény, hogy a szorzat várható értéke annyi, amennyi a számolásból adódik! *Ez a magyarázat lehet Excelre hivatkozva is, Excel nélkül is.*
3. A λ paraméterű exponenciális eloszlást az $y = \sqrt[3]{x}$ képletű köbgyök transzformációval transzformáljuk. **(a)** Határozza meg a kapott eloszlás jobboldali eloszlásfüggvényének a képletét! **(b)** Mutassa meg a jobboldali eloszlásfüggvény felhasználásával, hogy ha egy Y élettartam ezt az eloszlást követi, akkor igaz rá a

$$P(Y > s + t | Y > t) < P(Y > s) \quad (s, t > 0)$$

öregedő tulajdonság! **(c)** A képlettel megadott tulajdonságot miért jogos *öregedő tulajdonságnak* nevezni?

4. A szépséges Karc sú- réten a nádszálak hossza normális eloszlást követ. A nádszálaknak kb. 14 százaléka hosszabb 3 méternél, és kb. 5 százaléka rövidebb 2 méternél. **(a)** Mennyi a nádhossz szórása? **(b)** Mennyi az az x érték, amire teljesül, hogy 25 nádszalat egymás után fűzve a hosszak összege 0.1 valószínűséggel nagyobb x -nél?

Standard normális eloszlásfüggvény
(két tizedes pontossággal)

x	$\Phi(x)$	x	$\Phi(x)$	x	$\Phi(x)$	x	$\Phi(x)$	x	$\Phi(x)$	x	$\Phi(x)$
0,0	0,50	0,5	0,69	1,0	0,84	1,5	0,93	2,0	0,98	2,5	0,99
0,1	0,54	0,6	0,73	1,1	0,86	1,6	0,95	2,1	0,98	2,6	1,00
0,2	0,58	0,7	0,76	1,2	0,88	1,7	0,96	2,2	0,99		
0,3	0,62	0,8	0,79	1,3	0,90	1,8	0,96	2,3	0,99		
0,4	0,66	0,9	0,82	1,4	0,92	1,9	0,97	2,4	0,99		

2.9. Második zárthelyi, 2017-05-03, pótz. Megoldások és válaszok

1. (a)

Az élettartam sűrűségfüggvénye:

$$f(x) = F'(x) = \frac{5}{x^6} \quad (x > 1)$$

Az élettartam négyzetének a várható értéke:

$$\int_1^{\infty} x^2 \cdot \frac{5}{x^6} dx = \dots = \frac{5}{3}$$

(b)

A nagy számok törvénye szerint: sok lámpa esetén az élettartamok négyzeteinek az átlaga közelíti az élettartam négyzetének az elméleti várható értékét.

2. (a)

A feladat és a megoldás a jegyzet "Random számok transzformációi" fejezetében olvasható.

(b)

A függetlenség miatt a szorzat várható értéke egyenlő a várható értékek szorzatával, ezért:

$$E(\text{RND}_1 \cdot \text{RND}_2) = E(\text{RND}_1) \cdot E(\text{RND}_2) = \frac{1}{2} \cdot \frac{1}{2} = \frac{1}{4}$$

(c)

Ha két véletlen szám szorzatát sokszor vesszük, akkor a kapott számok átlaga körülbelül $\frac{1}{4}$ lesz.

3. (a)

Mint tudjuk, az új $G(y)$ eloszlásfüggvény a régi $F(x)$ eloszlásfüggvényből és az $y = t(x)$ transzformáció $x = t^{-1}(y)$ inverzéből összetett függvényként adódik:

$$G(y) = F(t^{-1}(y)) = 1 - e^{-\lambda y^3}$$

Ezért a keresett jobboldali eloszlásfüggvény:

$$T(y) = 1 - G(y) = 1 - (1 - e^{-\lambda y^3}) = e^{-\lambda y^3}$$

(b)

Igazolandó, hogy

$$\frac{P(Y > s+t)}{P(Y > t)} < P(Y > s)$$

Tehát igazolandó, hogy

$$\frac{T(s+t)}{T(t)} < T(s)$$

azaz

$$T(s+t) < T(s) \cdot T(t)$$

vagyis

$$e^{-\lambda(s+t)^3} < e^{-\lambda s^3} \cdot e^{-\lambda t^3}$$

Minkét oldal logaritmusát vesszük:

$$-\lambda(s+t)^3 < -\lambda s^3 - \lambda t^3$$

$(-\lambda)$ -val osztunk:

$$(s+t)^3 > s^3 + t^3$$

A kapott egyenlőtlenség nyilván igaz, hiszen ha

(c)

A baloldali feltételes valószínűség azt fejezi ki, hogy egy t időt meghaladó élettartam milyen eséllyel halad meg további s időtartamot. A képlet szerint ez az esély kisebb, mintha az élettartam 0-ból indulna. Tehát egy már leélt időtartam csökkenti a jövőre vonatkozó esélyeket. Ezt joggal nevezhetjük öregedésnek!

4. (a)

Jelöljük a nádszál hosszát X -szel, a várható értéket μ -vel, a szórását σ -val. Mivel $P(X > 3) = 0.14$, ezért

$$P(X < 3) = \Phi\left(\frac{3 - \mu}{\sigma}\right) = 0.86$$

A Φ függvény táblázata alapján:

$$\frac{3 - \mu}{\sigma} = 1.1$$

Másrészt

$$P(X < 2) = \Phi\left(\frac{2 - \mu}{\sigma}\right) = 0.05$$

Mivel a Φ függvény táblázata alapján $\Phi(1.6) = 0.95$, ezért $\Phi(-1.6) = 0.05$, így:

$$\frac{2 - \mu}{\sigma} = -1.6$$

μ -re és σ -ra két egyenletet kaptunk. Az egyenletrendszer megoldása:

$$\sigma = \frac{1}{2.7} \quad (= 0.37) \qquad \mu = \frac{7}{2.7} \quad (= 2.59)$$

Tehát a nádhossz szórása $\sigma = \frac{1}{2.7}$ ($= 0.37$).

(b)

25 nádszál hosszának az összege normális eloszlású

$$25 \cdot \mu = 25 \cdot \frac{7}{2.7} = \frac{175}{2.7} \quad (= 64.81)$$

várható értékkel és

$$\sqrt{25} \cdot \sigma = 5 \cdot \frac{1}{2.7} = \frac{5}{2.7} \quad (= 1.85)$$

szórással. Mivel a Φ függvény táblázata alapján $\Phi(1.3) = 0.9$, ezért az

$$\frac{x - \frac{175}{2.7}}{\frac{5}{2.7}} = 0.9$$

egyenlet megoldása adja a keresett x értéket:

$$x = \frac{175}{2.7} + 0.9 \frac{5}{2.7} = \frac{179.5}{2.7} \quad (= 66.48)$$

3. Zárthelyik (2017. szeptember 1. után)

3.1. Zárthelyi, 2017-11-13, 8 óra

- Sok éves tapasztalatunk szerint hetente átlagosan kb. 5.2 értékes tárgyat veszítenek el a diákok az egyetem területén.
 - Milyen eloszlással modellezhetjük a 2 hét alatt elveszített értékes tárgyak számát? Írja le az eloszlás nevét, paramétere(i)nek numerikus értékét! Adja meg a súlyfüggvény matematikai képletét az értelmezési tartományával együtt! Adja meg a súlyfüggvény képletét a megfelelő Excel függvénnyel is – ezért extra 1/2 pontot szerezhet.
 - Miért jogos ennek az eloszlásnak a használata? A tanultakra hivatkozva indokolja választát!
 - Hány értékes tárgy elvesztése a legvalószínűbb 3 hét alatt? A tanultakra hivatkozva indokolja választát!
 - Mennyi a valószínűsége annak, hogy legfeljebb 5 értékes tárgyat veszítenek el 1 hét alatt, feltéve, hogy legalább 3-at? Adja meg a kért valószínűségeket egy korrekt matematikai képlettel! Adja meg a kért valószínűséget Excel függvénnyel is – ezért extra 1/2 pontot szerezhet.
- Írja le képletekkel, hogy egy X valószínűségi változóval kapcsolatban mit jelent az "örökifjú" tulajdonság és az "öregedő" tulajdonság!
 - Az X valószínűségi változó jobboldali eloszlásfüggvényét $T(x)$ jelöli. Mutassa meg, hogy ha $T(x) = e^{-3x}$ ($x \geq 0$), akkor X eleget tesz az "örökifjú" tulajdonságnak!
 - Mi az eloszlást a jobboldali eloszlásfüggvényével adtuk meg. Ön adja meg a baloldali eloszlásfüggvényt és a sűrűségfüggvényt, rajzolja le ezek grafikonjait, és számolja ki a várható értéket! A számolás egyes lépéseit szeretnénk ellenőrizni!
 - Vezesse le az $Y = \sqrt{X}$ valószínűségi változó eloszlásfüggvényének a képletét! Tehát ne helyettesítsen be egy tanult képletbe, hanem a tanult módszerrel vezesse le a kért függvényt!
- Három független random szám közül, melyek mindegyike egyenletes eloszlást követ 0 és 1 között, tekintjük a nagyság szerinti legkisebbet, és második legkisebbet, így kapjuk az X és az Y valószínűségi változókat.
 - Mennyi a valószínűsége annak, hogy $Y > 0.5$?
 - Adja meg (X, Y) sűrűségfüggvényének a képletét! Ha nem tudja, és kéri, akkor a felügyelő tanár megmondja a képletet. Ebben az esetben erre a részfeladatra nem kap pontot.
 - Mennyi a valószínűsége annak, hogy $X < 0.25$ és $Y > 0.5$? A valószínűséget ki is számolhatja vagy megadhatja egy korrektül felírt integrállal!
 - Mennyi a valószínűsége annak, hogy $Y - X > 0.5$? A valószínűséget ki is számolhatja vagy megadhatja egy korrektül felírt integrállal!
- (Extra feladat IMSc diákoknak - az előző feladat folytatása)
 - Határozza meg X várható értékét!
 - Határozza meg Y és X különbségének a várható értékét!

A 3b) feladathoz az esetleges segítség: Ha n darab 0 és 1 közötti random szám közül

$X =$ az i -ik legkisebb

$Y =$ a j -ik legkisebb

akkor – mint tanultuk – az (X, Y) kétdimenziós valószínűségi változó sűrűségfüggvényének a képlete:

$$f(x, y) = \frac{n!}{(i-1)! (j-i-1)! (n-j)!} x^{i-1} (y-x)^{j-i-1} (1-y)^{n-j} \quad (0 < x < y < 1)$$

Mivel most $n = 3$, $i = 1$, $j = 2$, ezért

$$f(x, y) = 6(1-y) \quad (0 < x < y < 1)$$

3.2. Zárthelyi, 2017-11-13, 8 óra. Megoldások és válaszok

1. Poisson eloszlás $\lambda = 2 \cdot 5.2 = 10.4$ paraméterrel. A súlyfüggvény képlete:

$$p(x) = \frac{10.4^x}{x!} e^{-10.4} \quad (x = 0, 1, 2, \dots)$$

Excellel angolul:

$$p(x) = \text{POISSON.DIST}(x; 10.4; \text{FALSE})$$

illetve magyarul:

$$p(x) = \text{POISSON.ELOSZLÁS}(x; 10.4; \text{HAMIS})$$

b)

A sok egyetemista sok értékes tárgyat hord, azok mindegyike – a többitől függetlenül – kis valószínűséggel vész el, ezért az elvesztett értékes tárgyak száma Poisson eloszlást követ.

c)

A 3 hét alatt elvesztett értékes tárgyak száma Poisson eloszlást követ $\lambda = 3 \cdot 5.2 = 15.6$ paraméterrel. Mint tudjuk, ennek az eloszlásnak a módusza 15 ez a legvalószínűbb 3 hét alatt.

d)

Az 1 hét alatt elvesztett értékes tárgyak száma Poisson eloszlást követ $\lambda = 5.2$ paraméterrel, ezért

$$\begin{aligned} P(\text{legfeljebb 5-öt veszítenek el} \mid \text{legalább 3-at veszítenek el}) &= \\ &= \frac{P(\text{legalább 3-at ÉS legfeljebb 5-öt veszítenek el})}{P(\text{legalább 3-at veszítenek el})} = \\ &= \frac{\sum_{x=3}^5 \frac{5.2^x}{x!} e^{-5.2}}{1 - \sum_{x=0}^2 \frac{5.2^x}{x!} e^{-5.2}} \quad \left(= \frac{0.47}{0.89} = 0.53 \right) \end{aligned}$$

2. a), b), c)

A képleteket, levezetést és a számolást lásd a jegyzet Folytonos eloszlásokról szóló 2. részében az exponenciális eloszlás tárgyalásánál.

d)

$$G(y) = P(Y < y) = P(\sqrt{X} < y) = P(X < y^2) = F(y^2) = 1 - e^{-\lambda \cdot y^2} \quad (y > 0)$$

3. a)

A nyilvánvaló szimmetria (három random szám közül a középsőről van szó, a 0.5 a [0; 1] intervallum közepén van) miatt triviális, hogy a kért valószínűség 0.5. Természetesen ezt az eredményt adja minden helyes számolás is.

Természetesen ugyanerre az eredményre jutunk, ha a második legkisebb szám sűrűségfüggvényét (1-dimenziós béta eloszlás $n = 3$ és $k = 2$ paraméterekkel) integráljuk 0.5 től 1 -ig:

$$\int_{0.5}^1 6x(1-x) dx = \frac{1}{2}$$

avagy 0 -tól 0.5 -ig, és az eredményt kivonjuk 1 -ből:

$$1 - \int_0^{0.5} 6x(1-x) dx = 1 - \frac{1}{2} = \frac{1}{2}$$

b)

Ha n darab 0 és 1 közötti random szám közül

$X =$ az i -ik legkisebb

$Y =$ a j -ik legkisebb

akkor – mint tanultuk – az (X, Y) kétdimenziós valószínűségi változó sűrűségfüggvényének a képlete:

$$f(x, y) = \frac{n!}{(i-1)!(j-i-1)!(n-j)!} x^{i-1} (y-x)^{j-i-1} (1-y)^{n-j} \quad (0 < x < y < 1)$$

Mivel most $n = 3, i = 1, j = 2$, ezért

$$f(x, y) = 6(1-y) \quad (0 < x < y < 1)$$

c)

A kért valószínűség integrállal megadva:

$$\int_0^{0.25} \left(\int_{0.5}^1 f(x, y) dy \right) dx$$

d)

Az $Y - X > 0.5$ esemény ugyanazt jelenti, mint az $Y > X + 0.5$ esemény, ezért a kért valószínűség integrállal megadva:

$$\int_0^{0.5} \left(\int_{x+0.5}^1 f(x, y) dy \right) dx$$

4. a)

X sűrűségfüggvénye:

$$f(x) = 3(1-x)^2 \quad (0 < x < 1)$$

A kért várható érték:

$$E(X) = \int_0^1 x \cdot 3(1-x)^2 dx = \frac{1}{4}$$

b)

(X, Y) sűrűségfüggvénye:

$$f(x, y) = 6(1-y) \quad (0 < x < y < 1)$$

Ezért

$$E(Y - X) = \int_0^1 \left(\int_x^1 (y-x) \cdot 6(1-y) dy \right) dx = \frac{1}{4}$$

3.3. Zárthelyi, 2017-11-13, 9 óra

- Kirándulást szervezek. Egy kis faházban fogunk aludni, ahol a szűkös priccsen csak 10 ember fér el. Én (mint szervező) és feleségem biztos, hogy megyünk. 10 barátom mindegyike a többitől függetlenül 0.8 valószínűséggel jön. Így összesen akár tizenketten is lehetünk.
 - Milyen eloszlást követ a kiránduláson résztvevő barátaim száma? Írja le az eloszlás nevét, paramétere(i)nek numerikus értékét! Adja meg a súlyfüggvény matematikai képletét az értelmezési tartományával együtt! Adja meg a súlyfüggvény képletét a megfelelő Excel függvénnyel is – ezért extra 1/2 pontot szerezhethet.
 - Hány barát részvétele a legvalószínűbb? A tanultakra hivatkozva indokolja választát!
 - Mennyi a kiránduláson résztvevő emberek (mi ketten plusz a barátok) számának a várható értéke? A tanultakra hivatkozva indokolja választát!
 - Mennyi a valószínűsége annak, hogy elférünk a priccsen (azaz legfeljebb 10-en leszünk)? Adja meg a kért valószínűséget egy korrekt matematikai képlettel! Adja meg a kért valószínűséget Excel függvénnyel is – ezért extra 1/2 pontot szerezhethet.
- Írja le szavakkal, hogy mit jelent az "örökifjú" tulajdonság! Nem sokat kell írni, csak a lényegét világosan.
 - Mutassa meg, hogy az exponenciális eloszlás eleget tesz az "örökifjú" tulajdonságnak!
 - Tegyük fel, hogy X mediánja 2.5 -del egyenlő, és exponenciális eloszlást követ. Rajzolja le X sűrűségfüggvényének grafikonját egy gondosan elkészített ábrán!
 - Mennyi a valószínűsége annak, hogy X értéke nagyobb, mint 10, feltéve, hogy nagyobb, mint 8? Adja meg a kért valószínűséget egy korrekt matematikai képlettel!
- Négy független random szám közül, melyek mindegyike egyenletes eloszlást követ 0 és 1 között, tekintjük a nagyság szerinti legkisebbet, és második legkisebbet, így kapjuk az X és az Y valószínűségi változókat.
 - Mennyi a valószínűsége annak, hogy $Y > 0.5$?
 - Adja meg (X, Y) sűrűségfüggvényének a képletét! Ha nem tudja, és kéri, akkor a felügyelő tanár megmondja a képletet. Ebben az esetben erre a részfeladatra nem kap pontot.
 - Mennyi a valószínűsége annak, hogy $X < 0.5$ és $Y > 0.5$? A valószínűséget ki is számolhatja vagy megadhatja egy korrektül felírt integrállal!
 - Mennyi a valószínűsége annak, hogy $Y - X > 0.5$? A valószínűséget ki is számolhatja vagy megadhatja egy korrektül felírt integrállal!

A 3b) feladathoz az esetleges segítség: Ha n darab 0 és 1 közötti random szám közül

X = az i -ik legkisebb

Y = a j -ik legkisebb

akkor – mint tanultuk – az (X, Y) kétdimenziós valószínűségi változó sűrűségfüggvényének a képlete:

$$f(x, y) = \frac{n!}{(i-1)!(j-i-1)!(n-j)!} x^{i-1} (y-x)^{j-i-1} (1-y)^{n-j} \quad (0 < x < y < 1)$$

Mivel most $n = 4$, $i = 1$, $j = 2$, ezért

$$f(x, y) = 12 (1-y)^2 \quad (0 < x < y < 1)$$

3.4. Zárthelyi, 2017-11-13, 9 óra. Megoldások és válaszok

1. a)

Binomiális eloszlás $n = 10$ és $p = 0.8$ paraméterekkel. A sűrűségfüggvény képlete:

$$p(x) = \binom{10}{x} 0.8^x (1 - 0.8)^{10-x} \quad (x = 0, 1, 2, \dots, 10)$$

Excellel angolul:

$$p(x) = \text{BINOM.DIST}(x; 10; 0.8; \text{FALSE})$$

illetve magyarul:

$$p(x) = \text{BINOM.ELOSZLÁS}(x; 10; 0.8; \text{HAMIS})$$

b)

Mivel $(n + 1) \cdot p = (10 + 1) \cdot 0.8 = 8.8$, ezért a binomiális eloszlás egyetlen módusza 8. Tehát 8 barát részvétele a legvalószínűbb.

c)

A binomiális eloszlás várható értéke $n \cdot p = 10 \cdot 0.8 = 8$, ezért a kiránduláson résztvevő emberek (mi ketten plusz a barátok) számának a várható értéke $8 + 2 = 10$.

d)

$$\begin{aligned} P(\text{elférünk a piccsen}) &= P(\text{legfeljebb 10-en leszünk}) = \\ &= 1 - P(11-en vagy 12 leszünk) = 1 - P(9 vagy 10 barát jön el) = \\ &= 1 - \left[\binom{10}{9} 0.8^9 (1 - 0.8)^{10-9} + \binom{10}{10} 0.8^{10} (1 - 0.8)^{10-10} \right] \quad (= 0.62) \end{aligned}$$

2. a)

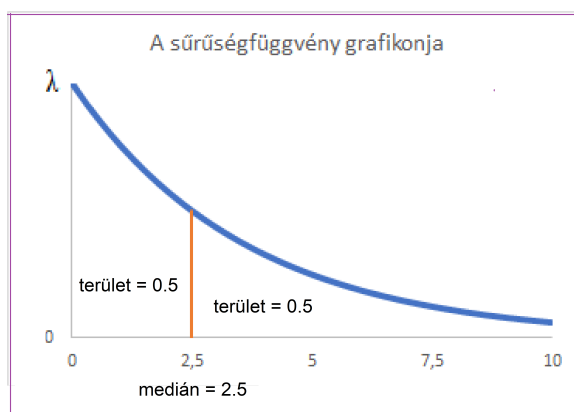
Például: ha egy működőképes alkatrész további élettartamára nincs befolyással az, hogy az alkatrész akkor éppen milyen öreg, akkor az élettartamra azt mondjuk, hogy "örökifjú" tulajdonságú.

b)

A bizonyítást lásd a jegyzet Folytonos eloszlásokról szóló 2. részében az exponenciális eloszlás tárgyalásánál.

c)

A sűrűségfüggvény grafikonja:



1. ábra. A sűrűségfüggvény grafikonja a medián kijelölésével

d)

A mediánra vonatkozó állítás alapján a jobboldali eloszlásfüggvényre ezt írhatjuk:

$$T(2) = e^{-2.5 \cdot \lambda} = \frac{1}{2}$$

ahonnan

$$\lambda = \frac{\ln(2)}{2.5} \quad (= 0.28)$$

Az örökifjú tulajdonság felhasználásával:

$$P(X > 10 | X > 8) = P(X > 2) = T(2) = e^{-\lambda \cdot 2} \quad (= 0.57)$$

3. a)

Az az esemény, hogy a négy random szám közül a második legkisebb nagyobb, mint 0.5 azt jelenti, hogy a négy random szám mindegyike 0.5 - nél nagyobb, vagy pedig közülük pontosan egy van, amelyik 0.5 - nél kisebb. Ezért a kérdészet valószínűség:

$$\begin{aligned} P(\text{a második legkisebb nagyobb, mint } 0.5) &= \\ P(\text{mindegyik nagyobb, mint } 0.5) + P(\text{pontosan egy van, amelyik } 0.5\text{-nél kisebb}) &= \\ = 0.5^4 + \binom{4}{1} \cdot 0.5^1 \cdot 0.5^3 &= \frac{5}{16} \end{aligned}$$

Természetesen ugyanerre az eredményre jutunk, ha második legkisebb szám sűrűségfüggvényét (1-dimenziós béta eloszlás $n = 4$ és $k = 2$ paraméterekkel) integráljuk 0.5 től 1 -ig:

$$\int_{0.5}^1 12x(1-x)^2 dx = \frac{5}{16}$$

avagy 0 -től 0.5 -ig, és az eredményt kivonjuk 1 -ből:

$$1 - \int_0^{0.5} 12x(1-x)^2 dx = 1 - \frac{9}{16} = \frac{5}{16}$$

b)

Ha n darab 0 és 1 közötti random szám közül

X = az i -ik legkisebb

Y = a j -ik legkisebb

akkor – mint tanultuk – az (X, Y) kétdimenziós valószínűségi változó sűrűségfüggvényének a képlete:

$$f(x, y) = \frac{n!}{(i-1)! (j-i-1)! (n-j)!} x^{i-1} (y-x)^{j-i-1} (1-y)^{n-j} \quad (0 < x < y < 1)$$

Mivel most $n = 4$, $i = 1$, $j = 2$, ezért

$$f(x, y) = 12 (1-y)^2 \quad (0 < x < y < 1)$$

c)

A kérdészet valószínűség integrállal megadva:

$$\int_0^{0.5} \left(\int_{0.5}^1 f(x, y) dy \right) dx$$

d)

Az $Y - X > 0.5$ esemény ugyanazt jelenti, mint az $Y > X + 0.5$ esemény, ezért a kérdészet valószínűség integrállal megadva:

$$\int_0^{0.5} \left(\int_{x+0.5}^1 f(x, y) dy \right) dx$$

3.5. Zárthelyi, 2017-11-20, pótzh

1. Tegyük fel, hogy egy diák egy bizonyos tárgyból akárhányszor vizsgázhat. Ismételt vizsgáin se többet, se kevesebbet nem tud, mint a korábbiakon – ezért minden vizsgáján a korábbi vizsgáitól függetlenül 0.25 valószínűséggel megy át, 0.75 valószínűséggel pedig megbukik. Az, hogy a diák a sikert hányadik vizsgáján éri el, egy X valószínűségi változó.
 - a) **Milyen eloszlást követ X ?** Írja le az eloszlás nevét, paramétere(i)nek numerikus értékét! Adja meg a súlyfüggvény matematikai képletét az értelmezési tartományával együtt!
 - b) X melyik értéke a **legvalószínűbb?** Indokolja választát!
 - c) Mennyi X **várható értéke?** A tanultakra hivatkozva indokolja választát!
 - d) Mennyi a valószínűsége annak, hogy **a diák az első n vizsga mindegyikén megbukik?** Adja meg a kért valószínűséget egy korrekt matematikai képlettel!
 - e) Mennyi a valószínűsége annak, hogy X **értéke páros szám, feltéve, hogy $X < 25$?** A kért valószínűséget adja meg egy korrekt matematikai képlettel!
2.
 - a) Írja le szavakkal, hogy a Centrális határeloszlás tétel alapján milyen jellegű valószínűségi változókat modellezhetünk **normális eloszlással!** Nem sokat kell írni, csak a lényeget világosan.
 - b) Számolja ki egy (a $[0; 1]$ intervallumon egyenletes eloszlású) **random szám szórását!**
 - c) Tegyük fel, hogy X tizenkét ilyen random szám összege. Mennyi X **várható értéke és szórása?**
 - d) Mennyi a valószínűsége annak, hogy X **értéke nagyobb, mint 8, feltéve, hogy nagyobb, mint 7?** Adja meg a kért valószínűséget a Φ függvény segítségével! Adja meg a kért valószínűséget Excel függvénnyel is – ezért extra $1/2$ pontot szerezhet.
3. Öt független random szám közül, melyek mindegyike egyenletes eloszlást követ a $[0; 1]$ intervallumon, tekintjük a nagyság szerinti második és harmadik legkisebbet, így kapjuk az X , illetve az Y valószínűségi változókat.
 - a) Adja meg (X, Y) **sűrűségfüggvényének a képletét az értelmezési tartományával együtt!** Írja le a tanult általános képletből vagy vezesse le! Ha egyik sem sikerül, akkor kérheti, hogy felügyelő tanár megmondja. Ebben az esetben erre a részfeladatra nem kap pontot.
 - b) Mennyi a valószínűsége annak, hogy $Y > 0.5$? Bármely korrekt számolást elfogadunk.
 - c) Vezesse le Y **sűrűségfüggvényének a képletét**, (X, Y) sűrűségfüggvényéből! Ha nem vezeti le a képletet, de a tanultakra hivatkozva megadja, akkor erre a részfeladatra 50% pontot kap.
 - d) Mennyi a valószínűsége annak, hogy $X > 0.25$ és $Y < 0.75$? A valószínűséget ki is számolhatja vagy megadhatja egy korrektül felírt integrállal!

3.6. Zárthelyi, 2018-05-03

1. Vadász barátom hétköznapokon (hétfőtől péntekig) a rosszabbik puskáját használja. Ezzel a puskával minden lövése a többitől függetlenül csak 0.05 valószínűséggel teríti le a célba vett nyulat. Hétfégén (szombaton és vasárnap) a jobb puskájával lövöldöz. Ezzel a puskával minden lövése a többitől függetlenül 0.4 valószínűséggel teríti le a célba vett nyulat. Minden nap addig lövöldöz a nyulakra, míg sikerül egyet leterítenie. Azt mesélik, hogy egy bizonyos napon, melyről nem tudjuk, hogy a hét melyik napja volt, 7 lövést adott le a nyúl vadászaton, hogy teljesítse az napi feladatát. Ez a bizonyos nap vajon hétköznap volt, vagy hétfége?

2. Az (X, Y) kétdimenziós valószínűségi változó eloszlását táblázatosan adjuk meg:

y						
3	0.20					
2	0.15	0.15				
1	0.10	0.10	0.10			
0	0.05	0.05	0.05	0.05		
	0	1	2	3	x	

(2/1) Adja meg $X + Y$ eloszlását táblázatos formában!

(2/2) Mennyi XY várható értéke?

(2/3) Független-e X és Y egymástól? *Válaszát csak helyes indokkal együtt értékeljük.*

3. A sarki zöldségesnél csak készpénzzel lehet fizetni. A fizetendő összeget fel- vagy lekerekítik úgy, hogy a fizetendő összeg 5 -tel osztható legyen. Mennyi annak a valószínűsége, hogy – mondjuk – napi 1000 vásárló esetén a bolt kerekítésekből adódó extra haszna 100 forintnál több?

3.7. Zárthelyi, 2018-05-14, pótzh

1. Történt egyszer, hogy egy nagy tó partján álldogálva nézegettem, ahogy a sok apró halacska egymással és az öreg, alig-alig látó halással mit sem törődve össze-vissza úszkált. A halász éppen a hálóját készült kiemelni, amikor kedvesen így szólt hozzám: "Fiatalember! Ha eltalálsz, hogy hány hal lesz a hálóban, meghívlak vacsorára". Szerettem a sült halat, és éhes is voltam. Csak annyit kérdeztem az öreg halásztól, hogy milyen gyakran szokott üres lenni a háló. Ő erre azt felelte: "Sok éves tapasztalatom szerint mondhatom neked, hogy az eseteknek a 6 % -ában üres a háló!" Kicsit gondolkodtam, számoltam, és 2 halra tippeltem. *Hogyan gondolkodtam, miért éppen 2 halra tippeltem?*

2. Az (X, Y) kétdimenziós valószínűségi változó eloszlását táblázatosan adjuk meg:

y						
3	0.20					
2	0.15	0.15				
1	0.10	0.10	0.10			
0	0.05	0.05	0.05	0.05		
	0	1	2	3	x	

(2/1) Mennyi Y várható értéke az $X = 1$ feltétel mellett?

(2/2) Mennyi X második momentuma?

(2/3) Mennyi $X^2 + Y$ várható értéke?

A kért mennyiségeket szépen, gondosan írja fel a megfelelő numerikus összeg alakjában!

3. Y jelöli egy 0 és 1 között folytonos egyenletes eloszlást követő random szám reciprokának az ötödik hatványát.

(3/1) Határozza meg Y eloszlásfüggvényét!

(3/2) Számolja ki Y várható értékét!

(3/3) Számolja ki Y mediánját!

3.8. Zárthelyi, 2018-05-23, pótpótzh

1. Vadász barátom hétköznapokon (hétfőtől péntekig) a rosszabbik puskáját használja. Ezzel a puskával minden lövése a többitől függetlenül csak 0.05 valószínűséggel teríti le a célba vett nyulat. Hétfégén (szombaton és vasárnap) a jobb puskájával lövöldöz. Ezzel a puskával minden lövése a többitől függetlenül 0.4 valószínűséggel teríti le a célba vett nyulat. Minden nap addig lövöldöz a nyulakra, míg sikerül egyet leterítenie. Azt mesélik, hogy egy bizonyos napon, melyről nem tudjuk, hogy a hét melyik napja volt, 7 lövést adott le a nyúl vadászaton, hogy teljesítse az napi feladatát. Ez a bizonyos nap vajon hétköznap volt, vagy hétfége?

2. Az (X, Y) kétdimenziós valószínűségi változó eloszlását táblázatosan adjuk meg:

y						
3	0.20					
2	0.15	0.15				
1	0.10	0.10	0.10			
0	0.05	0.05	0.05	0.05		
	0	1	2	3	x	

(2/1) Adja meg $X + Y$ eloszlását táblázatos formában!

(2/2) Mennyi XY várható értéke?

(2/3) Független-e X és Y egymástól? Válaszát csak helyes indokkal együtt értékeljük.

3. A sarki zöldségesnél csak készpénzzel lehet fizetni. A fizetendő összeget fel- vagy lekerekítik úgy, hogy a fizetendő összeg 5 -tel osztható legyen. Mennyi annak a valószínűsége, hogy – mondjuk – napi 1000 vásárló esetén a bolt kerekítésekből adódó extra haszna 100 forintnál több?

4. Félév végi vizsgák

4.1. Félév végi vizsga, 2016-12-19

1. (a) Adja meg az

i	0	1	2	3	...
p_i	p_0	p_1	p_2	p_3	...

diszkrét eloszlás várható értékének a definícióját!

- (b) Tegyük fel, hogy a rigófészkekben található tojások X száma a

i	0	1	2	3	4
p_i	0.15	0.25	0.30	0.20	0.10

eloszlást követi. **(b1)** Számolja ki X várható értékét! **(b2)** Felhasználva, hogy az $X = i$ esemény relatív gyakorisága – nagy kísérletszám esetén – közel van a p_i valószínűséghez, írja le annak a vázlatos bizonyítását, hogy sok rigófészket megfigyelve a tojások számának az átlaga közel van a várható értékéhez!

2. A fagyaltos nap mint nap dél és 5 óra között egyenletes eloszlás szerint érkezik a strandra, 1 órán át árulja portékáját, aztán elmegy. Mi a valószínűsége, hogy összefutok a fagyissal, ha én

- (a) 2 -kor érkezem, és 1.5 órát töltök ott?

- (b) a fagyis től függetlenül egyenletes eloszlás szerint érkezem 2 és 3 között, és 1.5 órát töltök ott?

Mindkét esetben világosan kell tálni, hogy az Ön megoldásában mi az eseménytér, és azon belül mi a kedvező kimenetek halmaza, mert az értékelésnél ez sokat számít!

3. A nikkell bolhák, amikor forró fémlapra helyezik őket, ugranak egyet, és már végük is van. Az X valószínűségi változó jelente azt, amekkorát ilyenkor egy nikkell bolha ugrik (méterben mérve).

(a) Ha Önnek lenne 800 nikkell bolhája, hogyan ellenőrizné, hogy X rendelkezik-e az örökifjú tulajdonsággal? Írja le, hogy a mindennapi gyakorlatban kísérleti eredményekből relatív gyakoriságokkal hogyan lehet az örökifjú tulajdonságot – ha csak többé-kevésbé is, de mégis valamennyire – ellenőrizni!

(b) Tegyük fel, hogy a kísérlet azt adja, hogy X rendelkezik az örökifjú tulajdonsággal. **(b1)** Vezesse le az örökifjú tulajdonságból, hogy X jobboldali eloszlásfüggvénye eleget tesz a $T(s+t) = T(s)T(t)$ egyenletnek!

(b2) Mutassa meg, hogy az exponenciális eloszlás jobboldali eloszlásfüggvénye is eleget tesz a $T(s+t) = T(s)T(t)$ egyenletnek!

4. Azon túl, hogy a bolhák ugrásainak a nagysága exponenciális eloszlást követ, tegyük fel még azt is, hogy a bolháknak kb. a fele ugrik nagyobb, mint 3.5 méter. Kb. mennyi a 800 ugrás

- (a) nagyságának az átlaga?

- (b) nagysága négyzetének az átlaga?

Vagy számolja ki a kért értékeket, vagy – ha tudja fejből a megfelelő képletet, dicsekedjen vele, és – adja meg a megfelelő magyarázatot!

5. Számítógéppel generálok két független, 0 és 1 között egyenletes eloszlást követő RND_1 , RND_2 random számot. A másodikból köbgyököt vonok, így kapom Y -t: $Y = (RND_2)^{\frac{1}{3}}$. Ezek után Y -t megszorozom az elsővel, így kapom X -et: $X = Y \cdot RND_1$.

- (a) Határozza meg (X, Y) sűrűségfüggvényét

- (b) Határozza meg az X és Y közötti kovarianciát!

6. Tegyük fel, hogy (X, Y) sűrűségfüggvénye $f(x, y) = 3y$ ($0 < x < y < 1$). Milyen függvénnyel tippeljünk X -ből Y -ra, ha az a cél, hogy

- (a) a hiba négyzetének a várható értéke minimális legyen?

- (b) a hiba abszolút értékének a várható értéke minimális legyen?

Határozza meg a kért függvények képletét!

4.2. Félév végi vizsga, 2016-12-19. Megoldások és válaszok

1. (a)

$$\sum_{i=0}^{\infty} i \cdot p_i$$

(b1)

$$E(X) = 0 \cdot 0.15 + 1 \cdot 0.25 + 2 \cdot 0.30 + 3 \cdot 0.20 + 4 \cdot 0.10 = 1.85$$

(b2)

N = a megfigyelt rigófészkek száma. N_i = ahány fészekben i darab tojás van ($i = 0, 1, 2, 3, 4$). Ekkor a tojások számának az átlaga:

$$\frac{\sum_{i=0}^4 N_i \cdot i}{N} = \sum_{i=0}^4 \frac{N_i}{N} \cdot i \approx \sum_{i=0}^4 p_i \cdot i = E(X)$$

2. (a)

Az eseményteret a fagyis lehetséges érkezési időpontjai alkotják, vagyis az eseménytér a $[0, 5]$ intervallum. Egy 0 és 5 közötti t időpont kedvező, ha a $[t, t + 1]$ intervallumnak van közös pontja a $[2, 3.5]$ intervallummal, azaz t 1 és 3.5 közé esik. Ezért a kérdészet valószínűség egyenlő az $[1, 3.5]$ hossza per a $[0, 5]$ hossza, azaz $2.5/5 = \frac{1}{2}$.

(b)

A fagyis érkezési időpontja 0 és 5 között van, az enyém 2 és 3 között. Ezért az eseménytér a $[0, 5] \times [2, 3]$ téglalap. Az eseménytérnek egy (x, y) pontja pontosan akkor kedvező, ha az $[x, x + 1]$ intervallumnak van közös pontja az $[y, y + 1.5]$ intervallummal, azaz a

$$2 < y < 3 \quad \text{egyenlőtlenséggel együtt az} \quad y - 1 < x < y + 1.5 \quad \text{egyenlőtlenség}$$

is teljesül. A kérdészet valószínűség egyenlő az iménti egyenlőtlenségekkel meghatározott paralelogramma területe osztva a $[0, 5] \times [2, 3]$ téglalap területével: $2.5/5 = \frac{1}{2}$.

3. (a)

Választok egy s és egy t értéket, pl. $s = 2$ méter és $t = 0.5$ méter, és megnézem, hogy

- a bolhák hányadrésze ugrik nagyobb t -nél,

és azt is, hogy

- az s -nél nagyobb ugró bolhák hányad része ugrik nagyobb $s + t$ -nél.

Ha ez a két arány közel van egymáshoz, akkor erre az s, t értékpárra X örökifjú tulajdonságúnak tűnik. Ha még néhány vagy inkább kellően sok s, t értékpárra X örökifjúnak tűnik, akkor elfogadom az örökifjú tulajdonságot.

(b1)

Az örökifjú tulajdonság szerint

$$P(X > s + t \mid X > s) = P(X > t)$$

azaz

$$\frac{P(X > s + t)}{P(X > s)} = P(X > t)$$

ahonnan átszorzással

$$P(X > s + t) = P(X > s)P(X > t)$$

vagyis

$$T(s + t) = T(s)T(t)$$

(b2)

Közismert, hogy

$$e^{a+b} = e^a e^b$$

Az exponenciális eloszlás jobboldali eloszlásfüggvénye

$$T(x) = e^{-\lambda x}$$

Ezek alapján

$$T(s + t) = e^{-\lambda(s+t)} = e^{-\lambda s - \lambda t} = e^{-\lambda s} e^{-\lambda t} = T(s)T(t)$$

4. **(a)**

A megadott információ szerint $P(X > 3.5)$ valószínűséget 0.5 -nek vesszük. Ezért $T(3.5) = 0.5$, vagyis

$$e^{-\lambda 3.5} = 0.5$$

$$\lambda = \frac{\ln(2)}{3.5}$$

A nagy számok törvénye szerint a kísérleti eredmények átlaga a várható értéket közelíti. Exponenciális eloszlás esetén a várható érték (amit integrálással ki is lehet számolni) $\frac{1}{\lambda}$. Ezért a válasz a kérdésre:

$$\frac{3.5}{\ln(2)}$$

(b)

A nagy számok törvénye szerint a kísérleti eredmények négyzetének az átlaga a második momentumot közelíti. Exponenciális eloszlás esetén a második momentum (amit integrálással ki is lehet számolni) $\frac{2}{\lambda^2}$. Ezért a válasz a kérdésre:

$$2 \left(\frac{3.5}{\ln(2)} \right)^2$$

5. **(a)**

Y eloszlásfüggvénye:

$$F_2(y) = P\left((\text{RND}_2)^{\frac{1}{3}} < y\right) = P(\text{RND}_2 < y^3) = y^3 \quad (0 < y < 1)$$

Y sűrűségfüggvénye:

$$f_2(y) = 3y^2 \quad (0 < y < 1)$$

Az $Y = y$ feltétel mellett X egyenletes eloszlású 0 és y között, ezért a feltételes sűrűségfüggvény 0 és y közötti x -ekre egyenlő a $(0, y)$ intervallum hosszának reciprokával, vagyis $\frac{1}{y}$ -nal:

$$f_{1|2}(x|y) = \frac{1}{y} \quad (0 < x < y)$$

(X, Y) sűrűségfüggvénye:

$$f(x, y) = f_2(y) \cdot f_{1|2}(x|y) = 3y^2 \cdot \frac{1}{y} = 3y \quad (0 < x < y < 1)$$

(b)

$$E(X) = E(Y \cdot \text{RND}_1) = E\left((\text{RND}_2)^{\frac{1}{3}} \cdot \text{RND}_1\right) = E\left((\text{RND}_2)^{\frac{1}{3}}\right) \cdot E(\text{RND}_1) = \frac{3}{4} \cdot \frac{1}{2} = \frac{3}{8}$$

$$E(Y) = E\left((\text{RND}_2)^{\frac{1}{3}}\right) = \int_0^1 y \cdot 3y^2 dy = \frac{3}{4}$$

$$E(XY) = E\left((\text{RND}_2)^{\frac{1}{3}} \text{RND}_1 \cdot (\text{RND}_2)^{\frac{1}{3}}\right) = E\left((\text{RND}_2)^{\frac{2}{3}} \cdot \text{RND}_1\right) = E\left((\text{RND}_2)^{\frac{2}{3}}\right) \cdot E(\text{RND}_1) = \frac{3}{5} \cdot \frac{1}{2} = \frac{3}{10}$$

Itt felhasználtuk, hogy

$$E\left((\text{RND}_2)^{\frac{2}{3}}\right) = \int_0^1 y^{\frac{2}{3}} dy = \frac{3}{5}$$

Végül a kovariancia

$$\text{COV}(X, Y) = E(XY) - E(X) \cdot E(Y) = \frac{3}{10} - \frac{3}{8} \cdot \frac{3}{4} = \frac{3}{160}$$

6. (a)

X sűrűségfüggvénye:

$$f_1(x) = \int_x^1 3y dy = \frac{3}{2} - \frac{3}{2}x^2 \quad (0 < x < 1)$$

Y feltételes sűrűségfüggvénye az $X = x$ feltétel mellett:

$$f_{2|1}(y|x) = \frac{3y}{\frac{3}{2} - \frac{3}{2}x^2} = \frac{2y}{1 - x^2} \quad (0 < x < y < 1)$$

Y feltételes várható értéke az $X = x$ feltétel mellett:

$$E(Y|X = x) = \int_x^1 \frac{2y^2}{1 - x^2} dy = \frac{\frac{2}{3} - \frac{2}{3}x^3}{1 - x^2} = \frac{2}{3} \cdot \frac{1 - x^3}{1 - x^2}$$

A legjobb tippeléshez használandó függvény:

$$k(x) = \frac{2}{3} \cdot \frac{1 - x^3}{1 - x^2}$$

(b)

Y feltételes eloszlásfüggvénye az $X = x$ feltétel mellett:

$$F_{2|1}(y|x) = \int_x^y \frac{2y}{1 - x^2} dy = \frac{y^2 - x^2}{1 - x^2}$$

A feltételes medián meghatározásához az egyenlet:

$$\frac{y^2 - x^2}{1 - x^2} = \frac{1}{2}$$

Az egyenlet megoldása y -ra:

$$y = \sqrt{\frac{1}{2} + \frac{1}{2}x^2}$$

A legjobb tippeléshez használandó függvény:

$$k(x) = \sqrt{\frac{1}{2} + \frac{1}{2}x^2}$$

4.3. Félév végi vizsga, 2017-01-09

1. (a) Adja meg a

i	0	1	2	3	...
p_i	p_0	p_1	p_2	p_3	...

diszkrét eloszlás második momentumának a definícióját!

(b) Felhasználva, hogy az $X = i$ esemény relatív gyakorisága – nagy kísérletszám esetén – közel van a p_i valószínűséghez, írja le annak a vázlatos bizonyítását, hogy sok kísérleti eredmény négyzetének az átlaga közel van a második momentumhoz! (Matematikai levezetést kérünk, nem pedig számítógépes szimuláció elmesélését.)

2. Egy városban pár év óta elég sok trafipax-szal próbálják a száguldozást megfékezni. A taxi-központ az év végén minden egyes taxisra összesítette, hogy hányszor kapták el gyorsajtásért. Mi csak annyit tudunk, hogy 110 taxist egyszer, 55-öt kétszer. (a) Kb. hány taxi szaladgál a városban? (b) A taxisoknak kb. hány százaléka kapott egy vagy több büntetést gyorsajtásért? (A használt modell jogosságát indokolni is kell!)
3. (a) 100 diák mindegyike, a többitől függetlenül 0.8 valószínűséggel adja be házi feladatát a megadott határidőig. Mi a valószínűsége annak, hogy a diákoknak legalább a háromnegyede a megadott határidőig beadja a házi feladatát? (A választ itt egy korrekt szumma alakjában kérjük.) (b) A feltett kérdésre adjon közelítő választ normális eloszlás segítségével! (A lentebbi táblázatot használja!)
4. Van egy piros és egy zöld lámpám. Élettartamaik függetlenek, és exponenciális eloszlásúak. A piros élettartamának a várható értéke 200 nap, a zöldnek pedig a mediánja 200 nap. (a) Az eloszlásfüggvények összevetésével döntse el, melyik lámpa a jobb! (b) Mennyi a valószínűsége annak, hogy a piros élettartama nagyobb a zöldénél? (Segítség: határozza meg a kétdimenziós sűrűségfüggvény képletét és a kedvező kimenetek halmazát, stb.)
5. (Folytatás) Kísérleti eredményekre támaszkodva magyarázza el, hogy hogy mit jelent az a tény, hogy (a) a piros lámpa élettartamának a várható értéke 200 nap! (b) a zöld lámpa élettartamának a mediánja 200 nap!
6. Az (X, Y) kétdimenziós valószínűségi változó sűrűségfüggvénye

$$f(x, y) = \frac{2x}{y} \quad (0 < x < 1, x < y < \frac{1}{x})$$

(a) Határozza meg az $f_{2|1}(y|x)$ feltételes sűrűségfüggvény képletét! (b) Milyen $y = k(x)$ függvénnyel tippeljünk X -ből Y -ra, ha azt szeretnénk, hogy a hiba négyzetének a várható értéke minimális legyen? (Határozza meg a $k(x)$ függvény képletét!)

Standard normális eloszlásfüggvény
(két tizedes pontossággal)

x	$\Phi(x)$	x	$\Phi(x)$	x	$\Phi(x)$	x	$\Phi(x)$	x	$\Phi(x)$	x	$\Phi(x)$
0,0	0,50	0,5	0,69	1,0	0,84	1,5	0,93	2,0	0,98	2,5	0,99
0,1	0,54	0,6	0,73	1,1	0,86	1,6	0,95	2,1	0,98	2,6	1,00
0,2	0,58	0,7	0,76	1,2	0,88	1,7	0,96	2,2	0,99		
0,3	0,62	0,8	0,79	1,3	0,90	1,8	0,96	2,3	0,99		
0,4	0,66	0,9	0,82	1,4	0,92	1,9	0,97	2,4	0,99		

4.4. Félév végi vizsga, 2017-01-09. Megoldások és válaszok

1. (a)

A második momentum:

$$E(X^2) = \sum_{i=0}^{\infty} i^2 p_i = \sum_{i=1}^{\infty} i^2 p_i$$

(b)

Legyenek X_1, \dots, X_N kísérleti eredmények. Legyen N_i , hogy ebből hányszor kaptuk az i eredményt. Tehát az i relatív gyakorisága $N_i/N \approx p_i$. Így

$$\frac{X_1^2 + \dots + X_N^2}{N} = \frac{N_1}{N} 1^2 + \dots + \frac{N_i}{N} i^2 + \dots \approx p_1 1^2 + \dots + p_i i^2 + \dots = E(X^2)$$

2. (a)

Minden egyes taxisra igaz, hogy sok gyorsajtásának mindegyikét egymástól függetlenül kis valószínűséggel veszik észre. Így az egyes taxisok tettenéréseinek X számát független Poisson változókkal modellezhetjük, ismeretlen λ paraméterrel.

N db taxi esetén:

$$110 \approx N P(X = 1) = N \cdot e^{-\lambda}$$

illetve

$$55 \approx N P(X = 2) = N \cdot e^{-\lambda} \lambda^2 / 2$$

A két egyenlet hányadosa $\lambda/2 = 1/2$ -et ad, ahonnan $\lambda = 1$ és $N \approx 110 \cdot e \approx 299$.

(b)

A tettenértek aránya $P(X > 0) = 1 - e^{-1} \approx 63.2\%$.

3. (a)

Az időben leadott dolgozatok X száma binomiális eloszlást követ, $n = 100$, $p = 0.8$ paraméterekkel.

$$P(X \geq 75) = \sum_{k=75}^{100} \binom{100}{k} 0.8^k 0.2^{100-k}$$

(b)

$$P(X \geq 75) = P(X \geq 74.5) = P\left(\frac{X - np}{\sqrt{np(1-p)}} \geq \frac{74.5 - 100 \cdot 0.8}{\sqrt{np(1-p)}}\right) \approx 1 - \Phi(-5.5/4) = \Phi(1.375) \approx 0.92$$

4. (a)

A λ paraméterű exponenciális eloszlást eloszlásfüggvénye $F(x) = 1 - e^{-\lambda x}$, a várható értéke $\frac{1}{\lambda}$. A második állítás alapján:

$$\frac{1}{\lambda_{\text{piros}}} = 200, \quad \text{így} \quad \lambda_{\text{piros}} = \frac{1}{200}, \quad \text{ezért} \quad F_{\text{piros}}(x) = 1 - e^{-\frac{1}{200}x}$$

Az első állítás alapján:

$$e^{-\lambda_{\text{zöld}} 200} = \frac{1}{2}, \quad \text{így} \quad \lambda_{\text{zöld}} = \frac{\ln(2)}{200}, \quad \text{ezért} \quad F_{\text{zöld}}(x) = 1 - e^{-\frac{\ln(2)}{200}x}$$

Mivel $\ln(2) < 1$, ezért $\lambda_{\text{zöld}} < \lambda_{\text{piros}}$ vagyis,

$$\frac{1}{\lambda_{\text{zöld}}} > \frac{1}{\lambda_{\text{piros}}}$$

így a zöld lámpa élettartamának nagyobb a várható értéke, mint a piros lámpa élettartamának. Sőt, tetszőleges x időtartam esetén

$$F_{\text{piros}}(x) > F_{\text{zöld}}(x)$$

ami azt fejezi ki, hogy az x időtartam alatt a piros nagyobb valószínűséggel ég ki, mint a zöld. Tehát a zöld lámpa egyértelműen jobb, mint a piros.

(b)

Legyen $X =$ a piros lámpa élettartama, $Y =$ a zöld lámpa élettartama. ARZ (X, Y) kétdimenziós valószínűségi változó sűrűségfüggvénye szorzat alakú:

$$f(x, y) = \lambda_{\text{piros}} e^{-\lambda_{\text{piros}}x} \lambda_{\text{zöld}} e^{-\lambda_{\text{zöld}}y}$$

ahol (x, y) a pozitív síknegyedben van.

$$\begin{aligned} P(X > Y) &= \int_0^{\infty} \int_y^{\infty} f(x, y) dx dy = \int_0^{\infty} \lambda_{\text{zöld}} e^{-\lambda_{\text{zöld}}y} \left(\int_y^{\infty} \lambda_{\text{piros}} e^{-\lambda_{\text{piros}}x} dx \right) dy \\ &= \int_0^{\infty} \lambda_{\text{zöld}} e^{-\lambda_{\text{zöld}}y} e^{-\lambda_{\text{piros}}y} dy = \frac{\lambda_{\text{zöld}}}{\lambda_{\text{zöld}} + \lambda_{\text{piros}}} \end{aligned}$$

Jelen esetben ez $\frac{\ln(2)}{\ln(2)+1} = 0.41$.

5. (a)

Sok (N db) kísérletet végzünk, az eredményeket X_1, \dots, X_N -nel jelöljük. Az élettartamok átlaga nagy kísérletszám esetén körülbelül 200.

(b)

Azon kísérletek aránya, melyekben az élettartam 200 napnál nagyobb, körülbelül $1/2$.

6. (a)

X sűrűségfüggvénye:

$$f_1(x) = \int_x^{1/x} \frac{2x}{y} dy = 2x [\ln y]_x^{1/x} = 4x \ln \frac{1}{x} \quad \text{ha } 0 < x < 1$$

Így a feltételes sűrűségfüggvény:

$$f_{2|1}(y|x) = \frac{f(x, y)}{f_1(x)} = \frac{1}{2y \ln(1/x)}, \quad \text{ha } x < y < \frac{1}{x}$$

(b)

A hiba négyzetének várható értékét a feltételes várható érték minimalizálja, tehát

$$k(x) = \int_x^{1/x} y f_{2|1}(y|x) dy = \int_x^{1/x} \frac{y}{2y \ln(1/x)} dy = \left(\frac{1}{x} - x\right) \frac{1}{2 \ln(1/x)}$$

Vetier András – Valószínűségszámítás – 4. rész: Zárthelyi és vizsga feladatok gyűjteménye

4.5. Félév végi vizsga, 2017-01-16

1. Én és barátom felváltva dobunk kosárra addig, ameddig valamelyikünknek sikerül bedobni a labdát. Én minden dobásomnál 0.4 valószínűséggel találok be, barátom 0.6 -tal. Dobásaink függetlenek. Én kezdek. **(a)** Mi a valószínűsége, hogy én nyerek? *(Ha a kért valószínűséget korrekt szumma alakjában adja meg, akkor megoldása 4 pontot ér, ha a szummát helyes tört alakra is hozza, akkor 5 pont jár.)* **(b)** Mi a valószínűsége, hogy úgy nyerek, hogy legfeljebb hármat dobok? *(Elég ha valószínűséget korrekt szumma alakjában adja meg.)*
2. **(a)** Határozza meg az alábbi két eloszlás konvolúcióját! *(Itt a számolási hiba is HIBA!)*

x	0	1	2	3
$p_1(x)$	0.1	0.2	0.3	0.4

y	0	1	2
$p_2(y)$	0.5	0.3	0.2

- (b)** Két valószínűségi változó esetén, milyen feltételek mellett és mire ad helyes választ a két változó eloszlásának konvolúciója?
3. Tekintünk egy egység sugarú kört, és annak egy érintőjét. Az érintőből származóan csinálunk: az origó az érintési pont, az egység pedig a kör sugara. A kör területén vett egyenletes eloszlást merőlegesen vetítjük az érintőjére. Az **(a)** Vezesse le az X -szel jelölt vetületpont eloszlásfüggvényének és sűrűségfüggvényének a képletét! *(A levezetéshez használt ábra legyen szép és jól érthető!)* **(b)** Két életből vett példát is tanultunk, ahol az (a) részben leírt probléma felbukkan. Válassza ezek közül az egyiket egy-két mondatban!
4. **(a)** Mondja ki a Moivre-Laplace tételt! *(Világosan fogalmazza meg, hogy a tétel alapján milyen feltételek mellett, mit, mivel közelíthetünk!)* **(b)** Szemléltesse a Moivre-Laplace tétel állítását egy gondosan készített ábrával és megfelelő magyarázattal! *(A fontos dolgok legyenek tisztán lerajzolva, érthetően bejelölve, megnevezve, beskálázva!)*
5. Éva csak szedi, szedi az almákat a fáról, és adogatja Ádámnak. Ádám először megméri az átmérőjüket, aztán a súlyukat. Feltételezzük, hogy az átmérő és a súly kétdimenziós normális eloszlást követ. Az átmérő várható értéke 10, szórása 1 cm. A súly várható értéke 20, szórása 2 dkg. A korrelációs együttható 0.8. **(a)** Hány almát kell leszedni ahhoz, hogy azoknak az átlagsúlya legalább 0.96 valószínűséggel 19.9 és 20.1 dkg között legyen? **(b)** Ha Ádám egy szép piros almán éppen 12 cm átmérőt mért, akkor vajon mekkora ennek az almának a súlya? Tippeljen úgy, ahogy akkor kell tippelni, amikor a hiba négyzetének a várható értékét minimalizáljuk!
6. RND_1 és RND_2 független, külön-külön 0 és 1 között egyenletes eloszlást követő véletlen számok. Legyen $X = RND_1$ és $Y = RND_1^2 \cdot RND_2$. Határozza meg **(a)** X és Y várható értékét, **(b)** az X és Y közötti kovarianciát!

4.6. Félév végi vizsga, 2017-01-16. Megoldások és válaszok

1. (a)

Az összegzési és szorzási szabályok alkalmazásával:

$$P(\text{én nyerek}) = 0.4 + (0.6 \cdot 0.4) \cdot 0.4 + (0.6 \cdot 0.4)^2 \cdot 0.4 + \dots = \sum_{k=0}^{\infty} (0.6 \cdot 0.4)^k \cdot 0.4 = \frac{10}{19}$$

(b)

A válasz az előző összeg első három tagjának az összege:

$$0.4 + (0.6 \cdot 0.4) \cdot 0.4 + (0.6 \cdot 0.4)^2 \cdot 0.4$$

2. (a)

A síkbeli eloszlás tagjai – a függetlenség miatt – szorzatként adódnak:

2	$\frac{2}{100}$	$\frac{4}{100}$	$\frac{6}{100}$	$\frac{8}{100}$
1	$\frac{3}{100}$	$\frac{6}{100}$	$\frac{9}{100}$	$\frac{12}{100}$
0	$\frac{5}{100}$	$\frac{10}{100}$	$\frac{15}{100}$	$\frac{20}{100}$
	0	1	2	3

A konvolúció tagjai összegzéssel adódnak:

z	0	1	2	3	4	5
$p(z)$	$\frac{5}{100}$	$\frac{3+10}{100} = \frac{13}{100}$	$\frac{2+6+15}{100} = \frac{23}{100}$	$\frac{4+9+20}{100} = \frac{33}{100}$	$\frac{6+12}{100} = \frac{18}{100}$	$\frac{8}{100}$

(b)

Független valószínűségi változók összegének az eloszlása egyenlő a tagok eloszlásainak konvolúciójával.

3. (a) és (b)

Az levezetést és két példát lásd a jegyzet 2. részének "Egyenletes körmozgásból származtatott eloszlások" című fejezetében.

4. (a) és (b)

Az állítást és az ábrát lásd a jegyzet 2. részének "Moivre-Laplace tétel" című fejezetében.

5. (a)

Egy leszedett almára vonatkozólag legyen X az alma súlya dkg-ban, Y pedig az alma átmérője cm-ben. A feladat szövege alapján (X, Y) együttes eloszlása kétdimenziós normális az adott paraméterekkel. Az (a) feladatrész csak egydimenziós probléma: azt kell csak felhasználni, hogy X normális eloszlást követ 20 várható értékkel és 2 szórással. n darab leszedett alma átlagát jelöljük \bar{X}_n -nel. Ennek eloszlása normális 20 várható értékkel és $2/\sqrt{n}$ szórással. Így

$$P(19.9 < \bar{X}_n < 20.1) = 2 \cdot \Phi\left(\frac{0.1}{2/\sqrt{n}}\right) - 1.$$

Ez a valószínűség akkor legalább 0.96, ha $\Phi\left(\frac{0.1 \cdot \sqrt{n}}{2}\right) \geq 0.98$, vagyis $\frac{0.1 \cdot \sqrt{n}}{2} \geq 2$. Így 1600 vagy több leszedett alma esetén teljesül a kívánt feltétel.

(b)

Mint tanultuk:

- a legjobb tipp az $E(X|Y = 12)$ feltételes várható érték
- az $Y = y$ feltétel mellett X eloszlása normális
- melynek a várható értéke $m_1 + r \frac{\sigma_1}{\sigma_2}(y - m_2)$

Így

$$E(X|Y = 12) = 23.2$$

6. **(a)**

A megoldás több helyen felhasználja a valószínűségi változó függvényének várható értékéről szóló képletet (lásd: 2. rész 1. fejezet).

$$E(X) = \int_0^1 x \cdot 1 \, dx = \frac{1}{2}$$

$$E(Y) = E(\text{RND}_1^2 \cdot \text{RND}_2) = E(\text{RND}_1^2) \cdot E(\text{RND}_2) = \left(\int_0^1 x^2 \cdot 1 \, dx \right) \cdot \frac{1}{2} = \frac{1}{6}$$

(b)

$$E(XY) = E(\text{RND}_1^3 \cdot \text{RND}_2) = E(\text{RND}_1^3) \cdot E(\text{RND}_2) = \left(\int_0^1 x^3 \cdot 1 \, dx \right) \cdot \frac{1}{2} = \frac{1}{8}$$

$$\text{COV}(X, Y) = E(XY) - E(X)E(Y) = \frac{1}{24}$$

4.7. Félév végi vizsga, 2017-01-23

- (a) Mikor mondjuk azt, hogy az A és B események függetlenek egymástól? (Mondja ki a definíciót!) (b) Mikor mondjuk azt, hogy az A, B, C események függetlenek egymástól, vagy – más kifejezéssel élve – A, B, C események független rendszert alkotnak? (Mondja ki a definíciót!) (c) Igaz-e, hogy ha három esemény közül bármelyik kettő független egymástól, akkor a három esemény független rendszert alkot? (Ha igen, bizonyítsa be! Ha nem, adjon ellenpéldát, és a szükséges tényeket igazolja!)
- X és Y függetlenek, és eloszlásaik:

x	0	10	20	30
$p(x)$	0.1	0.2	0.3	0.4

illetve

y	10	20	30	40
$p(y)$	0.1	0.2	0.3	0.4

- (a) Mennyi a valószínűsége annak, hogy $Y > X$? (b) Mennyi X , Y és $X + Y$ szórása? (Mindkét részben a számolási hiba is HIBA! Segítség: ha jól számol, mindkét részben "szép" eredmény jön ki.)
- Két geizírt (egy kisebbet és egy nagyobbat) rendszeresen megfigyelünk Izlandon. A percekben mért várakozási idők a kitörésükig, amiket X és Y jelöl, függetlenek, és mindketten 0.1 paraméterű exponenciális eloszlást követnek. (a) Határozza meg az $X < 2 \cdot Y$ esemény valószínűségét! (b) Határozza meg $Z = 2 \cdot Y - X$ valószínűségi változó eloszlásfüggvényének a képletét! (Ha a választokat korrekt integrálokkal megadja, de nem számolja ki, akkor csak 1-1 pontot veszít. Egy-egy jó ábra sokat segíthet!)
- Felmegy a legény fára, a meggyfa tetjére. Lerázza a meggyet, aztán ... a babája (válogatás nélkül) száz szemet szed a fedeles kosarába. A meggyeszemek súlya – egymástól függetlenül – egyenletes eloszlást követ 2 dkg és 4 dkg között. (a) Mi a valószínűsége, hogy a kosár nettó súlya meghaladja a 3.05 kg -ot? (Használja a normális eloszlás lentebbi táblázatát!) (b) Bár a meggyeszemek súlya egyenletes eloszlást követ, az (a) részben mégis normális eloszlással lehetett számolni. Miért? (Korrekt, tiszta választ kérünk.)
- Legyen $X = \text{RND}_1 \cdot \text{RND}_2$ és $Y = \text{RND}_1$. Határozza meg (a) X és Y várható értékét, és (b) az X és közötti Y kovarianciát!
- Amikor az (x, y) -síkon tekintett $f(x, y)$ sűrűségfüggvényű eloszlást az (u, v) -síkra transzformáljuk az

$$u = \mathbf{u}(x, y), \quad v = \mathbf{v}(x, y)$$

képlet-pár által definiált t transzformációval (a szükséges folytonossági, differenciálhatósági és invertálhatósági feltételek mellett), akkor fontos szerepe van egy bizonyos Jacobi mátrixnak. (a) Írja fel ezt a bizonyos Jacobi mátrixot a megfelelő parciális deriváltakkal! (b) Írja fel azt a képletet, ahogy az (u, v) -síkon kapott eloszlás $s(u, v)$ sűrűségfüggvényét az $f(x, y)$ sűrűségfüggvényből és a megfelelő Jacobi determinánsból elő lehet állítani! (Korrekt, jól érthető képleteket kérünk! A t transzformáció inverzét a szokásoknak megfelelően jelölje t^{-1} , a t^{-1} -nek megfelelő képlet-pár tagjait pedig $x = \mathbf{x}(u, v)$, $y = \mathbf{y}(u, v)$.)

Standard normális eloszlásfüggvény
(két tizedes pontossággal)

x	$\Phi(x)$	x	$\Phi(x)$	x	$\Phi(x)$	x	$\Phi(x)$	x	$\Phi(x)$	x	$\Phi(x)$
0,0	0,50	0,5	0,69	1,0	0,84	1,5	0,93	2,0	0,98	2,5	0,99
0,1	0,54	0,6	0,73	1,1	0,86	1,6	0,95	2,1	0,98	2,6	1,00
0,2	0,58	0,7	0,76	1,2	0,88	1,7	0,96	2,2	0,99		
0,3	0,62	0,8	0,79	1,3	0,90	1,8	0,96	2,3	0,99		
0,4	0,66	0,9	0,82	1,4	0,92	1,9	0,97	2,4	0,99		

4.8. Félév végi vizsga, 2017-01-23. Megoldások és válaszok

1. (a)

Lásd jegyzet 1. rész, 6.1 "Események függetlensége" című alfejezet.

(b)

Lásd jegyzet 1. rész, 6.1 "Események függetlensége" című alfejezet.

(c)

Nem igaz. Az ellenpéldát lásd jegyzet 1. rész, 6.5. "Gyakorló feladatok", 3. feladat: "Példa páronként független, de összességében nem független eseményekre":

- $A = 10$ forintos érme fejet ad
- $B = 20$ forintos érme fejet ad
- $C =$ mindkét érmevel írást dobok vagy mindkét érmevel fejet dobok

A és B nyilván függetlenek egymástól, és

- A és C függetlenek, hiszen $P(A \cap C) = \frac{1}{4} = \frac{1}{2} \cdot \frac{1}{2} = P(A) \cdot P(C)$,
- B és C függetlenek, hiszen $P(B \cap C) = \frac{1}{4} = \frac{1}{2} \cdot \frac{1}{2} = P(B) \cdot P(C)$,
- de A és B és C nem függetlenek, hiszen $P(A \cap B \cap C) = \frac{1}{4} \neq \frac{1}{2} \cdot \frac{1}{2} \cdot \frac{1}{2} = P(A) \cdot P(B) \cdot P(C)$

2. (a)

$$\begin{aligned} P(X < Y) &= \sum_{y \in \{10, 20, 30, 40\}} P(X < y \wedge Y = y) \\ &= \sum_{y \in \{10, 20, 30, 40\}} P(X < y) \cdot P(Y = y) \\ &= (0.1) \cdot 0.1 + (0.1 + 0.2) \cdot 0.2 + (0.1 + 0.2 + 0.3) \cdot 0.3 + (0.1 + 0.2 + 0.3 + 0.4) \cdot 0.4 = 0.65 \end{aligned}$$

(b)

$$\begin{aligned} E(X) &= 0 \cdot 0.1 + 10 \cdot 0.2 + 20 \cdot 0.3 + 30 \cdot 0.4 = 20 \\ E(X^2) &= 0^2 \cdot 0.1 + 10^2 \cdot 0.2 + 20^2 \cdot 0.3 + 30^2 \cdot 0.4 = 500 \\ SD(X) &= \sqrt{E(X^2) - (E(X))^2} = \sqrt{500 - 20^2} = 10 \\ SD(Y) &= SD(X + 10) = SD(X) = 10 \\ SD(X + Y) &= \sqrt{SD^2(X) + SD^2(Y)} = \sqrt{10^2 + 10^2} = \sqrt{200} \approx 14.1 \end{aligned}$$

3. (a)

Mivel az (a) és (b) rész megoldásában csak az alábbi integrálra van szükség, előre bocsátjuk, hogy

$$\int_{y=s}^{\infty} \lambda \cdot e^{-\lambda \cdot y} dy = \left[-e^{-\lambda \cdot y} \right]_{y=s}^{\infty} = e^{-\lambda \cdot s}$$

(X, Y) sűrűségfüggvénye a függetlenség miatt szorzatként adódik:

$$f(x, y) = \begin{cases} 0.1 \cdot e^{-0.1 \cdot x} \cdot 0.1 \cdot e^{-0.1 \cdot y} & \text{ha } 0 \leq x \text{ és } 0 \leq y \\ 0 & \text{egyébként} \end{cases}$$

$$P(X < 2 \cdot Y) = \int_{x=0}^{\infty} \int_{y=\frac{x}{2}}^{\infty} f(x, y) dy dx = \frac{2}{3}$$

(b)

$$R(z) = P(Z < z) = P(2 \cdot Y - X < z) = P\left(Y < \frac{z + X}{2}\right)$$

$$\text{ha } 0 \leq z, \text{ akkor} = \int_{x=0}^{\infty} \int_{y=0}^{\frac{z+x}{2}} f(x, y) dy dx = 1 - \frac{2}{3} \cdot e^{-\frac{z}{20}}$$

$$\text{ha } z < 0, \text{ akkor} = \int_{x=-z}^{\infty} \int_{y=0}^{\frac{z+x}{2}} f(x, y) dy dx = \frac{1}{3} \cdot e^{-\frac{z}{10}}$$

4. (a)

X_i jelölje az i -edik megye súlyát dkg-ban. A feltevés szerint X_i eloszlása a $[2, 4]$ intervallumon egyenletes, ezért $E(X_i) = \mu = \frac{2+4}{2} = 3$ és $SD(X_i) = \sigma = \frac{4-2}{\sqrt{12}} = \frac{1}{\sqrt{3}}$. A centrális határeloszlás tétel miatt:

$$P(X_1 + \dots + X_{100} > 305) = P\left(\frac{X_1 + \dots + X_{100} - 100\mu}{\sqrt{100}\sigma} > \frac{305 - 300}{\sqrt{100}/\sqrt{3}}\right)$$

$$= 1 - \Phi(\sqrt{3}/2) \approx 1 - \Phi(0.87) \approx 1 - 0.81 = 0.19$$

(b)

A Centrális határeloszlás tételt használtuk: sok (100 db) független, kis szórású ($\frac{1}{\sqrt{100}}$) valószínűségi változó összege közelítőleg normális eloszlású.

5. (a) és (b)

Lásd jegyzet 3. rész, 19.2 "Számolós példa".

6. (a) és (b)

Lásd jegyzet 3. rész, 4. fejezet, "Transzformáció síkról síkra".

4.9. Félév végi vizsga, 2017-05-22

- Adja meg valószínűségek összegzési szabályának a képletét $A \cup B$ -re,
 - ha A és B független események.
 - ha A és B kizáró események.
 - ha A és B tetszőleges események.
 Adja meg valószínűségek szorzási szabályának a képletét $A \cap B \cap C$ -re,
 - ha A , B és C független események.
 - ha A , B és C kizáró események.
 - ha A , B és C tetszőleges események.
- Egy kisvárosban, amikor a mentőt hívnak, a tapasztalat szerint átlagosan 5 próbálkozás kell ahhoz, hogy felvegyék a telefont.
 - Milyen eloszlást követ az első sikeres hívásig szükséges hívások száma? (Adja meg az eloszlás nevét és paramétereinek/paramétereinek numerikus értékét!)
 - Mi a valószínűsége annak, hogy 5-nél több hívás kell ahhoz, hogy végre felvegyék a telefont?
 - Mi a valószínűsége annak, hogy a szükséges hívások száma páros?
- Amikor a tűzoltók kijönnek, a tapasztalat szerint akármennyi idő is telt el azóta, hogy hívták őket, nem változik az esély arra vonatkozóan, hogy mennyit kell még várni rájuk. A tapasztalat szerint átlagosan 7.5 percet.
 - Milyen eloszlást követ a tűzoltók érkezéséig eltelt idő? (Adja meg az eloszlás nevét és paramétereinek/paramétereinek numerikus értékét!)
 Fogalmazza meg azt a tulajdonságot, ami az eloszlás használatát indokolja! Vezesse le ebből a tulajdonságból az eloszlás eloszlásfüggvényének a képletét!
 - Mi a valószínűsége annak, hogy 3 percen belül felveszik a telefont?
 - Készítsen egy-egy gondos ábrát az eloszlásfüggvény és a sűrűségfüggvény grafikonjáról, és mindkét ábrán jelölje be, hogy a b) kérdésben kért valószínűség hol látható! (Az ábrán legyen skála, és írja a megfelelő helyre a megfelelő numerikus értékeket!)
- Egy véletlenszerűen választott házaspár esetén a férj testsúlya legyen X kg, a feleségé Y kg. (X, Y) -t normális eloszlással modellezzük. Tegyük fel, hogy X várható értéke 85, szórása 15, Y várható értéke 75, szórása 10, a korrelációs együttható pedig 0.6.
 - Képzelve el, hogy 1000 házaspárral kapcsolatban megmérjük mindkettőjük testsúlyát, és a kapott $(X_1, Y_1), (X_2, Y_2), \dots, (X_{1000}, Y_{1000})$ pontokat a felvesszük a síkon. Rajzoljon egy ilyen jellegű pontfelhőt! (A koordináta tengelyeken jelölje be a várható értékeket, és a szórásokat, és a pontfelhőt ezeknek megfelelően helyezze el! A pontfelhő elkészítésénél figyeljen arra is, hogy mekkora a korrelációs együttható!)
 - Mennyi a valószínűsége annak, hogy egy férj súlya több, mint 100 kg?
 - Mennyi a valószínűsége annak, hogy egy 80 kg-os feleség férjének a súlya több, mint 100 kg?

Standard normális eloszlásfüggvény (két tizedes pontossággal)

x	$\Phi(x)$	x	$\Phi(x)$	x	$\Phi(x)$	x	$\Phi(x)$	x	$\Phi(x)$	x	$\Phi(x)$
0,0	0,50	0,5	0,69	1,0	0,84	1,5	0,93	2,0	0,98	2,5	0,99
0,1	0,54	0,6	0,73	1,1	0,86	1,6	0,95	2,1	0,98	2,6	1,00
0,2	0,58	0,7	0,76	1,2	0,88	1,7	0,96	2,2	0,99		
0,3	0,62	0,8	0,79	1,3	0,90	1,8	0,96	2,3	0,99		
0,4	0,66	0,9	0,82	1,4	0,92	1,9	0,97	2,4	0,99		

4.10. Félév végi vizsga, 2017-05-22. Megoldások és válaszok

1. (a)

$$P(A \cup B) = P(A) + P(B) - P(A) \cdot P(B)$$

(b)

$$P(A \cup B) = P(A) + P(B)$$

(c)

$$P(A \cup B) = P(A) + P(B) - P(A \cap B)$$

(d)

$$P(A \cap B \cap C) = P(A) P(B) P(C)$$

(e)

$$P(A \cap B \cap C) = 0$$

(f)

$$P(A \cap B \cap C) = P(A) P(B|A) P(C|A \cap B)$$

2. a)

Optimista geometriai eloszlás $p = \frac{1}{5}$ paraméterrel.

b)

$$P(5\text{-nél több hívás}) = 1 - P(4 \text{ vagy kevesebb hívás}) = 1 - \sum_{k=1}^4 \left(\frac{4}{5}\right)^{k-1} \cdot \frac{1}{5}$$

(c)

$$\begin{aligned} &P(\text{a hívások száma } 2 \text{ vagy } 4 \text{ vagy } 6 \text{ vagy } \dots) = \\ &= P(\text{a hívások száma } 2) + P(\text{a hívások száma } 4) + P(\text{a hívások száma } 6) + \dots = \\ &= \left(\frac{4}{5}\right)^{2-1} \cdot \frac{1}{5} + \left(\frac{4}{5}\right)^{4-1} \cdot \frac{1}{5} + \left(\frac{4}{5}\right)^{6-1} \cdot \frac{1}{5} + \dots = \end{aligned}$$

A végtelen sort szumma jellel is felírhatjuk:

$$= \sum_{i=1}^{\infty} \left(\frac{4}{5}\right)^{2i-1} \cdot \frac{1}{5} =$$

A kapott mértani sor első tagja $\frac{4}{5} \cdot \frac{1}{5}$, kvóciense $\left(\frac{4}{5}\right)^2$. A sor összege – miomt ismeretes – *első tag osztva egy mínusz a kvóciens*:

$$= \frac{\frac{4}{5} \cdot \frac{1}{5}}{1 - \left(\frac{4}{5}\right)^2} = \frac{4}{9} = 0.44$$

3. a)

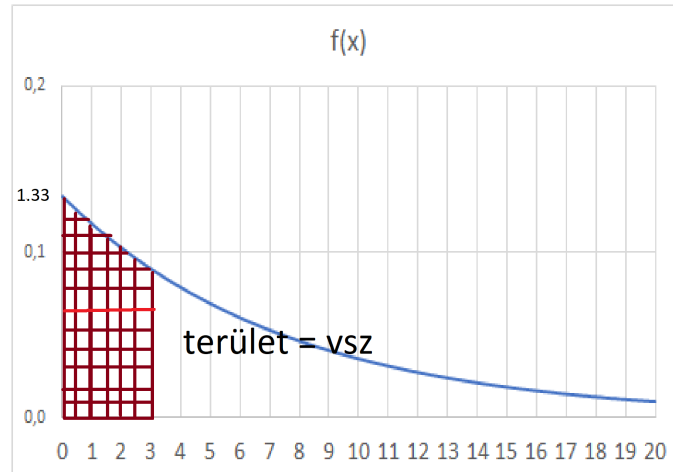
A megfogalmazott "örökifjú tulajdonság" miatt a várakozási időt exponenciális eloszlással modellezhetjük. A paraméter az elméleti átlag reciproka: $\lambda = \frac{1}{7.5} = 0.133$. Az exponenciális eloszlás levezetése az "örökifjú tulajdonság"-ból a jegyzetben olvasható.

b)

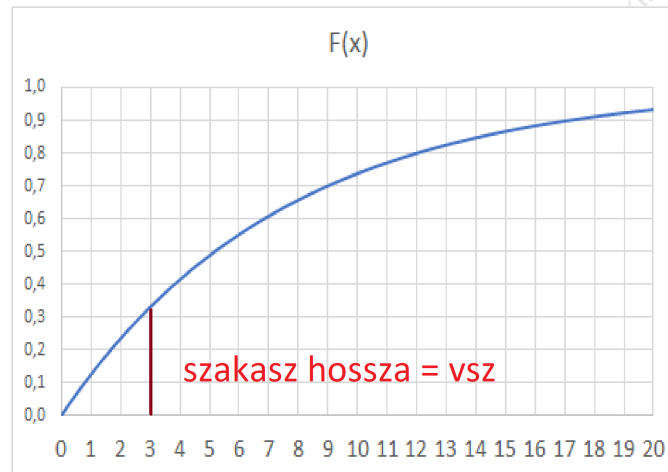
$$P(\text{a várakozási idő } 3 \text{ percnél kevesebb}) = F(3) = 1 - e^{-0.133 \cdot 3} \quad (= 0.33)$$

(c)

A sűrűségfüggvény grafikonja a kért valószínűséggel:

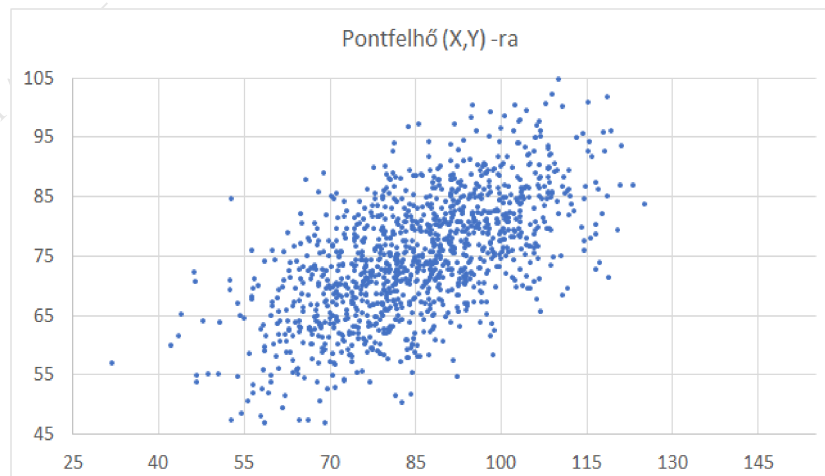


Az eloszlásfüggvény grafikonja a kért valószínűséggel:



4. (a)

Az ábrának ehhez hasonlóan kell lenni:



(b)

$$P(X > 100) = 1 - F(100) = 1 - \Phi\left(\frac{100 - 85}{15}\right) = 1 - \Phi(1) = 1 - 0.86 = 0.14$$

(c)

Kétdimenziós normális eloszlás esetén X feltételes várható értékének általános képlete:

$$E(X | Y = y) = \mu_1 + r \cdot \frac{\sigma_1}{\sigma_2} \cdot (y - \mu_2)$$

A mostani konkrét adatokkal:

$$E(X | Y = 80) = 85 + 0.6 \cdot \frac{15}{10} \cdot (80 - 75) = 89.5$$

Kétdimenziós normális eloszlás esetén X feltételes szórásának általános képlete:

$$SD(X | Y = y) = \sigma_1 \cdot \sqrt{1 - r^2}$$

A mostani konkrét adatokkal:

$$SD(X | Y = 80) = 15 \cdot \sqrt{1 - 0.6^2} = 12$$

X feltételes eloszlása az $Y = 80$ feltétel mellett egydimenziós normális eloszlás a kiszámolt paraméterekkel, így a kért feltételes valószínűség:

$$P(X > 100 | Y = 80) = 1 - \Phi\left(\frac{100 - 89.5}{12}\right) = 1 - \Phi(0.79) = 1 - 0.79 = 0.21$$

4.11. Félév végi vizsga, 2017-06-06

1. (a) Az

1	2	3	4	...
$\frac{2}{3}$	$\frac{2}{9}$	$\frac{2}{27}$	$\frac{2}{81}$...

táblázattal megadott diszkrét eloszlás a nevezetes eloszlások egyike. Adja meg az eloszlás nevét és a paramétereinek a numerikus értékét!

(b) Számolja ki a baloldali eloszlásfüggvény értékét az $x = 3$ helyen?

(c) Számolja ki a jobboldali eloszlásfüggvény értékét az $x = 3$ helyen?

(Figyelem! A (b) és (c) kérdésekre adott válaszokban a számolási hiba is HIBA!)

(d) Adja meg és igazolja azt az általános összefüggést, mely a baloldali eloszlásfüggvény, a jobboldali eloszlásfüggvény és a súlyfüggvény értékei között minden x -re fennáll!

2. Néhány tény:

- Tanszékünkre naponta munkaidőben (8 óra) alatt átlagosan kb. 50 telefonhívás érkezik.
- A telefonálók kb. $\frac{1}{3}$ -a férfi, $\frac{2}{3}$ -a nő.
- A nők és férfiak között egyaránt átlagosan kb. minden 10 -ik hívás téves.

a) Mi a valószínűsége annak, hogy a következő 20 hívásból pontosan 2 téves?

b) Mi a valószínűsége annak, hogy a következő 20 hívásból pontosan 2 téves, és az első téves hívó nő, a második férfi?

c) Milyen eloszlást követ az **összes hívások** száma egy óra alatt? (Rövid indoklással fűszerezve adja meg az eloszlás nevét és paramétereinek/paramétereinek numerikus értékét!)

d) Mennyi a valószínűsége annak, hogy két óra alatt pontosan 2 téves hívás érkezik?

3. 45 diák mindegyike a többitől függetlenül 9:40 és 10:10 között egyenletes eloszlás szerint érkeznek a 10:00 -kor kezdődő vizsgára. Mennyi a valószínűsége annak, hogy a diákok többsége (azaz legalább 23 diák) időben (tehát 10:00 előtt) beér?

(a) Írja fel a kért valószínűséget szumma formájában!

(b) Számolja ki a kért valószínűség közelítő értékét normális eloszlással!

(c) Határozza meg annak az X valószínűségi változónak az eloszlásfüggvényét, ami megmondja, hogy mikor érkeznek meg az utolsó diákok?

4. (X, Y) sűrűségfüggvénye $f(x, y) = 3x$ ($0 < 2x < y < 2$).

(a) Szemléltesse egy-egy gondosan készített ábrán

- a sűrűségfüggvény értelmezési tartományát az (x, y) síkon,
- és a $z = f(x, y)$ felületet az értelmezési tartomány felett az (x, y, z) térben!

(b) Rajzoljon egy olyan pontfelhőt az (x, y) síkon, amelyet akkor kapnánk, ha (X, Y) -ra sok kísérletet végeznénk! (Ügyeljen arra, hogy a pontfelhő sűrűsége a megadott sűrűségfüggvénynek megfelelő legyen!)

(c) Határozza meg Y sűrűségfüggvényét!

(d) Ha sok kísérletet végeznénk kb. mennyi lenne az X értékek átlaga? (Egy konkrét számot kell – megfelelő számolás eredményeként – megadnia.)

(e) Hogyan tippeljünk Y -ból X -re, ha a célunk az, hogy a hiba négyzetének a várható értéke minimális legyen? (Adja meg az optimális tippet megvalósító függvény képletét!)

Standard normális eloszlásfüggvény (két tizedes pontossággal)

x	$\Phi(x)$	x	$\Phi(x)$	x	$\Phi(x)$	x	$\Phi(x)$	x	$\Phi(x)$	x	$\Phi(x)$
0,0	0,50	0,5	0,69	1,0	0,84	1,5	0,93	2,0	0,98	2,5	0,99
0,1	0,54	0,6	0,73	1,1	0,86	1,6	0,95	2,1	0,98	2,6	1,00
0,2	0,58	0,7	0,76	1,2	0,88	1,7	0,96	2,2	0,99		
0,3	0,62	0,8	0,79	1,3	0,90	1,8	0,96	2,3	0,99		
0,4	0,66	0,9	0,82	1,4	0,92	1,9	0,97	2,4	0,99		

Vetier András – Valószínűségszámítás – 4. rész. Zárthelyi és vizsga feladatok gyűjteménye

4.12. Félév végi vizsga, 2017-06-06. Megoldások és válaszok

1. (a) Optimista geometriai eloszlás $\frac{2}{3}$ paraméterrel

(b)

$$F(3) = P(X \leq 3) = P(X = 1) + P(X = 2) + P(X = 3) = \frac{2}{3} + \frac{2}{9} + \frac{2}{27} = \frac{26}{27}$$

(c)

$$T(3) = P(X \geq 3) = 1 - P(X = 1) - P(X = 2) = 1 - \frac{2}{3} - \frac{2}{9} = \frac{1}{9}$$

(d)

$$F(x) + T(x) = 1 + p(x)$$

2. (a)

$$P(\text{egy hívás téves}) = \frac{1}{10}$$

$$P(20 \text{ hívásból pontosan } 2 \text{ téves}) = \binom{20}{2} \left(\frac{1}{10}\right)^2 \left(\frac{9}{10}\right)^{18}$$

(b)

$P(20 \text{ hívásból pontosan } 2 \text{ téves, és az első téves hívó nő, a második pedig férfi}) =$

$$= \binom{20}{2} \left(\frac{1}{10}\right)^2 \left(\frac{9}{10}\right)^{18} \cdot \frac{2}{3} \cdot \frac{1}{3}$$

(c) Mivel sok ember mindegyikére igaz, hogy kis valószínűséggel telefonál a vizsgált egy órás időtartam alatt, továbbá az emberek egymástól függetlenül telefonálnak, a hívások száma egy óra alatt Poisson eloszlást követ.

(d) Mivel 8 óra alatt a telefonálók számának a várható értéke 50, ezért 8 óra alatt a téves hívások számának a várható értéke 5, így 2 óra alatt a téves hívások számának a várható értéke $\frac{5}{4}$. Poisson eloszlás esetén a paraméter értéke egyenlő a várható értékkel, vagyis $\lambda = \frac{5}{4}$. Ezért a kért valószínűség

$$P(2 \text{ óra alatt pontosan } 2 \text{ téves hívás}) = \frac{\left(\frac{5}{4}\right)^2}{2!} e^{-\frac{5}{4}}$$

3. (a) Az időben érkező hallgatók X száma binomiális eloszlást követ $n = 45$ és $p = \frac{2}{3}$ paraméterekkel, ezért

$$P(X \geq 23) = \sum_{k=23}^{45} \binom{45}{k} \left(\frac{2}{3}\right)^k \left(\frac{1}{3}\right)^{45-k}$$

(b) A Moivre-Laplace tétel értelmében X közelítőleg normális eloszlású $\mu = 45 \cdot \frac{2}{3} = 30$ és $\sqrt{45 \cdot \frac{2}{3} \cdot \frac{1}{3}} = 3.16$ paraméterekkel. Így

$$P(X \geq 23) = 1 - \Phi\left(\frac{22.5 - 30}{3.16}\right) = 1 - \Phi\left(\frac{-7.5}{3.16}\right) = \Phi\left(\frac{7.5}{3.16}\right) = 0.99$$

(c) Legyen Z_k az a valószínűségi változó, ami megmondja, hogy a (kor szerint) k -ik hallgató 10:40 után hány perccel érkezik. A feladat szerint Z_1, Z_2, \dots, Z_{45} független valószínűségi változók, melyek egyenletes eloszlásúak a $[0, 30]$ intervallumon. Nekünk a $Z = \max(Z_1, Z_2, \dots, Z_{45})$ valószínűségi változó eloszlás-függvényét kell meghatározni. Ezért meg kell határoznunk a

$$Z \leq z$$

esemény valószínűségét. Nyilvánvaló, hogy 45 szám maximuma akkor és csak akkor kisebb vagy egyenlő, mint z , ha mind a 45 szám kisebb vagy egyenlő, mint z . Így a bennünket érdeklő $Z \leq z$ esemény ugyanaz, mint a

$$Z_1 \leq z, Z_2 \leq z, \dots, Z_{45} \leq z \leq z$$

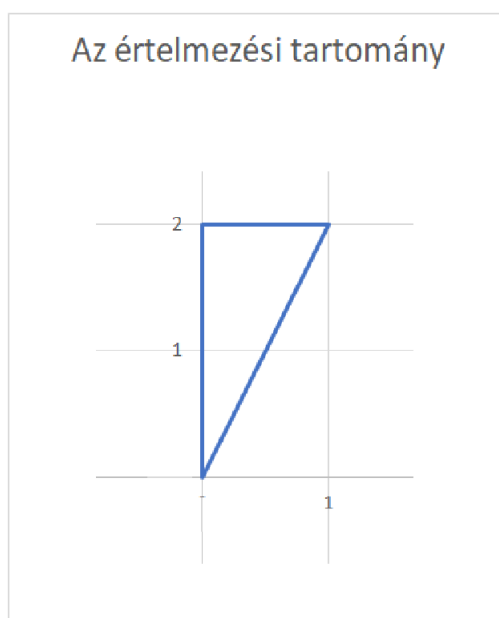
esemény. Ezért ezt írhatjuk:

$$R(z) = P(Z \leq z) = P(Z_1 \leq z, Z_2 \leq z, \dots, Z_{45} \leq z \leq z) =$$

A függetlenség miatt pedig ezt kapjuk:

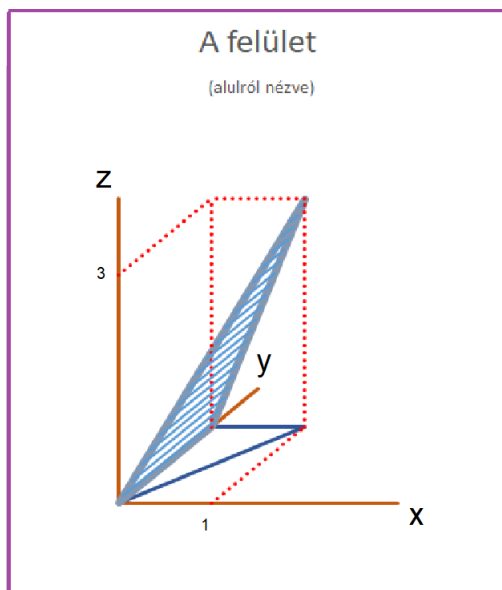
$$= P(Z_1 \leq z) \cdot P(Z_2 \leq z) \cdot \dots \cdot P(Z_{45} \leq z) = \left(\frac{z}{30}\right)^{45} \quad (0 \leq z \leq 30)$$

4. (a) Íme az értelmezési tartomány:



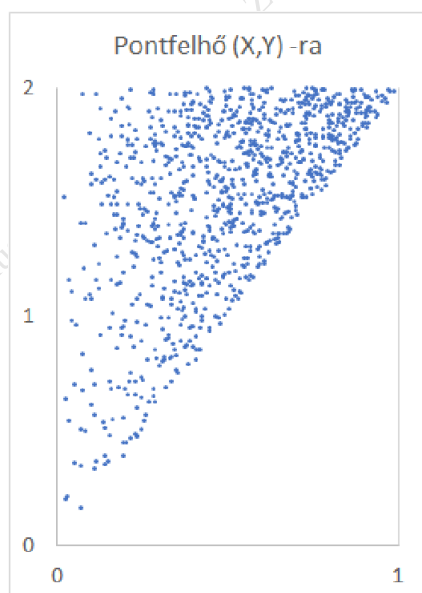
2. ábra. Az értelmezési tartomány

Íme a felület



3. ábra. A felület

(b) A sűrűségfüggvény nem függ y -től, x -től pedig lineárisan függ. Ezért a pontfelhő sűrűsége x irányban lineárisan növekszik, y irányban pedig állandó. (Bár a feladatban nem kértük a pontfelhő pontos szimulációját, a feladat megoldásának végén egy megjegyzésben mégis megadjuk a korrekt szimulációs képleteket.)



4. ábra. Pontfelhő (X, Y) -ra

(c) Y sűrűségfüggvénye:

$$f_2(y) = \int_{-\infty}^{\infty} f(x, y) dx = \int_0^{y/2} 3x dx = \left[\frac{3x^2}{2} \right]_0^{y/2} = \frac{3y^2}{8} \quad (0 < y < 2)$$

(d) Sok kísérlet esetén – a nagy számok törvénye szerint – az X értékek átlaga közelítőleg az X várható értékével

egyenlő. A várható érték meghatározásához szükségünk van X sűrűségfüggvényére:

$$f_1(x) = \int_{-\infty}^{\infty} f(x, y) dx = \int_{2x}^2 3x dx = 6x - 6x^2 \quad (0 < x < 1)$$

Ezek után a várható érték:

$$E(X) = \int_{-\infty}^{\infty} x \cdot f_1(x|y) dx = \int_0^1 x \cdot (6x - 6x^2) dx = \int_0^1 (6x^2 - 6x^3) dx = \dots = \frac{1}{2}$$

(e) Ha a hiba négyzetének a várható értékét akarjuk minimalizálni, akkor a feltételes várható érték adja az optimális tippelési eljárást. A feltételes várható érték meghatározásához szükség van a feltételes sűrűségfüggvényre:

$$f_{1|2}(x|y) = \frac{f(x, y)}{f_2(y)} = \frac{3x}{\frac{3y^2}{8}} = \frac{8x}{y^2}$$

A feltételes várható érték:

$$\begin{aligned} E(X | Y = y) &= \int_{-\infty}^{\infty} x \cdot f_{1|2}(x|y) dx = \\ &= \int_0^{y/2} x \cdot \frac{8x}{y^2} dx = \int_0^{y/2} \frac{8x^2}{y^2} dx = \frac{8}{y^2} \left[\frac{x^3}{3} \right]_0^{y/2} = \frac{y}{3} \quad (0 < y < 2) \end{aligned}$$

Megjegyzés: A korrekt szimulációs képletek meghatározása. A fenti ábrán látható pontfelhőt Excellel generáltuk. Y generálása céljából meghatároztuk Y eloszlásfüggvényét, és annak inverzét, hogy az inverzbe egy random számot helyettesítve előállítsuk Y -t:

$$\begin{aligned} F_2(y) &= \int_0^y \frac{3y^2}{8} dy = \frac{y^3}{8} \\ v &= \frac{y^3}{8} \\ y &= 2 \cdot v^{\frac{1}{3}} \\ Y &= 2 \cdot (\text{RND}_1)^{\frac{1}{3}} \end{aligned}$$

X generálása céljából meghatároztuk X feltételes eloszlásfüggvényét, és annak inverzét, hogy az inverzbe egy másik random számot helyettesítve előállítsuk X -t:

$$\begin{aligned} F_{1|2}(x|y) &= \int_0^x \frac{8x}{y^2} dy = \frac{4x^2}{y^2} \\ u &= \frac{4x^2}{y^2} \\ x &= y \cdot u^{\frac{1}{2}} \\ X &= Y \cdot (\text{RND}_2)^{\frac{1}{2}} \end{aligned}$$

4.13. Félév végi vizsga, 2017-06-12

1. (a1) X és Y független, egész értékű valószínűségi változók $p_1(x)$, illetve $p_2(y)$ súlyfüggvényekkel. Írja fel azt az általános képletet, ami a $Z = X + Y$ valószínűségi változó $r(z)$ súlyfüggvényének képletét megadja $p_1(x)$ és $p_2(y)$ segítségével!

(a2) X és Y független valószínűségi változók, melyek pesszimista geometriai eloszlást követnek $\frac{1}{3}$, illetve $\frac{1}{4}$ paraméterekkel. Mennyi a valószínűsége annak, hogy $X + Y = 3$?

(b1) X és Y egész értékű valószínűségi változók. (X, Y) súlyfüggvénye $p(x, y)$. Írja fel azt az általános képletet, ami a $Z = X + Y$ valószínűségi változó $V(z)$ súlyfüggvényének képletét megadja $p(x, y)$ segítségével!

(b2) X és Y egész értékű valószínűségi változók. Az (X, Y) kétdimenziós valószínűségi változó súlyfüggvénye

$$p(x, y) = \frac{2x + y}{30} \quad (x \text{ és } y \text{ egész számok, } x \geq 0, y \geq 0, x + y \leq 3)$$

Adja meg ez eloszlást táblázattal! Mennyi a valószínűsége annak, hogy $X + Y = 3$?

(c) Mondja ki azt az állítást, amit sok független valószínűségi változó összegével kapcsolatban tanultunk! (Milyen eloszlást követ sok független valószínűségi változó összege?)

2. Egy citromfarmon a tetvek száma egy-egy levélen Poisson eloszlást követ 7.5 átlaggal.

(a) A leveleknek kb. hány százalékán van pontosan 2 tetű?

(b) Egy hirtelen időjárás változás során az olyan levelek, melyeken 5 vagy több tetű van, lehullanak. Mennyi a valószínűsége annak, hogy az időjárás változás után egy a fán fennmaradó levélen nincs tetű?

(c) A megmaradó leveleken kb. mennyi a tetvek átlagos száma? (Írja fel a várható értéket szumma formájában!)

3. Négy cimborá mindegyike a többitől függetlenül 12 : 00 és 13 : 00 között egyenletes eloszlás szerint érkezik a menzára.

(a) Mennyi a valószínűsége annak, hogy legalább három cimborá háromnegyed egy előtt érkezik?

(b) A harmadiknak érkező cimborá érkezési időpontja (délről számítva, órában mérve) folytonos valószínűségi változó, melynek lehetséges értékei 0 és 1 közé esnek. Határozza meg az eloszlásfüggvényének a képletét!

(c) A harmadiknak érkező cimborá érkezési időpontja egy tanult nevezetes eloszlást követ. Mi a neve az eloszlásnak?

(d) A (b) részre kapott eredmény felhasználásával számolással vagy a tanultak alapján emlékezetből írja le eme eloszlás sűrűségfüggvényének a képletét!

4. Tegyük fel, hogy

- a királylány X év múlva megy férjhez, (ahol X exponenciális eloszlású 2 év várható értékkel),
- és az esküvő után Y évvel gyönyörű gyermeke születik. (Az $X = x$ feltétel mellett Y egyenletes eloszlású 0.75 és $0.75 + \frac{1}{x}$ között).

(a) Egy ábrán adja meg az (X, Y) kétdimenziós valószínűségi változó lehetséges értékeinek a halmazát!

(b) Adja meg az (X, Y) kétdimenziós valószínűségi változó sűrűségfüggvényének a képletét!

(c) Adja meg az Y valószínűségi változó sűrűségfüggvényének a képletét egy korrektül felírt integrál alakjában!

4.14. Félév végi vizsga, 2017-06-12. Megoldások és válaszok

1. (a1)

$$r(z) = \sum_{(x,y): x+y=z} p_1(x) \cdot p_2(y)$$

vagy

$$r(z) = \sum_x p_1(x) \cdot p_2(z-x)$$

vagy

$$r(z) = \sum_y p_1(z-y) \cdot p_2(y)$$

(a2)

$$\begin{aligned} P(X+Y=3) &= p_1(0) \cdot p_2(3) + p_1(1) \cdot p_2(2) + p_1(2) \cdot p_2(1) + p_1(3) \cdot p_2(0) = \\ &= \left[\frac{1}{3}\right] \cdot \left[\left(\frac{3}{4}\right)^3 \frac{1}{4}\right] + \left[\frac{2}{3} \frac{1}{3}\right] \cdot \left[\left(\frac{3}{4}\right)^2 \frac{1}{4}\right] + \left[\left(\frac{2}{3}\right)^2 \frac{1}{3}\right] \cdot \left[\frac{3}{4} \frac{1}{4}\right] + \left[\left(\frac{2}{3}\right)^3 \frac{1}{3}\right] \cdot \left[\frac{1}{4}\right] \end{aligned}$$

(b1)

$$r(z) = \sum_{(x,y): x+y=z} p(x,y)$$

(b2)

3	$\frac{3}{30}$	0	0	0
2	$\frac{2}{30}$	$\frac{4}{30}$	0	0
1	$\frac{1}{30}$	$\frac{3}{30}$	$\frac{5}{30}$	0
0	0	$\frac{2}{30}$	$\frac{4}{30}$	$\frac{6}{30}$
Y/X	0	1	2	3

$$P(X+Y=3) = \frac{3}{30} + \frac{4}{30} + \frac{5}{30} + \frac{6}{30} = \frac{3}{5} =$$

(c) Lásd jegyzet 2. rész, 5.5.2. pont, Centrális határeloszlás tétel.

2. (a) A Poisson eloszlás paramétere megegyezik a várható értékkel, ezért $\lambda = 7.5$.

$$P(\text{ pontosan két tetű }) = \frac{7.5^2}{2!} e^{-7.5} = 0.16$$

Tehát a leveleknek kb. 16 százalékán van pontosan 2 tetű.

(b)

$$P(\text{ nincs tetű a levélen } | \text{ a levél a fán maradt }) =$$

$$\begin{aligned}
&= P(\text{nincs tetű a levélen} \mid \text{eredetileg legfeljebb 4 tetű volt a levélen}) = \\
&= \frac{P(\text{eredetileg 0 tetű volt})}{P(\text{eredetileg legfeljebb 4 tetű volt})} = \\
&= \frac{\frac{7.5^0}{0!} e^{-7.5}}{\sum_{k=0}^4 \frac{7.5^k}{k!} e^{-7.5}} = \frac{0.0006}{0.1321} = 0.0042
\end{aligned}$$

(c) Hasonlóképpen kapjuk, hogy

$$P(n \text{ tetű van a levélen} \mid \text{a levél a fán maradt}) = \frac{\frac{7.5^n}{n!} e^{-7.5}}{\sum_{k=0}^4 \frac{7.5^k}{k!} e^{-7.5}} \quad (n = 0, 1, 2, 3, 4)$$

A fán maradó leveleken lévő tetvek számának a várható értéke:

$$\sum_{n=0}^4 n \cdot \frac{\frac{7.5^n}{n!} e^{-7.5}}{\sum_{k=0}^4 \frac{7.5^k}{k!} e^{-7.5}} =$$

A közös nevezőt kiemelve a várható értéket így is felírhatjuk:

$$= \frac{\sum_{n=0}^4 n \cdot \frac{7.5^n}{n!} e^{-7.5}}{\sum_{k=0}^4 \frac{7.5^k}{k!} e^{-7.5}}$$

3. (a)

$$\begin{aligned}
&P(\text{legalább 3 cimora háromnegyed egy előtt érkezik}) = \\
&= P(\text{pontosan 3 érkezik háromnegyed egy előtt}) + P(\text{pontosan 3 érkezik háromnegyed egy előtt}) = \\
&= 4 \cdot \left(\frac{3}{4}\right)^3 \frac{1}{4} + \left(\frac{3}{4}\right)^4
\end{aligned}$$

(b) Minden x -re, mely 0 és 1 közé esik, fennáll, hogy

$$F(x) = P(\text{a 3 -iknak érkező cimora } x \text{ óra előtt érkezik}) =$$

$$P(\text{legalább 3 cimora } x \text{ óra előtt érkezik}) =$$

$$\begin{aligned}
&= P(\text{pontosan 3 érkezik } x \text{ óra előtt}) + P(\text{pontosan 3 érkezik } x \text{ óra előtt}) = \\
&= 4 \cdot x^3(1-x) + (x)^4
\end{aligned}$$

(c) Béta eloszlás

(d) A sűrűségfüggvény képlete:

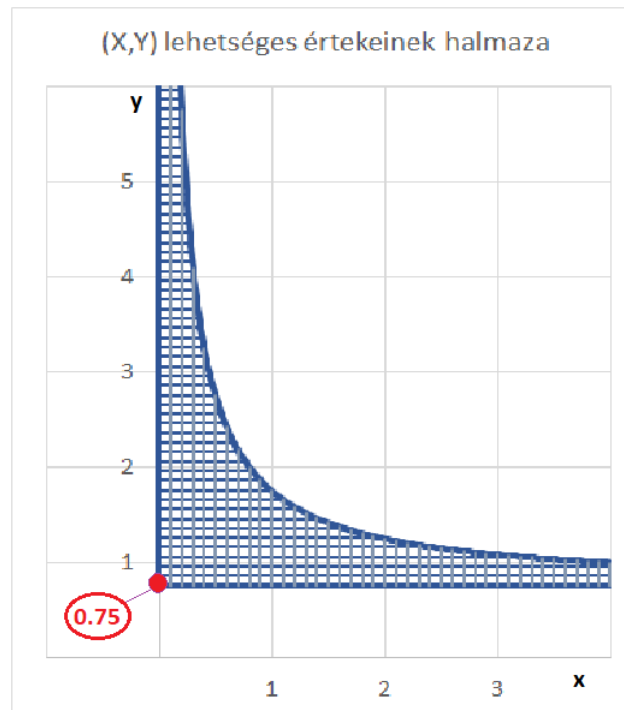
$$f(x) = 12 \cdot x^2 (1-x) \quad (0 < x < 1)$$

4. (a) (X, Y) lehetséges értékeit az alábbi egyenlőtlenségek definiálják:

$$0 < X < \infty, \quad 0.75 < Y < 0.75 + \frac{1}{X}$$

A lehetséges értékek halmaza a végtelenbe nyúlik függőleges és vízszintes irányban is. A halmazt egy-egy félegyenes és egy hiperbola-ág határolja:

- balról az y -tengely,
- alulról az x tengellyel párhuzamos $y = 0.75$ egyenletű egyenes,
- jobbról és felülről az $y = 0.75 + \frac{1}{x}$ egyenletű hiperbola-ág.



5. ábra. (X, Y) lehetséges értékeinek halmaza

(b) X exponenciális eloszlású 0.5 paraméterrel, ezért

$$f_1(x) = 0.5 e^{-0.5x} \quad (x \geq 0)$$

Az $X = x$ feltétel mellett Y egyenletes eloszlású a $[0.75, 0.75 + \frac{1}{x}]$ intervallumon, ezért a feltételes sűrűségfüggvény így fest:

$$f_{2|1}(y|x) = \frac{1}{(0.75 + \frac{1}{x}) - (0.75)} = \frac{1}{(\frac{1}{x})} = x \quad (0.75 \leq y \leq 0.75 + \frac{1}{x})$$

A kért síkbeli sűrűségfüggvényt szorzatként kapjuk:

$$f(x, y) = f_1(x) \cdot f_{2|1}(y|x) = 0.5 e^{-0.5x} \cdot x \quad (x \geq 0, 0.75 \leq y \leq 0.75 + \frac{1}{x})$$

(c) A kért vetület sűrűségfüggvényét a síkbeli sűrűségfüggvényből integrálással kapjuk

$$f_2(y) = \int_{-\infty}^{\infty} f(x, y) dx = \int_0^{\frac{1}{y-0.75}} 0.5 e^{-0.5x} \cdot x dx \quad (y > 0.75)$$

Az integrál felső határa abból adódott, hogy az

$$y = 0.75 + \frac{1}{x} \quad (x > 0)$$

egyenletű hiperbola-ág egyenletét x -re nézve explicit alakban is írtuk fel:

$$x = \frac{1}{y - 0.75} \quad (y > 0.75)$$

Megjegyzés: Az integrál parciális integrálással ki is számolható, de az itt nem volt feladat.

4.15. Félév végi vizsga, 2017-06-19

1. A kutyaharapások száma egy év alatt egy bizonyos országban valószínűségi változó, melynek eloszlásfüggvényét táblázatosan megadjuk:

Kutyaharapások számának eloszlásfüggvénye
(három tizedes pontossággal)

x	$F(x)$	x	$F(x)$	x	$F(x)$	x	$F(x)$	x	$F(x)$
26	0.000	36	0.024	46	0.317	56	0.822	66	0.988
27	0.000	37	0.034	47	0.370	57	0.855	67	0.991
28	0.001	38	0.047	48	0.425	58	0.884	68	0.994
29	0.001	39	0.065	49	0.481	59	0.908	69	0.996
30	0.002	40	0.086	50	0.538	60	0.928	70	0.997
31	0.003	41	0.112	51	0.593	61	0.944	71	0.998
32	0.004	42	0.144	52	0.646	62	0.958	72	0.999
33	0.007	43	0.180	53	0.696	63	0.968	73	0.999
34	0.011	44	0.221	54	0.742	64	0.976	74	0.999
35	0.016	45	0.267	55	0.784	65	0.983	75	1.000

Mennyi a valószínűsége annak, hogy a kutyaharapások száma

- (a) 40 -nel egyenlő?
 (b) 40 -nél több, de 50 -nél kevesebb?
 (c) Hogyan lehetne meghatározni a táblázatból kiindulva a kutyaharapások számának a várható értékét?
 (Nem kell kiszámolni a várható értéket!)
 (d) Hogyan lehetne meghatározni a táblázatból kiindulva a kutyaharapások számának a móduszát?
 (Nem kell kiszámolni a móduszt!)
2. Az egység sugarú kör területén egyenletes szögsebességgel mozgó pont véletlenszerű időpontban tekintett x -koordinátáját jelöljük X -szel. Nyilván $-1 \leq X \leq 1$.
- (a) Mi a valószínűsége annak, hogy $X > 0.5$?
 (b) X eloszlásának mi a neve?
 (c) Vezesse le az eloszlásfüggvény képletét!
 (d) Számolja ki a sűrűségfüggvény képletét!
 (e) Rajzolja le a sűrűségfüggvény grafikonját!
3. A sufniben raktározok 100 egyforma típusú izzót, melyek élettartamai örökifjú tulajdonságúak és egymástól függetlenek. Az élettartam várható értéke 15 óra.
- (a) Írja le képlettel vagy szavakkal, hogy mit jelent az örökifjú tulajdonság!
 (b) Mennyi a valószínűsége annak, hogy a 100 izzó mindegyike 20 óránál kevesebbet él?
 (c) Mennyi a valószínűsége annak, hogy a 100 izzó közül pontosan 14 él 20 óránál kevesebbet?
 (d) Kb. mennyi a valószínűsége annak, hogy a 100 izzó élettartamának az összege 1600 -nál nagyobb?
 (A számolásnál használja az alábbi táblázatot!)

Standard normális eloszlásfüggvény (két tizedes pontossággal)

x	$\Phi(x)$	x	$\Phi(x)$	x	$\Phi(x)$	x	$\Phi(x)$	x	$\Phi(x)$	x	$\Phi(x)$
0.0	0.50	0.5	0.69	1.0	0.84	1.5	0.93	2.0	0.98	2.5	0.99
0.1	0.54	0.6	0.73	1.1	0.86	1.6	0.95	2.1	0.98	2.6	1.00
0.2	0.58	0.7	0.76	1.2	0.88	1.7	0.96	2.2	0.99		
0.3	0.62	0.8	0.79	1.3	0.90	1.8	0.96	2.3	0.99		
0.4	0.66	0.9	0.82	1.4	0.92	1.9	0.97	2.4	0.99		

4. Először választunk egy Y számot 0 és 1 között egyenletes eloszlás szerint. Ha Y értéke már megvan, mondjuk $Y = y$, akkor választunk egy X számot 0 és y között egyenletes eloszlás szerint.
- (a) Adja meg Y sűrűségfüggvényének a képletét!
 - (b) Adja meg X feltételes sűrűségfüggvényének a képletét az $Y = y$ feltétel mellett!
 - (c) Adja meg (X, Y) sűrűségfüggvényének a képletét!
 - (d) Határozza meg X feltétel nélküli sűrűségfüggvényének a képletét!
 - (e) Határozza meg Y feltételes várható értékét az $X = x$ feltétel mellett!

Vetier András – Valószínűségszámítás – 4. rész. Zárthelyi és vizsga feladatok gyűjteménye

4.16. Félév végi vizsga, 2017-06-19. Megoldások és válaszok

1. Jelöljük X -szel a kutyaharapások számát egy év alatt.

(a)

$$P(X = 40) = P(X \leq 40) - P(X \leq 39) = F(40) - F(39) = 0.021$$

(b)

$$P(40 < X < 50) = P(X \leq 49) - P(X \leq 40) = F(49) - F(40) = 0.395$$

(c) és (d)

A sűrűségfüggvény értékeit a táblázatbeli értékek különbségeként kapjuk:

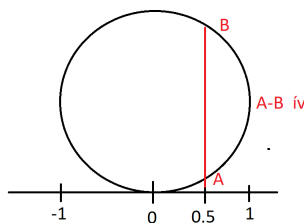
$$p(x) = F(x) - F(x - 1)$$

A várható értéket az x értékek és a $p(x)$ értékek szorzatainak összege adja:

$$E(X) = \sum_x x \cdot p(x)$$

A $p(x)$ értékek táblázatában a maximális $p(x)$ értéknek megfelelő x érték a módusz.

2. (a) Az alábbi ábráról geometriai tudásunk alapján látjuk, hogy az $A - B$ ív hossza osztva a kör kerületének hosszával $1/3$ -dal egyenlő. Ez a kért valószínűség értéke.

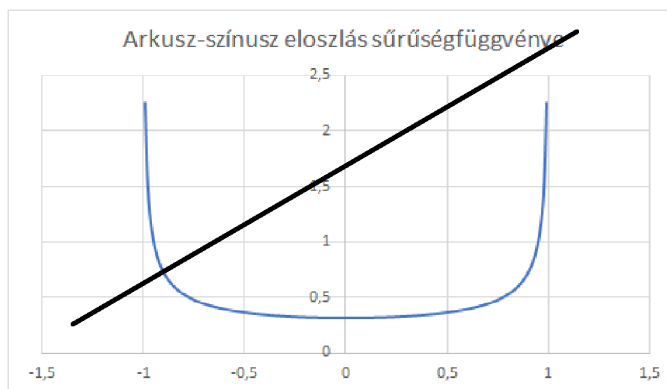


6. ábra. Az $A-B$ ív hossza a kör kerületének egyharmada

(b) Arkusz-színusz eloszlás.

(c) és (d) A levezetés a jegyzet 2. részének 3.3.1 -es pontjában "Arkusz-színusz eloszlás" címmel található.

(e)



7. ábra. Az arkusz-színusz eloszlás sűrűségfüggvénye

3. (a)

$$P(X > s + t | X > t) = P(X > s)$$

(b) Annak a valószínűsége, hogy egy izzó kevesebbet él 20 óránál:

$$F(20) = 1 - e^{-20 \cdot \frac{1}{15}}$$

Annak a valószínűsége, hogy 100 izzó mindegyike kevesebbet él 20 óránál, a függetlenség miatt:

$$(F(20))^{100} = \left(1 - e^{-20 \cdot \frac{1}{15}}\right)^{100}$$

(c) Akérdezett valószínűség, binomiális eloszlást használva:

$$\binom{100}{14} p^{14} (1-p)^{100-14}$$

ahol $p = 1 - e^{-20 \cdot \frac{1}{15}}$.

(d) A centrális határeloszlás miatt az élettartamok Y összege normális eloszlású $\mu = 100 \cdot 15 = 1500$ és $\sigma = \sqrt{100} \cdot 15 = 150$ paraméterekkel, ezért

$$P(Y > 1600) \approx 1 - \Phi\left(\frac{1600 - 1500}{150}\right) = 1 - \Phi\left(\frac{2}{3}\right) \approx 1 - 0.745 = 0.255$$

4. A megoldás a jegyzet 3. részének 6.11. -es pontjában "Egy számolós minta példa" címmel található.

Vetier András – Valószínűségszámítás – 4. rész. Zárthelyi és feladatok gyűjteménye

4.17. Félév végi vizsga, 2017-12-13

1. Meseország Királya megengedte, hogy a Varázs-tóba 7-szer belemerítsem a hálót, és aranyhalakat fogjak. A sok apró aranyhalacska egymással és hálómmal mit sem törődve össze-vissza úszkált a hatalmas tó minden zugában. Én 7-nél jóval többször merítettem be a hálót. Hazafelé menet találkoztam a királlyal. Megkérdezte: "Hányszor volt hálódban pontosan 3 halacska?" "Hatszor" – feleltem az igazságnak megfelelően. Kis gondolkodás után a Király így szólt: "Arra gyanakszom, hogy becsaptál, és kb. 25-ször vagy még ennél is többször merítettél a tóból. Takarodj országból!"

- A hálóban lévő halak száma miért modellezhető Poisson eloszlással valamilyen $\lambda > 0$ paraméter mellett!
- A 3 hal valószínűségét jelöljük p -vel. Adja meg p -t a Poisson eloszlás képlete alapján!
- Az, hogy 7 merítésből hányszor van 3 hal a hálóban, valószínűségi változó. Adja meg az eloszlásának a nevét!
- Írja fel p segítségével annak a valószínűségét, hogy 7 merítésből 6-szor van 3 hal a hálóban!
- Minek alapján gyanakodott a Király arra, hogy becsaptam, és többször merítettem a tóból?
- Miből gondolta, hogy kb. 25-ször vagy még ennél is többször merítettem a tóból?

2. Az (X, Y) kétdimenziós valószínűségi változó eloszlását táblázatosan adjuk meg:

y					
3				0.20	
2			0.15	0.15	
1		0.10	0.10	0.10	
0	0.05	0.05	0.05	0.05	
	0	1	2	3	x

A kért mennyiségeket szépen, gondosan írja fel a megfelelő numerikus összeg alakjában!

- Mennyi Y várható értéke?
 - Mennyi Y szórása?
 - Mennyi Y feltételes várható értéke, feltéve, hogy $X = 0$?
 - Mennyi Y feltételes szórása, feltéve, hogy $X = 0$?
 - Mennyi XY várható értéke?
 - Mennyi XY szórása?
3. Y jelöli egy 0 és 1 között folytonos egyenletes eloszlást követő random szám reciprokának a negyedik hatványát.
- Határozza meg Y eloszlásfüggvényét!
 - Határozza meg Y sűrűségfüggvényét!
 - Mennyi a valószínűsége annak, hogy Y értéke 2 és 3 közé esik?
 - Számolja ki Y várható értékét!
 - Számolja ki Y mediánját!
4. Egy bizonyos országban a férfiak testmagassága normális eloszlást követ 180 cm várható értékkel és 10 cm szórással. A nők esetében a normális eloszlás várható értéke 170 cm, a szórás 5 cm. Egy nagy társaságban az emberek negyede nő, háromnegyede férfi. A társaság tagjai közül válogatunk embereket.
- Mennyi a valószínűsége annak, hogy egy véletlenszerűen választott férfi 175 cm-nél magasabb?
 - Mennyi a valószínűsége annak, hogy egy véletlenszerűen választott ember 175 cm-nél magasabb?
 - Mennyi a valószínűsége annak, hogy egy véletlenszerűen választott ember nő, ha tudjuk, hogy 175 cm-nél magasabb?

- (d) Egy véletlenszerűen választott nő és egy tőle függetlenül választott férfi testmagassága átlagának mennyi a várható értéke?
- (e) Egy véletlenszerűen választott nő és egy tőle függetlenül választott férfi testmagassága átlagának mennyi a szórása?
- (f) Mennyi a valószínűsége annak, hogy egy véletlenszerűen választott nő és egy tőle függetlenül választott férfi testmagasságának az átlaga 175 cm-nél több?

Standard normális eloszlásfüggvény (két tizedes pontossággal)

x	$\Phi(x)$	x	$\Phi(x)$	x	$\Phi(x)$	x	$\Phi(x)$	x	$\Phi(x)$	x	$\Phi(x)$
0,0	0,50	0,5	0,69	1,0	0,84	1,5	0,93	2,0	0,98	2,5	0,99
0,1	0,54	0,6	0,73	1,1	0,86	1,6	0,95	2,1	0,98	2,6	1,00
0,2	0,58	0,7	0,76	1,2	0,88	1,7	0,96	2,2	0,99		
0,3	0,62	0,8	0,79	1,3	0,90	1,8	0,96	2,3	0,99		
0,4	0,66	0,9	0,82	1,4	0,92	1,9	0,97	2,4	0,99		

Vetier András – Valószínűségszámítás – 4. rész. Zárthelyi és vizsga feladatok megoldása

4.18. Félév végi vizsga, 2017-12-13. Megoldások és válaszok

1. A megoldást lásd: tankönyv 1. rész, "Nevezetes eloszlások" c. fejezet, "A csaló vándor és a Bölcs Király" c. alfejez.
2. Először – vízszintes sorok mentén vett összegzéssel – meghatározzuk Y eloszlását:

y	$p_2(y)$
3	0.2
2	0.3
1	0.3
0	0.2

Ezek után a várható érték:

$$E(Y) = 0 \cdot 0.2 + 1 \cdot 0.3 + 2 \cdot 0.3 + 3 \cdot 0.2 = 1.5$$

a második momentum:

$$E(Y^2) = 0^2 \cdot 0.2 + 1^2 \cdot 0.3 + 2^2 \cdot 0.3 + 3^2 \cdot 0.2 = 3.3$$

Ezekből a variancia:

$$\text{VAR}(Y) = E(Y^2) - (E(Y))^2 = 3.3 - (1.5)^2 = 1.05$$

és végül a szórás

$$\text{SD}(Y) = \sqrt{\text{VAR}(Y)} = \sqrt{1.05} = 1.02$$

Az $X = 0$ feltétel mellett Y egyetlen értéket tud felvenni, a 0 -t, ezért a kért feltételes várható érték is és a feltételes szórás is 0 -val egyenlő.

XY várható értéke:

$$\begin{aligned} E(XY) &= (0 \cdot 0) \cdot 0.05 + (1 \cdot 0) \cdot 0.05 + (1 \cdot 1) \cdot 0.10 + \\ &+ (2 \cdot 0) \cdot 0.05 + (2 \cdot 1) \cdot 0.10 + (2 \cdot 2) \cdot 0.15 + (3 \cdot 0) \cdot 0.05 + \\ &+ (3 \cdot 1) \cdot 0.10 + (3 \cdot 2) \cdot 0.15 + (3 \cdot 3) \cdot 0.20 = 3.9 \end{aligned}$$

XY második momentuma:

$$\begin{aligned} E((XY)^2) &= (0 \cdot 0)^2 \cdot 0.05 + (1 \cdot 0)^2 \cdot 0.05 + (1 \cdot 1)^2 \cdot 0.10 + \\ &+ (2 \cdot 0)^2 \cdot 0.05 + (2 \cdot 1)^2 \cdot 0.10 + (2 \cdot 2)^2 \cdot 0.15 + (3 \cdot 0)^2 \cdot 0.05 + \\ &+ (3 \cdot 1)^2 \cdot 0.10 + (3 \cdot 2)^2 \cdot 0.15 + (3 \cdot 3)^2 \cdot 0.20 = 25.4 \end{aligned}$$

Ezekből a variancia:

$$\text{VAR}(XY) = E((XY)^2) - (E(XY))^2 = 25.4 - 3.9^2 = 10.19$$

és végül a szórás:

$$\text{SD}(XY) = \sqrt{\text{VAR}(XY)} = \sqrt{10.19} = 3.19$$

3. Y jelöli egy 0 és 1 között folytonos egyenletes eloszlást követő random szám reciprokának a negyedik hatványát.

(a) Az eloszlásfüggvény:

$$\begin{aligned} G(y) &= P(Y \leq y) = P(\text{RND}^{-4} \leq y) = P(\text{RND} \geq y^{-\frac{1}{4}}) = \\ &= 1 - P(\text{RND} \leq y^{-\frac{1}{4}}) = 1 - y^{-\frac{1}{4}} \quad (y \geq 1) \end{aligned}$$

(b) A sűrűségfüggvény:

$$g(y) = (G(y))' = \left(1 - y^{-\frac{1}{4}}\right)' = \frac{1}{4} \cdot y^{-\frac{5}{4}} \quad (y \geq 1)$$

(c) A kért valószínűség:

$$P(2 < Y < 3) = G(3) - G(2) = \left(1 - 3^{-\frac{1}{4}}\right) - \left(1 - 2^{-\frac{1}{4}}\right) = 2^{-\frac{1}{4}} - 3^{-\frac{1}{4}}$$

(d) A várható érték végtelen, hiszen

$$\int_{-\infty}^{\infty} y \cdot g(y) dy = \int_1^{\infty} y \cdot \frac{1}{4} \cdot y^{-\frac{5}{4}} dy = \int_1^{\infty} \frac{1}{4} \cdot y^{-\frac{1}{4}} dy = \left[\frac{1}{4} \cdot \frac{y^{\frac{3}{4}}}{\frac{3}{4}}\right]_1^{\infty} = \infty$$

(e) A medián az

$$G(y) = 1 - y^{-\frac{1}{4}} = \frac{1}{2}$$

egyenletből adódik:

$$y = 2^4 = 16$$

4. (a) A kért valószínűség:

$$P(\text{egy férfi } 175 \text{ cm-nél magasabb}) = 1 - \Phi\left(\frac{175 - 180}{10}\right) = 1 - \Phi\left(-\frac{1}{2}\right) = \Phi\left(\frac{1}{2}\right) = 0.69$$

(b)

$$P(\text{egy nő } 175 \text{ cm-nél magasabb}) = 1 - \Phi\left(\frac{175 - 170}{5}\right) = 1 - \Phi(1) = 1 - 0.84 = 0.16$$

így a teljes valószínűség formulával a kért valószínűség:

$$P(\text{egy ember } 175 \text{ cm-nél magasabb}) = 0.25 \cdot 0.16 + 0.75 \cdot 0.69 = 0.56$$

(c) A kért feltételes valószínűség:

$$P(\text{az ember nő} \mid \text{az ember } 175 \text{ cm-nél magasabb}) = \frac{P(\text{az ember nő és } 175 \text{ cm-nél magasabb})}{P(\text{az ember } 175 \text{ cm-nél magasabb})} = \frac{0.25 \cdot 0.16}{0.56} = 0.07$$

(d) Az átlag várható értéke:

$$\frac{170 + 180}{2} = 175$$

(e) Az átlag szórása

$$\frac{\sqrt{5^2 + 10^2}}{2} = 5.6$$

(f) A kért valószínűség:

$$P(\text{az átlag } 175 \text{ cm-nél több}) = 1 - \Phi\left(\frac{175 - 175}{5.6}\right) = 1 - \Phi(0) = 1 - 0.5 = 0.5$$

4.19. Félév végi vizsga, 2017-12-18

1. Hamis dobókockával dobunk. A dobott szám eloszlását kétféleképpen is megadjuk (ki-ki használja a neki szimpatikusabbat):

x	1	2	3	4	5	6
$p(x)$	$\frac{6}{20}$	$\frac{2}{20}$	$\frac{1}{20}$	$\frac{2}{20}$	$\frac{3}{20}$	$\frac{6}{20}$

x	1	2	3	4	5	6
$p(x)$	0.30	0.10	0.05	0.10	0.15	0.30

- (a) Szemléltesse az eloszlást (*gondosan elkészített, beskálázott, arányokat megtartó!*) oszlop-diagrammal!
- (b) Most két ilyen kockával dobunk, és a dobott számok összege érdekel minket. Határozza meg az összeg eloszlását, és azt szemléltesse is! (*Világítson rá, hogy az egyes valószínűségeket honnan, hogyan kapja! Szép gondos táblázatot és ábrát kérünk.*)
- (c) Egy újabb ábrával szemléltesse, hogy ha 25 ilyen kockával dobnánk, és a dobott számok összegét figyel-nénk meg, akkor milyen alakú eloszlást kapnánk! (*Az ábrán az eloszlás alakja [növekedés, csökkenés] látszódjon, a további finomságok itt nem kellene.*)
- (d) Ez a (diszkrét) eloszlás melyik folytonos eloszlást közelíti! Mi ennek az eloszlásnak a neve? Szavakkaal írja le, hogy ennek az eloszlásnak paramétereit miből, hogyan kaphatnánk meg! (*A paraméterek numerikus értékeit nem kell kiszámolni.*)
- (e) Ez a feladatsor – melyet az előadáson is bemutattunk és a könyvben is szerepel – egy fontos tétel állításának a szemléltetésére szolgál. Írja le a tétel nevét!
- (f) A tételt mi nem mondtuk ki matematikailag precízen, de a tétel gyakorlati jelentését kétféleképpen is megfogalmaztuk. Írja le valamelyik állítást!
2. Egy légy repked a szobámban. Le akarom csapni. Általában minden csapásom, az előzőektől függetlenül, 0.1 valószínűséggel sikeres, 0.9 valószínűséggel a légy röhög rajtam.
- (a) A légy levadászásához szükséges csapások száma milyen eloszlást követ? Írja le az eloszlás nevét és paramétere(i)nek numerikus értékét!
- (b) Mennyi a valószínűsége annak, hogy az 5 -ik csapás után a légy még röhög, de a 6 -ik csapás után már nem él?
- (c) Mennyi a valószínűsége annak, hogy az 5 -ik csapás után a légy még röhög, de legfeljebb 8 csapással ártalmatlanná teszem?
- (d) Átlagosan hány csapással tudom ártalmatlanná tenni a legyet? Írja fel a kért mennyiséget szumma alakjában is, és – a tanultak alapján – egyetlen számmal is!
- (e) Ha ideges vagyok, akkor ügyességem csökken. Bár az első csapás 0.1 valószínűséggel sikeres, a többi csapás sikerének valószínűsége csak fele akkora, mint az előző csapásé. Mennyi a valószínűsége annak, hogy a második csapás után a légy még nevet, de legfeljebb 5 csapással ártalmatlanná teszem?
- (f) Ha ideges vagyok, akkor átlagosan hány csapással tudom ártalmatlanná tenni a legyet? Írja fel a kért mennyiséget szumma alakjában!
3. Y jelöli egy 0.5 paraméterű exponenciális eloszlást követő X valószínűségi változó négyzetét.
- (a) Határozza meg Y eloszlásfüggvényét!
- (b) Határozza meg Y sűrűségfüggvényét!
- (c) Mennyi a valószínűsége annak, hogy Y értéke 2 és 3 közé esik?
- (d) Írja fel Y várható értékét egy korrekt integrállal! Az integrált nem kell kiszámolni.
- (e) Számolja ki Y mediánját!
- (f) Írja fel Y második momentumát egy korrekt integrállal! Az integrált nem kell kiszámolni.

4. Egy áramkörben a tényleges X feszültség leolvasásakor (a műszer hibája miatt) a leolvasott Y érték csak közelítőleg egyenlő X -szel. Tegyük fel, hogy (X, Y) normális eloszlást követ, továbbá X és Y várható értéke is 230, X szórása 10, Y szórása $\sqrt{125}$, a korrelációs együttható pedig $\sqrt{\frac{4}{5}}$. A tanultak alapján X milyen eloszlású az $Y = y$ feltétel teljesülése esetén?

(a) Írja le az eloszlás nevét!

(b) Adja meg az eloszlás paramétere(i)nek numerikus értékét!

(c) Milyen $x = k(y)$ függvénnyel tippeljünk Y -ből X -re, ha a célunk az, hogy a hiba **négyzetének** a várható értékét minimalizáljuk? Adja meg a keresett függvény képletét! *Indokolja válaszát!*

(d) Milyen $x = k(y)$ függvénnyel tippeljünk Y -ből X -re, ha a célunk az, hogy a hiba **abszolút értékének** a várható értékét minimalizáljuk? Adja meg a keresett függvény képletét! *Indokolja válaszát!*

Vetier András – Valószínűségszámítás – 4. rész: Zárthelyi és vizsga feladatok gyűjtemény

4.20. Félév végi vizsga, 2018-01-08

1. Vadász barátom hétköznapokon (hétfőtől péntekig) a rosszabbik puskáját használja. Ezzel a puskával minden lövése a többitől függetlenül p_1 valószínűséggel teríti le a célba vett nyulat. Hétköznapokon addig lövöldöz a nyulakra, míg sikerül négyet leterítenie.

- Milyen eloszlást követ a négy nyúl leterítéséhez szükséges lövések száma? *Írja le az eloszlás nevét és paramétere(i)nek numerikus értékét!*
- Adja meg az eloszlás súlyfüggvényének a képletét! (Az értelmezési tartományról se feledkezzen el!)
- Vezesse le a súlyfüggvény képletét!
- Mennyi a hétköznap leadott lövések számának a várható értéke? *Adja meg a várható értéket egy korrektil felírt szumma alakjában!*

Hétvégén (szombaton és vasárnap) barátom az ünnepi puskájával lövöldöz. Az ünnepi puskával minden lövése a többitől függetlenül p_2 valószínűséggel teríti le a célba vett nyulat. Ünnepnapokon addig lövöldöz a nyulakra, míg sikerül hatot leterítenie.

- Egy hét 7 napja közül egyenletes eloszlás szerint választunk egyet. Mennyi a valószínűsége annak, hogy ezen a napon pontosan 9 lövés fog eldőrdülni? *Adja meg a kért valószínűséget egy korrekt képlettel!*
- Azt mesélik, hogy egy bizonyos napon, melyről nem tudjuk, hogy a hét melyik napja volt, 9 lövést adott le, hogy teljesítse aznapi feladatát. Mennyi a valószínűsége annak, hogy az a nap hétköznap volt? *Adja meg a kért valószínűséget egy korrekt képlettel!*

2. Az (X, Y) kétdimenziós valószínűségi változó eloszlását táblázatosan adjuk meg (a tizedespont előtti nullákat nem írjuk ki):

y					
3			.05	.15	
2		.05	.10	.15	
1	.05	.05	.10	.10	
0	.05	.05	.05	.05	
	0	1	2	3	x

- Adja meg Y eloszlását táblázatosan!
- Számolja ki Y várható értékét!
- Számolja ki Y feltételes várható értékét, feltéve, hogy $X = 2$!
- Számolja ki Y feltételes szórását, feltéve, hogy $X = 1$!
- Adja meg $X + Y$ eloszlását táblázatosan!
- Adja meg az $XY > 0$ feltétel mellett XY feltételes eloszlását táblázatosan!

3. Egy távoli országban a zöldségesnél az árak – az ottani zöldségesek észjárása miatt – mindig páros számok voltak. Mivel nemrégiben eltörölték a 10 fityingnél kisebb értékű érméket, a fizetendő összeget fel- vagy lekerékítik úgy, hogy a fizetendő összeg 10 -zel osztható legyen. Ezért a bolt a kerekítésből adódóan extra haszonra tesz szert, ami egy-egy vevő esetén $-4, -2, 0, 2$ vagy 4 fitying. Egy-egy vásárlás esetén ezek az értékek egyforma esélyűeknek vehetők.

- Egy-egy vevő esetében mennyi a várható értéke az extra haszonnak? *Számítsa ki!*
- Egy-egy vevő esetében mennyi a szórása az extra haszonnak? *Számítsa ki!*
- 1000 vásárló kapcsán a bolt extra hasznának mennyi a várható értéke? *Számítsa ki!*
- 1000 vásárló kapcsán a bolt extra hasznának mennyi a szórása? *Számítsa ki!*
- Mennyi annak a valószínűsége, hogy 1000 vásárló kapcsán a bolt extra haszna 100 forintnál több? *Írja fel a kért valószínűség közelítő értékét a Φ függvény segítségével!*

- (f) Az extra haszon egész értékű valószínűségi változó, a Φ függvény pedig egy folytonos eloszlás eloszlásfüggvénye. Mégis miért lehet a kért valószínűséget a Φ függvény segítségével közelíteni? *Írja le annak a matematikai tételnek a nevét, és az alkalmazások szempontjából fontos jelentését, amit ugyan egzakt formában nem tanultunk, de pongyola formában kétféleképpen is kimondtunk.*

4. Az

$$f(x, y) = 12 (y - x)^2 \quad (0 < x < y < 1)$$

képlettel megadott függvény egy kétdimenziós folytonos eloszlás sűrűségfüggvényét definiálja.

- (a) Nevezze **nevén** az eloszlást, adja meg a **paraméter(ek)** numerikus értékét, és **szemléltesse** az eloszlást pontfelhővel!
- (b) 0 és 1 között egyenletes eloszlású, független random számokra támaszkodva **definiáljon** olyan X és Y valószínűségi változókat, hogy az (X, Y) kétdimenziós valószínűségi változó a megadott eloszlást kövesse!
- (c) Határozza meg X sűrűségfüggvényének a képletét!
- (d) Mennyi a valószínűsége annak, hogy $X > 0.25$ feltéve, hogy $Y < 0.75$? A kért feltételes valószínűséget akár elemi úton ki is számolhatja, vagy felírhatja korrektil megadott integrálokkal.

Vetier András – Valószínűségszámítás – 4. rész. Zárthelyi és vizsga feladatok gyűjteménye

4.21. Félév végi vizsga, 2018-01-15

1.
 - (a) Adjon példát olyan valószínűségi változóra, ami optimista geometriai eloszlást követ!
 - (b) A mondott példában mennyi az eloszlás paraméterének a numerikus értéke?
 - (c) Vezesse le az optimista geometriai eloszlás súlyfüggvényének a képletét az egyes lépések rövid magyarázatával!
 - (d) Adja meg az optimista geometriai eloszlás várható értékét végtelen sor alakjában!
 - (e) Adja meg a várható értéket egyszerű formula alakjában!
 - (f) Vezesse le a formulát a végtelen sorból!
2. Tegyük fel, hogy
 - hétköznaponként Budapesten 0.4 annak a valószínűsége, hogy nem történik súlyos baleset, és
 - a balesetek száma különböző napokon független egymástól.
 - (a) Mi a valószínűsége annak, hogy hétfőn pontosan 2 súlyos baleset történik? *Adja meg a kért valószínűséget képlettel. Meg kell indokolni a használt eloszlás jogosságát.*
 - (b) Mi a valószínűsége annak, hogy hétfőtől péntekig legfeljebb 3 súlyos baleset történik? *Adja meg a kért valószínűséget képlettel!*
 - (c) Mi a valószínűsége annak, hogy az 5 hétköznap közül pontosan 2-ben történik legalább 1 súlyos baleset? *Adja meg a kért valószínűséget képlettel!*
 - (d) Hány súlyos baleset a legvalószínűbb hétfőn? *Indokolja meg a választát!*
3. Egyik kollégám 8 és 11 között egyenletes eloszlás szerinti X időpontban érkezik a tanszékre. Délután 14 óra és 16 között ugyancsak egyenletes eloszlás szerinti Y időpontban távozik.
 - (a) Adja meg az **eseményteret**, vagyis (X, Y) lehetséges értékeinek a halmazát (a) egyenlőtlenségekkel is és (b) kétdimenziós rajzzal is!
 - (b) Készítsen az eseménytéren **pontfelhőt** (X, Y) -ra!
 - (c) Adja meg (X, Y) **sűrűségfüggvényének** a képletét! *A képlet értelmezési tartományát is tüntettesse fel!*
 - (d) Ábrázolja a sűrűségfüggvényt az eseménytér feletti **felülettel!** *Mindhárom tengelyen jelölje meg a feladat szempontjából fontos értékeket!*
 - (e) Mennyi a **valószínűsége** annak, hogy legalább 5 órát tölt a tanszéken? *Számolja ki pontosan!*
 - (f) **Átlagosan** mennyi időt tölt a tanszéken? *Vagy írja fel korrekt integrállal, vagy bármilyen módon számolja ki a kért várható értéket!*
4. Tegyük fel, hogy egy koncert teremben mind a 300 ember kicsit beteg, ezért két zenei tétel között (nem ám zene közben!) fejenként 1-t, 2-t vagy 3-at köhögnek 1/4-2/4-1/4 esélyekkel. Feltesszük, hogy az egyes emberek köhögéseinek száma egymástól független.
 - (a) Egy ember két tétel közötti köhögései számának mennyi a várható értéke?
 - (b) Egy ember két tétel közötti köhögései számának mennyi a szórása?
 - (c) Mennyi a két tétel közötti összes köhögések számának a várható értéke?
 - (d) Mennyi a két tétel közötti összes köhögések számának a szórása?
 - (e) Adjon meg a lenti táblázat segítségével egy olyan K értéket, melyre igaz az, hogy a két tétel közötti összes köhögések száma (közelítőleg) 0.9 valószínűséggel kisebb K -nál!
 - (f) A két tétel közötti összes köhögések száma diszkrét valószínűségi változó, a Φ függvény pedig egy folytonos eloszlás eloszlásfüggvénye. Mégis miért lehet a kért valószínűséget a Φ függvény segítségével közelíteni? *Írja le annak a matematikai tételnek a nevét, és az alkalmazások szempontjából fontos jelentését, amit ugyan egzakt formában nem tanultunk, de pongyola formában kétféleképpen is kimondtunk.*

4.22. Félév végi vizsga, 2018-01-22

1. Melyik nevezetes eloszlást használjuk az alábbi valószínűségi változók modellezésére?
- Nevezze nevén az eloszlást, és indokolja meg – a tanultak alapján – az eloszlás használatának jogosságát!
- Ha lehet, adja meg az eloszlás paramétere(i)nek numerikus értékét! Ha nem lehet, magyarázza el, milyen adatokra, mérési eredményekre lenne szükség a paraméterek megadásához!

Kiállok az országútra, mert autóstoppal akarok utazni. Tapasztalatból tudjuk, hogy kb. minden hetedik autó áll meg.

- (a) Ahány autó elmegy 10 perc alatt.
(b) Ahány autó megáll 10 perc alatt.
(c) Ahány kocsi megáll az első 15 odaérkező kocsi közül.
(d) Ahányadik az a kocsi, amelyik másodikkal megáll.
(e) Ahány kocsi elmegy, mielőtt a harmadik megáll.
(f) Ahányadik autó elsőnek megáll.
2. Párhuzamos egyeneseket húzunk egy nagy papírra (vagy a földre) egymástól 4 cm távolságra. Egy 4 cm hosszú tűt elég magasról hetykén leejtünk. A tű vagy metszi valamelyik egyenest, vagy egyiket sem metszi. Mi a valószínűsége annak, hogy a tű metszi valamelyik egyenest?
- (a) Definiálja világosan a megoldásában használandó valószínűségi változókat!
(b) Definiálja világosan azt az eseményteret, melyet a megoldásában használ!
(c) Mondja ki világosan, hogy milyen eloszlást használ az eseménytéren! Indokolja meg érvekkel, hogy miért használható ez az eloszlás!
(d) Adjon meg olyan körülményeket, amikor nem lenne jogos ezt az eloszlást használni!
(e) Mondja ki és indokolja meg, hogy az eseménytér melyik részalmsza felel meg a vizsgálandó eseménynek!
(f) Számolja ki a kért valószínűséget!
3. A sarki zöldsegesnél csak készpénzzel lehet fizetni. A fizetendő összeget fel- vagy lekerekítik úgy, hogy a fizetendő összeg 5 -tel osztható legyen. Ebből kifolyólag a zöldseges extra haszonra tesz szert (ami negatív, ha a zöldseges számára előnytelen a kerekítés).

Egy-egy vevő esetében a kerekítésből adódóan a bolt számára adódó extra haszonnak

- (a) mik a lehetséges értékei?
(b) mennyi a várható értéke?
(c) mennyi a szórása?
1000 vásárló kapcsán a bolt számára adódó extra haszonnak
(d) mennyi a várható értéke?
(e) mennyi a szórása?
(f) Közeliítőleg mennyi annak a valószínűsége, hogy 1000 vásárló kapcsán a bolt extra haszna 100 forintnál több?

4. (X, Y) sűrűségfüggvénye: $f(x, y) = 10x^2y$ ($0 < y < x < 1$).

- (a) Készítsen (X, Y) -ra **szép** pontfelhőt! (A pontfelhő attól lesz szép, ha a "művészi eszközök" kifejezik azokat a tényeket, melyeket a sűrűségfüggvény magában hordoz.)

Határozza meg az alábbiakat:

- (b) $f_1(x)$
(c) $E(Y | X = x)$
(d) $F_{2|1}(y | x)$
(e) Y feltételes mediánja az $X = x$ feltétel mellett
(f) $E(X \cdot Y)$

4.23. Félév végi vizsga, 2018-06-04

1. X és Y egész értékű valószínűségi változók. (X, Y) sűrűségfüggvénye $p(x, y)$.
- (a) Írja fel azt az általános képletet, ami az Y valószínűségi változó sűrűségfüggvényének az y helyen vett értékét megadja $p(x, y)$ segítségével!
- (b) Írja fel azt az általános képletet, ami a $Z = X + Y$ valószínűségi változó sűrűségfüggvényének a z helyen vett értékét megadja $p(x, y)$ segítségével!
- (c) Az (X, Y) kétdimenziós valószínűségi változó sűrűségfüggvénye

$$p(x, y) = \frac{x + 2y}{30} \quad (x \geq 0, y \geq 0, x + y \leq 3)$$

Adja meg ez eloszlást táblázattal!

- (d) (Folytatás) Mennyi a valószínűsége annak, hogy $X + Y = 2$?
- (e) Mondja ki azt a (nem precíz, de nagyon fontos) állítást, amit **sok független valószínűségi változó összegével** kapcsolatban tanultunk! (Milyen eloszlást követ sok független valószínűségi változó összege?)
2. Egy tanteremben egy adott pillanatban a legyek száma valószínűségi változó 3.5 átlaggal. Egy adott pillanatban mindegyik légy, a többitől függetlenül, 0.2 valószínűséggel repül.
- (a) Indokolja meg, hogy ez a valószínűségi változó miért modellezhető Poisson eloszlással!
- (b) Feltéve, hogy egy adott pillanatban 5 légy van a szobában, mi a valószínűsége annak, hogy közülük pontosan 2 repked?
- (c) Mi a valószínűsége annak, hogy egy adott pillanatban legfeljebb 2 légy van a szobában?
- (d) Mi a valószínűsége annak, hogy egy adott pillanatban pontosan 2 légy repked a szobában?
- (e) Egy adott pillanatban hány repkedő légy a legvalószínűbb a szobában? Adja meg a legvalószínűbb számot, és indokolja meg választát!
3. Egy 18:00 -kor kezdődő mozi előadásra a 75 néző mindegyike a többitől függetlenül 17:55 és 18:15 között egyenletes eloszlás szerint érkezik.
- (a) Mennyi a valószínűsége annak, hogy mind a 75 néző időben (tehát 18:00 előtt) érkezik?
- (b) Mennyi a valószínűsége annak, hogy a nézők többsége (azaz legalább 38 néző) időben érkezik? Írja fel a kért valószínűséget szumma formájában!
- (c) Írja fel az előző pontban kért valószínűség közelítő értékét a standard normális eloszlás Φ eloszlásfüggvénye segítségével!
- (d) Mennyi a valószínűsége annak, hogy tizenhét óra ötvenhét perc előtt nem érkezik egyetlen néző sem?
- (e) Határozza meg annak az U valószínűségi változónak az eloszlásfüggvényét, ami megmondja, hogy mikor érkezik az utolsó néző?
4. (X, Y) sűrűségfüggvénye $f(x, y) = 3y$ ($0 < 2y < x < 2$).
- (a) Szemléltesse egy gondosan készített ábrán
- a sűrűségfüggvény értelmezési tartományát az (x, y) síkon,
 - és a $z = f(x, y)$ felületet az értelmezési tartomány felett az (x, y, z) térben!
- (b) Rajzoljon egy olyan pontfelhőt az (x, y) síkon, amelyet akkor kapnánk, ha (X, Y) -ra sok kísérletet végeznénk! (Ügyeljen arra, hogy a pontfelhő sűrűsége a megadott sűrűségfüggvénynek megfelelően!)
- (c) Határozza meg X sűrűségfüggvényét!
- (d) Ha sok kísérletet végeznénk kb. mennyi lenne az Y értékek átlaga? (Egy konkrét számot kell – megfelelő számolás eredményeként – megadnia.)
- (e) Hogyan tippeljünk X -ből Y -ra, ha a célunk az, hogy a hiba négyzetének a várható értéke minimális legyen? (Adja meg az optimális tippet megvalósító függvény képletét!)

4.24. Félév végi vizsga, 2018-06-11

- X és Y folytonos valószínűségi változók. (X, Y) sűrűségfüggvénye $f(x, y)$.
 - Írja fel azt az általános képletet, ami az Y valószínűségi változó sűrűségfüggvényének az y helyen vett értékét megadja $f(x, y)$ segítségével!
 - Írja fel azt az általános képletet, ami a $Z = X + Y$ valószínűségi változó sűrűségfüggvényének a z helyen vett értékét megadja $f(x, y)$ segítségével!
 - Az (X, Y) kétdimenziós valószínűségi változó sűrűségfüggvénye

$$f(x, y) = \frac{x + 2y}{c} \quad (x \geq 0, y \geq 0, x + y \leq 10)$$

ahol c egy konstans értéket jelöl. Mennyi a c konstans értéke?

- (*Folytatás*) Szemléltesse az eloszlást festékkel vagy pontfelhővel!
 - Mennyi a valószínűsége annak, hogy $X + Y < 5$?
- Történt egyszer, hogy egy nagy tó partján állodogálva nézegettem, ahogy a sok apró halacska egymással és az öreg, alig-alig látó halással mit sem törődve össze-vissza úszkált. A halász éppen a hálóját készült kiemelni, amikor kedvesen így szólt hozzám: "*Ha eltalálsz, hogy hány hal lesz a hálóban, meghívlak vacsorára.*" Az én célom nyilván az volt, hogy a lehető legnagyobb legyen az esélye annak, hogy a vacsorán részt vehessek. Csak annyit kérdeztem az öreg halásztól, hogy milyen gyakran szokott üres lenni a háló. Ő erre azt felelte: "*Sok éves tapasztalatom szerint mondhatom neked, hogy az eseteknek a 6 % -ában üres a háló.*"
 - Mondja ki azt a tételt, ami a binomiális eloszlás és a Poisson eloszlás kapcsolatáról szól!
 - A halak száma a hálóban miért modellezhető Poisson eloszlással? A fenti mese egyes tényeire támaszkodva indokolja meg a használat jogosságát!
 - A megadott tényekből határozza meg a λ paraméter numerikus értékét?
 - Definiálja a módusz foglamát tetszőleges diszkrét eloszlásra!
 - Mondja ki azt az általános szabályt, ami egy Poisson eloszlás móduszát megadja! Eme szabály alapján tehát hány hal a legvalószínűbb a hálóban?
 - (*Az előző feladat folytatása*) Hogyan gondolkodtam és taktikáztam volna, ha a halász ezt mondta volna: "*Ma még sokszor kiemelem a hálót. Mindig tippelhetsz, hogy hány hal lesz a hálóban. Amikor eltalálsz, neked adom a hálóban lévő összes halat.*" Ilyen helyzetben az én célom természetesen az lett volna, hogy a nyert összes halam száma a lehető legnagyobb legyen.
 - Ha én minden egyes merítésnél 5 halra tippelök, akkor milyen eloszlást követ az egyes merítéseknél nyert halak száma? Adja meg az itt definiált valószínűségi változó lehetséges értékeit és azok valószínűségeit!
 - Ha én minden egyes merítésnél k halra tippelök, akkor milyen eloszlást követ az egyes merítéseknél nyert halak száma? Adja meg az itt definiált valószínűségi változó lehetséges értékeit és azok valószínűségeit!
 - Ha én minden merítésnél k halra tippelök, akkor az egyes merítéseknél nyert halak számának mennyi a várható értéke?
 - Jelöljük ezt a várható értéket μ_k -val. Mutassa meg, hogy $\mu_0 < \mu_1 < \mu_2 < \mu_3$, és $\mu_3 > \mu_4 > \mu_5$!
 - Indokolja meg, hogy az összes merítéssel szerzett halak számának maximalizálásához miért azzal a k értékkel érdemes tippelni, amire a μ_k érték maximális!(*Extra feladat*) Be lehet látni, hogy a μ_k érték $k = 3$ esetén a legnagyobb. Ha a módusz megkeresésére tanult módszer segítségével ezt igazolja *extra 5 pontot* kap.
 - Jelöljük p -vel azt, hogy az országban a felnőtt emberek hányad része szereti a krumplis tésztát. Szeretnénk tudni, hogy mennyi ez a p érték. Ezért n véletlenszerűen választott embert megkérdezzük, hogy szereti-e a krumplis tésztát. Tegyük fel, hogy közülük X felel igennel.
 - Milyen eloszlást követ X ? Adja meg az eloszlás nevét és paramétereit, várható értékét, szórását

- (b) A kísérletből kapott X/n arányt az ismeretlen p arány közelítésének tekintjük. Adja meg az X/n valószínűségi változó lehetséges értékeit!
- (c) Mennyi X/n várható értéke, szórása?
- (d) A tanultak szerint az X/n diszkrét valószínűségi változó eloszlását folytonos eloszlással lehet közelíteni. Melyik ez a folytonos eloszlás? Adja meg az eloszlás nevét és paramétereit! Mondja ki annak a tételnek a nevét, amely alapján ez a közelítés lehetséges!
- (e) Mekkora legyen az n , hogy az X/n érték 0.95 biztonság mellett 0.05 pontossággal közelítse a p arányt?

Vetier András – Valószínűségszámítás – 4. rész: Zárthelyi és vizsga feladatok gyűjteménye

4.25. Félév végi vizsga, 2018-06-18

1. Párhuzamos egyeneseket húzunk a földre egymástól 20 cm távolságra. Egy 20 cm hosszú pálcikát elég magasról hetykén leejtünk. A pálcika vagy metszi valamelyik egyenest, vagy egyiket sem metszi. Szeretnénk tudni, hogy mennyi a valószínűsége annak, hogy a pálcika metszi valamelyik egyenest. Kérdések:

- (a) Definiálja világosan a megoldásában használandó valószínűségi változókat!
- (b) Definiálja világosan azt az eseményteret, melyet a megoldásában használ!
- (c) Mondja ki világosan, hogy milyen eloszlást használ az eseménytéren! Indokolja meg érvekkel, hogy miért használható ez az eloszlás!
- (d) Adjon meg olyan körülményeket, amikor nem lenne jogos ezt az eloszlást használni!
- (e) Számolja ki a kért valószínűséget!

2. Vadász barátom hétköznapokon (hétfőtől péntekig) a rosszabbik puskáját használja. Ezzel a puskával minden lövése a többitől függetlenül 0.2 valószínűséggel teríti le a célba vett nyulat. Hétköznapokon addig lövöldöz a nyulakra, míg sikerül kettőt leterítenie. Hétfévégén (szombaton és vasárnap) az ünnepi puskájával lövöldöz. Az ünnepi puskával minden lövése a többitől függetlenül 0.6 valószínűséggel teríti le a célba vett nyulat. Ünnepeken addig lövöldöz a nyulakra, míg sikerül hármat leterítenie.

- (a) A lövések száma a rosszabbik puskával milyen eloszlást követ? *(Adja meg az eloszlás nevét és paramétereinek numerikus értékét!)*
- (b) Hány lövés a legvalószínűbb a rosszabbik puskával? *(A tanultakra hivatkozva indokolja választát!)*
- (c) A lövések száma az ünnepi puskával milyen eloszlást követ? *(Adja meg az eloszlás nevét és paramétereinek numerikus értékét!)*
- (d) A lövések száma egy véletlenszerűen választott napon (a hét minden napja ugyanolyan esélyű) milyen eloszlást követ? *(Adja meg az eloszlás lehetséges értékeit, és azok valószínűségeit!)*
- (e) Azt mesélik, hogy egy bizonyos napon, melyről nem tudjuk, hogy a hét melyik napja volt, 4 lövést adott le a nyúl vadászaton, hogy teljesítse aznapi feladatát. Mennyi a valószínűsége annak, hogy ez a nap ünnepnap volt?

3. X folytonos, pozitív valószínűségi változó $f(x)$ sűrűségfüggvénnyel, $Y = X^2$.

- (a) Írja fel azt az általános képletet, ami Y sűrűségfüggvényét megadja $f(x)$ segítségével!
- (b) Írja fel Y^2 várható értékét!
- (c) Az X sűrűségfüggvénye

$$f(x) = \frac{x^3}{c} \quad (0 < x < 10)$$

ahol c egy konstans értéket jelöl. Mennyi a c konstans értéke?

- (d) Szemléltesse az eloszlást festékekkel vagy pontfelhővel!
- (e) Mennyi $X + Y$ várható értéke?

4. Véletlenszerűen választunk egy házaspárt, és megmérjük mindkettejük testmagasságát cm-ben: $X =$ férj testmagassága, $Y =$ feleség testmagassága. Tegyük fel, hogy X várható értéke 180, szórása 12, Y várható értéke 170, szórása 8, a korrelációs együttható pedig 0.8. Kétdimenziós normális eloszlást feltételezve válaszoljon az alábbi kérdésekre! *(A kért valószínűségeket a Φ függvény vagy a megfelelő Excel függvény segítségével adja meg!)*

- (a) Mennyi a valószínűsége, hogy a férj 190 cm-nél magasabb?

Ha csak azokat a férjeket tekintjük, akiknek a testmagassága körülbelül 185 cm, akkor

- (b) az ő feleségeik testmagasságának a mennyi várható értéke?
- (c) az ő feleségeik testmagasságának mennyi a szórása?
- (d) Milyen eloszlást követ ezeknek a feleségeknek a testmagassága? *(Adja meg az eloszlás nevét és paramétereinek numerikus értékét!)*
- (e) Ezeknek a feleségeknek kb. hány százaléka magasabb 175 cm-nél?

4.26. Félév végi vizsga, 2018-01-25

- X és Y egész értékű független valószínűségi változók. Súlyfüggvényeik $p_1(x)$, illetve $p_2(y)$.
 - Írja fel (X, Y) súlyfüggvényét $p_1(x)$ és $p_2(y)$ segítségével!
 - Írja fel $Z = X + Y$ súlyfüggvényét $p_1(x)$ és $p_2(y)$ segítségével!
 - Adja meg (X, Y) eloszlását táblázattal, ha $p_1(x) = x/10$ ($1 \leq x \leq 4$), illetve $p_2(y) = y/15$ ($1 \leq y \leq 5$).
 - Mennyi a valószínűsége annak, hogy $X - Y = 2$?
 - Mennyi X , Y , illetve $3X + 2Y$ várható értéke?
- Történt egyszer, hogy egy nagy tó partján állodogálva nézegettem, ahogy a sok apró halacska egymással és az öreg, alig-alig látó halással mit sem törődve össze-vissza úszkált. A halász éppen a hálóját készült kiemelni, amikor kedvesen így szólt hozzám: *"Ha eltalálsz, hogy hány hal lesz a hálóban, meghívlak vacsorára."* Az én célom nyilván az volt, hogy a lehető legnagyobb legyen az esélye annak, hogy a vacsorán részt vehessek. Csak annyit kérdeztem az öreg halásztól, hogy milyen gyakran szokott üres lenni a háló. Ő erre azt felelte: *"Sok éves tapasztalatom szerint mondhatom neked, hogy az eseteknek a 6% -ában üres a háló."*
 - Mondja ki azt a tételt, ami a binomiális eloszlás és a Poisson eloszlás kapcsolatáról szól!
 - A halak száma a hálóban miért modellezhető Poisson eloszlással? A fenti mese egyes tényeire támaszkodva indokolja meg a használat jogosságát!
 - A megadott tényekből határozza meg a λ paraméter numerikus értékét?
 - Definiálja a módusz fogalmát tetszőleges diszkrét eloszlásra!
 - Mondja ki azt az általános szabályt, ami egy Poisson eloszlás móduszát megadja! Eme szabály alapján tehát hány hal a legvalószínűbb a hálóban?
- Párhuzamos egyeneseket húzunk a földre egymástól 10 cm távolságra. Egy 20 cm hosszú pálcikát elég magasról hetykén leejtünk. Szeretnénk tudni, hogy mennyi a valószínűsége annak, hogy a pálcika egyik egyenest sem metszi. Kérdések:
 - Definiálja világosan a megoldásában használandó valószínűségi változókat!
 - Definiálja (rajzolja le) azt az eseményteret, melyet a megoldásában használ, és definiálja (rajzolja le) a kedvező kimenetek halmazát!
 - Mondja ki világosan, hogy milyen eloszlást használ az eseménytéren! Indokolja meg érvekkel, hogy miért használható ez az eloszlás!
 - Adjon meg olyan körülményeket, amikor nem lenne jogos ezt az eloszlást használni!
 - Írja fel korrekt képlettel a kért valószínűséget!
- Nyári napokon délben és éjjelkor megmérjük Kékestetőn a hőmérsékletet (Celsius fokokban): X = déli hőmérséklet, Y = éjjeli hőmérséklet. Tegyük fel, hogy X várható értéke 18, szórása 3, Y várható értéke 7, szórása 2, a korrelációs együttható pedig 0.8. Kétdimenziós normális eloszlást feltételezve válaszoljon az alábbi kérdésekre! (Az első és az utolsó kérdésre a Φ függény vagy a megfelelő Excel függvény segítségével válaszoljon!)
 - Mennyi a valószínűsége, hogy a déli hőmérséklet 21 foknál több?
Ha csak azokat a napokat tekintjük, amikor a déli hőmérséklet körülbelül 18 fok, akkor
 - ezekon a napokon az éjjeli hőmérsékletnek mennyi a várható értéke?
 - ezekon a napokon az éjjeli hőmérsékletnek mennyi a szórása?
 - ezekon a napokon az éjjeli hőmérséklet milyen eloszlást követ? (Adja meg az eloszlás nevét és paramétereinek numerikus értékét!)
 - ezeknek a napoknak kb. hány százalékában magasabb az éjjeli hőmérséklet 7 foknál?

4.27. Félév végi vizsga, 2019-05-27

- Fogadjuk el, hogy egy bizonyos városban naponta átlagosan kb. 1.5 ikerpár születik.
 - E tény alapján a hetente születő ikerpárok számának a várható értékét Ön mennyinek veszi? Magyarázza el, hogy miért?
 - A hetente születő ikerpárok száma milyen eloszlást követ, és miért? Adja meg az eloszlás nevét és paramétereinek numerikus értékét, majd pedig mondja el azokat a érveket, ami ezt a modellt alátámasztja!
 - Mi a valószínűsége annak, hogy egy hét alatt pontosan 1 ikerpár születik?
 - Hány ikerpár születése a legvalószínűbb egy hét alatt? Magyarázza is el, hogy miért!
 - Feltéve, hogy 15 perc alatt születik ikerpár, mi a valószínűsége annak, hogy pontosan 1 ikerpár születik?
- (X, Y) súlyfüggvényének a képlete: $p(x, y) = (2x + y - 3)/42$ ($x = 1, 2, 3, 4$; $y = 1, 2, 3$).
 - Adja meg a súlyfüggvényt táblázattal:

3				
2				
1				
y				
x	1	2	3	4

- Mennyi a valószínűsége annak, hogy $(X - 1) = 0 = 0$, feltéve, hogy $(X - 1) \cdot (Y - 1) = 0$?
 - Táblázattal adja meg Y/X eloszlását!
 - Írja fel (numerikus értéket adó képlettel) $X \cdot Y$ várható értékét?
 - Feltéve, hogy $X = 2$, mennyi Y feltételes várható értéke? Írja fel numerikus értéket adó képlettel!
- Számítógéppel generáltam húsz 0 és 1 között egyenletes eloszlású, független RND_i ($i = 1, 2, \dots, 20$) random számot. Az i -ediket megszoroztam i -vel, így kaptam az X_i valószínűségi változót:

$$X_i = RND_i \cdot i \quad (i = 1, 2, \dots, 20)$$

Ezeket váltakozó előjellel összeadva kaptam az X valószínűségi változót:

$$X = X_1 - X_2 + X_3 - X_4 + X_5 - X_6 + X_7 - X_8 + X_9 - X_{10} + X_{11} - X_{12} + X_{13} - X_{14} + X_{15} - X_{16} + X_{17} - X_{18} + X_{19} - X_{20}$$

- Mennyi X várható értéke? Számolja ki!
 - Mennyi X szórása? Kiszámolni nem kell, elég egy **korrekt** képlettel felírni.
 - Közelítőleg milyen eloszlást követ X ? Adja meg az eloszlás nevét és paramétereinek numerikus értékét!
 - Mennyi az X mediánja?
 - Mennyi a c , ha annak a valószínűsége, hogy X kisebb c -nél, 0.95 -tel egyenlő? Adja meg c értékét a Φ függvény vagy inverze segítségével!
- X és Y független exponenciális eloszlást követő valószínűségi változók. X várható értéke 2, Y várható értéke 3.
 - Írja fel az X valószínűségi változó eloszlásfüggvényének a képletét!

- (b) Írja fel az Y valószínűségi változó jobboldali eloszlásfüggvényének a képletét!
- (c) Írja fel az (X, Y) kétdimenziós valószínűségi változó sűrűségfüggvényének a képletét, és ábrázolja az eloszlást pontfelhővel vagy festékkal, avagy a sűrűségfüggvénynek megfelelő felülettel!
- (d) Legyen $Z = X + Y$! Mennyi a $Z \leq 5$ esemény valószínűsége? *Készítsen ábrát az eseménytérrel és az eseményről, írja fel a valószínűséget korrekt formulával, majd – ha van ideje – számolja ki!*

Vetier András – Valószínűségszámítás – 4. rész: Zárthelyi és vizsga feladatok gyűjteménye

4.28. Félév végi vizsga, 2019-05-27. Megoldások és válaszok

1. (a) Képzeljünk el egy hetet: hétfő, kedd, ..., vasárnap. Tekintsük azokat az

$$X_{\text{hétfő}}, X_{\text{kedd}}, \dots, X_{\text{vasárnap}}$$

valószínűségi változókat, melyek megadják, hogy hány ikerpár születik a kiszemelt hétnek az indexben jelzett napján. Ennek a 7 valószínűségi változóknak az összege nyilván megadja, hogy hány ikerpár születik a kiszemelt héten:

$$X_{\text{a kiszemelt hét}} = X_{\text{hétfő}} + X_{\text{kedd}} + \dots + X_{\text{vasárnap}}$$

A feladat szerint e 7 valószínűségi változó mindegyikének a várható értéke 1.5:

$$E(X_{\text{hétfő}}) = E(X_{\text{kedd}}) = \dots = E(X_{\text{vasárnap}}) = 1.5$$

Ezért az összegük várható értéke:

$$E(X_{\text{a kiszemelt hét}}) = 7 \cdot 1.5 = 10.5$$

(b) A hetente születő ikerpárok száma Poisson eloszlást követ, mert a sok szülés mindegyike a többitől függetlenül kis valószínűséggel lesz ikerszülés. Poisson eloszlás esetén a paraméter egyenlő a várható értékkel, ami most itt 10.5.

(c)

$$P(\text{a kiszemelt hét alatt pontosan 1 ikerpár}) = 10.5 \cdot e^{-10.5} \approx 0.00029$$

(c) Poisson eloszlás esetén a módusz a paraméter lekerekített értékével egyenlő, ami esetünkben 10.

(e) A 15 perc alatt születő ikerpárok száma Poisson eloszlást követ $\frac{1.5}{24 \cdot 4} \approx 0.0156$ paraméterrel. Ezért

$$\begin{aligned} P(15 \text{ perc alatt pontosan egy ikerpár születik} \mid 15 \text{ perc alatt születik ikerpár}) &= \\ &= \frac{P(15 \text{ perc alatt pontosan egy ikerpár születik})}{P(15 \text{ perc alatt születik ikerpár})} = \\ &= \frac{P(15 \text{ perc alatt pontosan egy ikerpár születik})}{1 - P(15 \text{ perc alatt nem születik ikerpár})} = \frac{0.0156 \cdot e^{-0.0156}}{1 - e^{-0.0156}} = \frac{0.0154}{0.0155} \approx 0.99 \end{aligned}$$

2. (a) A súlyfüggvény táblázattal megadva:

3	4/42	5/42	6/42	7/42
2	2/42	3/42	4/42	5/42
1	0/42	1/42	2/42	3/42
y				
x	1	2	3	4

(b)

$$\begin{aligned} P((X-1) = 0 \mid (X-1) \cdot (Y-1) = 0) &= \\ &= \frac{P((X-1) = 0)}{P((X-1) \cdot (Y-1) = 0)} = \frac{P(X = 1)}{P(X = 1 \text{ vagy } Y = 1)} = \frac{(0+2+4)/42}{(0+2+4+1+2+3)/42} = \frac{1}{2} \end{aligned}$$

(c)

1/4	1/3	1/2	2/3	3/4	1	3/2	2	3
3/42	2/42	6/42	4/42	7/42	9/42	5/42	2/42	4/42

(d)

$$\begin{aligned}
 E(X \cdot Y) &= \sum_{x=1}^4 \sum_{y=1}^3 x \cdot y \cdot p(x, y) = \\
 &= 1 \cdot 1 \cdot 0/42 + 1 \cdot 2 \cdot 2/42 + 1 \cdot 3 \cdot 4/42 + \\
 &+ 2 \cdot 1 \cdot 1/42 + 2 \cdot 2 \cdot 3/42 + 2 \cdot 3 \cdot 5/42 + \\
 &+ 3 \cdot 1 \cdot 2/42 + 3 \cdot 2 \cdot 4/42 + 3 \cdot 3 \cdot 6/42 + \\
 &+ 4 \cdot 1 \cdot 3/42 + 4 \cdot 2 \cdot 5/42 + 4 \cdot 3 \cdot 7/42 = \\
 &= 280/42 = 20/3 = 6.66
 \end{aligned}$$

(e)

Y -nak az $X = 2$ feltétel mellett feltételes eloszlásához szükségünk van az alábbi feltételes valószínűségekre:

$$P(Y = 3 | X = 2) = \frac{5/42}{1/42+3/42+5/42} = 5/9$$

$$P(Y = 2 | X = 2) = \frac{3/42}{1/42+3/42+5/42} = 3/9$$

$$P(Y = 1 | X = 2) = \frac{1/42}{1/42+3/42+5/42} = 1/9$$

Tehát a szóbanforgó feltételes eloszlás így fest:

3	5/9
2	3/9
1	1/9

Ebből a kért feltételes várható érték:

$$E(Y | X = 2) = 1 \cdot 1/9 + 2 \cdot 3/9 + 3 \cdot 5/9 = 22/9 = 2.44$$

3. (a)

- Mint ismeretes, egy 0 és 1 között egyenletes eloszlású random szám várható értéke 0.5 ,
- ezért $RND_i \cdot i$ várható értéke $0.5 \cdot i$,

- és így X várható értéke

$$0.5 \cdot (1 - 2 + 3 - 4 + \dots + 17 - 18 + 19 - 20) = 0.5 \cdot (-10) = -5$$

(b)

- Mint ismeretes, egy 0 és 1 között egyenletes eloszlású random szám varianciája $\frac{1}{12}$,
- ezért $\text{RND}_i \cdot i$ varianciája $\frac{1}{12} \cdot i^2$,
- és így X varianciája

$$\frac{1}{12} \cdot (1^2 + 2^2 + 3^2 + 4^2 + \dots + 17^2 + 18^2 + 19^2 + 20^2)$$

A szórás ennek a négyzetgyöke:

$$\sqrt{\frac{1}{12} \cdot (1^2 + 2^2 + 3^2 + 4^2 + \dots + 17^2 + 18^2 + 19^2 + 20^2)}$$

A képlet numerikus értéke is kiszámítható, hiszen – mint ismeretes:

$$1^2 + 2^2 + 3^2 + 4^2 + \dots + 17^2 + 18^2 + 19^2 + 20^2 = \frac{20 \cdot 21 \cdot 41}{6} = 239.17$$

A kért szórás a varianciából gyökvonással adódik:

$$\sqrt{239.17} = 15.46$$

- (c) Normális eloszlást követ $\mu = -5$ és $\sigma = 15.46$ paraméterekkel.
 (d) Normális eloszlás esetén a medián egyenlő a várható értékkel, vagyis a medián -5 .
 (e)

$$c = \mu + \phi^{-1}(0.95) \cdot \sigma = -5 + 1.64 \cdot 15.46 = 20.43$$

4. (a)

Az eloszlásfüggvény:

$$F_1(x) = 1 - e^{-\lambda_1 x} \quad (x > 0)$$

ahol $\lambda_1 = \frac{1}{2}$.

(b)

A jobboldali eloszlásfüggvény:

$$T_2(y) = e^{-\lambda_2 y} \quad (y > 0)$$

ahol $\lambda_2 = \frac{1}{3}$.

(c)

$$f(x, y) = f_1(x) \cdot f_2(y) = \lambda_1 e^{-\lambda_1 x} \cdot \lambda_2 e^{-\lambda_2 y} \quad (x > 0, y > 0)$$

MEG KELL MÉG CSINÁLNI:

és ábrázolja az eloszlást pontfelhővel vagy festéssel, avagy a sűrűségfüggvénynek megfelelő felülettel!

(d)

MEG KELL MÉG CSINÁLNI:

Legyen $Z = X + Y$! Mennyi a $Z \leq 5$ esemény valószínűsége? Készítsen ábrát az eseménytéréről és az eseményről, írja fel a valószínűséget korrekt formulával, majd – ha van ideje – számolja ki!

4.29. Félév végi vizsga, 2019-06-03

1. A veszett rókok emberekre történő támadásainak száma egy év alatt egy bizonyos országban valószínűségi változó, melynek eloszlásfüggvényét táblázatosan megadjuk:

A támadások számának eloszlásfüggvénye
(három tizedes pontossággal)

x	$F(x)$	x	$F(x)$	x	$F(x)$	x	$F(x)$	x	$F(x)$
26	0.000	36	0.024	46	0.317	56	0.822	66	0.988
27	0.000	37	0.034	47	0.370	57	0.855	67	0.991
28	0.001	38	0.047	48	0.425	58	0.884	68	0.994
29	0.001	39	0.065	49	0.481	59	0.908	69	0.996
30	0.002	40	0.086	50	0.538	60	0.928	70	0.997
31	0.003	41	0.112	51	0.593	61	0.944	71	0.998
32	0.004	42	0.144	52	0.646	62	0.958	72	0.999
33	0.007	43	0.180	53	0.696	63	0.968	73	0.999
34	0.011	44	0.221	54	0.742	64	0.976	74	0.999
35	0.016	45	0.267	55	0.784	65	0.983	75	1.000

- Mennyi a valószínűsége annak, hogy a támadások száma
- (a) 45 -tel egyenlő?
 - (b) 40 -nél több, de 50 -nél kevesebb?
 - (c) Hogyan lehetne meghatározni a táblázatból kiindulva a támadások számának a várható értékét?
(Nem kell kiszámolni a várható értéket!)
 - (d) Határozza meg a támadások számának a móduszát?
2. Az egység sugarú kör területén egyenletes szögsebességgel mozgó pont véletlenszerű időpontban tekintett x -koordinátáját jelöljük X -szel. Nyilván $-1 \leq X \leq 1$.
- (a) Mi a valószínűsége annak, hogy $X > -0.5$?
 - (b) X eloszlásának mi a neve?
 - (c) Vezesse le az eloszlásfüggvény képletét!
 - (d) Számolja ki a sűrűségfüggvény képletét!
 - (e) Rajzolja le a sűrűségfüggvény grafikonját!
3. A garázsban raktározók 20 egyforma típusú izzót, melyek élettartamai a használatkor örökifjú tulajdonságúak és egymástól függetlenek. Az élettartam várható értéke 15 óra.
- (a) Írja le képlettel vagy szavakkal, hogy mit jelent az örökifjú tulajdonság!
 - (b) Mennyi a valószínűsége annak, hogy a 20 izzó mindegyike 10 óránál kevesebbet él?
 - (c) Mennyi a valószínűsége annak, hogy a 20 izzó közül pontosan 7 él 10 óránál kevesebbet?
 - (d) Kb. mennyi a valószínűsége annak, hogy a 20 izzó élettartamának az összege 25 -nél nagyobb?
4. Először választunk egy Y számot 0 és 10 között egyenletes eloszlás szerint. Ha Y értéke már megvan, mondjuk $Y = y$, akkor választunk egy X számot 0 és y között egyenletes eloszlás szerint.
- (a) Adja meg Y sűrűségfüggvényének a képletét!
 - (b) Adja meg X feltételes sűrűségfüggvényének a képletét az $Y = y$ feltétel mellett!
 - (c) Adja meg (X, Y) sűrűségfüggvényének a képletét!
 - (d) Határozza meg X feltétel nélküli sűrűségfüggvényének a képletét!
 - (e) Határozza meg Y feltételes sűrűségfüggvényének a képletét az $X = x$ feltétel mellett!

4.30. Félév végi vizsga, 2019-06-17

1. Vadász barátom hétköznapokon (hétfőtől péntekig) a rosszabbik puskáját használja. Ezzel a puskával minden lövése a többitől függetlenül p_1 valószínűséggel teríti le a célba vett nyulat. Hétköznapokon addig lövöldöz a nyulakra, míg sikerül négyet leterítenie.

(a) Milyen eloszlást követ a négy nyúl leterítéséhez szükséges lövések száma? *Írja le az eloszlás nevét és paramétere(i)nek numerikus értékét!*

(b) Adja meg az eloszlás súlyfüggvényének a képletét! (Az értelmezési tartományról se feledkezzen el!)

(c) Vezesse le a súlyfüggvény képletét!

(d) Mennyi a hétköznap leadott lövések számának a várható értéke? *Adja meg a várható értéket egy korrektil felírt szumma alakjában!*

Hétfőn (szombaton és vasárnap) barátom az ünnepi puskájával lövöldöz. Az ünnepi puskával minden lövése a többitől függetlenül p_2 valószínűséggel teríti le a célba vett nyulat. Ünnepnapiokon addig lövöldöz a nyulakra, míg sikerül hatot leterítenie.

(e) Egy hét 7 napja közül egyenletes eloszlás szerint választunk egyet. Mennyi a valószínűsége annak, hogy ezen a napon pontosan 9 lövés fog eldördülni? *Adja meg a kért valószínűséget egy korrekt képlettel!*

(f) Azt mesélik, hogy egy bizonyos napon, melyről nem tudjuk, hogy a hét melyik napja volt, 9 lövést adott le, hogy teljesítse aznapi feladatát. Mennyi a valószínűsége annak, hogy az a nap hétköznap volt? *Adja meg a kért valószínűséget egy korrekt képlettel!*

2. Az (X, Y) kétdimenziós valószínűségi változó eloszlását táblázatosan adjuk meg (a tizedespont előtti nullákat nem írjuk ki):

y					
3			.05	.15	
2		.05	.10	.15	
1	.05	.05	.10	.10	
0	.05	.05	.05	.05	
	0	1	2	3	x

(a) Számolja ki az $XY = 0$ feltétel mellett az $Y = 1$ esemény valószínűségét!

(b) Adja meg X eloszlását táblázatosan!

(c) Számolja ki X várható értékét!

(d) Számolja ki X feltételes várható értékét, feltéve, hogy $Y = 2$!

(e) Számolja ki X feltételes szórását, feltéve, hogy $Y = 1$!

(f) Adja meg $X + Y$ eloszlását táblázatosan!

3. Egy távoli országban a zöldségesnél az árak – az ottani zöldségesek észjárása miatt – mindig páros számok voltak. Mivel nemrégiben eltörölték a 10 fityingnél kisebb értékű érméket, a fizetendő összeget fel- vagy lekerékítik úgy, hogy a fizetendő összeg 10 -zel osztható legyen. Ezért a bolt a kerekítésből adódóan extra haszonra tesz szert, ami egy-egy vevő esetén -4 , -2 , 0 , 2 vagy 4 fitying. Egy-egy vásárlás esetén ezek az értékek egyforma esélyűeknek vehetők.

(a) Egy-egy vevő esetében mennyi a várható értéke az extra haszonnak? *Számítsa ki!*

(b) Egy-egy vevő esetében mennyi a szórása az extra haszonnak? *Számítsa ki!*

(c) 1000 vásárló kapcsán a bolt extra hasznának mennyi a várható értéke? *Számítsa ki!*

(d) 1000 vásárló kapcsán a bolt extra hasznának mennyi a szórása? *Számítsa ki!*

(e) Mennyi annak a valószínűsége, hogy 1000 vásárló kapcsán a bolt extra haszna 100 forintnál több? *Írja fel a kért valószínűség közelítő értékét a Φ függvény segítségével!*

(f) Az extra haszon egész értékű valószínűségi változó, a Φ függvény pedig egy folytonos eloszlás eloszlásfüggvénye. Mégis miért lehet a kért valószínűséget a Φ függvény segítségével közelíteni? *Írja le annak a matematikai tételnek a nevét, és az alkalmazások szempontjából fontos jelentését, amit ugyan egzakt formában nem tanultunk, de pongyola formában kétféleképpen is kimondtunk.*

4. Az

$$f(x, y) = 12 (y - x)^2 \quad (0 < x < y < 1)$$

képlettel megadott függvény egy kétdimenziós folytonos eloszlás sűrűségfüggvényét definiálja.

(a) Nevezze **nevén** az eloszlást, adja meg a **paraméter(ek)** numerikus értékét!

(b) **Szemléltesse** az eloszlást pontfelhővel!

(c) 0 és 1 között egyenletes eloszlású, független random számokra támaszkodva **definiáljon** olyan X és Y valószínűségi változókat, hogy az (X, Y) kétdimenziós valószínűségi változó a megadott eloszlást kövesse!

(d) Határozza meg X sűrűségfüggvényének a képletét!

(e) Mennyi a valószínűsége annak, hogy $X > 0.25$ feltéve, hogy $Y < 0.75$? A kért feltételes valószínűséget akár elemi úton ki is számolhatja, vagy felírhatja korrektül megadott integrálokkal.

Vetier András – Valószínűségszámítás – 4. rész. Zárthelyi és vizsga feladatok – 4. kiadás

4.31. Félév végi vizsga, 2019-06-24

1. (a) Adjon példát olyan valószínűségi változóra, ami pesszimista geometriai eloszlást követ!
(b) A mondott példában mennyi az eloszlás paraméterének a numerikus értéke?
(c) Vezesse le a pesszimista geometriai eloszlás súlyfüggvényének a képletét az egyes lépések rövid magyarázatával!
(d) Adja meg a pesszimista geometriai eloszlás várható értékét végtelen sor alakjában!
(e) Adja meg a várható értéket egyszerű formula alakjában!
(f) Vezesse le a formulát a végtelen sorból!
2. Tegyük fel, hogy
- hétköznaponként Budapesten 0.4 annak a valószínűsége, hogy nem történik súlyos baleset, és
- a balesetek száma különböző napokon független egymástól.

(a) Mi a valószínűsége annak, hogy hétfőn pontosan 2 súlyos baleset történik? *Adja meg a kért valószínűséget képlettel. Meg kell indokolni a használt eloszlás jogosságát.*
(b) Mi a valószínűsége annak, hogy hétfőtől péntekig legfeljebb 3 súlyos baleset történik? *Adja meg a kért valószínűséget képlettel!*
(c) Mi a valószínűsége annak, hogy az 5 hétköznap közül pontosan 2-ben történik pontosan 1 súlyos baleset? *Adja meg a kért valószínűséget képlettel!*
(d) Hány súlyos baleset a legvalószínűbb hétfőn? *Indokolja meg a választ!*
3. Egyik kollégám 8 és 11 között egyenletes eloszlás szerinti X időpontban érkezik a tanszékre. Délután 14 óra és 16 között ugyancsak egyenletes eloszlás szerinti Y időpontban távozik.
(a) Adja meg az **eseményteret**, vagyis (X, Y) lehetséges értékeinek a halmazát (a) egyenlőtlenségekkel is és (b) kétdimenziós rajzzal is!
(b) Készítsen az eseménytéren **pontfelhőt** (X, Y) -ra!
(c) Adja meg (X, Y) **sűrűségfüggvényének** a képletét! *A képlet értelmezési tartományát is tüntetesse fel!*
(d) Ábrázolja a sűrűségfüggvényt az eseménytér feletti **felülettel!** *Mindhárom tengelyen jelölje meg a feladat szempontjából fontos értéket!*
(e) Mennyi a **valószínűsége** annak, hogy legalább 5 órát tölt a tanszéken? *Számolja ki pontosan!*
(f) **Átlagosan** mennyi időt tölt a tanszéken? *Vagy írja fel korrekt integrállal, vagy bármi módon számolja ki a kért várható értéket!*
4. Tegyük fel, hogy egy koncert teremben mind a 300 ember kicsit beteg, ezért két zenei tétel között (nem ám zene közben!) fejenként 1-t, 2-t vagy 3-at köhögnek 1/4-2/4-1/4 esélyekkel. Feltesszük, hogy az egyes emberek köhögéseinek száma egymástól független.
(a) Egy ember két tétel közötti köhögései számának mennyi a várható értéke?
(b) Egy ember két tétel közötti köhögései számának mennyi a szórása?
(c) Mennyi a két tétel közötti összes köhögések számának a várható értéke?
(d) Mennyi a két tétel közötti összes köhögések számának a szórása?
(e) Adjon meg a lenti táblázat segítségével egy olyan K értéket, melyre igaz az, hogy a két tétel közötti összes köhögések száma (közelítőleg) 0.9 valószínűséggel kisebb K -nál!
(f) A két tétel közötti összes köhögések száma diszkrét valószínűségi változó, a Φ függvény pedig egy folytonos eloszlás eloszlásfüggvénye. Mégis miért lehet a kért valószínűséget a Φ függvény segítségével közelíteni? *Írja le annak a matematikai tételnek a nevét, és az alkalmazások szempontjából fontos jelentését, amit ugyan egzakt formában nem tanultunk, de pongyola formában kétféleképpen is kimondtunk.*

4.32. Félév végi vizsga, 2019-12-17

- Az X valószínűségi változó sűrűségfüggvénye $3x^2$ ($0 < x < 1$).
 - Határozza meg X várható értékét!
 - Határozza meg X eloszlásfüggvényét!
 - Határozza meg X mediánját!
 - Milyen c esetén minimális $|X - c|$ várható értéke? (A tanultakra hivatkozva indokoljon szövegesen!)
 - Milyen c esetén minimális $(X - c)^2$ várható értéke? (A tanultakra hivatkozva indokoljon szövegesen!)
 - (3 bónusz pontért)** Generáljon ilyen eloszlást követő valószínűségi változót egy vagy több (0 és 1 között egyenletes eloszlású) véletlen számból!
- X és Y pozitív értékű folytonos valószínűségi változók. (X, Y) sűrűségfüggvénye $4e^{-2x-2y}$ ($x > 0, y > 0$).
 - Szemléltesse az eloszlást festékek vagy pontfelhővel!
 - Számolja ki X sűrűségfüggvényét, aztán nevezze meg X eloszlását! (Adja meg az eloszlás nevét és a paraméterének numerikus értékét!)
 - X és Y függetlenek-e? Adjon egyértelmű IGEN vagy NEM választ, és indokolja választát!
 - Írja fel azt a képletet, ami a $U = X + Y$ valószínűségi változó eloszlásfüggvényének a z helyen vett értékét megadja a kétdimenziós sűrűségfüggvény segítségével!
 - Írja fel azt a képletet, ami az $V = X \cdot Y$ szorzat várható értékét megadja!
- Fogadjuk el, hogy **1.)** az emberek kb. egynegyede szereti a komolyzenét, és **2.)** a komolyzenét kedvelőknek kb. az egyötöde tudja eldúdolni Beethoven Örömdóját, **3.)** viszont a komolyzenét nem kedvelőknek csak kb. az egytizede tudja eldúdolni az Örömdót.
 - Mi a valószínűsége annak, hogy egy véletlenszerűen választott ember nem szereti a komolyzenét, ha nem tudja eldúdolni az Örömdót?
 - Mi a valószínűsége annak, hogy 20 ember közül pontosan 2 szereti a komolyzenét?
 - 1000 ember közül átlagosan hány tudja eldúdolni az Örömdót?
 - Egymás után kérdezgetem az embereket. Legyen $X =$ ahány embert kell megkérdezni ahhoz, hogy akadjon végre egy olyan, aki el tudja dúdolni az Örömdót. Milyen eloszlást követ az X valószínűségi változó? (Adja meg az eloszlás nevét és paraméterének/paramétereinek numerikus értékét!)
 - Legyen $X =$ ahány embert kell megkérdezni ahhoz, hogy akadjon végre három olyan, akik el tudják dúdolni az Örömdót. Milyen eloszlást követ az X valószínűségi változó? (Adja meg az eloszlás nevét és paraméterének/paramétereinek numerikus értékét!)
- Történt egyszer, hogy egy nagy tó partján álldogálva nézegettem, ahogy a sok apró halacska egymással és az öreg, alig-alig látó halással mit sem törődve össze-vissza úszkált. A halász éppen a hálóját készült kiemelni, amikor ezt mondta: "Mondj egy számot! Ha eltalálok a halak számát a hálóban, mindet neked adom." "Oh, előre is köszönöm. A szatyromba fogom betenni a halakat" - válaszoltam. A halász elárulta nekem azt a tényt, hogy "az eseteknek kb. 6 % -ában üres a háló."
 - A halak X száma a halász hálójában (tehát nem a szatyromban) miért modellezhető Poisson eloszlással? A fenti tényekre támaszkodva indokolja meg a Poisson eloszlás jogosságát!
 - A halász által mondott tényből (6%) vezesse le X várható értékét!
 - Ha – mondjuk – én 5 halra tippelök, akkor véletlentől függően 0 vagy 5 hal kerül a szatyromba. Adja meg a szatyromba kerülő halak Y számának az eloszlását táblázattal, majd pedig számolja ki Y várható értékét!
 - Ha én n halra tippelök, akkor mennyi a várható értéke a szatyromba kerülő halak Y számának?
 - Milyen n esetén lesz Y értéke a legnagyobb?

4.33. Félév végi vizsga, 2020-01-06

1. Egy dobozban 10 piros, 15 fehér, és 20 zöld golyó van. Ötször húzunk visszatevés nélkül.
Legyen X = ahányszor pirosat húzunk, és Y = ahányszor zöldet húzunk.
- (a) Adja meg az X valószínűségi változó lehetséges értékeit, és az $P(X = x)$ valószínűséget képlettel!
 - (b) Nevezze nevén az eloszlást, és adja meg a paraméterek numerikus értékeit!
 - (c) Adja meg az (X, Y) kétdimenziós valószínűségi változó lehetséges értékeit!
 - (d) Adja meg az $P(X = x, Y = y)$ valószínűséget képlettel!
 - (e) Nevezze nevén az eloszlást, és adja meg a paraméterek numerikus értékeit!
2. (a) Mondja ki, hogy általában milyen körülmények között miféle valószínűségi változókat modellezhetünk Poisson eloszlással!
- (b) Barátom ellenőr a villamosokon. Számára fontos adat, hogy hány bliccelőt kap el egy nap alatt. Magyarozza el, hogy erre a valószínűségi változóra miért teljesülnek a Poisson eloszlás alkalmazásának feltételei!
 - (c) Annak az esélye, hogy egy nap alatt 3 bliccelőt kap el, hatszor annyi, mint annak a esélye, hogy egy nap alatt 1 bliccelőt kap el. Határozza meg a Poisson eloszlás paraméterének numerikus értékét!
 - (d) Mi a valószínűsége annak, hogy legalább 4 bliccelőt elkap egy nap alatt?
 - (e) Hány bliccelő elkapása a legvalószínűbb egy nap alatt?
3. (a) Mondja ki szavakkal, és valószínűségi formulák segítségével is adja meg, hogy mit jelent az örökifjú tulajdonság!
- (b) Adja meg a jobboldali eloszlásfüggvény általános definícióját, és adja meg az exponenciális eloszlás jobboldali eloszlásfüggvényének a képletét!
 - (c) Mutassa meg, hogy az exponenciális eloszlás eleget tesz az örökifjú tulajdonságnak!
 - (d) Adja meg az exponenciális eloszlás sűrűségfüggvényének a képletét, és a várható érték definíciójának általános képletét a folytonos esetre, és írja fel az exponenciális eloszlás várható értékének a képletét integrál alakban!
 - (e) Számolja ki a felírt integrált, hogy kijöjjön a várható értékre az $\frac{1}{\lambda}$ képlet!
4. Az X_i ($i = 1, 2, \dots$) valószínűségi változók egymástól független izzók élettartamát jelentik években. Az izzók mind örökifjú tulajdonságúak, de – sajnos – egyre rosszabb típusúak, mert $E(X_i) = SD(X_i) = \frac{1}{2^i}$. Az Y_n valószínűségi változó definíciója:

$$Y_n = \sum_{i=1}^n X_i$$

- (a) Mennyi Y_5 várható értéke? *Számolja ki!*
- (b) Mennyi Y_5 varianciája, szórása? *Számolja ki!*
- (c) Közelítőleg milyen eloszlást követ Y_{25} ? *Adja meg a közelítő eloszlás nevét és paramétereinek numerikus értékét!*
- (d) Kb. mennyi a c , ha annak a valószínűsége, hogy Y_{25} kisebb c -nél, 0.9 -cel egyenlő? *Adja meg c közelítő értékét!*
- (e) Írja fel a $P(Y_2 < 1)$ valószínűséget kettős integrállal

$$\int_{?}^{?} \left(\int_{?}^{?} ? \, d? \right) d?$$

formában! A kérdőjelek helyére kell beírni a megfelelő betűket, értékeket, kifejezéseket!

4.34. Félév végi vizsga, 2020-01-13

1. Öt – egyébként egyforma – kocka közül

kettő "zöld", ami azt jelenti, hogy a 6 oldaluk közül 1 fehér és 5 zöld,

három pedig "kék", ami azt jelenti, hogy a 6 oldaluk közül 4 fehér és 2 kék.

(a) Alíz 10-szer feldob egy zöld kockát. X_1 = ahányszor fehér oldal kerül felülre. Mennyi a valószínűsége annak, hogy a $X_1 = 4$?

(b) Béla véletlenszerűen választ egy kockát, és azt 15-ször feldobja. X_2 = ahányszor fehér oldal kerül felülre. Mennyi a valószínűsége annak, hogy a $X_2 = 6$?

(c) Csenge véletlenszerűen választ egy kockát, és azt feldobja. A kockát visszateszi a többi közé, és megint választ egyet, és azt is feldobja. Ezt még megismétli 18-szor, tehát összesen 20-szor dob. X_3 = ahányszor fehér oldal kerül felülre a 20 dobás során. Mennyi a valószínűsége annak, hogy a $X_3 = 8$?

(d) Dani véletlenszerűen választ egy kockát, és azt 15-ször feldobja. Ha a 15 dobás során 9-szer adódik fehér oldal felül, akkor mennyi a valószínűsége annak, hogy a sors "zöld" kockát adott a kezébe?

(e) Az alábbi három kérdés közül kettőre a válasz egy-egy nevezetes eloszlás. Ezeknél a kérdéseknél adja meg az eloszlás nevét és paramétereinek numerikus értékét! Az egyik kérdésre a válasz nem egy tanult nevezetes eloszlás. Melyik ez a kérdés? Ennél a kérdésnél találjon ki egy logikus nevet az eloszlásnak!

Milyen eloszlást követ X_1 ?

Milyen eloszlást követ X_2 ?

Milyen eloszlást követ X_3 ?

2. Tegyük fel, hogy az Alföld közepén februárban a déli hőmérséklet normális eloszlást követ -2 °C várható értékkel és 5 °C szórással. Itt most feltesszük, hogy a más-más napokon mért hőmérsékletek függetlenek. (A valóságban ez nyilván nem igaz.)

(a) Mennyi a valószínűsége annak, hogy a déli hőmérséklet a várható értékétől 5 °C-nál többel eltér?

(b) Mennyi a déli hőmérséklet heti átlagának a várható értéke?

(c) Mennyi a déli hőmérséklet heti átlagának a szórása?

(d) Mennyi a valószínűsége annak, hogy a déli hőmérséklet heti átlaga a várható értékétől 1 °C-nál többel eltér?

(e) A déli hőmérséklet augusztusban is normális eloszlást követ. Tudjuk, hogy 0.18 a valószínűsége annak, hogy a hőmérséklet 30 °C alatt van, és 0.14 a valószínűsége annak, hogy a hőmérséklet 40 °C felett van. Mennyi az augusztusi déli hőmérséklet várható értéke és a szórása? (Segítség: Állítson fel egyenleteket úgy, hogy azokból a várható értéket és a szórást meg lehessen határozni!)

3. RND_1 és RND_2 függetlenek, és a $[0; 1]$ intervallumon egyenletes eloszlást követő véletlen számok.

$X = RND_1$ és $Y = X^2 \cdot RND_2$.

(a) Határozza meg X^2 várható értékét!

(b) Határozza meg Y várható értékét!

(c) Határozza meg Y -nak az $X = x$ feltétel melletti sűrűségfüggvényének képletét 0 és 1 közé eső x -re!

(d) Készítsen ábrát (X, Y) lehetséges értékeinek halmazáról, és határozza meg (X, Y) sűrűségfüggvényének képletét!

(e) Határozza meg Y (feltétel nélküli) sűrűségfüggvényének képletét!

4. Az alábbi eloszlások (pontosabban: eloszlás típusok) mindegyikével kapcsolatban

- írja le, hogy milyen feltételek mellett miféle valószínűségi változókat modellezhetünk ilyen eloszlással, és/vagy adjon frappáns példát ilyen eloszlást követő valószínűségi változóra!
- adja meg a súly- vagy a sűrűségfüggvény általános képletét az értelmezési tartománnyal együtt!

- (a) Pesszimista geometriai eloszlás
- (b) Poisson eloszlás
- (c) Exponenciális eloszlás
- (d) Arkusz-színusz eloszlás
- (e) Normális eloszlás

Vetier András – Valószínűségszámítás – 4. rész: Zárthelyi és vizsga feladatok gyűjteménye

4.35. Félév végi vizsga, 2020-01-20

1. Egy osztályba 10 fiú és 20 lány jár. Testnevelés órán kosárra dobnak, mindenki egyszer. Feltesszük, hogy a 30 diák egymástól függetlenül talál vagy nem talál be a kosárba. Minden fiú 0.3, minden lány 0.4 valószínűséggel talál be.

Az alábbi 4 valószínűséget egy-egy korrekt matematikai képlettel kell megadni.

- (a) Mennyi a valószínűsége annak, hogy **pontosan 5 fiú dob sikerrel?**
- (b) Milyen eloszlást követ a sikeresen dobó fiúk száma? *Adja meg az eloszlás nevét és a paraméterek numerikus értékét!*
- (c) Mennyi a valószínűsége annak, hogy **pontosan 5 fiú és pontosan 5 lány dob sikerrel?**
- (d) Mennyi a valószínűsége annak, hogy **pontosan 5 diák dob sikerrel?**
- (e) A sikeresen dobó diákok számának az eloszlását a sikeresen dobó fiúk számának az eloszlásából és a sikeresen dobó lányok számának az eloszlásából egy (eloszlásokkal kapcsolatos) művelet segítségével kaphatjuk meg. Mi ennek a műveletnek a neve?

2. A rendőrök a hosszú egyenes lejtő aljában nap mint nap 9 és 15 óra között egyenletes eloszlás szerinti X időpontban kezdenek el radarozni. 2 órán át mérnek, aztán elmennek. (Tehát ha például 13 óra 45 perckor kezdenek, akkor 15 óra 45 perckor mennek el.)

Az alábbi valószínűségek kiszámításánál (pl. egyenlőtlenségekkel és / vagy egy-egy ábra segítségével) világosan meg kell adni az eseményteret is, és azon belül – a szóban forgó esemény számára – a kedvező kimenetelek halmazát is.

- (a) Én pontosan 12 órakor ott száguldok el eszemint sebességgel. Mi a valószínűsége, hogy ekkor éppen radaroznak?
- (b) Most tegyük fel, hogy én ott száguldok el eszemint sebességgel 12 és 18 óra között egyenletes eloszlást követő Y időpontban? Azt is feltesszük, hogy X és Y függetlenek. Ábrázolja az (X, Y) kétdimenziós valószínűségi változó eseményterét, és azon belül ábrázolja azt az eseményt, hogy a rendőrök leradaroznak engem!
- (c) (*b*) *folytatása* Mi a valószínűsége, hogy leradaroznak? *Számolja ki a valószínűséget!*
- (d) (*b*) *folytatása* Ábrázolja ismét az (X, Y) kétdimenziós valószínűségi változó eseményterét, és azon belül most azt az eseményt, hogy a rendőrök később kezdenek el radarozni, mint ahogy én elszáguldok!
- (e) (*d*) *folytatása* Mennyi a valószínűsége, hogy a rendőrök később kezdenek el radarozni, mint ahogy én elszáguldok? *Számolja ki a valószínűséget!*

3. Négy jóbarát déli 12 óra és délután 1 óra között egymástól függetlenül (folytonos) egyenletes eloszlás szerint érkeznek a menzára. Legyen X a négy barát közül az első érkezés időpontja, Y az utolsó érkezés időpontja.

- (a) Vezesse le – némi magyarázattal – az Y valószínűségi változó eloszlásfüggvényének képletét!
- (b) Adja meg az (X, Y) valószínűségi változó lehetséges értékeinek halmazát egyenlőtlenségekkel is és rajzban is.
- (c) Vezesse le – némi magyarázattal – az (X, Y) kétdimenziós valószínűségi változó sűrűségfüggvényének képletét!
- (d) Mennyi a valószínűsége annak, hogy aki elsőnek ér oda, az fél egy előtt, aki utolsónak, az fél egy után érkezik? Írja fel a kért valószínűséget kettős integrállal $\int_0^1 \int_0^1 \dots d?$ formában!
- (e) Mennyi a várható értéke az X és Y közötti különbség négyzetének? Írja fel a kért várható értéket kettős integrállal $\int_0^1 \int_0^1 \dots d?$ formában!

4. A műegyetemi diákok hányad része szereti a csípős töpörtyűt? Elvileg megkérdezhetnénk az összes diákot, és a válaszok alapján a kért arányt pontosan ki tudnánk számolni. Ez kissé macerás munka lenne! Az alábbi kérdés-sorozattal az a célunk, hogy meghatározzuk, hogy *hány diákot kell megkérdezni ahhoz, hogy a válaszokból adódó relatív gyakoriság az igazi p arányt 0.05 pontossággal közelítse legalább 0.9 biztonság mellett?*

- (a) n ember megkérdezése esetén milyen eloszlást követ az igennel válaszolók Y száma? *Mi az eloszlás neve, mik a paraméterei, mennyi a várható értéke, mennyi a szórása?*
- (b) Milyen folytonos eloszlással lehet közelíteni az Y/n relatív gyakoriság eloszlását? *Mi az eloszlás neve, mik a paraméterei?*
- (c) A $P\left(\left|\frac{Y}{n} - p\right| \leq 0.05\right)$ valószínűséget (pontosabban: a valószínűség közelítését) írja fel a Φ függvény segítségével!
- (d) A $P\left(\left|\frac{Y}{n} - p\right| \leq \varepsilon\right) \geq 0.9$ egyenlőtlenség Φ -vel felírt alakjából fejezze ki n -t!
- (e) Szabaduljon meg a kifejezésben szereplő p -től, és aztán hozza ki, hogy hány embert kell megkérdezni.

Vetier András – Valószínűségszámítás – 4. rész: Zárthelyi és vizsga feladatok gyűjteménye

4.36. Félév végi vizsga, 2020-01-27

- Az X valószínűségi változó eloszlásfüggvénye $1 - 1/x^3$, ha $x \geq 1$, és nulla, ha $x < 1$.
 - Határozza meg X sűrűségfüggvényét!
 - Határozza meg X várható értékét!
 - Határozza meg X mediánját!
 - Milyen c esetén minimális $|X - c|$ várható értéke? (A tanultakra hivatkozva indokoljon szövegesen!)
 - Milyen c esetén minimális $(X - c)^2$ várható értéke? (A tanultakra hivatkozva indokoljon szövegesen!)
- RND_1 és RND_2 függetlenek, és a $[0; 1]$ intervallumon egyenletes eloszlást követő véletlen számok.
 $X = 3 \cdot RND_1$ és $Y = 2 \cdot RND_2$.
 - Adja meg X sűrűségfüggvényének képletét! (Az értelmezési tartományt is meg kell adni.)
 - Adja meg (X, Y) sűrűségfüggvényének képletét! (Az értelmezési tartományt is meg kell adni.)
 - $U = X^2$ és $V = Y$. Határozza meg (U, V) sűrűségfüggvényének képletét! (Az értelmezési tartományt is meg kell adni.)
 - Szemléltesse (U, V) eloszlását festékekkel!
 - $U + V$ várható értékét írja fel megfelelő integrál(ok) formájában, vagy számolja ki (kihasználva, hogy $U + V = 9 \cdot RND_1^2 + 2 \cdot RND_2$).
- Egy osztályba 15 fiú és 15 lány jár. Testnevelés órán egymás után kosárra dobnak, mindenki egyszer. Az egyik fiú kezd, aztán egy lány dob, aztán megint egy fiú, és így tovább. Feltesszük, hogy a egymástól függetlenül találhatnak vagy nem találhatnak be a kosárba. Minden fiú 0.3 , minden lány 0.4 valószínűséggel talál be.
Az alábbi valószínűségeket egy-egy korrekt matematikai képlettel kell megadni.
 - Mennyi a valószínűsége annak, hogy az első sikeres dobó a 3. lány lesz?
 - Mennyi a valószínűsége annak, hogy az első sikeres dobó lány lesz?
 - Mennyi a valószínűsége annak, hogy az első sikeres dobó a 3. lány, feltéve, hogy az első sikeres dobó lány?
 - A sikeresen dobó fiúk számának mennyi a várható értéke?
 - A sikeresen dobó diákok számának mennyi a szórása?
- Történt egyszer, hogy egy nagy tó partján állodogálva nézegettem, ahogy a sok apró halacska egymással és az öreg, alig-alig látó halással mit sem törődve össze-vissza úszkált. A halász éppen a hálóját készült kiemelni, amikor ezt mondta: "Mondj egy számot! Ha eltalálsz a halak számát a hálóban, mindet neked adom." "Oh, előre is köszönöm. A szatyromba fogom betenni a halakat" - válaszoltam. A halász elárulta nekem azt a tényt, hogy "az eseteknek kb. 6% -ában üres a háló."
 - A halak X száma a halász hálójában (tehát nem a szatyromban) miért modellezhető Poisson eloszlással? A fenti tényekre támaszkodva indokolja meg a Poisson eloszlás jogosságát!
 - A halász által mondott tényből (6%) vezesse le X várható értékét!
 - Ha – mondjuk – én 5 halra tippelve, akkor véletlentől függően 0 vagy 5 hal kerül a szatyromba. Mennyi az 5 hal valószínűsége? A szatyromba kerülő halak számának az eloszlását adja meg táblázattal, majd pedig számolja ki a várható értékét!
 - Mennyi a várható értéke a szatyromba kerülő halak számának, ha én n halra tippelve?
 - Milyen n esetén lesz ez a várható érték a legnagyobb?